

МИНОБРНАУКИ РОССИИ

**Федеральное государственное бюджетное образовательное учреждение
высшего образования «Воронежский государственный университет»**

УТВЕРЖДЕНО

Ученым советом ФГБОУ ВО «ВГУ»

от 30.08.2023 г. протокол № 6

**Основная профессиональная образовательная программа
высшего образования**

01.03.02 Прикладная математика и информатика

Профиль подготовки: Информационные технологии для вычислительных систем

Уровень образования: высшее

Квалификация: бакалавр

Форма обучения: очная

Год начала подготовки: 2023

СОГЛАСОВАНО
Директор ООО «Числа»
Майзель А.Л.



Утверждение изменений в ОПОП для реализации в 20 /20 учебном году

ОПОП пересмотрена, обсуждена и одобрена для реализации в 20 /20 учебном году на заседании ученого совета университета __.__.20__ г. протокол № ____

Заместитель председателя Ученого совета ФГБОУ ВО «ВГУ»

_____ Е.Е. Чупандина

__.__.20 г.

Утверждение изменений в ОПОП для реализации в 20 /20 учебном году

ОПОП пересмотрена, обсуждена и одобрена для реализации в 20 /20 учебном году на заседании ученого совета университета __.__.20__ г. протокол № ____

Заместитель председателя Ученого совета ФГБОУ ВО «ВГУ»

_____ Е.Е. Чупандина

__.__.20 г.

Утверждение изменений в ОПОП для реализации в 20 /20 учебном году

ОПОП пересмотрена, обсуждена и одобрена для реализации в 20 /20 учебном году на заседании ученого совета университета __.__.20__ г. протокол № ____

Заместитель председателя Ученого совета ФГБОУ ВО «ВГУ»

_____ Е.Е. Чупандина

__.__.20 г.

Содержание

1. Общие положения	4
1.1. Нормативные документы	4
1.2. Перечень сокращений, используемых в ОПОП	4
2. Характеристика профессиональной деятельности выпускника	4
2.1. Общее описание профессиональной деятельности выпускников	4
2.2. Перечень профессиональных стандартов	5
3. Общая характеристика основной профессиональной образовательной программы	5
3.1. Профиль образовательной программы	5
3.2. Квалификация, присваиваемая выпускникам образовательной программы	5
3.3. Объем программы	5
3.4. Срок получения образования	5
3.5. Минимальный объем контактной работы по образовательной программе	6
3.6. Язык обучения	6
3.7. Применение электронного обучения и дистанционных образовательных технологий	6
3.8. Рабочая программа воспитания, календарный план воспитательной работы	6
4. Планируемые результаты освоения ОПОП	6
4.1. Универсальные компетенции выпускников и результаты их достижения	6
4.2. Общепрофессиональные компетенции выпускников и индикаторы их достижения	9
4.3. Профессиональные компетенции выпускников, и индикаторы их достижения	10
5. Структура и содержание ОПОП	12
5.1. Структура и объем ОПОП	12
5.2. Календарный учебный график	12
5.3. Учебный план	12
5.4. Рабочие программы дисциплин, практик	12
5.5. Государственная итоговая аттестация	13
6. Условия осуществления образовательной деятельности	12
6.1. Общесистемные требования	13
6.2. Материально-техническое и учебно-методическое обеспечение образовательной программы	14
6.3. Кадровые условия реализации программы	14
6.4. Финансовые условия реализации программы	15
6.5. Оценка качества образовательной деятельности и подготовки обучающихся	15

1. Общие положения

Основная профессиональная образовательная программа (далее – ОПОП) по направлению подготовки 01.03.02 Прикладная математика и информатика представляет собой комплекс основных характеристик образования (объем, содержание, планируемые результаты) и организационно-педагогических условий (материально-техническое, учебно-методическое, кадровое и финансовое обеспечение), который представлен в виде учебного плана, календарного учебного графика, рабочих программ учебных предметов, курсов, дисциплин (модулей), иных компонентов, оценочных и методических материалов, а также рабочей программы воспитания, календарного плана воспитательной работы, форм аттестации.

1.1. Нормативные документы

- Федеральный закон от 29 декабря 2012 г. № 273 – ФЗ «Об образовании в Российской Федерации»;
- Федеральный государственный образовательный стандарт по направлению подготовки 01.03.02 Прикладная математика и информатика высшего образования, утвержденный приказом Минобрнауки России от 10 января 2018 г. № 9 (далее – ФГОС ВО);
- Приказ Минобрнауки России от 05.04.2017 № 301 «Об утверждении Порядка организации и осуществления образовательной деятельности по образовательным программам высшего образования – программам бакалавриата, программам специалитета, программам магистратуры»;
- Приказ Минобрнауки России от 05.08.2020 № 885/390 «О практической подготовке обучающихся», с изменениями на 18.11.2020;
- Устав ФГБОУ ВО «ВГУ».

1.2. Перечень сокращений, используемых в ОПОП

- ФГОС ВО – федеральный государственный образовательный стандарт высшего образования;
- ФУМО – федеральное учебно-методическое объединение;
- УК – универсальные компетенции;
- ОПК – общепрофессиональные компетенции;
- ПК – профессиональные компетенции;
- ПООП – примерная основная образовательная программа;
- ОПОП – основная профессиональная образовательная программа;
- ОТФ – обобщенная трудовая функция;
- ТФ – трудовая функция;
- ТД – трудовое действие;
- ПС – профессиональный стандарт.

2. Характеристика профессиональной деятельности выпускников

2.1. Общее описание профессиональной деятельности выпускников

Области профессиональной деятельности, в которых выпускники, освоившие программу бакалавриата, могут осуществлять профессиональную деятельность:

- 06 Связь, информационные и коммуникационные технологии;
- 40 Сквозные виды профессиональной деятельности в промышленности.

Сферами профессиональной деятельности, в которых выпускники, освоившие программу, могут осуществлять профессиональную деятельность, являются:

- научные исследования;
- проектирование, разработка и тестирование программного обеспечения;
- проектирование, создание и поддержка информационно-коммуникационных систем и баз данных.

Выпускники могут осуществлять профессиональную деятельность и в других областях и (или) сферах профессиональной деятельности при условии соответствия уровня их образования и полученных компетенций требованиям к квалификации работника.

В рамках освоения программы бакалавриата выпускники готовятся к решению задач профессиональной деятельности следующих типов:

- производственно-технологический – основной;
- научно-исследовательский.

Основными объектами профессиональной деятельности выпускников являются:

- изучение новых научных результатов, научной литературы и научно-исследовательских проектов в соответствии с профилем профессиональной деятельности; исследование и разработка моделей, методов, алгоритмов, программ, инструментальных средств по тематике проводимых научно-исследовательских проектов; разработка научно-технических отчётов и пояснительных записок; разработка научных обзоров, составление рефератов и библиографии по тематике проводимых исследований, разработка презентаций; участие в работе научных семинаров, научно-технических конференций; подготовка публикаций в научно-технических журналах;

- изучение отечественного и зарубежного опыта разработки моделей, методов и алгоритмов вычислительной математики и обработки информации различных типов; выбор моделей, методов, алгоритмов, современных технологий и средств визуализации для реализации отдельных компонентов вычислительной системы; планирование и оптимизация вычислительных процессов, сравнение, оценка точности и сходимости численных методов; разработка программного обеспечения компонентов вычислительной системы.

2.2. Перечень профессиональных стандартов

Перечень используемых профессиональных стандартов, соотнесенных с федеральным государственным образовательным стандартом по направлению подготовки/специальности 01.03.02 Прикладная математика и информатика и используемых при формировании ОПОП, приведён в приложении 1.

Перечень обобщённых трудовых функций и трудовых функций, имеющих отношение к профессиональной деятельности выпускника данной образовательной программы, представлен в приложении 2.

3. Общая характеристика основной профессиональной образовательной программы

3.1. Профиль образовательной программы

Профиль образовательной программы в рамках направления подготовки – информационные технологии для вычислительных систем.

3.2. Квалификация, присваиваемая выпускникам образовательной программы

Квалификация, присваиваемая выпускникам образовательной программы: бакалавр.

3.3. Объём программы

Объём программы составляет 240 зачётных единиц, вне зависимости от применяемых образовательных технологий, реализации программы по индивидуальному учебному плану.

Объём программы, реализуемый за один учебный год, составляет 60 з.е. вне зависимости от применяемых образовательных технологий, при реализации программы по индивидуальному учебному плану (за исключением ускоренного обучения) – не более 70 з.е., а при ускоренном обучении – не более 80 з.е.

3.4. Срок получения образования

Срок получения образования составляет 4 года.

3.5. Минимальный объём контактной работы

Минимальный объём контактной работы по образовательной программе составляет 3600 академических часов.

3.6. Язык обучения

Программа реализуется на русском языке.

3.7 Применение электронного обучения и дистанционных образовательных технологий (в соответствии с ФГОС) Реализация программы возможна с применением электронного обучения, дистанционных образовательных технологий в электронной информационнообразовательной среде (ЭИОС) университета и с использованием массовых открытых онлайн курсов (МООК), размещенных на открытых образовательных платформах.

3.8 Рабочая программа воспитания, календарный план воспитательной работы представлены в Приложении 7.

4. Планируемые результаты освоения ОПОП

4.1 Универсальные компетенции выпускников и индикаторы их достижения

В результате освоения программы магистратуры у выпускника должны быть сформированы следующие универсальные компетенции:

Таблица 4.1

Категория компетенций	Код	Формулировка компетенции	Код и формулировка индикаторов достижения компетенции
Системное и критическое мышление	УК-1	Способен осуществлять поиск, критический анализ и синтез информации, применять системный подход для решения поставленных задач	УК-1.1. Анализирует проблемную ситуацию как систему, выявляя ее составляющие и связи между ними. УК-1.2. Используя логико-методологический инструментарий, критически оценивает надежность источников информации, современных концепций философского и социального характера в своей предметной области.
Разработка и реализация проектов	УК-2	Способен определять круг задач в рамках поставленной цели и выбирать оптимальные способы их решения, исходя из действующих правовых норм, имеющихся ресурсов и ограничений	УК-2.1. Формулирует в рамках поставленной цели круг задач, соответствующих требованиям правовых норм. УК-2.2. Проектирует решение конкретной задачи с учетом возможных ограничений действующих правовых норм. УК-2.3. Решает конкретную задачу с учетом требований правовых норм. УК-2.4. Формулирует конкретную, специфичную, измеримую во времени и пространстве цель, а также определяет дорожную карту движения к цели, исходя из имеющихся ресурсов и ограничений. УК-2.5. Составляет иерархическую структуру работ, распределяет по задачам финансовые и трудовые ресурсы. УК-2.6. Оценивает эффективность результатов проекта

Командная работа и лидерство	УК-3	Способен осуществлять социальное взаимодействие и реализовывать свою роль в команде	<p>УК-3.1. Определяет свою роль в команде, опираясь на знания индивидуально психологических особенностей своих и членов команды, а также психологических основ социального взаимодействия в группе.</p> <p>УК-3.2. Выбирает эффективные способы организации социального взаимодействия и распределения ролей в команде.</p> <p>УК-3.3. Эффективно взаимодействует с участниками образовательного процесса, соблюдая психологически обоснованные правила и нормы общения, устанавливает и поддерживает продуктивные взаимоотношения в группе в целях организации конструктивного общения.</p>
Коммуникация	УК-4	Способен осуществлять деловую коммуникацию в устной и письменной формах на государственном языке Российской Федерации и иностранном(ых) языке(ах)	<p>УК-4.1. Выбирает на иностранном языке коммуникативно приемлемые стратегии делового общения.</p> <p>УК-4.2. Использует информационно-коммуникационные технологии при поиске необходимой информации в процессе решения стандартных коммуникативных задач на государственном языке.</p> <p>УК-4.3. Ведёт деловую переписку, учитывая особенности стилистики официальных и неофициальных писем, социокультурные различия в формате корреспонденции на государственном языке.</p> <p>УК-4.4. Демонстрирует интегративные умения использовать диалогическое общение для сотрудничества в академической и деловой коммуникации на государственном языке.</p> <p>УК-4.5. Владеет интегративными коммуникативными умениями в устной и письменной иноязычной речи.</p> <p>УК-4.6. Выбирает на государственном языке коммуникативно приемлемые стратегии делового общения.</p>
Межкультурное взаимодействие	УК-5	Способен воспринимать межкультурное разнообразие общества в социально-историческом, этическом и философском контекстах	<p>УК-5.1. Определяет специфические черты исторического наследия и социокультурные традиции различных социальных групп, опираясь на знание этапов исторического развития России (включая основные события, основных исторических деятелей) в контексте мировой истории и ряда культурных традиций мира (в зависимости от среды и задач образования).</p> <p>УК-5.2. Учитывает при социальном и профессиональном общении историко-культурное наследие и социокультурные традиции различных социальных групп, этносов и конфессий, включая мировые религии, философские и этические учения.</p> <p>УК-5.3. Умеет конструктивно взаимодействовать с людьми с учетом их социокультурных особенностей в целях успешного выполнения профессиональных задач и усиления социальной интеграции.</p> <p>УК-5.4. Ориентируется в основных этапах развития истории и культуры России и ее достижениях, учитывает особенности российской цивилизации при взаимодействии с представителями различных культур, оценивая потенциальные вызовы и риски.</p>
Самоорганизация и саморазвитие (в том числе здоровьесбережение)	УК-6	Способен управлять своим временем, выстраивать и реализовывать траекторию саморазвития на основе принципов образования в течение всей жизни	<p>УК-6.1. Оценивает свои личностные и временные ресурсы на основе самодиагностики.</p> <p>УК-6.2. Планирует траекторию саморазвития, опираясь на навыки управления своим временем и принципы образования в течение всей жизни.</p>

<p>Самоорганизация и саморазвитие (в том числе здоровьесбережение)</p>	<p>УК-7</p>	<p>Способен поддерживать должный уровень физической подготовленности для обеспечения полноценной социальной и профессиональной деятельности</p>	<p>УК-7.1. Выбирает здоровьесберегающие технологии для поддержания здорового образа жизни с учетом физиологических особенностей организма. УК-7.2. Планирует свое рабочее и свободное время для оптимального сочетания физической и умственной нагрузки и обеспечения работоспособности. УК-7.3. Соблюдает и пропагандирует нормы здорового образа жизни в различных жизненных ситуациях и в профессиональной деятельности. УК-7.4 Осуществляет выбор вида спорта или системы физических упражнений для физического самосовершенствования, развития профессионально важных психофизических качеств и способностей в соответствии со своими индивидуальными способностями и будущей профессиональной деятельностью. УК-7.5 Использует методику самоконтроля для определения уровня здоровья и физической подготовленности в соответствии с нормативными требованиями и условиями будущей профессиональной деятельности. УК-7.6 Приобретает личный опыт повышения двигательных и функциональных возможностей организма, обеспечивающий специальную физическую подготовленность в профессиональной деятельности.</p>
<p>Безопасность жизнедеятельности</p>	<p>УК-8</p>	<p>Способен создавать и поддерживать в повседневной жизни и в профессиональной деятельности безопасные условия жизнедеятельности для сохранения природной среды, обеспечения устойчивого развития общества, в том числе при угрозе и возникновении чрезвычайных ситуаций и военных конфликтов</p>	<p>УК-8.1 Идентифицирует и анализирует опасные и вредные факторы элементов среды обитания и в рамках осуществляемой деятельности; знает основные вопросы безопасности жизнедеятельности. УК-8.2 Способен осуществлять действия по предотвращению возникновения чрезвычайных ситуаций природного, техногенного, социального (биолого-социального) происхождения; грамотно действовать в чрезвычайных ситуациях мирного и военного времени, создавать безопасные условия реализации профессиональной деятельности. УК-8.3 Готов принимать участие в оказании первой и экстренной допсихологической помощи при травмах и неотложных состояниях, в том числе в условиях чрезвычайных ситуаций в мирное и военное время. УК-8.4 Способен обеспечить безопасные и/или комфортные условия труда на рабочем месте, в том числе с помощью средств защиты; выявить и устранить проблемы, связанные с нарушениями техники безопасности на рабочем месте. УК-8.5 Применяет положения общевоинских уставов в повседневной деятельности подразделения, управляет строями, применяет штатное стрелковое оружие; ведет общевойсковой бой в составе подразделения; выполняет поставленные задачи в условиях РХБ заражения; пользуется топографическими картами; оказывает первую медицинскую помощь при ранениях и травмах; имеет высокое чувство патриотизма, считает защиту Родины своим долгом и обязанностью.</p>

Экономика и финансовая грамотность	УК-9	Способен принимать обоснованные экономические решения в различных областях жизнедеятельности.	УК-9.1 Понимает базовые принципы функционирования экономики УК-9.2 Понимает основные виды государственной социально-экономической политики и их влияние на индивида УК-9.3 Использует финансовые инструменты для управления личными финансами (личным бюджетом). УК-9.4 Применяет методы личного экономического и финансового планирования для достижения поставленных целей. УК-9.5 Контролирует собственные экономические и финансовые риски
Гражданская позиция	УК-10	Способен формировать нетерпимое отношение к проявлениям экстремизма, терроризма, коррупционному поведению и противодействовать им в профессиональной деятельности.	УК-10.1 Соблюдает антикоррупционные стандарты поведения, выявляет коррупционные риски, противодействует коррупционному поведению в профессиональной деятельности УК-10.2 Поддерживает высокий уровень личной и правовой культуры, выявляет проявления экстремистской идеологии и противодействует им в профессиональной деятельности УК-10.3 Идентифицирует правонарушения террористической направленности, противодействует проявлениям терроризма в профессиональной деятельности

4.2. Общепрофессиональные компетенции выпускников и индикаторы их достижения

В результате освоения программы магистратуры у выпускника должны быть сформированы следующие общепрофессиональные компетенции:

Таблица 4.2

Категория компетенций	Код	Формулировка компетенции	Код и формулировка индикаторов достижения компетенции
Теоретические и практические основы профессиональной деятельности	ОПК-1	Способен применять фундаментальные знания, полученные в области математических и (или) естественных наук, и использовать их в профессиональной деятельности	ОПК-1.1 Демонстрирует знания, относящиеся к базовым дисциплинам математики, информатики и естественных наук. ОПК-1.2 Осуществляет формализацию поставленной задачи и выбирает математические методы для ее решения. ОПК-1.3 Использует современные математические инструментальные средства для решения поставленной задачи, анализирует и интерпретирует результаты.
	ОПК-2	Способен использовать и адаптировать существующие математические методы и системы программирования для разработки и реализации алгоритмов решения прикладных задач	ОПК-2.1 Выделяет основные направления адаптации методов решения прикладной задачи; реализует математические методы и алгоритмы в форме компьютерных программ для проведения вычислительного эксперимента. ОПК-2.2 Сравнивает системы программирования для обоснования выбора программной среды для разработки компонентов программного обеспечения.
	ОПК-3	Способен применять и модифицировать математические модели для решения задач в области профессиональной деятельности	ОПК-3.1 Применяет современные технологии математического моделирования для решения задач в области профессиональной деятельности. ОПК-3.2 На основе требований к решению конкретной прикладной задачи выделяет основные направления модификации математической модели, осуществляет оценку качества модели. ОПК-3.3 Применяет системы компьютерного моделирования для построения и анализа моделей при решении задач в области профессиональной деятельности.

Информационно-коммуникационные технологии для профессиональной деятельности	ОПК-4	Способен понимать принципы работы современных информационных технологий и использовать их для решения задач профессиональной деятельности	ОПК-4.1 Осуществляет поиск, сбор, хранение и обработку информации, выбирает способы представления и распространения информации при решении задач профессиональной деятельности. ОПК-4.2 Осуществляет выбор и применяет информационные технологии для решения задач профессиональной деятельности.
	ОПК-5	Способен разрабатывать алгоритмы и компьютерные программы, пригодные для практического применения	ОПК-5.1 Применяет фундаментальные знания для реализации математических методов и алгоритмов при решении прикладной задачи; осуществляет сравнение точности, сходимости и других характеристик вычислительных алгоритмов. ОПК-5.2 Разрабатывает программное и информационное обеспечение компьютерных сетей, автоматизированных систем, сервисов, операционных систем и баз данных с учетом основных требований информационной безопасности. ОПК-5.3 Использует основные положения и концепции прикладного и системного программирования, современные языки программирования, технологии создания и эксплуатации программ и программных комплексов при решении задач профессиональной деятельности.

4.3. Профессиональные компетенции выпускников и индикаторы их достижения

В результате освоения программы магистратуры у выпускника должны быть сформированы следующие профессиональные компетенции:

Таблица 4.3

Тип задач профессиональной деятельности	Код	Формулировка компетенции	Код и формулировка индикатора достижения компетенции
Научно-исследовательский	ПК-1	Способен проводить работы по обработке и анализу научно-технической информации и результатов исследований.	ПК-1.1. Обеспечивает сбор, обработку, анализ и обобщение результатов экспериментов и исследований в соответствующей области знаний. ПК-1.2. Анализирует научно-техническую информацию, касающуюся передового отечественного и зарубежного опыта решения задач в области профессиональной деятельности.
	ПК-2	Способен подготовить элементы документации, проекты планов и программы проведения отдельных этапов работ.	ПК-2.1. Осуществляет планирование и готовит программы проведения отдельных этапов работ. ПК-2.2 Проводит эксперименты в соответствии с поставленными задачами по отдельным этапам работ.
	ПК-3	Способен осуществить выполнение экспериментов и оформить результаты исследований и разработок.	ПК-3.1. Проводит наблюдения и измерения, составляет их описание и формулирует выводы. ПК-3.2. Применяет при обработке данных стандартное и оригинальное программное обеспечение. ПК-3.3. Составляет отчеты (разделы отчетов) по теме или по результатам проведенных экспериментов.

Тип задач профессиональной деятельности	Код	Формулировка компетенции	Код и формулировка индикатора достижения компетенции
Производственно-технологический	ПК-4	Способен применять методы вычислительной математики, компьютерного моделирования и оптимизации для организации вычислительных процессов	<p>ПК-4.1 Осуществляет формализацию прикладной задачи и выбирает методы вычислительной математики для ее решения.</p> <p>ПК-4.2 Анализирует альтернативные варианты организации (или архитектурных решений) вычислительного процесса на основе методов структурного моделирования.</p> <p>ПК-4.3 Осуществляет планирование различных процессов на основе оптимизационных и имитационных моделей.</p>
	ПК-5	Способен осуществлять анализ и выбор современных технологий реализации отдельных функций вычислительных систем и сервисов информационных технологий, применяемых для их создания.	<p>ПК-5.1 Реализует численные методы решения прикладных задач в профессиональной сфере.</p> <p>ПК-5.2 Применяет современные методы обработки различных типов информации для реализации отдельных функций и сервисов.</p> <p>ПК-5.3 Осуществляет выбор современных технологий и методик выполнения работ по реализации отдельных функций информационных систем.</p>
	ПК-6	Способен разрабатывать прототипы ИС на базе типовой ИС	<p>ПК-6.1 Проводит анализ результатов тестирования</p> <p>ПК-6.2 Осуществляет кодирование на языках программирования в том числе, с использованием методов параллельной и распределенной обработки данных</p> <p>ПК-6.3 Осуществляет принятие решения о пригодности архитектуры.</p>

5. Структура и содержание ОПОП

5.1 Структура и объем ОПОП

ОПОП включает обязательную часть и часть, формируемую участниками образовательных отношений (вариативную). Программа бакалавриата включает следующие блоки:

Таблица 5.1

Структура программы		Объем программы и ее блоков в зачётных единицах
Блок 1	Дисциплины	207
	в т.ч. дисциплины обязательной части	168
Блок 2	Практика	21
	в т.ч. практики обязательной части	12
Блок 3	Государственная итоговая аттестация	12
Объем программы		240

Матрица соответствия компетенций, индикаторов их достижения и элементов ОПОП приведена в приложении 3.

В Блок 2 Практика включены следующие виды практик – учебная и производственная. В рамках ОПОП проводятся следующие практики:

- учебная практика, ознакомительная;
- учебная практика, проектная;
- учебная практика, технологическая;
- производственная практика, проектно-технологическая;
- производственная практика, научно-исследовательская работа.

Формы, способы и порядок проведения практик устанавливаются соответствующим Положением о практической подготовке.

В Блок 3 «Государственная итоговая аттестация» входит выполнение и защита выпускной квалификационной работы.

Объем обязательной части, без учёта объема государственной итоговой аттестации, составляет 75 % общего объема программы бакалавриата, что соответствует п. 2.9 ФГОС ВО.

5.2 Календарный учебный график

Календарный учебный график определяет периоды теоретического обучения, практик, НИР, экзаменационных сессий, государственной итоговой аттестации, каникул и их чередования в течение периода обучения, а также сводные данные по бюджету времени (в неделях). Календарный учебный график представлен в приложении 4.

5.3 Учебный план

Учебный план определяет перечень дисциплин, практик, их объем (в зачётных единицах и академических часах), распределение по семестрам, по видам работ (лекции, практические, лабораторные, самостоятельная работа), наличие курсовых работ, проектов, форм промежуточной аттестации. Учебный план представлен в приложении 5.

5.4 Рабочие программы дисциплин, практик

Рабочие программы размещены в ЭИОС ВГУ. Каждая рабочая программа содержит оценочные материалы для проведения текущей и промежуточной аттестации обучающихся по дисциплине (модулю), практике.

Аннотации рабочих программ дисциплин представлены в Приложении 8, аннотации рабочих программ практик представлены в Приложении 9.

ФОС по образовательной программе, включающий комплекс заданий различного типа, используемых при проведении оценочных процедур по отдельным дисциплинам (модулям), практикам (текущего контроля / промежуточной аттестации / государственной итоговой (итоговой) аттестации), направленный на оценивание достижения обучающимися результатов освоения ОПОП (сформированности компетенций) представлен в Приложении 10.

5.5 Государственная итоговая аттестация

Государственная итоговая аттестация (ГИА) проводится после освоения обучающимся основной профессиональной образовательной программы в полном объеме.

Порядок проведения, формы, содержание, оценочные материалы, критерии оценки и методические материалы, определяющие процедуры оценивания результатов освоения образовательной программы регламентируется:

- Положением о порядке проведения государственной итоговой аттестации по образовательным программам высшего образования – программам бакалавриата, программам специалитета и программам магистратуры Воронежского государственного университета, утвержденным Учёным советом ВГУ;

- программой государственной итоговой аттестации по образовательной программе, утвержденной Учёным советом факультета прикладной математики, информатики и механики. Программа ГИА размещена в ЭИОС ВГУ.

При формировании программы ГИА совместно с работодателями, объединениями работодателей определены наиболее значимые для профессиональной деятельности результаты обучения в качестве необходимых для присвоения установленной квалификации и проверяемые в ходе ГИА.

6. Условия осуществления образовательной деятельности

6.1 Общесистемные требования

Университет располагает материально-технической базой, соответствующей действующим противопожарным правилам и нормам для проведения всех видов аудиторных занятий, практической и научно-исследовательской работ обучающихся, предусмотренных учебным планом.

Каждый обучающийся в течение всего периода обучения обеспечен индивидуальным неограниченным доступом к электронной информационно-образовательной среде (ЭИОС) университета из любой точки, в которой имеется доступ к информационно-телекоммуникационной сети Интернет, как на территории университета, так и вне её.

ЭИОС университета обеспечивает:

- доступ к учебным планам, рабочим программам дисциплин (модулей), практик, электронным учебным изданиям и электронным образовательным ресурсам, указанным в рабочих программах дисциплин (модулей), практик;

- формирование электронного портфолио обучающегося, в том числе сохранение его работ и оценок за эти работы;

- доступ к электронно-библиотечным системам (электронным библиотекам): Электронно-библиотечной системе «Университетская библиотека online (доступ осуществляется по адресу: <https://biblioclub.ru/>); Электронной библиотеке технического ВУЗа «Консультант студента» (доступ осуществляется по адресу: <https://www.studmedlib.ru/>); Электронно-библиотечной системе «Лань» (доступ осуществляется по адресу: <https://e.lanbook.com/>).

Для дисциплин, реализуемых с применением ЭО и ДОТ электронная информационно-образовательная среда Университета дополнительно обеспечивает:

- фиксацию хода образовательного процесса, результатов промежуточной аттестации и результатов освоения программы;

- проведение учебных занятий, процедур оценки результатов обучения, реализация которых предусмотрена с применением электронного обучения, дистанционных образовательных технологий;

- взаимодействие между участниками образовательного процесса, в том числе синхронное и (или) асинхронное взаимодействия посредством сети "Интернет".

6.2 Материально-техническое и учебно-методическое обеспечение программы

6.2.1 Помещения представляют собой учебные аудитории для проведения учебных занятий, предусмотренных данной программой, оснащены оборудованием, техническими средствами обучения, программными продуктами, состав которых определяется в РПД, РПП. Помещения для самостоятельной работы оснащены компьютерной техникой с возможностью подключения к сети Интернет и обеспечением доступа в электронную информационно-образовательную среду Университета.

6.2.2 Университет обеспечен необходимым комплектом лицензионного и свободно распространяемого программного обеспечения, в том числе отечественного производства (состав определяется в рабочих программах дисциплин (модулей) и подлежит обновлению при необходимости).

6.2.3 Используемые в образовательном процессе печатные издания представлены в библиотечном фонде Университета из расчета не менее 0,25 экземпляра каждого из изданий, указанных в рабочих программах дисциплин (модулей), практик, на одного обучающегося из числа лиц, одновременно осваивающих соответствующую дисциплину (модуль), проходящих соответствующую практику.

6.2.4 Обучающимся обеспечен доступ (удаленный доступ), в том числе в случае применения электронного обучения, дистанционных образовательных технологий, к современным профессиональным базам данных и информационным справочным системам, состав которых определяется в рабочих программах дисциплин (модулей) и подлежит обновлению (при необходимости). Перечень материально-технического оборудования и программного обеспечения, представлен в Приложении 6.

6.3 Кадровые условия реализации программы

Реализация программы обеспечивается педагогическими работниками университета, а также лицами, привлекаемыми к реализации программы на иных условиях.

Квалификация педагогических работников Университета отвечает квалификационным требованиям, указанным в квалификационных справочниках, и (или) профессиональных стандартах (при наличии).

87 % численности педагогических работников Университета, участвующих в реализации программы, и лиц, привлекаемых к реализации программы бакалавриата на иных условиях (исходя из количества замещаемых ставок, приведенного к целочисленным значениям), ведут научную, учебно-методическую и (или) практическую работу, соответствующую профилю преподаваемой дисциплины, что соответствует п. 4.4.3 ФГОС ВО.

12 % численности педагогических работников Университета, участвующих в реализации программы бакалавриата, и лиц, привлекаемых к реализации программы бакалавриата на иных условиях (исходя из количества замещаемых ставок, приведенного к целочисленным значениям), являются руководителями и (или) работниками иных организаций, осуществляющими трудовую деятельность в профессиональной сфере, соответствующей профессиональной деятельности, к которой готовятся выпускники (имеют стаж работы в данной профессиональной сфере не менее 3 лет), что соответствует п. 4.4.4 ФГОС ВО.

72 % численности педагогических работников Университета и лиц, привлекаемых к образовательной деятельности Университета на иных условиях (исходя из количества замещаемых ставок, приведенного к целочисленным значениям), имеют ученую степень и (или) ученое звание, что соответствует п. 4.4.5 ФГОС ВО.

6.4 Финансовые условия реализации программы

Финансовое обеспечение реализации программы осуществляется в объеме не ниже значений базовых нормативов затрат на оказание государственных услуг по реализации образовательных программ высшего образования – программ бакалавриата /специалитета/ магистратуры и значений корректирующих коэффициентов к базовым нормативам затрат, определяемых Министерством образования и науки Российской Федерации.

6.5. Оценка качества образовательной деятельности и подготовки обучающихся

Качество образовательной деятельности и подготовки обучающихся по программе определяется в рамках системы внутренней оценки, а также внешней оценки качества образования.

В целях совершенствования программы при проведении регулярной внутренней оценки качества образовательной деятельности и подготовки обучающихся по программе привлекаются работодатели и (или) их объединения, иные юридические и (или) физические лица, включая педагогических работников Университета.

Внутренняя оценка качества образовательной деятельности проводится в рамках текущей, промежуточной и государственной итоговой аттестаций.

В рамках внутренней системы оценки качества образовательной деятельности по программе обучающимся предоставляется возможность оценивания условий, содержания и качества образовательного процесса в целом и отдельных дисциплин и практик.

Система внутренней оценки качества образования реализуется в соответствии с планом независимой оценки качества, утверждённым Учёным советом факультета прикладной математики, информатики и механики.

Внешняя оценка качества образовательной деятельности по программе проводится в рамках процедуры государственной аккредитации с целью подтверждения соответствия образовательной деятельности по программе требованиям ФГОС ВО.

Нормативно-методические документы и материалы, регламентирующие и обеспечивающие качество подготовки обучающихся:

- Положение о текущей аттестации обучающихся по программам высшего образования Воронежского государственного университета, утверждённое Учёным советом ВГУ;

- Положение о проведении промежуточной аттестации обучающихся по образовательным программам высшего образования, утверждённое Учёным советом ВГУ;

- Положение о порядке проведения государственной итоговой аттестации по образовательным программам высшего образования – программам бакалавриата, программам специалитета и программам магистратуры Воронежского государственного университета, утверждённое Учёным советом ВГУ;

- Положение о независимой оценке качества образования в Воронежском государственном университете.

Разработчики ОПОП:

Декан факультета



С.Н. Медведев

Руководитель (куратор) программы,
доцент кафедры ВМиПИТ



Т.М. Педенева

Программа рекомендована Учёным советом факультета прикладной математики, информатики и механики от 26.05.2023 года, протокол № 9.

**Перечень профессиональных стандартов,
соотнесенных с федеральным государственным образовательным стандартом
направления 01.03.02 Прикладная математика и информатика,
используемых при разработке образовательной программы
«Информационные технологии для вычислительных систем»**

№ п/п	Код профессионального стандарта	Наименование профессионального стандарта
06 Связь, информационные и коммуникационные технологии		
1.	40.011	Профессиональный стандарт «Специалист по научно-исследовательским и опытно-конструкторским разработкам», утверждённый приказом Министерства труда и социальной защиты Российской Федерации от 4 марта 2014 г. № 121н (зарегистрирован Министерством юстиции Российской Федерации 21 марта 2014 г., регистрационный № 31692)
2.	06.015	Профессиональный стандарт «Специалист по информационным системам», утверждённый приказом Министерства труда и социальной защиты Российской Федерации от 18 ноября 2014 г. № 896н (зарегистрирован Министерством юстиции Российской Федерации 24 декабря 2014 г., регистрационный № 35361)

**Перечень обобщённых трудовых функций и трудовых функций,
имеющих отношение к профессиональной деятельности выпускника образовательной программы
«Информационные технологии для вычислительных систем»
уровня бакалавриат по направлению подготовки 01.03.02 Прикладная математика и информатика**

Код и наименование профессионального стандарта	Обобщённые трудовые функции			Трудовые функции	
	Код	Наименование	Уровень квалификации	Наименование	Код
40.011 Специалист по научно-исследовательским и опытно-конструкторским разработкам	А	Проведение научно-исследовательских и опытно-конструкторских разработок по отдельным разделам темы	5	Осуществление проведения работ по обработке и анализу научно-технической информации и результатов исследований	A/01.5
				Осуществление выполнения экспериментов и оформления результатов исследований и разработок	A/02.5
06.015 Специалист по информационным системам	В	Выполнение работ по созданию и сопровождению ИС и их модулей	5	Разработка прототипов ИС на базе типовой ИС	B/09.5
				Кодирование на языках программирования	B/10.5

Матрица соответствия компетенций, индикаторов их достижения и элементов ОПОП

Индекс	Наименование	Формируемые компетенции
Б1	Дисциплины (модули)	УК-1.1; УК-1.2; УК-2.1; УК-2.2; УК-2.3; УК-2.4; УК-2.5; УК-2.6; УК-3.1; УК-3.2; УК-3.3; УК-4.1; УК-4.2; УК-4.3; УК-4.4; УК-4.5; УК-4.6; УК-5.1; УК-5.2; УК-5.3; УК-5.4; УК-6.1; УК-6.2; УК-7.1; УК-7.2; УК-7.3; УК-7.4; УК-7.5; УК-7.6; УК-8.1; УК-8.2; УК-8.3; УК-8.4; УК-8.5; УК-9.1; УК-9.2; УК-9.3; УК-9.4; УК-9.5; УК-10.1; УК-10.2; УК-10.3; ОПК-1.1; ОПК-1.2; ОПК-1.3; ОПК-2.1; ОПК-2.2; ОПК-3.1; ОПК-3.2; ОПК-3.3; ОПК-4.1; ОПК-4.2; ОПК-5.1; ОПК-5.2; ОПК-5.3; ПК-1.1; ПК-1.2; ПК-2.1; ПК-2.2; ПК-3.1; ПК-3.2; ПК-3.3; ПК-4.1; ПК-4.2; ПК-4.3; ПК-5.1; ПК-5.2; ПК-5.3; ПК-6.1; ПК-6.2; ПК-6.3
Б1.О	Обязательная часть	УК-1.1; УК-1.2; УК-2.1; УК-2.2; УК-2.3; УК-2.4; УК-2.5; УК-2.6; УК-3.1; УК-3.2; УК-3.3; УК-4.1; УК-4.2; УК-4.3; УК-4.4; УК-4.5; УК-4.6; УК-5.1; УК-5.2; УК-5.3; УК-5.4; УК-6.1; УК-6.2; УК-7.1; УК-7.2; УК-7.3; УК-8.1; УК-8.2; УК-8.3; УК-8.4; УК-8.5; УК-9.1; УК-9.2; УК-9.3; УК-9.4; УК-9.5; УК-10.1; УК-10.2; УК-10.3; ОПК-1.1; ОПК-1.2; ОПК-1.3; ОПК-2.1; ОПК-2.2; ОПК-3.1; ОПК-3.2; ОПК-3.3; ОПК-4.1; ОПК-4.2; ОПК-5.1; ОПК-5.2; ОПК-5.3; ПК-2.1
Б1.О.01	Философия	УК-1.1; УК-1.2; УК-5.2
Б1.О.02	История России	УК-5.1; УК-5.3
Б1.О.03	Иностранный язык	УК-4.1; УК-4.5
Б1.О.04	Безопасность жизнедеятельности	УК-8.1; УК-8.2; УК-8.3; УК-8.4
Б1.О.05	Физическая культура и спорт	УК-7.1; УК-7.2; УК-7.3
Б1.О.06	Деловое общение и культура речи	УК-4.2; УК-4.3; УК-4.4; УК-4.6
Б1.О.07	Основы военной подготовки	УК-8.5
Б1.О.08	Основы права и противодействие противоправному поведению	УК-2.1; УК-2.2; УК-2.3; УК-10.1; УК-10.2; УК-10.3
Б1.О.09	Основы проектного менеджмента	УК-2.4; УК-2.5; УК-2.6
Б1.О.10	Психология личности и её саморазвития	УК-3.1; УК-3.2; УК-6.1; УК-6.2
Б1.О.11	Математический анализ	ОПК-1.1; ОПК-1.2; ОПК-1.3
Б1.О.12	Алгебра	ОПК-1.1; ОПК-1.3
Б1.О.13	Аналитическая геометрия и основы линейной алгебры	ОПК-1.1; ОПК-1.2
Б1.О.14	Дискретная математика	ОПК-1.1; ОПК-1.3
Б1.О.15	Теория вероятностей	ОПК-1.1; ОПК-3.1
Б1.О.16	Математическая статистика	ОПК-1.2; ОПК-1.3
Б1.О.17	Комплексный анализ	ОПК-1.1; ОПК-1.2
Б1.О.18	Функциональный анализ	ОПК-1.1; ОПК-3.1
Б1.О.19	Дифференциальные уравнения	ОПК-1.1; ОПК-3.2
Б1.О.20	Математическое и компьютерное моделирование	ОПК-2.1; ОПК-3.1; ОПК-3.2; ОПК-3.3
Б1.О.21	Уравнения математической физики	ОПК-1.3; ОПК-3.2

Б1.О.22	Численные методы	ОПК-1.2; ОПК-2.1; ОПК-5.1
Б1.О.23	Методы оптимизации	ОПК-1.2; ОПК-2.1; ОПК-5.1
Б1.О.24	Информатика и программирование	ОПК-1.1; ОПК-2.2; ПК-2.1
Б1.О.25	Структуры данных и алгоритмы	ОПК-4.1; ОПК-5.1
Б1.О.26	Объектно-ориентированное программирование	ОПК-4.1; ОПК-5.3
Б1.О.27	Архитектура компьютеров	ОПК-4.1; ОПК-5.3
Б1.О.28	Базы данных	ОПК-4.1; ОПК-5.2
Б1.О.29	Операционные системы	ОПК-4.2; ОПК-5.2
Б1.О.30	Компьютерные сети	ОПК-4.2; ОПК-5.2
Б1.О.31	Информационная безопасность и защита информации	ОПК-5.2; ОПК-5.3
Б1.О.32	Компьютерная графика	ОПК-3.1; ОПК-3.3; ОПК-5.1
Б1.О.33	Физика	ОПК-1.1; ОПК-3.3
Б1.О.34	Экономика и финансовая грамотность	УК-9.1; УК-9.2; УК-9.3; УК-9.4; УК-9.5
Б1.О.35	Основы российской государственности	УК-5.4
Б1.В	Часть, формируемая участниками образовательных отношений	УК-3.2; УК-3.3; УК-6.1; УК-7.4; УК-7.5; УК-7.6; ПК-1.1; ПК-1.2; ПК-2.1; ПК-2.2; ПК-3.1; ПК-3.2; ПК-3.3; ПК-4.1; ПК-4.2; ПК-4.3; ПК-5.1; ПК-5.2; ПК-5.3; ПК-6.1; ПК-6.2; ПК-6.3
Б1.В.01	Элективные дисциплины по физической культуре и спорту (модуль)	УК-7.4; УК-7.5; УК-7.6
Б1.В.01.ДВ.01	Дисциплины модуля	УК-7.4; УК-7.5; УК-7.6
Б1.В.01.ДВ.01.01	Легкая атлетика	УК-7.4; УК-7.5; УК-7.6
Б1.В.01.ДВ.01.02	Волейбол	УК-7.4; УК-7.5; УК-7.6
Б1.В.01.ДВ.01.03	Бадминтон	УК-7.4; УК-7.5; УК-7.6
Б1.В.01.ДВ.01.04	Баскетбол	УК-7.4; УК-7.5; УК-7.6
Б1.В.01.ДВ.01.05	Гандбол	УК-7.4; УК-7.5; УК-7.6
Б1.В.01.ДВ.01.06	Мини-футбол	УК-7.4; УК-7.5; УК-7.6
Б1.В.01.ДВ.01.07	Настольный теннис	УК-7.4; УК-7.5; УК-7.6
Б1.В.01.ДВ.01.08	Лыжные гонки	УК-7.4; УК-7.5; УК-7.6
Б1.В.01.ДВ.01.09	Плавание	УК-7.4; УК-7.5; УК-7.6
Б1.В.01.ДВ.01.10	Спортивная борьба	УК-7.4; УК-7.5; УК-7.6
Б1.В.01.ДВ.01.11	Спортивная аэробика	УК-7.4; УК-7.5; УК-7.6
Б1.В.02	Анализ данных	ПК-1.1; ПК-3.1; ПК-3.2; ПК-3.3
Б1.В.03	Машинное обучение	ПК-1.2; ПК-2.2; ПК-3.1; ПК-3.2
Б1.В.04	Теория игр и исследование операций	ПК-2.1; ПК-3.1; ПК-3.2
Б1.В.05	Математические основы компьютерных вычислений	ПК-4.1; ПК-5.1; ПК-5.3

Б1.В.06	Мягкие вычисления	ПК-2.1; ПК-3.1; ПК-5.2
Б1.В.07	Структурное моделирование вычислительных систем	ПК-4.2; ПК-5.3; ПК-6.3
Б1.В.08	Вычислительные алгоритмы решения прикладных задач	ПК-4.1; ПК-5.1; ПК-6.1
Б1.В.09	Планирование и оптимизация вычислительных процессов	ПК-4.3; ПК-6.2; ПК-6.3
Б1.В.10	Основы параллельного программирования	ПК-3.2
Б1.В.ДВ.01	Дисциплины по выбору Б1.В.ДВ.1	ПК-2.1
Б1.В.ДВ.01.01	Математическая логика и теория алгоритмов	ПК-2.1
Б1.В.ДВ.01.02	Математические основы анализа сложности алгоритмов	ПК-2.1
Б1.В.ДВ.02	Дисциплины по выбору Б1.В.ДВ.2	ПК-3.2
Б1.В.ДВ.02.01	Программирование на языке Java	ПК-3.2
Б1.В.ДВ.02.02	Программирование на языке C#	ПК-3.2
Б1.В.ДВ.02.03	Правовые и организационные основы добровольческой (волонтерской) деятельности	УК-3.2
Б1.В.ДВ.03	Дисциплины по выбору Б1.В.ДВ.3	ПК-3.2
Б1.В.ДВ.03.01	Объектно-ориентированный анализ и проектирование	ПК-3.2
Б1.В.ДВ.03.02	Конструирование и проектирование в пакетах инженерного анализа	ПК-3.2
Б1.В.ДВ.03.03	Корпоративные информационные системы	ПК-3.2
Б1.В.ДВ.03.04	Технологии параллельного программирования	ПК-3.2
Б1.В.ДВ.04	Дисциплины по выбору Б1.В.ДВ.4	ПК-3.3
Б1.В.ДВ.04.01	Теория массового обслуживания	ПК-3.3
Б1.В.ДВ.04.02	Теория автоматического управления	ПК-3.3
Б1.В.ДВ.05	Дисциплины по выбору Б1.В.ДВ.5	ПК-3.3
Б1.В.ДВ.05.01	Введение в стохастический анализ	ПК-3.3
Б1.В.ДВ.05.02	Теория динамического хаоса	ПК-3.3
Б2	Практика	ОПК-1.1; ОПК-1.2; ОПК-1.3; ОПК-2.1; ОПК-2.2; ОПК-3.1; ОПК-3.2; ОПК-3.3; ОПК-4.1; ПК-1.1; ПК-1.2; ПК-2.1; ПК-2.2; ПК-4.1; ПК-4.2; ПК-4.3; ПК-5.1; ПК-5.2; ПК-5.3; ПК-6.1; ПК-6.2; ПК-6.3
Б2.О	Обязательная часть	ОПК-1.1; ОПК-1.2; ОПК-1.3; ОПК-2.1; ОПК-2.2; ОПК-3.1; ОПК-3.2; ОПК-3.3; ОПК-4.1; ПК-1.1; ПК-1.2
Б2.О.01(У)	Учебная практика (ознакомительная)	ОПК-1.1; ОПК-1.2; ОПК-1.3; ОПК-2.2
Б2.О.02(У)	Учебная практика (проектная)	ОПК-3.1; ОПК-3.2; ОПК-4.1
Б2.О.03(П)	Производственная практика (научно-исследовательская работа)	ОПК-2.1; ОПК-2.2; ОПК-3.1; ОПК-3.2; ОПК-3.3; ПК-1.1; ПК-1.2
Б2.В	Часть, формируемая участниками образовательных отношений	ПК-2.1; ПК-2.2; ПК-4.1; ПК-4.2; ПК-4.3; ПК-5.1; ПК-5.2; ПК-5.3; ПК-6.1; ПК-6.2; ПК-6.3
Б2.В.01(У)	Учебная практика (технологическая)	ПК-2.1; ПК-2.2; ПК-5.1; ПК-5.2; ПК-5.3

Б2.В.02(П)	Производственная практика (проектно-технологическая)	ПК-4.1; ПК-4.2; ПК-4.3; ПК-5.1; ПК-5.2; ПК-5.3; ПК-6.1; ПК-6.2; ПК-6.3
Б3	Государственная итоговая аттестация	ОПК-1.1; ОПК-1.2; ОПК-1.3; ОПК-2.1; ОПК-2.2; ОПК-3.1; ОПК-3.2; ОПК-3.3; ОПК-4.1; ОПК-4.2; ОПК-5.1; ОПК-5.2; ОПК-5.3; ПК-1.1; ПК-1.2; ПК-2.1; ПК-2.2; ПК-3.1; ПК-3.2; ПК-3.3; ПК-4.1; ПК-4.2; ПК-4.3; ПК-5.1; ПК-5.2; ПК-5.3; ПК-6.1; ПК-6.2; ПК-6.3
Б3.01(Д)	Выполнение и защита выпускной квалификационной работы	ОПК-1.1; ОПК-1.2; ОПК-1.3; ОПК-2.1; ОПК-2.2; ОПК-3.1; ОПК-3.2; ОПК-3.3; ОПК-4.1; ОПК-4.2; ОПК-5.1; ОПК-5.2; ОПК-5.3; ПК-1.1; ПК-1.2; ПК-2.1; ПК-2.2; ПК-3.1; ПК-3.2; ПК-3.3; ПК-4.1; ПК-4.2; ПК-4.3; ПК-5.1; ПК-5.2; ПК-5.3; ПК-6.1; ПК-6.2; ПК-6.3
ФТД	Факультативы	ПК-2.1; ПК-3.2; ПК-5.3
ФТД.01	Архитектура распределенных вычислительных систем	ПК-5.3
ФТД.02	Системы компьютерной математики	ПК-2.1; ПК-3.2

Сводные данные

		Курс 1			Курс 2			Курс 3			Курс 4			Итого
		Сем. 1	Сем. 2	Всего	Сем. 3	Сем. 4	Всего	Сем. 5	Сем. 6	Всего	Сем. 7	Сем. 8	Всего	
	Теоретическое обучение и практики	17	16 5/6	33 5/6	17	17	34	17	17	34	17	8 2/6	25 2/6	127 1/6
Э	Экзаменационные сессии	2 4/6	2 4/6	5 2/6	2 4/6	3 2/6	6	2 4/6	3 2/6	6	2 4/6		2 4/6	20
У	Учебная практика		1 2/6	1 2/6		2	2		2	2				5 2/6
П	Производственная практика											4	4	4
Д	Подготовка к процедуре защиты и защита выпускной квалификационной работы											8	8	8
К	Продолжительность каникул	14 дн	52 дн	66 дн	14 дн	42 дн	56 дн	14 дн	42 дн	56 дн	14 дн	56 дн	70 дн	248 дн
*	Нерабочие праздничные дни (не включая воскресенья)	8 дн	5 дн	13 дн	8 дн	4 дн	12 дн	8 дн	4 дн	12 дн	8 дн	4 дн	12 дн	49 дн
Продолжительность		161 дн	205 дн	366 дн	161 дн	204 дн	365 дн	161 дн	204 дн	365 дн	161 дн	204 дн	365 дн	
Високосный год		+			-			-			-			
Студентов														
Групп														

Учебный план 2 курс

№	Индекс	Наименование	Семестр 3										Семестр 4										Итого за курс										Каф.	Семестр					
			Контроль	Академических часов						з.е.	Неделя	Контроль	Академических часов						з.е.	Неделя	Контроль	Академических часов						з.е.	Неделя										
				Всего	Кон такт.	Лек	Лаб	Пр	СР				Конт роль	Всего	Кон такт.	Лек	Лаб	Пр				СР	Конт роль	Всего	Кон такт.	Лек	Лаб			Пр	СР	Конт роль			Всего				
ИТОГО (с факультативами)				1101								28,75	19	4/6		1191								31,25	22	2/6		2292							60	42			
ИТОГО по ОП (без факультативов)				1101								28,75				1191								31,25				2292						60					
УЧЕБНАЯ НАГРУЗКА, (акад. час/нед)	ОП, факультативы (в период ТО)			56,3												53,2												54,8											
	ОП, факультативы (в период экз. сес.)			54												54												54											
	Ауд. нагр. (ОП - элект. курсы по физ.к.)			31,2												30,3												30,8											
	Конт. раб. (ОП - элект. курсы по физ.к.)			31,2												30,3												30,8											
	Ауд. нагр. (элект. курсы по физ.к.)			2,9												2,9												2,9											
ДИСЦИПЛИНЫ (МОДУЛИ)				1101	578	258	48	272	379	144	28,75	ТО: 17 Э: 2 2/3				1083	562	242	80	240	341	180	28,25	ТО: 17 Э: 3 1/3			2184	1140	500	128	512	720	324	57	ТО: 34 Э: 6				
1	Б1.О.02	История России		63	50	34		16	13		1,75			ЗаО	81	66	34		32	15		2,25				ЗаО	144	116	68		48	28		4		28	34		
2	Б1.О.03	Иностранный язык	За	72	32			32	40		2			Эк	108	32			32	40	36	3				Эк За	180	64			64	80	36	5		52	1234		
3	Б1.О.11	Математический анализ	Эк За	216	112	48		64	68	36	6															Эк За	216	112	48		64	68	36	6		41	123		
4	Б1.О.15	Теория вероятностей	Эк	144	64	32		32	44	36	4															Эк	144	64	32		32	44	36	4		155	3		
5	Б1.О.16	Математическая статистика												ЗаО	108	64	32	16	16	44		3				ЗаО	108	64	32	16	16	44		3		155	4		
6	Б1.О.17	Комплексный анализ												Эк	144	64	32		32	44	36	4				Эк	144	64	32		32	44	36	4		41	4		
7	Б1.О.18	Функциональный анализ												Эк За	180	96	48		48	48	36	5				Эк За	180	96	48		48	48	36	5		37	4		
8	Б1.О.19	Дифференциальные уравнения	Эк	144	64	32		32	44	36	4			Эк	144	64	32		32	44	36	4				Эк(2)	288	128	64		64	88	72	8		37	34		
9	Б1.О.25	Структуры данных и алгоритмы	Эк За	144	64	32	32		44	36	4			Эк За	144	64	32	32		44	36	4				Эк(2) За(2)	288	128	64	64		88	72	8		40	34		
10	Б1.О.26	Объектно-ориентированное программирование	За	72	48	16	16	16	24		2															За	72	48	16	16	16	24		2		40	3		
11	Б1.О.27	Архитектура компьютеров	За	72	32	32			40		2															За	72	32	32			40		2		39	3		
12	Б1.О.29	Операционные системы												За	108	64	32	32		44		3				За	108	64	32	32		44		3		40	4		
13	Б1.В.01	Элективные дисциплины по физической культуре и спорту (модуль)	За	66	48			48	18					За	66	48			48	18						За(2)	132	96			96	36				21	23456		
14	Б1.В.01.ДВ.01.01	Легкая атлетика	За	66	48			48	18					За	66	48			48	18						За(2)	132	96			96	36				21	23456		
15	Б1.В.01.ДВ.01.02	Волейбол	За	66	48			48	18					За	66	48			48	18						За(2)	132	96			96	36				21	23456		
16	Б1.В.01.ДВ.01.03	Бадминтон	За	66	48			48	18					За	66	48			48	18						За(2)	132	96			96	36				21	23456		
17	Б1.В.01.ДВ.01.04	Баскетбол	За	66	48			48	18					За	66	48			48	18						За(2)	132	96			96	36				21	23456		
18	Б1.В.01.ДВ.01.05	Гандбол	За	66	48			48	18					За	66	48			48	18						За(2)	132	96			96	36				21	23456		
19	Б1.В.01.ДВ.01.06	Мини-футбол	За	66	48			48	18					За	66	48			48	18						За(2)	132	96			96	36				21	23456		
20	Б1.В.01.ДВ.01.07	Настольный теннис	За	66	48			48	18					За	66	48			48	18						За(2)	132	96			96	36				21	23456		
21	Б1.В.01.ДВ.01.08	Льжые гонки	За	66	48			48	18					За	66	48			48	18						За(2)	132	96			96	36				21	23456		
22	Б1.В.01.ДВ.01.09	Плавание	За	66	48			48	18					За	66	48			48	18						За(2)	132	96			96	36				21	23456		
23	Б1.В.01.ДВ.01.10	Спортивная борьба	За	66	48			48	18					За	66	48			48	18						За(2)	132	96			96	36				21	23456		
24	Б1.В.01.ДВ.01.11	Спортивная аэробика	За	66	48			48	18					За	66	48			48	18						За(2)	132	96			96	36				21	23456		
25	Б1.В.ДВ.01.01	Математическая логика и теория алгоритмов	ЗаО	108	64	32		32	44		3															ЗаО	108	64	32		32	44		3		36	3		
26	Б1.В.ДВ.01.02	Математические основы анализа сложности алгоритмов	ЗаО	108	64	32		32	44		3															ЗаО	108	64	32		32	44		3		41	3		
ФОРМЫ КОНТРОЛЯ				Эк(4) За(6) ЗаО											Эк(5) За(4) ЗаО(2)											Эк(9) За(10) ЗаО(3)													
ПРАКТИКИ			(План)													108	8			8	100		3	2				108	8			8	100		3	2			
	Б2.О.02(У)	Учебная практика (проектная)												ЗаО	108	8			8	100		3	2			ЗаО	108	8			8	100		3	2		36	4	
ГОСУДАРСТВЕННАЯ ИТОГОВАЯ АТТЕСТАЦИЯ			(План)																																				
КАНИКУЛЫ												2												6											8				

МИНОБРНАУКИ РОССИИ
ФЕДЕРАЛЬНОЕ ГОСУДАРСТВЕННОЕ БЮДЖЕТНОЕ ОБРАЗОВАТЕЛЬНОЕ УЧРЕЖДЕНИЕ
ВЫСШЕГО ОБРАЗОВАНИЯ
«ВОРОНЕЖСКИЙ ГОСУДАРСТВЕННЫЙ УНИВЕРСИТЕТ»
(ФГБОУ ВО «ВГУ»)

УТВЕРЖДАЮ

Декан факультета ПММ

Медведев С. Н.

26.05.2023



РАБОЧАЯ ПРОГРАММА ВОСПИТАНИЯ

1. Код и наименование направления подготовки/специальности:

01.03.02 Прикладная математика и информатика

2. Профиль подготовки/специализация:

Информационные технологии для вычислительных систем

3. Квалификация выпускника: бакалавр

4. Составители программы: начальник отдела по воспитательной работе Назарова Александра Александровна, Медведева Ольга Александровна, к.ф.-м.н., доцент кафедры ВМиПИТ.

5. Рекомендована: Учёным советом факультета прикладной математики, информатики и механики от 26.05.2023 года, протокол № 9.

отметки о продлении вносятся вручную)

6 Учебный год: 2023-2024, 2024-2025, 2025-2026, 2026-2027

1. Цель и задачи программы:

Цель программы – воспитание высоконравственной, духовно развитой и физически здоровой личности, обладающей социально и профессионально значимыми личностными качествами и компетенциями, способной творчески осуществлять профессиональную деятельность и нести моральную ответственность за принимаемые решения в соответствии с социокультурными и духовно-нравственными ценностями.

Задачи программы:

- формирование единого воспитательного пространства, направленного на создание условий для активной жизнедеятельности обучающихся, их гражданского и профессионального самоопределения и самореализации;
- вовлечение обучающихся в общественно-ценностные социализирующие отношения по всем направлениям воспитательной работы в вузе/на факультете;
- освоение обучающимися духовно-нравственных ценностей, гражданско-патриотических ориентиров, необходимых для устойчивого развития личности, общества, государства;
- содействие обучающимся в личностном и профессиональном самоопределении, проектировании индивидуальных образовательных траекторий и образа будущей профессиональной деятельности, поддержка деятельности обучающихся по самопознанию и саморазвитию.

2. Теоретико-методологические основы организации воспитания

В основе реализации программы лежат следующие *подходы*:

- *системный*, который означает взаимосвязь и взаимообусловленность всех компонентов воспитательного процесса – от цели до результата;
- *организационно-деятельностный*, в основе которого лежит единство сознания, деятельности и поведения и который предполагает такую организацию коллектива и личности, когда каждый обучающийся проявляет активность, инициативу, творчество, стремление к самовыражению;
- *лично-ориентированный*, утверждающий признание человека высшей ценностью воспитания, активным субъектом воспитательного процесса, уникальной личностью;
- *комплексный подход*, подразумевающий объединение усилий всех субъектов воспитания (индивидуальных и групповых), институтов воспитания (подразделений) на уровне социума, вуза, факультета и самой личности воспитанника для успешного решения цели и задач воспитания; сочетание индивидуальных, групповых и массовых методов и форм воспитательной работы.

Основополагающими *принципами* реализации программы являются:

- *системность* в планировании, организации, осуществлении и анализе воспитательной работы;
- *интеграция* внеаудиторной воспитательной работы, воспитательных аспектов учебного процесса и исследовательской деятельности;
- *мотивированность* участия обучающихся в различных формах воспитательной работы (аудиторной и внеаудиторной);
- *вариативность*, предусматривающая учет интересов и потребностей каждого обучающегося через свободный выбор альтернативных вариантов участия в направлениях воспитательной работы, ее форм и методов.

Реализация программы предусматривает использование следующих *методов* воспитания:

- методы формирования сознания личности (рассказ, беседа, лекция, диспут, метод примера);

- методы организации деятельности и приобретения опыта общественного поведения личности (создание воспитывающих ситуаций, педагогическое требование, инструктаж, иллюстрации, демонстрации);

- методы стимулирования и мотивации деятельности и поведения личности (соревнование, познавательная игра, дискуссия, эмоциональное воздействие, поощрение, наказание);

- методы контроля, самоконтроля и самооценки в воспитании.

При реализации программы используются следующие **формы** организации воспитательной работы:

- массовые формы – мероприятия на уровне университета, города, участие во всероссийских и международных фестивалях, конкурсах и т.д.;

- групповые формы – мероприятия внутри коллективов академических групп, студий творческого направления, клубов, секций, общественных студенческих объединений и др.;

- индивидуальные, личностно-ориентированные формы – индивидуальное консультирование преподавателями обучающихся по вопросам организации учебно-профессиональной и научно-исследовательской деятельности, личностного и профессионального самоопределения, выбора индивидуальной образовательной траектории и т.д.

3. Содержание воспитания

Практическая реализация цели и задач воспитания осуществляется в рамках следующих направлений воспитательной работы в вузе/на факультете:

- 1) духовно-нравственное воспитание;
- 2) гражданско-правовое воспитание;
- 3) патриотическое воспитание;
- 4) экологическое воспитание;
- 5) культурно-эстетическое воспитание;
- 6) физическое воспитание;
- 7) профессиональное воспитание.

3.1. Духовно-нравственное воспитание

- формирование нравственной позиции, в том нравственного сознания и поведения на основе усвоения общечеловеческих ценностей и нравственных чувств (чести, долга, справедливости, милосердия, добра, дружелюбия);

- развитие способности к сопереживанию и формированию позитивного отношения к людям, в том числе к лицам с ограниченными возможностями здоровья и инвалидам;

- формирование толерантного сознания и поведения в поликультурном мире, готовности и способности вести диалог с другими людьми, достигать в нем взаимопонимания, находить общие цели и сотрудничать для их достижения;

- развитие способности к духовному развитию, реализации творческого потенциала в учебно-профессиональной деятельности на основе нравственных установок и моральных норм, непрерывного самообразования и самовоспитания;

- развитие способности к сотрудничеству с окружающими в образовательной, общественно полезной, проектной и других видах деятельности.

3.2. Гражданско-правовое воспитание

- выработка осознанной собственной позиции по отношению к общественно-политическим событиям прошлого и настоящего;

- формирование российской гражданской идентичности, гражданской позиции активного и ответственного члена российского общества, осознающего свои конституционные права и обязанности, уважающего закон и правопорядок, обладающего чувством собственного достоинства, осознанно принимающего традиционные национальные и общечеловеческие гуманистические и демократические ценности;
- формирование установок личности, позволяющих противостоять идеологии экстремизма, национализма, ксенофобии, коррупции, дискриминации по социальным, религиозным, расовым, национальным признакам, другим негативным социальным явлениям;
- развитие студенческого самоуправления, совершенствование у обучающихся организаторских умений и навыков;
- расширение конструктивного участия обучающихся в принятии решений, затрагивающих их права и интересы, в том числе в различных формах общественной самоорганизации, самоуправления;
- поддержка инициатив студенческих объединений, развитие молодежного добровольчества и волонтерской деятельности;
- организация социально значимой общественной деятельности студенчества.

3.3. Патриотическое воспитание

- формирование чувств патриотизма, гражданственности, уважения к памяти защитников Отечества и подвигам Героев Отечества;
- формирование патриотического сознания, чувства верности своему Отечеству, стремления защищать интересы Родины и своего народа;
- формирование чувства гордости и уважения к достижениям и культуре своей Родины на основе изучения культурного наследия и традиций многонационального народа России, развитие желания сохранять ее уникальный характер и культурные особенности;
- развитие идентификации себя с другими представителями российского народа;
- вовлечение обучающихся в мероприятия военно-патриотической направленности;
- приобщение обучающихся к истории родного края, традициям вуза, развитие чувства гордости и уважения к выдающимся представителям университета;
- формирование социально значимых и патриотических качеств обучающихся.

3.4. Экологическое воспитание

- формирование экологической культуры;
- формирование бережного и ответственного отношения к своему здоровью (физическому и психологическому) и здоровью других людей, живой природе, окружающей среде;
- вовлечение обучающихся в экологические мероприятия;
- выработка умений и навыков разумного природопользования, нетерпимого отношения к действиям, приносящим вред экологии, приобретение опыта эколого-направленной деятельности;
- укрепление мотивации к физическому самосовершенствованию, занятию спортивно-оздоровительной деятельностью;
- развитие культуры безопасной жизнедеятельности, умений оказывать первую помощь;
- профилактика наркотической и алкогольной зависимости, табакокурения и других вредных привычек.

3.5. Культурно-эстетическое воспитание

- формирование эстетического отношения к миру, включая эстетику научного и технического творчества, спорта, общественных отношений и быта;
- приобщение обучающихся к истинным культурным ценностям;
- расширение знаний в области культуры, вовлечение в культурно-досуговые мероприятия;
- повышение интереса к культурной жизни региона; содействие его конкурентоспособности посредством участия во всероссийских конкурсах и фестивалях;
- создание социально-культурной среды вуза/факультета, популяризация студенческого творчества, формирование готовности и способности к самостоятельной, творческой деятельности;
- совершенствование культурного уровня и эстетических чувств обучающихся.

3.6. Физическое воспитание

- создание условий для занятий физической культурой и спортом, для развивающего отдыха и оздоровления обучающихся, включая студентов с ограниченными возможностями здоровья, студентов, находящихся в трудной жизненной ситуации, в том числе на основе развития спортивной инфраструктуры вуза/факультета и повышения эффективности ее использования;
- формирование мотивации к занятиям физической культурой и спортом, следованию здоровому образу жизни, в том числе путем пропаганды в студенческой среде необходимости участия в массовых спортивно-общественных мероприятиях, популяризации отечественного спорта и спортивных достижений страны/региона/города/вуза/факультета;
- вовлечение обучающихся в спортивные соревнования и турниры, межфакультетские и межвузовские состязания, встречи с известными спортсменами и победителями соревнований.

3.7. Профессиональное воспитание

- приобщение студентов к традициям и ценностям профессионального сообщества, нормам корпоративной этики;
- развитие профессионально значимых качеств личности будущего компетентного и ответственного специалиста в учебно-профессиональной, научно-исследовательской деятельности и внеучебной работе;
- формирование творческого подхода к самосовершенствованию в контексте будущей профессии;
- повышение мотивации профессионального самосовершенствования обучающихся средствами изучаемых учебных дисциплин, практик, научно-исследовательской и других видов деятельности;
- ориентация обучающихся на успех, лидерство и карьерный рост; формирование конкурентоспособных личностных качеств;
- освоение этических норм и профессиональной ответственности посредством организации взаимодействия обучающихся с мастерами профессионального труда.

4. Методические рекомендации по анализу воспитательной работы на факультете и проведению ее аттестации (по реализуемым направлениям подготовки/специальностям)

Ежегодно заместитель декана по воспитательной работе представляет на ученом совете факультета отчет, содержащий анализ воспитательной работы на факультете и итоги ее аттестации (по реализуемым направлениям подготовки / специальностям).

Анализ воспитательной работы на факультете проводится с **целью** выявления основных проблем воспитания и последующего их решения.

Основными **принципами** анализа воспитательного процесса являются:

- *принцип гуманистической направленности*, проявляющийся в уважительном отношении ко всем субъектам воспитательного процесса;
- *принцип приоритета анализа сущностных сторон воспитания*, ориентирующий на изучение не столько количественных его показателей, сколько качественных – таких как содержание и разнообразие деятельности, характер общения и отношений субъектов образовательного процесса и др.;
- *принцип развивающего характера осуществляемого анализа*, ориентирующий на использование его результатов для совершенствования воспитательной деятельности в вузе/на факультете: уточнения цели и задач воспитания, планирования воспитательной работы, адекватного подбора видов, форм и содержания совместной деятельности обучающихся и преподавателей;
- *принцип разделенной ответственности* за результаты профессионально-личностного развития обучающихся, ориентирующий на понимание того, что профессионально-личностное развитие – это результат влияния как социальных институтов воспитания, так и самовоспитания.

Примерная схема анализа воспитательной работы на факультете

1. Анализ целевых установок

1.1 Наличие рабочей программы воспитания по всем реализуемым на факультете ООП.

1.2 Наличие утвержденного комплексного календарного плана воспитательной работы.

2. Анализ информационного обеспечения организации и проведения воспитательной работы

2.1 Наличие доступных для обучающихся источников информации, содержащих план воспитательной работы, расписание работы студенческих клубов, кружков, секций, творческих коллективов и т.д.

3. Организация и проведение воспитательной работы

3.1 Основные направления воспитательной работы в отчетном году, использованные в ней формы и методы, степень активности обучающихся в проведении мероприятий воспитательной работы.

3.2 Проведение студенческих фестивалей, смотров, конкурсов и пр., их количество в отчетном учебном году и содержательная направленность.

3.3 Участие обучающихся и оценка степени их активности в фестивалях, конкурсах, смотрах, соревнованиях различного уровня.

3.4 Достижения обучающихся, участвовавших в фестивалях, конкурсах, смотрах, соревнованиях различного уровня (количество призовых мест, дипломов, грамот и пр.).

3.5 Количество обучающихся, участвовавших в работе студенческих клубов, творческих коллективов, кружков, секций и пр. в отчетном учебном году.

3.6 Количество обучающихся, задействованных в различных воспитательных мероприятиях в качестве организаторов и в качестве участников.

4. Итоги аттестации воспитательной работы факультета

4.1. Выполнение в отчетном году календарного плана воспитательной работы: выполнен полностью – перевыполнен (с приведением конкретных сведений о перевыполнении) – невыполнен (с указанием причин невыполнения отдельных мероприятий).

4.2. Общее количество обучающихся, принявших участие в воспитательных мероприятиях в отчетном учебном году.

4.3. При наличии фактов пассивного отношения обучающихся к воспитательным мероприятиям: причины пассивности и предложения по ее устранению, активному вовлечению обучающихся в воспитательную работу.

4.4. Дополнительно в отчете могут быть представлены (по решению заместителя декана по воспитательной работе) сведения об инициативном участии обучающихся в воспитательных мероприятиях, не предусмотренных календарным планом воспитательной работы, о конкретных обучающихся, показавших наилучшие результаты участия в воспитательных мероприятиях и др.

Процедура аттестации воспитательной работы и выполнения календарного плана воспитательной работы

Оценочная шкала: «удовлетворительно» – «неудовлетворительно».

Оценочные критерии:

1. Количественный – участие обучающихся в мероприятиях календарного плана воспитательной работы (олимпиадах, конкурсах, фестивалях, соревнованиях и т.п.), участие обучающихся в работе клубов, секций, творческих, общественных студенческих объединений.

Воспитательная работа признается удовлетворительной при выполнении **одного из условий:**

Выполнение запланированных мероприятий по 6 из 7 направлений воспитательной работы
или
Участие не менее 80% обучающихся в мероприятиях по не менее 5 направлениям воспитательной работы
или
Охвачено 100% обучающихся по не менее 4 направлениям воспитательной работы
или
1. Охват не менее 50% обучающихся в мероприятиях по 7 направлениям воспитательной работы. 2. Наличие дополнительных достижений обучающихся (индивидуальных или групповых) в мероприятиях воспитательной направленности внутривузовского, городского, регионального, межрегионального, всероссийского или международного уровня.

2. Качественный – достижения обучающихся в различных воспитательных мероприятиях (уровень мероприятия – международный, всероссийский, региональный, университетский, факультетский; статус участия обучающихся – представители страны, области, вуза, факультета; характер участия обучающихся – организаторы, исполнители, зрители).


Способы получения информации для проведения аттестации: педагогическое наблюдение; анализ портфолио обучающихся и документации, подтверждающей их достижения (грамот, дипломов, благодарственных писем, сертификатов и пр.); беседы с обучающимися, студенческим активом факультета, преподавателями, принимающими участие в воспитательной работе, кураторами основных образовательных программ; анкетирование обучающихся (при необходимости); отчеты кураторов студенческих групп 1-2 курсов (по выбору заместителя декана по воспитательной работе и с учетом особенностей факультета).

Источники получения информации для проведения аттестации: устные, письменные, электронные (по выбору заместителя декана по воспитательной работе и с учетом особенностей факультета).

Фиксация результатов аттестации: отражаются в ежегодном отчете заместителя декана по воспитательной работе (по решению заместителя декана по воспитательной работе – в целом по факультету или отдельно по реализуемым направлениям подготовки / специальностям).

УТВЕРЖДАЮ

Декан факультета ПММ


 Медведев С.Н.
 26.05.2023

КАЛЕНДАРНЫЙ ПЛАН ВОСПИТАТЕЛЬНОЙ РАБОТЫ на 2023/2024 учебный год

№ п/п	Направление воспитательной работы	Мероприятие с указанием его целевой направленности	Сроки выполнения	Уровень мероприятия (федеральный, региональный, университетский, факультетский)	Исполнители
1.	Духовно-нравственное воспитание	День донора	Сентябрь, апрель	Региональный	Волонтерский центр ВГУ «Гравитация»
		Мероприятия по профилактике межнациональных конфликтов	Сентябрь	Университетский	Отдел по воспитательной работе
		Акция «Снежный десант»	Январь	Региональный	Отдел по воспитательной работе
		Мероприятия Клуба волонтеров ВГУ	В течение года	Региональный	Волонтерский центр ВГУ «Гравитация»
		Проведение интеллектуальных викторин	В течение года	Университетский	Отдел по воспитательной работе
2.	Гражданско-правовое воспитание	Мероприятия, посвященные Дню солидарности в борьбе с терроризмом	3 сентября	Университетский	Отдел по воспитательной работе
		Проведение комплекса круглых столов и лекций по противодействию экстремизму и терроризму	В течение года	Университетский	Управление по работе с молодежью
		Круглый стол "Безопасность в сети Интернет"	Март	Университетский	Отдел по воспитательной работе
		Секции Юридической клиники	Апрель	Университетский	Юридическая клиника ВГУ

3.	Патриотическое воспитание	Военно-спортивная игра для первокурсников «Зарница»	Сентябрь	Университетский	Отдел по воспитательной работе
		Митинг, посвященный Дню освобождения г. Воронежа от немецко-фашистских захватчиков	25 января	Университетский	Отдел по воспитательной работе
		Гуманитарная помощь ветеранам	Май	Региональный	Отдел по воспитательной работе
		Участие в акции "Бессмертный полк"	Май	Региональный	Управление по работе с молодежью
		Мероприятия, посвященные Дню Победы	Май	Региональный	Отдел по воспитательной работе
4.	Экологическое воспитание	Волонтерские акции	В течение года	Региональный	Волонтерский центр ВГУ «Гравитация»
		Участие в мероприятиях по благоустройству	В течение года	Региональный	Волонтерский центр ВГУ «Гравитация»
5.	Культурно-эстетическое воспитание	Праздничный концерт, посвященный Дню знаний	1 сентября	Университетский	Культурно-досуговый отдел
		Межфакультетская ролевая игра с настольными играми	Сентябрь	Университетский	Факультеты
		Мероприятие в рамках адаптации первокурсников «Посвящение в студенты»	Сентябрь	Университетский	Факультеты
		Цикл образовательных лекций для студентов в рамках подготовительной программы к фестивалю «Первокурсник – 2023»	Октябрь	Университетский	Культурно-досуговый отдел
		Фестиваль «Первокурсник – 2023»	Октябрь – ноябрь	Университетский	Культурно-досуговый отдел
		Праздничный концерт, посвященный Дню студента	Ноябрь	Университетский	Культурно-досуговый отдел
		Новогодние посиделки	Конец декабря	Факультетский	Факультет

		Участие во всероссийском молодежном фестивале «Всероссийский студенческий марафон»	Февраль	Федеральный	Культурно-досуговый отдел, Отдел по воспитательной работе
		Праздничные мероприятия «Широкая масленица»	Март	Университетский	Культурно-досуговый отдел
		Фестиваль «Университетская весна»	Апрель	Университетский	Культурно-досуговый отдел
		Фестиваль «Областная весна»	Апрель	Региональный	Культурно-досуговый отдел
		Участие в федеральном мероприятии «Российская студенческая весна»	Май	Федеральный	Культурно-досуговый отдел
6.	Физическое воспитание	Фестиваль ГТО	Сентябрь	Университетский	Спортивный клуб
		Анкетирование студентов по видам спорта	Сентябрь	Университетский	Спортивный клуб
		Межфакультетская Универсиада	Ноябрь – Март	Университетский	Спортивный клуб
		Внутривузовский этап Чемпионата АССК	Декабрь – март	Университетский	Отдел по воспитательной работе
		Всероссийские соревнования по спортивному программированию	Апрель	Региональный	Факультет
		Региональная Универсиада	Февраль - май	Региональный	Отдел по воспитательной работе
		Участие в федеральном спортивном проекте «АССК.Фест»	Май	Федеральный	Отдел по воспитательной работе
7.	Профессиональное воспитание	Агитационная кампания по привлечению обучающихся в студенческие отряды	В течение года	Университетский	Отдел по воспитательной работе

	Занятия с первокурсниками в лекционном и практическом формате	В течение учебного года	Факультетский	Факультет
	РИФ Воронеж, образовательным партнером выступает факультет ПММ	Сентябрь	Региональный	Like & Go, факультет
	Тренинг предпринимательских компетенций	Октябрь	Факультетский	Факультет
	Турнир Трех Наук	Декабрь	Федеральный	Управление по инновациям
	День российского студенчества	Январь	Университетский	Отдел по воспитательной работе
	Зимняя школа магистратуры факультета ПММ ВГУ	Февраль	Факультетский	Факультет
	Студенческая Олимпиада по программированию	Февраль	Региональный	Факультет
	Технокубок	Март	Федеральный	ВК, факультет
	Межрегиональный робототехнический фестиваль "Робоарт"	Март	Федеральный	Экспериментальная техническая школа, факультет
	День карьеры факультета ПММ	Апрель	Факультетский	Факультет
	Олимпиада школьников по программированию	Апрель	Региональный	Факультет
	Научная студенческая конференция «Математика, информационные технологии, приложения»	Апрель	Университетский	Факультет
	«Домашняя целина» студенческих отрядов ВГУ	Май	Университетский	Отдел по воспитательной работе

Аннотации рабочих программ дисциплин

Б1.О.01 Философия

Общая трудоёмкость дисциплины: 4 з.е.

Дисциплина направлена на формирование следующих компетенций и индикаторов их достижения:

- *УК-1 Способен осуществлять поиск, критический анализ и синтез информации, применять системный подход для решения поставленных задач;*
- *УК-1.1 Анализирует проблемную ситуацию как систему, выявляя ее составляющие и связи между ними;*
- *УК-1.2 Используя логико-методологический инструментарий, критически оценивает надежность источников информации, современных концепций философского и социального характера в своей предметной области;*
- *УК-5 Способен воспринимать межкультурное разнообразие общества в социально-историческом, этическом и философском контекстах;*
- *УК-5.2 Учитывает при социальном и профессиональном общении историко-культурное наследие и социокультурные традиции различных социальных групп, этносов и конфессий, включая мировые религии, философские и этические учения.*

Место учебной дисциплины в структуре ОПОП: учебная дисциплина относится к обязательной части Блока 1 учебного плана.

Цели и задачи учебной дисциплины

Целями освоения учебной дисциплины являются: формирование целостных представлений о зарождении и развитии философского знания; усвоение базовых понятий и категорий философской мысли, выработка умений системного изложения основных проблем теоретической философии, способствующих формированию мировоззренческой позиции.

Задачи учебной дисциплины: развитие у студентов интереса к фундаментальным философским знаниям; усвоение студентами проблемного содержания основных философских концепций, направлений и школ, овладение философским категориальным аппаратом с целью развития мировоззренческих основ профессионального сознания; формирование у студентов знаний о современных философских проблемах бытия, познания, человека и общества; развитие у студентов способности использовать теоретические общефилософские знания в профессиональной практической деятельности.

Форма промежуточной аттестации – экзамен.

Б1.О.02 История России

Общая трудоёмкость дисциплины: 4 з.е.

Дисциплина направлена на формирование следующих компетенций и индикаторов их достижения:

- *УК-5 Способен воспринимать межкультурное разнообразие общества в социально-историческом, этическом и философском контекстах;*
- *УК-5.1 Определяет специфические черты исторического наследия и социокультурные традиции различных социальных групп, опираясь на знание этапов исторического развития России (включая основные события, основных исторических деятелей) в контексте мировой истории и ряда культурных традиций мира (в зависимости от среды и задач образования);*
- *УК-5.3 Понимает и квалифицированно интерпретирует межкультурное разнообразие общества, учитывает социокультурные особенности различных социальных групп (в том числе этнических и конфессиональных).*

Место учебной дисциплины в структуре ОПОП: учебная дисциплина относится к обязательной части Блока 1 учебного плана.

Цели и задачи учебной дисциплины

Целями освоения учебной дисциплины являются: приобретение студентами научных и методических знаний в области истории; формирование теоретических представлений о закономерностях исторического процесса; овладение знаниями основных событий, происходящих в России и мире; приобретение навыков исторического анализа и синтеза.

Задачи учебной дисциплины: формирование у студентов научного мировоззрения, представлений о закономерностях исторического процесса; формирование у студентов исторического сознания, воспитания уважения к всемирной и отечественной истории, деяниям предков; развитие у студентов творческого мышления, выработка умений и навыков исторических исследований; выработка умений и навыков использования исторической информации при решении задач в практической профессиональной деятельности.

Форма промежуточной аттестации – зачет с оценкой.

Б1.О.03 Иностранный язык

Общая трудоёмкость дисциплины: 8 з.е.

Дисциплина направлена на формирование следующих компетенций и индикаторов их достижения:

– *УК-4 Способен осуществлять деловую коммуникацию в устной и письменной формах на государственном языке Российской Федерации и иностранном(ых) языке(ах);*

– *УК-4.1 Выбирает на иностранном языке коммуникативно приемлемые стратегии делового общения;*

– *УК-4.5 Владеет интегративными коммуникативными умениями в устной и письменной иноязычной речи.*

Место учебной дисциплины в структуре ОПОП: учебная дисциплина относится к обязательной части Блока 1 учебного плана.

Цели и задачи учебной дисциплины

Целями освоения учебной дисциплины являются: повышение уровня владения иностранным языком, достигнутого в средней школе, овладение иноязычной коммуникативной компетенцией на уровне А2+ для решения коммуникативных задач в социально-культурной, учебно-познавательной и деловой сферах иноязычного общения; обеспечение основ будущего профессионального общения и дальнейшего успешного самообразования.

Задачи учебной дисциплины: развитие умений воспринимать на слух и понимать содержание аутентичных общественно-политических, публицистических (медийных) и прагматических текстов и выделять в них значимую/запрашиваемую информацию; развитие умений понимать содержание аутентичных общественно-политических, публицистических, прагматических (информационных буклетов, брошюр/проспектов, блогов/веб-сайтов) и научно-популярных текстов; выделять значимую/запрашиваемую информацию из прагматических текстов справочно-информационного и рекламного характера; развитие умений начинать, вести/поддерживать и заканчивать диалог-расспрос об увиденном, прочитанном, диалог-обмен мнениями и диалог-интервью/собеседование при приеме на работу, соблюдая нормы речевого этикета, при необходимости используя стратегии восстановления сбоя в процессе коммуникации; расспрашивать собеседника, задавать вопросы и отвечать на них, высказывать свое мнение, просьбу, отвечать на предложение собеседника; делать сообщения и выстраивать монолог-описание, монолог-повествование и монолог-рассуждение; развитие умений заполнять формуляры и бланки прагматического характера; поддерживать контакты при помощи электронной почты; оформлять Curriculum Vitae/Resume и сопроводительное письмо, необходимые при приеме на работу, выполнять письменные проектные задания.

Формы промежуточной аттестации – зачёт, экзамен.

Б1.О.04 Безопасность жизнедеятельности

Общая трудоёмкость дисциплины: 2 з.е.

Дисциплина направлена на формирование следующих компетенций и индикаторов их достижения:

– *УК-8 Способен создавать и поддерживать в повседневной жизни и в профессиональной деятельности безопасные условия жизнедеятельности для сохранения природной среды, обеспечения устойчивого развития общества, в том числе при угрозе и возникновении чрезвычайных ситуаций и военных конфликтов;*

– *УК-8.1 Идентифицирует и анализирует опасные и вредные факторы элементов среды обитания и в рамках осуществляемой деятельности; знает основные вопросы безопасности жизнедеятельности;*

– *УК-8.2 Способен осуществлять действия по предотвращению возникновения чрезвычайных ситуаций природного, техногенного, социального (биолого-социального) происхождения; грамотно действовать в чрезвычайных ситуациях мирного и военного времени, создавать безопасные условия реализации профессиональной деятельности;*

– *УК-8.3 Готов принимать участие в оказании первой и экстренной допсихологической помощи при травмах и неотложных состояниях, в том числе в условиях чрезвычайных ситуаций в мирное и военное время;*

– *УК-8.4 Способен обеспечить безопасные и/или комфортные условия труда на рабочем месте, в том числе с помощью средств защиты; выявить и устранить проблемы, связанные с нарушениями техники безопасности на рабочем месте.*

Место учебной дисциплины в структуре ОПОП: учебная дисциплина относится к обязательной части Блока 1 учебного плана.

Цели и задачи учебной дисциплины

Целями освоения учебной дисциплины являются: приобретение знаний и умений, необходимых для сохранения своей жизни и здоровья, для обеспечения безопасности человека в современных экономических и социальных условиях; обучение студентов идентификации опасностей в современной техносфере; приобретение знаний в области защиты населения и территорий в чрезвычайных ситуациях как в мирное, так и в военное время; выбор соответствующих способов защиты в условиях различных чрезвычайных ситуаций.

Задачи учебной дисциплины: изучение основ культуры безопасности; формирование умения соблюдать нормативные требования по отношению к источникам опасностей, присутствующих в окружающей среде; сформировать навыки распознавания опасностей; освоить приемы оказания первой помощи; выработать алгоритм действий в условиях различных чрезвычайных ситуаций; психологическая готовность эффективного взаимодействия в условиях различных чрезвычайных ситуаций.

Форма промежуточной аттестации – зачёт.

Б1.О.05 Физическая культура

Общая трудоёмкость дисциплины: 2 з.е.

Дисциплина направлена на формирование следующих компетенций и индикаторов их достижения:

– *УК-7 Способен поддерживать должный уровень физической подготовленности для обеспечения полноценной социальной и профессиональной деятельности;*

– *УК-7.1. Выбирает здоровьесберегающие технологии для поддержания здорового образа жизни с учетом физиологических особенностей организма;*

– *УК-7.2. Планирует свое рабочее и свободное время для оптимального сочетания физической и умственной нагрузки и обеспечения работоспособности;*

– *УК-7.3. Соблюдает и пропагандирует нормы здорового образа жизни в различных жизненных ситуациях и в профессиональной деятельности.*

Место учебной дисциплины в структуре ОПОП: учебная дисциплина относится к обязательной части Блока 1 учебного плана.

Цели и задачи учебной дисциплины

Целями освоения учебной дисциплины являются: формирование физической культуры личности; приобретение способности целенаправленного использования средств физической культуры и спорта для сохранения и укрепления здоровья для обеспечения полноценной социальной и профессиональной деятельности.

Задачи учебной дисциплины: овладение знаниями теоретических и практических основ физической культуры и спорта и здорового образа жизни; формирование мотивационно-ценностного отношения к физической культуре, установки на здоровый стиль жизни, потребности в регулярных занятиях физическими упражнениями и в двигательной активности.

Форма промежуточной аттестации – зачёт.

Б1.О.06 Деловое общение и культура речи

Общая трудоёмкость дисциплины: 2 з.е.

Дисциплина направлена на формирование следующих компетенций и индикаторов их достижения:

– *УК-4 Способен осуществлять деловую коммуникацию в устной и письменной формах на государственном языке Российской Федерации и иностранном(ых) языке(ах);*

– *УК-4.2. Использует информационно-коммуникационные технологии при поиске необходимой информации в процессе решения стандартных коммуникативных задач на государственном языке;*

– *УК-4.3. Ведёт деловую переписку, учитывая особенности стилистики официальных и неофициальных писем, социокультурные различия в формате корреспонденции на государственном языке;*

– *УК-4.4. Демонстрирует интегративные умения использовать диалогическое общение для сотрудничества в академической и деловой коммуникации на государственном языке;*

– *УК-4.6 Выбирает на государственном языке коммуникативно приемлемые стратегии делового общения.*

Место учебной дисциплины в структуре ОПОП: учебная дисциплина относится к обязательной части Блока 1 учебного плана.

Цели и задачи учебной дисциплины

Целями освоения учебной дисциплины являются: ознакомление студентов с начальными положениями теории и практики коммуникации, культуры устного и письменного общения; изучение основных правил деловой коммуникации; формирование навыков использования современных информационно-коммуникативных средств для делового общения.

Задачи учебной дисциплины: закрепить и расширить знание норм культуры речи, системы функциональных стилей, правил русского речевого этикета в профессиональной коммуникации; развить коммуникативные способности, сформировать психологическую готовность эффективно взаимодействовать с партнером по общению в разных ситуациях общения, главным образом, профессиональных; развить навыки владения официально-деловым стилем русского литературного языка, сформировать коммуникативно-речевые умения построения текстов разной жанровой направленности в устной и письменной форме.

Форма промежуточной аттестации – зачёт.

Б1.О.07 Основы военной подготовки

Общая трудоёмкость дисциплины 3 з.е.

Дисциплина направлена на формирование следующей компетенции и индикаторов ее достижения:

УК-8: Способен создавать и поддерживать в повседневной жизни и в профессиональной деятельности безопасные условия жизнедеятельности для сохранения природной среды, обеспечения устойчивого развития общества, в том числе при угрозе и возникновении чрезвычайных ситуаций и военных конфликтов

УК-8.5 Применяет положения общевоинских уставов в повседневной деятельности подразделения, управляет строями, применяет штатное стрелковое оружие; ведет общевойсковой бой в составе подразделения; выполняет поставленные задачи в условиях РХБ заражения; пользуется топографическими картами; оказывает первую медицинскую помощь при ранениях и травмах; имеет высокое чувство патриотизма, считает защиту Родины своим долгом и обязанностью.

Место учебной дисциплины в структуре ОПОП: дисциплина «Основы военной подготовки» относится к обязательной части Блока Б1

Цели и задачи учебной дисциплины

Цели изучения дисциплины:

- получение знаний, умений и навыков, необходимых для становления обучающихся в качестве граждан способных и готовых к выполнению воинского долга и обязанности по защите своей Родины в соответствии с законодательством;

- подготовка к военной службе.

Задачи учебной дисциплины:

- формирование у обучающихся высокого общественного сознания и воинского долга, воспитание высоких морально-психологических качеств личности гражданина – патриота;

- освоение базовых знаний и формирование ключевых навыков военного дела;

- формирование строевой подтянутости, уважительного отношения к воинским ритуалам и традициям;

- изучение и принятие правил воинской вежливости.

Форма промежуточной аттестации – зачет.

Б1.О.08 Основы права и противодействие противоправному поведению

Общая трудоемкость дисциплины 2 з.е.

Дисциплина направлена на формирование следующих компетенций и индикаторов их достижения:

УК-2 Способен определять круг задач в рамках поставленной цели и выбирать оптимальные способы их решения, исходя из действующих правовых норм, имеющихся ресурсов и ограничений

- УК-2.1 Формулирует в рамках поставленной цели круг задач, соответствующих требованиям правовых норм.

- УК-2.2 Проектирует решение конкретной задачи с учетом возможных ограничений действующих правовых норм.

- УК-2.3 Решает конкретную задачу с учетом требований правовых норм.

УК-10 Способен формировать нетерпимое отношение к проявлениям экстремизма, терроризма, коррупционному поведению и противодействовать им в профессиональной деятельности.

- УК-10.1 Соблюдает антикоррупционные стандарты поведения, выявляет коррупционные риски, противодействует коррупционному поведению в профессиональной деятельности.

- УК-10.2 Поддерживает высокий уровень личной и правовой культуры, идентифицирует проявления экстремистской идеологии и противодействует им в профессиональной деятельности.

- УК-10.3 Идентифицирует правонарушения террористической направленности, противодействует проявлениям терроризма в профессиональной деятельности.

Место учебной дисциплины в структуре ОПОП: дисциплина «Основы права и противодействие противоправному поведению» относится к обязательной части Блока 1 «Дисциплины (модули)».

Цели и задачи учебной дисциплины

Целями освоения учебной дисциплины являются:

- повышение уровня правовой культуры обучающихся, получение основных теоретических знаний о государстве и праве и основных отраслях российского права, закрепление антикоррупционного мировоззрения и антикоррупционных стандартов поведения, ценностных ориентиров антиэкстремистского и антитеррористического содержания;

– изучение правовых институтов и методов правового регулирования общественных отношений для совершенствования существующего правового регулирования в России, усвоение обучающимися теоретических знаний о коррупции, как негативном социально-правовом явлении, негативной сущности и проявлениях экстремизма и терроризма, о разновидностях соответствующего противоправного поведения, ответственности за совершение коррупционных правонарушений, правонарушений экстремистской и террористической направленности;

- изучение основ отраслевого законодательства, а также антикоррупционного законодательства, законодательства о противодействии экстремизму и терроризму.

Задачи учебной дисциплины:

- сформировать у студентов основополагающие представления о теории государства и права, практике реализации законодательства, об основных отраслях права, правовых основах профессиональной деятельности;

- сформировать у обучающихся основополагающие представления о коррупции, о экстремистской идеологии, феномене терроризма, видах соответствующего противоправного поведения, ответственности за совершение коррупционных правонарушений, правонарушений экстремистской и террористической направленности;

- развить умения и навыки по применению норм права в профессиональной деятельности, а также по выявлению коррупционного поведения, коррупционных рисков, проявлений экстремистской идеологии, правонарушений террористической направленности, противодействия указанным видам противоправного поведения в профессиональной деятельности.

Форма промежуточной аттестации – зачет.

Б1.О.09 Основы проектного менеджмента

Общая трудоёмкость дисциплины: 2 з.е.

Дисциплина направлена на формирование следующих компетенций и индикаторов их достижения:

– *УК-2 Способен определять круг задач в рамках поставленной цели и выбирать оптимальные способы их решения, исходя из действующих правовых норм, имеющихся ресурсов и ограничений;*

– *УК-2.4 Формулирует конкретную, специфичную, измеримую во времени и пространстве цель, а также определяет дорожную карту движения к цели, исходя из имеющихся ресурсов и ограничений;*

– *УК-2.5 Составляет иерархическую структуру работ, распределяет по задачам финансовые и трудовые ресурсы;*

– *УК-2.6 Оценивает эффективность результатов проекта.*

Место учебной дисциплины в структуре ОПОП: учебная дисциплина относится к обязательной части Блока 1 учебного плана.

Цели и задачи учебной дисциплины

Целями освоения учебной дисциплины являются: получение теоретических и практических знаний по управлению проектами и основам командной работы, позволяющих успешно реализовывать себя в различных проектах, в том числе в IT-сфере.

Задачи учебной дисциплины: изучение теоретических основ управления проектами; изучение нормативно-правовой базы проектной работы; получение навыков выбора стратегий достижения целей проекта, определения круга сопутствующих задач и оценки способов их решения; освоение различных инструментов управления проектами и способов оценки эффективности проекта; приобретение навыков оценивания ресурсов и ограничений, обеспечивающих возможность реализации проекта; получение навыков социального взаимодействия и реализации своей роли в команде.

Форма промежуточной аттестации – зачёт с оценкой.

Б1.О.10 Психология личности и её саморазвития

Общая трудоёмкость дисциплины: 2 з.е.

Дисциплина направлена на формирование следующих компетенций и индикаторов их достижения:

- УК-3 Способен осуществлять социальное взаимодействие и реализовывать свою роль в команде;
- УК-3.1. Определяет свою роль в команде, опираясь на знания индивидуально психологических особенностей своих и членов команды, а также психологических основ социального взаимодействия в группе;
- УК-3.2. Выбирает эффективные способы организации социального взаимодействия и распределения ролей в команде;
- УК-6 Способен управлять своим временем, выстраивать и реализовывать траекторию саморазвития на основе принципов образования в течение всей жизни;
- УК-6.1. Оценивает свои личностные и временные ресурсы на основе самодиагностики;
- УК-6.2. Планирует траекторию саморазвития, опираясь на навыки управления своим временем и принципы образования в течение всей жизни.

Место учебной дисциплины в структуре ОПОП: учебная дисциплина относится к обязательной части Блока 1 учебного плана.

Цели и задачи учебной дисциплины

Целями освоения учебной дисциплины являются: формирование у будущих бакалавров систематизированных научных представлений о социально-психологических аспектах проблемы личности в современном обществе, а также о специфике задач и методов её саморазвития.

Задачи учебной дисциплины: усвоение обучающимися различных социально-психологических трактовок проблемы личности, а также анализ разнообразных теорий ее социализации; ознакомление с проблемой саморазвития личности; усвоение студентами знаний, умений и навыков в области психологических основ взаимодействия личности и общества; расширение знаний и компетенций студентов по проблематике социального поведения, отношений, саморазвития, социализации и идентичности личности.

Форма промежуточной аттестации – зачёт с оценкой.

Б1.О.11 Математический анализ

Общая трудоёмкость дисциплины: 20 з.е.

Дисциплина направлена на формирование следующих компетенций и индикаторов их достижения:

- ОПК-1. Способен применять фундаментальные знания, полученные в области математических и (или) естественных наук, и использовать их в профессиональной деятельности;
- ОПК-1.1. Демонстрирует знания, относящиеся к базовым дисциплинам математики, информатики и естественных наук;
- ОПК-1.2. Осуществляет формализацию поставленной задачи и выбирает математические методы для ее решения;

– *ОПК-1.3. Использует современные математические инструментальные средства для решения поставленной задачи, анализирует и интерпретирует результаты.*

Место учебной дисциплины в структуре ОПОП: учебная дисциплина относится к обязательной части Блока 1 учебного плана.

Цели и задачи учебной дисциплины

Целями освоения учебной дисциплины являются: изучение основных математических понятий, их взаимосвязи и развития, а также отвечающих им методов, используемых для анализа, моделирования и решения прикладных задач.

Задачи учебной дисциплины: развитие алгоритмического и логического мышления студентов, овладение методами исследования и решения математических задач, выработка у студентов умения самостоятельно расширять свои математические знания и проводить математический анализ прикладных задач.

Форма промежуточной аттестации – зачёт, экзамен.

Б1.О.12 Алгебра

Общая трудоёмкость дисциплины: 8 з.е.

Дисциплина направлена на формирование следующих компетенций и индикаторов их достижения:

– *ОПК-1 Способен применять фундаментальные знания, полученные в области математических и (или) естественных наук, и использовать их в профессиональной деятельности;*

– *ОПК-1.1 Демонстрирует знания, относящиеся к базовым дисциплинам математики, информатики и естественных наук;*

– *ОПК-1.3 Использует современные математические инструментальные средства для решения поставленной задачи, анализирует и интерпретирует результаты.*

Место учебной дисциплины в структуре ОПОП: учебная дисциплина относится к обязательной части Блока 1 учебного плана.

Цели и задачи учебной дисциплины

Целями освоения учебной дисциплины являются: обучение студентов основам линейной алгебры, ознакомление с абстрактными моделями абстрактной алгебры и спектральной теорией для формирования умений и навыков по использованию фундаментальных знаний, полученных в области математических и естественных наук, в профессиональной деятельности.

Задачи учебной дисциплины:

– отработка навыков работы с матрицами и определителями;
– отработка навыков решения систем линейных уравнений;
– обучить работе с линейными операторами, билинейными и квадратичными функционалами;

– обучить выполнению замены базиса;
– сформировать базовые знания и навыки решения типовых задач с учетом основных понятий и общих закономерностей по основным разделам алгебры, относящейся к базовым дисциплинам математики;

– сформировать практические навыки выбора современных математических инструментальных средств, для решения поставленной задачи, анализа и интерпретации результатов.

Форма промежуточной аттестации – зачёт, экзамен.

Б1.О.13 Аналитическая геометрия и основы линейной алгебры

Общая трудоёмкость дисциплины: 5 з.е.

Дисциплина направлена на формирование следующих компетенций и индикаторов их достижения:

– *ОПК-1 Способен применять фундаментальные знания, полученные в области математических и (или) естественных наук, и использовать их в профессиональной деятельности;*

– *ОПК-1.1 Демонстрирует знания, относящиеся к базовым дисциплинам математики, информатики и естественных наук;*

– *ОПК-1.2 Осуществляет формализацию поставленной задачи и выбирает математические методы для ее решения.*

Место учебной дисциплины в структуре ОПОП: учебная дисциплина относится к обязательной части Блока 1 учебного плана.

Цели и задачи учебной дисциплины

Целями освоения учебной дисциплины являются: формирование у обучающихся комплекс знаний по основным разделам аналитической геометрии и линейной алгебры, образующих теоретическую основу для формализации прикладных задач и выбора методов их решения с использованием данного математического аппарата.

Задачи учебной дисциплины:

– изучение основных разделов аналитической геометрии и линейной алгебры;
 – ознакомление с примерами прикладных задач, для формализации которых используется математический аппарат аналитической геометрии и линейной алгебры;
 – формирование у обучающихся навыков формализации прикладной задачи с использованием математического аппарата аналитической геометрии и линейной алгебры и выбора методов для ее решения.

Форма(ы) промежуточной аттестации – экзамен, зачет.

Б1.О.14 Дискретная математика

Общая трудоёмкость дисциплины: 8 з.е.

Дисциплина направлена на формирование следующих компетенций и индикаторов их достижения:

– *ОПК-1 Способен применять фундаментальные знания, полученные в области математических и (или) естественных наук, и использовать их в профессиональной деятельности;*

– *ОПК-1.1 Демонстрирует знания, относящиеся к базовым дисциплинам математики, информатики и естественных наук;*

– *ОПК-1.3 Использует современные математические инструментальные средства для решения поставленной задачи, анализирует и интерпретирует результаты.*

Место учебной дисциплины в структуре ОПОП: учебная дисциплина относится к обязательной части Блока 1 учебного плана.

Цели и задачи учебной дисциплины

Целями освоения учебной дисциплины являются: изучение и практическое освоение основных разделов дискретной математики – дисциплины, которая является базовой для формирования математической культуры современного специалиста в области моделирования и информационных технологий.

Задачи учебной дисциплины: формирование терминологической базы; ознакомление с важнейшими разделами дискретной математики и ее применением для представления информации и решения задач теоретической информатики; ознакомление студентов с методами дискретной математики, которые используются для построения моделей и конструирования алгоритмов некоторых классов практических задач.

Форма(ы) промежуточной аттестации – экзамен.

Б1.О.15 Теория вероятностей

Общая трудоёмкость дисциплины: 4 з.е.

Дисциплина направлена на формирование следующих компетенций и индикаторов их достижения:

– *ОПК-1 Способен применять фундаментальные знания, полученные в области математических и (или) естественных наук, и использовать их в профессиональной деятельности*

– *ОПК-1.1 Демонстрирует знания, относящиеся к базовым дисциплинам математики, информатики и естественных наук.*

– *ОПК-3 Способен применять и модифицировать математические модели для решения задач в области профессиональной деятельности*

– *ОПК-3.1 Применяет современные технологии математического моделирования для решения задач в области профессиональной деятельности.*

Место учебной дисциплины в структуре ОПОП: учебная дисциплина относится к обязательной части Блока 1 учебного плана.

Цели и задачи учебной дисциплины

Целями освоения учебной дисциплины являются: изучение математического аппарата, используемого в теории вероятности и методов обработки статистических данных, необходимых для построения вероятностных моделей в рамках профессиональной деятельности; приобретение знаний и умений, позволяющих применять и модифицировать математические модели для решения задач в области профессиональной деятельности.

Задачи учебной дисциплины:

– получение базовых знаний по теории вероятностей;
– решение типовых задач как аналитически, так и с помощью вычислительной техники

– приобретение навыков постановки задач и применения технологий математического моделирования при решении профессиональных задач.

Форма промежуточной аттестации – экзамен.

Б1.О.16 Математическая статистика

Общая трудоёмкость дисциплины: 3 з.е.

Дисциплина направлена на формирование следующих компетенций и индикаторов их достижения:

– *ОПК-1 Способен применять фундаментальные знания, полученные в области математических и (или) естественных наук, и использовать их в профессиональной деятельности;*

– *ОПК-1.2 Осуществляет формализацию поставленной задачи и выбирает математические методы для ее решения;*

– *ОПК-1.3 Использует современные математические инструментальные средства для решения поставленной задачи, анализирует и интерпретирует результаты.*

Место учебной дисциплины в структуре ОПОП: учебная дисциплина относится к обязательной части Блока 1 учебного плана.

Цели и задачи учебной дисциплины

Целями освоения учебной дисциплины являются: освоение математического аппарата, используемого для описания массовых случайных явлений, и методов обработки статистических данных, необходимых для построения вероятностных моделей в рамках профессиональной деятельности.

Задачи учебной дисциплины:

– получение базовых знаний по математической статистике,
– получение знаний, позволяющих осуществлять формализацию поставленной задачи и выбирать подходящие математические методы для ее решения;

– приобретение навыков применения первичной статистической обработки выборки, нахождение основных метрик;

– приобретение навыков решения типовых задач математической статистики как аналитически, так и с помощью вычислительной техники;

- приобретение навыков анализа и интерпретации полученных результатов.
Форма промежуточной аттестации – зачёт с оценкой.

Б1.О.17 Комплексный анализ

Общая трудоёмкость дисциплины: 4 з.е.

Дисциплина направлена на формирование следующих компетенций и индикаторов их достижения:

- *ОПК-1. Способен применять фундаментальные знания, полученные в области математических и (или) естественных наук, и использовать их в профессиональной деятельности;*

- *ОПК-1.1 Демонстрирует знания, относящиеся к базовым дисциплинам математики, информатики и естественных наук;*

- *ОПК-1.2 Осуществляет формализацию поставленной задачи и выбирает математические методы для ее решения.*

Место учебной дисциплины в структуре ОПОП: учебная дисциплина относится к обязательной части Блока 1 учебного плана.

Цели и задачи учебной дисциплины

Целями освоения учебной дисциплины являются: изучение основных понятий и методов теории функций комплексной переменной и примеров их применения при решении математических задач в профессиональной деятельности.

Задачи учебной дисциплины: усвоение постановок основных задач комплексного анализа; изучить методы и приемы формализации задач, изучить типовые задачи комплексного анализа и направления их применения в профессиональной деятельности,

Форма промежуточной аттестации – экзамен.

Б1.О.18 Функциональный анализ

Общая трудоёмкость дисциплины: 5 з.е.

Дисциплина направлена на формирование следующих компетенций и индикаторов их достижения:

- *ОПК-1. Способен применять фундаментальные знания, полученные в области математических и (или) естественных наук, и использовать их в профессиональной деятельности;*

- *ОПК-1.1. Демонстрирует знания, относящиеся к базовым дисциплинам математики, информатики и естественных наук;*

- *ОПК-3. Способен применять и модифицировать математические модели для решения задач в области профессиональной деятельности;*

- *ОПК-3.1 Применяет современные технологии математического моделирования для решения задач в области профессиональной деятельности.*

Место учебной дисциплины в структуре ОПОП: учебная дисциплина относится к обязательной части Блока 1 учебного плана.

Цели и задачи учебной дисциплины

Целями освоения учебной дисциплины являются: изучение студентами теоретических основ функционального анализа, составляющих фундамент ряда математических дисциплин и дисциплин прикладного характера для формирования умений и навыков по использованию фундаментальных знаний, полученных в области математических и естественных наук, в профессиональной деятельности; по применению и модифицированию математические модели для решения задач в области профессиональной деятельности.

Задачи учебной дисциплины:

- ознакомление с основными понятиями и результатами нелинейного анализа, основными принципами функционального анализа, теорией метрических и банаховых пространств, спектральной теории операторов и её приложениям;

- обучение студентов теоретическим основам курса,
- овладение методами решения практических задач и приобретение навыков самостоятельной научной деятельности.

Форма промежуточной аттестации – зачёт, экзамен.

Б1.О.19 Дифференциальные уравнения

Общая трудоёмкость дисциплины: 8 з.е.

Дисциплина направлена на формирование следующих компетенций и индикаторов их достижения:

- *ОПК-1 Способен применять фундаментальные знания, полученные в области математических и (или) естественных наук, и использовать их в профессиональной деятельности;*
- *ОПК-1.1 Демонстрирует знания, относящиеся к базовым дисциплинам математики, информатики и естественных наук;*
- *ОПК-3 Способен применять и модифицировать математические модели для решения задач в области профессиональной деятельности;*
- *ОПК-3.2 На основе требований к решению конкретной прикладной задачи выделяет основные направления модификации математической модели, осуществляет оценку качества модели.*

Место учебной дисциплины в структуре ОПОП: учебная дисциплина относится к обязательной части Блока 1 учебного плана.

Цели и задачи учебной дисциплины

Целями освоения учебной дисциплины являются: сформировать у студентов современные теоретические знания в области обыкновенных дифференциальных уравнений и практические навыки в решении и исследовании основных типов обыкновенных дифференциальных уравнений, познакомить студентов с начальными навыками математического моделирования для формирования умений и навыков по использованию фундаментальных знаний, полученных в области математических и естественных наук, в профессиональной деятельности; по применению и модифицированию математические модели для решения задач в области профессиональной деятельности.

Задачи учебной дисциплины:

- обучение студентов применению на практике методов построения математических моделей в виде дифференциальных уравнений;
- освоение основных методов решения дифференциальных уравнений;
- обучение основным положениям теории: устойчивость, существование решений, качественные свойства решений;
- формирование базовых знаний и навыков решения типовых задач с учетом основных понятий и общих закономерностей по основным разделам дифференциальных уравнений, относящейся к базовым дисциплинам математики;
- формирование практических навыков выделения основных направлений модификации математической модели на основе требований к решению конкретной прикладной задачи, а также навыков оценки качества модели.

Форма промежуточной аттестации – экзамен.

Б1.О.20 Математическое и компьютерное моделирование

Общая трудоёмкость дисциплины: 3 з.е.

Дисциплина направлена на формирование следующих компетенций и индикаторов их достижения:

- *ОПК-2 Способен использовать и адаптировать существующие математические методы и системы программирования для разработки и реализации алгоритмов решения прикладных задач;*

- *ОПК-2.1 Выделяет основные направления адаптации методов решения прикладной задачи; реализует математические методы и алгоритмы в форме компьютерных программ для проведения вычислительного эксперимента;*
- *ОПК-3. Способен применять и модифицировать математические модели для решения задач в области профессиональной деятельности;*
- *ОПК-3.1 Применяет современные технологии математического моделирования для решения задач в области профессиональной деятельности;*
- *ОПК-3.2 На основе требований к решению конкретной прикладной задачи, выделяет основные направления модификации математической модели, осуществляет оценку качества модели;*
- *ОПК-3.3 Применяет системы компьютерного моделирования для построения и анализа моделей при решении задач в области профессиональной деятельности.*

Место учебной дисциплины в структуре ОПОП: учебная дисциплина относится к обязательной части Блока 1 учебного плана.

Цели и задачи учебной дисциплины:

Целями освоения учебной дисциплины являются: формирование у студентов современных теоретических знаний в построение математической (информационной) модели объекта, явления и практических навыков в решении задач проведения математических вычислений, подбора модели и ее параметров, исследовании, применении и модифицировании математических и компьютерных моделей для решения задач в области профессиональной деятельности.

Задачи учебной дисциплины: выработка у студентов навыков применения современных технологий математического моделирования для решения задач в области профессиональной деятельности и формирование умений на основе требований к решению конкретной прикладной задачи выделять основные направления модификации математической модели, осуществлять оценку качества модели.

Форма промежуточной аттестации – зачет.

Б1.О.21 Уравнения математической физики

Общая трудоёмкость дисциплины: 4 з.е.

Дисциплина направлена на формирование следующих компетенций и индикаторов их достижения:

- *ОПК-1. Способен применять фундаментальные знания, полученные в области математических и (или) естественных наук, и использовать их в профессиональной деятельности;*
- *ОПК-1.3 Использует современные математические инструментальные средства для решения поставленной задачи, анализирует и интерпретирует результаты;*
- *ОПК-3. Способен применять и модифицировать математические модели для решения задач в области профессиональной деятельности;*
- *ОПК-3.2 На основе требований к решению конкретной прикладной задачи выделяет основные направления модификации математической модели, осуществляет оценку качества модели.*

Место учебной дисциплины в структуре ОПОП: учебная дисциплина относится к обязательной части Блока 1 учебного плана.

Цели и задачи учебной дисциплины

Целями освоения учебной дисциплины являются: формирование у студентов современных теоретических знаний в области уравнений математической физики и практических навыков в решении и исследовании модельных задач математической физики.

Задачи учебной дисциплины: выработка у студентов углубленного понимания таких фундаментальных понятий как уравнения в частных производных, начальные,

краевые и смешанные задачи, с ними связанные; умения решать некоторые модельные задачи математической физики, а также переносить эти навыки на более сложные современные задачи математической физики; овладение основами математического моделирования процессов в физике и технике.

Форма промежуточной аттестации – экзамен.

Б1.О.22 Численные методы

Общая трудоёмкость дисциплины: 11 з.е.

Дисциплина направлена на формирование следующих компетенций и индикаторов их достижения:

– *ОПК-1 Способен применять фундаментальные знания, полученные в области математических и (или) естественных наук, и использовать их в профессиональной деятельности;*

– *ОПК-1.2 Осуществляет формализацию поставленной задачи и выбирает математические методы для ее решения;*

– *ОПК-2 Способен использовать и адаптировать существующие математические методы и системы программирования для разработки и реализации алгоритмов решения прикладных задач;*

– *ОПК-2.1 Выделяет основные направления адаптации методов решения прикладной задачи; реализует математические методы и алгоритмы в форме компьютерных программ для проведения вычислительного эксперимента;*

– *ОПК-5 Способен разрабатывать алгоритмы и компьютерные программы, пригодные для практического применения;*

– *ОПК-5.1 Применяет фундаментальные знания для реализации математических методов и алгоритмов при решении прикладной задачи; осуществляет сравнение точности, сходимости и других характеристик вычислительных алгоритмов.*

Место учебной дисциплины в структуре ОПОП: учебная дисциплина относится к обязательной части Блока 1 учебного плана.

Цели и задачи учебной дисциплины

Целями освоения учебной дисциплины являются: сформировать у обучающихся комплекс знаний по основным разделам численных методов и практические навыки разработки алгоритмов и компьютерных программ на их основе для решения прикладных задач в области профессиональной деятельности.

Задачи учебной дисциплины:

– ознакомление обучающихся с классами задач основных разделов математики и соответствующими численными методами, которые используются для их решения;

– формирование навыков формализации прикладной задачи и анализа численных методов, пригодных для ее решения, на основе сравнения их точности, сходимости и других характеристик с целью выбора наиболее подходящего варианта;

– формирование умения адаптировать численные методы с учетом специфики прикладных задач из области профессиональной деятельности;

– развитие практических навыков разработки компьютерных программ, реализующих численные методы;

– проведение вычислительных экспериментов для выявления точности, сходимости и других характеристик различных классов численных методов.

Форма(ы) промежуточной аттестации – экзамен, зачет.

Б1.О.23 Методы оптимизации

Общая трудоёмкость дисциплины: 6 з.е.

Дисциплина направлена на формирование следующих компетенций и индикаторов их достижения:

– *ОПК-1 Способен применять фундаментальные знания, полученные в области математических и (или) естественных наук, и использовать их в профессиональной деятельности;*

– *ОПК-1.2 Осуществляет формализацию поставленной задачи и выбирает математические методы для ее решения;*

– *ОПК-2 Способен использовать и адаптировать существующие математические методы и системы программирования для разработки и реализации алгоритмов решения прикладных задач;*

– *ОПК-2.1 Выделяет основные направления адаптации методов решения прикладной задачи; реализует математические методы и алгоритмы в форме компьютерных программ для проведения вычислительного эксперимента;*

– *ОПК-5 Способен разрабатывать алгоритмы и компьютерные программы, пригодные для практического применения;*

– *ОПК-5.1 Применяет фундаментальные знания для реализации математических методов и алгоритмов при решении прикладной задачи; осуществляет сравнение точности, сходимости и других характеристик вычислительных алгоритмов.*

Место учебной дисциплины в структуре ОПОП: учебная дисциплина относится к обязательной части Блока 1 учебного плана.

Цели и задачи учебной дисциплины:

Целями освоения учебной дисциплины являются: формирование у студентов теоретических знаний и практических навыков в области решения оптимизационных задач и развитие компетенций применения методов оптимизации в практической деятельности и в научных исследованиях.

Задачи учебной дисциплины:

– изучение теоретических основ современных концепций, моделей оптимизации и математического моделирования;

– обучение применению алгоритмов численных методов и основных инструментальных средств в области методов оптимизации для решения актуальных инженерных и экономических задач.

Форма промежуточной аттестации – зачёт, экзамен.

Б1.О.24 Информатика и программирование

Общая трудоёмкость дисциплины: 11 з.е.

Дисциплина направлена на формирование следующих компетенций и индикаторов их достижения:

– *ОПК-1 Способен применять фундаментальные знания, полученные в области математических и (или) естественных наук, и использовать их в профессиональной деятельности;*

– *ОПК-1.1 Демонстрирует знания, относящиеся к базовым дисциплинам математики, информатики и естественных наук;*

– *ОПК-2 Способен использовать и адаптировать существующие математические методы и системы программирования для разработки и реализации алгоритмов решения прикладных задач;*

– *ОПК-2.2 Сравнивает системы программирования для обоснования выбора программной среды для разработки компонентов программного обеспечения;*

– *ПК- 2 Способен подготовить элементы документации, проекты планов и программы проведения отдельных этапов работ;*

– *ПК-2.1 Осуществляет планирование и готовит программы проведения отдельных этапов работ.*

Место учебной дисциплины в структуре ОПОП: учебная дисциплина относится к обязательной части Блока 1 учебного плана.

Цели и задачи учебной дисциплины.

Целями освоения учебной дисциплины являются: обучение студентов базовым понятиям информатики и формирование у них профессиональной культуры проектирования программных продуктов, разработки и реализации алгоритмов решения прикладных задач в конкретной среде программирования.

Задачи учебной дисциплины: получение обучающимися базовых знаний в области информатики, освоение языка программирования высокого уровня (C++) и возможностей соответствующей среды программирования; освоение фундаментальных классических алгоритмов и методов программирования; формирование умения представить алгоритм на языке программирования; умение планировать и проводить тестирование разработанных программ.

Форма промежуточной аттестации – зачёт, экзамен.

Б1.О.25 Структуры данных и алгоритмы

Общая трудоёмкость дисциплины: 8 з.е.

Дисциплина направлена на формирование следующих компетенций и индикаторов их достижения:

– *ОПК-4 Способен понимать принципы работы современных информационных технологий и использовать их для решения задач профессиональной деятельности*

– *ОПК-4.1 Осуществляет поиск, сбор, хранение и обработку информации, выбирает способы представления и распространения информации при решении задач профессиональной деятельности;*

– *ОПК-5 Способен разрабатывать алгоритмы и компьютерные программы, пригодные для практического применения;*

– *ОПК-5.1 Применяет фундаментальные знания для реализации математических методов и алгоритмов при решении прикладной задачи; осуществляет сравнение точности, сходимости и других характеристик вычислительных алгоритмов.*

Место учебной дисциплины в структуре ОПОП: учебная дисциплина относится к обязательной части Блока 1.

Цели и задачи учебной дисциплины:

Целями освоения учебной дисциплины являются: формирование у студентов профессиональных компетенций, связанных с использованием теоретических знаний в области структур данных и теории алгоритмов, пониманием концепции абстрактных типов данных и подходов к их реализации на языке C++ на основе принципов объектно-ориентированного построения программ, оценки влияния выбора структур данных и/или алгоритмов на эффективность программы.

Задачи учебной дисциплины получение практических навыков решения задач с использованием разных структур данных (линейных списков, стеков, очередей, деревьев, хэш-таблиц), используя концепции абстракции данных и модульного программирования; развитие умений, основанных на полученных теоретических знаниях, предлагать и применять эффективные подходы к решению (алгоритмизации) поставленных задач с использованием данных простой и сложной структуры; получение студентами навыков самостоятельной работы, предполагающей изучение специфических особенностей работы со структурами данных в рамках разработки подходов (алгоритмов) к решению поставленной задачи, вопросов управления памятью в C++ и использования компонентов стандартной библиотеки шаблонов (STL).

Форма промежуточной аттестации – зачёт, экзамен.

Б1.О.26 Объектно-ориентированное программирование

Общая трудоёмкость дисциплины: 2 з.е.

Дисциплина направлена на формирование следующих компетенций и индикаторов их достижения:

– *ОПК-4 Способен понимать принципы работы современных информационных технологий и использовать их для решения задач профессиональной деятельности*

– *ОПК-4.1 Осуществляет поиск, сбор, хранение и обработку информации, выбирает способы представления и распространения информации при решении задач профессиональной деятельности.;*

– *ОПК-5 Способен разрабатывать алгоритмы и компьютерные программы, пригодные для практического применения*

– *ОПК-5.3 Использует основные положения и концепции прикладного и системного программирования, современные языки программирования, технологии создания и эксплуатации программ и программных комплексов при решении задач профессиональной деятельности.*

Место учебной дисциплины в структуре ОПОП: учебная дисциплина относится к обязательной части Блока 1 учебного плана.

Цели и задачи учебной дисциплины

Целями освоения учебной дисциплины являются: изучение студентами теоретических основ технологии объектно-ориентированного программирования, принципов ее реализации, методов разработки программ, обработки данных.

Задачи учебной дисциплины: обучение студентов использовать современные технологии разработки программ с учетом требований предметной области и потребностей пользователей. Обучение грамотному использованию парадигмы объектно-ориентированного программирования для представления и хранения информации. Выработка практических навыков применения полученных знаний с использованием современных языков программирования.

Форма промежуточной аттестации – зачёт.

Б1.О.27 Архитектура компьютеров

Общая трудоёмкость дисциплины: 2 з.е.

Дисциплина направлена на формирование следующих компетенций и индикаторов их достижения:

– *ОПК-4 Способен понимать принципы работы современных информационных технологий и использовать их для решения задач профессиональной деятельности:*

– *ОПК-4.1 Осуществляет поиск, сбор, хранение и обработку информации, выбирает способы представления и распространения информации при решении задач профессиональной деятельности;*

– *ОПК-5 Способен разрабатывать алгоритмы и компьютерные программы, пригодные для практического применения;*

– *ОПК-5.3 Использует основные положения и концепции прикладного и системного программирования, современные языки программирования, технологии создания и эксплуатации программ и программных комплексов при решении задач профессиональной деятельности.*

Место учебной дисциплины в структуре ОПОП: учебная дисциплина относится к обязательной части Блока 1.

Цели и задачи учебной дисциплины

Целями освоения учебной дисциплины являются: формирование у студента понимания основных положений и концепций прикладного и системного программирования, современных языков программирования, технологий создания и эксплуатации программ и программных комплексов для современной микропроцессорной и микроконтроллерной техники; знакомство студентов с физическими основами построения современной электронно-вычислительной техники.

Задачи учебной дисциплины: формирование начальных навыков работы с базовой периферией микроконтроллерной техники для осуществления поиска, сбора, хранения и обработку информации.

Б1.О.28 Базы данных

Общая трудоёмкость дисциплины: 7 з.е.

Дисциплина направлена на формирование следующих компетенций и индикаторов их достижения:

– *ОПК-4 Способен понимать принципы работы современных информационных технологий и использовать их для решения задач профессиональной деятельности:*

– *ОПК-4.1 Осуществляет поиск, сбор, хранение и обработку информации, выбирает способы представления и распространения информации при решении задач профессиональной деятельности;*

– *ОПК-5 Способен разрабатывать алгоритмы и компьютерные программы, пригодные для практического применения;*

– *ОПК-5.2 Разрабатывает программное и информационное обеспечение компьютерных сетей, автоматизированных систем, сервисов, операционных систем и баз данных с учетом основных требований информационной безопасности.*

Место учебной дисциплины в структуре ОПОП: учебная дисциплина относится к обязательной части Блока 1 учебного плана.

Цели и задачи учебной дисциплины:

Целями освоения учебной дисциплины являются: ознакомление студентов с теорией реляционных баз данных и принципами работы современных СУБД.

Задачи учебной дисциплины: ознакомить студентов с теорией реляционных баз данных как одного из наиболее распространенных способов представления информации, синтаксисом и семантикой языка SQL; дать им навыки проектирования схемы БД для выбранной предметной области, создания и заполнения БД, осуществления поиска и получения информации из БД с помощью SELECT-запросов; ознакомить с основами проектирования баз данных с учетом основных требований информационной безопасности

Форма промежуточной аттестации – экзамен.

Б1.О.29 Операционные системы

Общая трудоёмкость дисциплины: 3 з.е.

Дисциплина направлена на формирование следующих компетенций и индикаторов их достижения:

– *ОПК-4 Способен понимать принципы работы современных информационных технологий и использовать их для решения задач профессиональной деятельности:*

– *ОПК-4.2 Осуществляет выбор и применяет информационные технологии для решения задач профессиональной деятельности;*

– *ОПК-5 Способен разрабатывать алгоритмы и компьютерные программы, пригодные для практического применения;*

– *ОПК-5.2 Разрабатывает программное и информационное обеспечение компьютерных сетей, автоматизированных систем, сервисов, операционных систем и баз данных с учетом основных требований информационной безопасности.*

Место учебной дисциплины в структуре ОПОП: учебная дисциплина относится к обязательной части Блока 1 учебного плана.

Цели и задачи учебной дисциплины

Целями освоения учебной дисциплины являются: понимать принципы работы современных операционных систем, использовать их для решения задач профессио-

нальной деятельности, - научиться разрабатывать пакетные файлы и скрипты в различных операционных системах, пригодные для практического применения в вопросах администрирования операционных систем, - освоить основы функционирования наиболее распространенных операционных систем.

Задачи учебной дисциплины: ознакомление студентов с основными понятиями и фундаментальными принципами построения современных операционных систем; получение навыков по выбору и администрированию операционной системы, наилучшим образом удовлетворяющей решению задач в профессиональной деятельности; изучение вопросов управления процессами и потоками, организации файловых систем, взаимодействия с аппаратными ресурсами компьютера; разработка инфраструктуры компьютерных сетей с учетом требований информационной безопасности, удовлетворяющей указанным требованиям; получение навыков работы с пользовательским интерфейсом различных операционных систем.

Форма промежуточной аттестации – зачёт.

Б1.О.30 Компьютерные сети

Общая трудоёмкость дисциплины: 2 з.е.

Дисциплина направлена на формирование следующих компетенций и индикаторов их достижения:

– *ОПК-4 Способен понимать принципы работы современных информационных технологий и использовать их для решения задач профессиональной деятельности*

– *ОПК-4.2 Осуществляет выбор и применяет информационные технологии для решения задач профессиональной деятельности.*

– *ОПК-5 Способен разрабатывать алгоритмы и компьютерные программы, пригодные для практического применения*

– *ОПК-5.2 Разрабатывает программное и информационное обеспечение компьютерных сетей, автоматизированных систем, сервисов, операционных систем и баз данных с учетом основных требований информационной безопасности.*

Место учебной дисциплины в структуре ОПОП: учебная дисциплина относится к обязательной части Блока 1 учебного плана.

Цели и задачи учебной дисциплины

Целями освоения учебной дисциплины являются: формирование целостного представления о современных информационных технологиях и понимания принципов построения и работы современных телекоммуникационных и вычислительных систем; получение навыков разработки алгоритмов и компьютерных программ, пригодных для практического применения.

Задачи учебной дисциплины:

– изучение эталонных моделей, протоколов межсетевого взаимодействия, архитектуры современных и перспективных компьютерных сетей,

– получение знаний, позволяющих осуществлять выбор информационных технологий для решения задач профессиональной деятельности;

– получение умений и навыков, связанных с проектированием, развертыванием и администрированием сетей, разработкой информационного обеспечения компьютерных сетей с учетом основных требований информационной безопасности;

– приобретение опыта проведения диагностики неисправностей сетей, формулировки требований и составления перечня оборудования для развертывания сетей.

Форма промежуточной аттестации – зачёт.

Б1.О.31 Информационная безопасность и защита информации

Общая трудоёмкость дисциплины: 3 з.е.

Дисциплина направлена на формирование следующих компетенций и индикаторов их достижения:

- *ОПК-5 Способен разрабатывать алгоритмы и компьютерные программы, пригодные для практического применения;*
- *ОПК-5.2 Разрабатывает программное и информационное обеспечение компьютерных сетей, автоматизированных систем, сервисов, операционных систем и баз данных с учетом основных требований информационной безопасности;*
- *ОПК-5.3 Использует основные положения и концепции прикладного и системного программирования, современные языки программирования, технологии создания и эксплуатации программ и программных комплексов при решении задач профессиональной деятельности.*

Место учебной дисциплины в структуре ОПОП: учебная дисциплина относится к обязательной части Блока 1 учебного плана.

Цель изучения дисциплины

Целями освоения учебной дисциплины являются: формирование целостного представления об информационной безопасности и защите данных, получение теоретических и практических знаний, позволяющих осуществлять разработку алгоритмов и компьютерных программ с учетом основных требований информационной безопасности.

Задачи учебной дисциплины:

- изучение основ технологий обеспечения информационной безопасности;
- изучение методологий проектирования и реализации системы защиты информации, с учетом угроз, характерных для современных интернет/интранет-сетей;
- получение знаний и умений, необходимых для разработки программного и информационного обеспечения компьютерных сетей, автоматизированных систем, сервисов, операционных систем и баз данных с учетом основных требований информационной безопасности;
- получение знаний, необходимых для эксплуатации программ и программных комплексов в области информационной безопасности при решении задач профессиональной деятельности.

Форма промежуточной аттестации – зачёт.

Б1.О.32 Компьютерная графика

Общая трудоемкость дисциплины: 4 з.е.

Дисциплина направлена на формирование следующих компетенций и индикаторов их достижения:

- *ОПК-3 Способен применять и модифицировать математические модели для решения задач в области профессиональной деятельности;*
- *ОПК-3.1 Применяет современные технологии математического моделирования для решения задач в области профессиональной деятельности;*
- *ОПК-3.3 Применяет системы компьютерного моделирования для построения и анализа моделей при решении задач в области профессиональной деятельности;*
- *ОПК-5 Способен разрабатывать алгоритмы и компьютерные программы, пригодные для практического применения;*
- *ОПК-5.1 Применяет фундаментальные знания для реализации математических методов и алгоритмов при решении прикладной задачи; осуществляет сравнение точности, сходимости и других характеристик вычислительных алгоритмов.*

Место учебной дисциплины в структуре ОПОП: учебная дисциплина относится к обязательной части Блока 1 учебного плана.

Цели и задачи учебной дисциплины

Целями освоения учебной дисциплины являются: сформировать у обучающихся теоретические знания и практические навыки в области построения графических моделей и их использования для решения задач из области профессиональной деятельности.

Задачи учебной дисциплины:

- ознакомление с математическими основами компьютерной графики, математическими моделями объектов компьютерной графики, системами компьютерного моделирования;
- формирование навыков построения и исследования различных графических моделей, использующихся при решении задач в области профессиональной деятельности;
- формирование навыков разработки алгоритмов и компьютерных программ, реализующих геометрические преобразования и визуализацию различных графических моделей.

Форма(ы) промежуточной аттестации – экзамен.

Б1.О.33 Физика

Общая трудоёмкость дисциплины: 4 з.е.

Дисциплина направлена на формирование следующих компетенций и индикаторов их достижения:

- *ОПК-1 Способен применять фундаментальные знания, полученные в области математических и (или) естественных наук, и использовать их в профессиональной деятельности;*
- *ОПК-1.1 Демонстрирует знания, относящиеся к базовым дисциплинам математики, информатики и естественных наук;*
- *ОПК-3 Способен применять и модифицировать математические модели для решения задач в области профессиональной деятельности;*
- *ОПК-3.3 Применяет системы компьютерного моделирования для построения и анализа моделей при решении задач в области профессиональной деятельности.*

Место учебной дисциплины в структуре ОПОП: учебная дисциплина относится к обязательной части Блока 1 учебного плана.

Цели и задачи учебной дисциплины

Целями освоения учебной дисциплины являются: изучение фундаментальных понятий и законов классической механики, а также их приложения к современным задачам механики движения твердых тел и задачам мехатроники; изучение возможностей компьютерного моделирования для построения и анализа моделей движения твердого тела.

Задачи учебной дисциплины: научить студентов владеть фундаментальными знаниями классической механики и применять их для решения классических и современных прикладных задач механики и мехатроники, владеть навыками использования наиболее распространённых системы компьютерного моделирования для построения и анализа моделей при решении задач в области прикладной математики, механики и мехатроники.

Форма промежуточной аттестации – экзамен.

Б1.О.34 Экономика и финансовая грамотность

Общая трудоёмкость дисциплины: 2 з.е.

Дисциплина направлена на формирование следующих компетенций и индикаторов их достижения:

- *УК-9 Способен принимать обоснованные экономические решения в различных областях жизнедеятельности;*
- *УК-9.1 Понимает базовые принципы функционирования экономики;*

- *УК-9.2 Понимает основные виды государственной социально-экономической политики и их влияние на индивида;*
- *УК-9.3 Использует финансовые инструменты для управления личными финансами (личным бюджетом);*
- *УК-9.4 Применяет методы личного экономического и финансового планирования для достижения поставленных целей;*
- *УК-9.5 Контролирует собственные экономические и финансовые риски.*

Место учебной дисциплины в структуре ОПОП: учебная дисциплина относится к обязательной части Блока 1 учебного плана.

Цели и задачи учебной дисциплины

Целями освоения учебной дисциплины являются: формирование комплекса знаний, умений и навыков, обеспечивающих экономическую культуру, в том числе финансовую грамотность.

Задачи учебной дисциплины: ознакомление с базовыми экономическими понятиями, принципами функционирования экономики; предпосылками поведения экономических агентов, основами экономической политики и ее видов, основным финансовыми институтами, основными видами личных доходов и пр.; изучение основ страхования и пенсионной системы; овладение навыками пользования налоговыми и социальными льготами, формирования личных накоплений, пользования основными расчетными инструментами; выбора инструментов управления личными финансами.

Форма промежуточной аттестации – зачет с оценкой.

Б1.О.35 Основы российской государственности

Общая трудоемкость дисциплины 2 з.е.

Дисциплина направлена на формирование следующих компетенций и индикаторов их достижения:

УК-5 Способен воспринимать межкультурное разнообразие общества в социально-историческом, этическом и философском контекстах.

УК-5.4 Ориентируется в основных этапах развития истории и культуры России и ее достижениях, учитывает особенности российской цивилизации при взаимодействии с представителями различных культур, оценивая потенциальные вызовы и риски.

Место учебной дисциплины в структуре ОПОП: дисциплина «Основы российской государственности» относится к обязательной части Блока Б1.

Цели и задачи учебной дисциплины

Цели изучения дисциплины:

- формирование у обучающихся системы знаний, навыков и компетенций, а также ценностей, правил и норм поведения, связанных с осознанием принадлежности к российскому обществу, развитием чувства патриотизма и гражданственности;

- формирование духовно-нравственного и культурного фундамента личности, осознающей особенности исторического пути российского государства, самобытность его политической организации и сопряжение индивидуального достоинства и успеха с общественным прогрессом и политической стабильностью Родины.

Задачи учебной дисциплины:

- представить историю России в ее непрерывном цивилизационном измерении, отразить наиболее значимые особенности, принципы и константы;

- раскрыть ценностно-поведенческое содержание чувства гражданственности и патриотизма, неотделимого от развитого критического мышления, свободного развития личности и самостоятельности суждений об актуальном политико-культурном контексте;

- обозначить фундаментальные ценностные константы российской цивилизации (многообразие, суверенность, согласие, доверие, созидание), перспективные ценностные ориентиры российского цивилизационного развития (стабильность, миссия, ответственность, справедливость);

- исследовать наиболее вероятные внешние и внутренние вызовы, стоящие перед российской цивилизацией и ее государственностью в настоящий момент, обозначить ключевые сценарии перспективного развития;

- рассмотреть особенности современной политической организации российского общества, каузальную природу и специфику его актуальной трансформации, ценностное обеспечение традиционных институциональных решений и особую поливариантность взаимоотношений российского государства и общества в федеративном измерении;

- представить ключевые смыслы, этические и мировоззренческие доктрины, сложившиеся внутри российской цивилизации и отражающие ее многонациональный, многоконфессиональный и солидарный (общинный) характер.

Форма промежуточной аттестации – зачет.

Б1.В.01 Элективные дисциплины по физической культуре и спорту

Общая трудоемкость дисциплины: 328 академических часов

Реализация дисциплин направлена на овладение и закрепление обучающимися практических навыков по физической культуре и спорту, необходимых для формирования универсальной компетенции «УК-7» и её индикаторов:

УК-7 Способен поддерживать должный уровень физической подготовленности для обеспечения полноценной социальной и профессиональной деятельности.

- УК-7.4 Осуществляет выбор вида спорта или системы физических упражнений для физического самосовершенствования, развития профессионально важных психофизических качеств и способностей в соответствии со своими индивидуальными способностями и будущей профессиональной деятельностью.

- УК-7.5 Использует методику самоконтроля для определения уровня здоровья и физической подготовленности в соответствии с нормативными требованиями и условиями будущей профессиональной деятельности.

- УК-7.6 Приобретает личный опыт повышения двигательных и функциональных возможностей организма, обеспечивающий специальную физическую подготовленность в профессиональной деятельности.

Место учебной дисциплины в структуре ОПОП: относится к вариативной части блока Б1.

Цели и задачи учебной дисциплины.

Целями освоения учебной дисциплины являются:

- формирование физической культуры личности;
- приобретение способности целенаправленного использования средств физической культуры и спорта для сохранения и укрепления здоровья для обеспечения полноценной социальной и профессиональной деятельности.

Задачи учебной дисциплины:

- овладение методикой формирования и выполнения комплексов упражнений оздоровительной направленности для самостоятельных занятий, способами самоконтроля при выполнении физических нагрузок различного характера, рационального режима труда и отдыха;

- адаптация организма к воздействию умственных и физических нагрузок, а также расширение функциональных возможностей физиологических систем, повышение сопротивляемости защитных сил организма.

Форма(ы) промежуточной аттестации – зачет.

Б1.В.02 Анализ данных

Общая трудоёмкость дисциплины: 2 з.е.

Дисциплина направлена на формирование следующих компетенций и индикаторов их достижения:

- ПК-1 Способен проводить работы по обработке и анализу научно-технической информации и результатов исследований;

- ПК-1.1 Обеспечивает сбор, обработку, анализ и обобщение результатов экспериментов и исследований в соответствующей области знаний;

- ПК-3 Способен осуществить выполнение экспериментов и оформить результаты исследований и разработок;

- ПК-3.1. Проводит наблюдения и измерения, составляет их описание и формулирует выводы;
- ПК-3.2. Применяет при обработке данных стандартное и оригинальное программное обеспечение;
- ПК-3.3. Составляет отчеты (разделы отчетов) по теме или по результатам проведенных экспериментов.

Место учебной дисциплины в структуре ОПОП: учебная дисциплина относится к части, формируемой участниками образовательных отношений, Блока 1 учебного плана.

Цели и задачи учебной дисциплины

Целями освоения учебной дисциплины являются: формирование знаний о математическом аппарате анализа статистических данных различной природы и приобретение навыков в математическом моделировании процесса исследования, т.е. в искусстве формализации постановки реальной задачи, которое заключается в умении перевести задачу с языка проблемно-содержательного (экономического, социологического, медицинского, технического и т.п.) на язык абстрактных математических схем и моделей.

Задачи учебной дисциплины - формирование знаний, умений и навыков по следующим направлениям: способы организации выборок; методы проверки статистических гипотез; дисперсионный анализ; факторный анализ; методы классификации; дискриминантный анализ; деревья решений; анализ временных рядов, использование современного программного обеспечения для статистического анализа данных.

Форма промежуточной аттестации – зачёт.

Б1.В.03 Машинное обучение

Общая трудоёмкость дисциплины: 3 з.е.

Дисциплина направлена на формирование следующих компетенций и индикаторов их достижения:

- ПК-1 *Способен проводить работы по обработке и анализу научно-технической информации и результатов исследований;*
- ПК-1.2 *Анализирует научно-техническую информацию, касающуюся передового отечественного и зарубежного опыта решения задач в области профессиональной деятельности;*
- ПК-2 *Способен подготовить элементы документации, проекты планов и программы проведения отдельных этапов работ;*
- ПК-2.2 *Проводит эксперименты в соответствии с поставленными задачами по отдельным этапам работ;*
- ПК-3 *Способен осуществить выполнение экспериментов и оформить результаты исследований и разработок;*
- ПК-3.1 *Проводит наблюдения и измерения, составляет их описание и формулирует выводы;*
- ПК-3.2 *Применяет при обработке данных стандартное и оригинальное программное обеспечение.*

Место учебной дисциплины в структуре ОПОП: учебная дисциплина относится к части, формируемой участниками образовательных отношений, Блока 1 учебного плана.

Цели и задачи учебной дисциплины

Целями освоения учебной дисциплины являются: ознакомление обучающихся с процессами, алгоритмами и инструментами, относящимися к основным принципам машинного обучения.

Задачи курса:

- сформировать теоретические знания по основам машинного обучения для построения формальных математических моделей, анализа и обработки информации для решения задач в области профессиональной деятельности;
- выработать умения по практическому применению методов машинного обучения при решении прикладных задач в различных областях и проведению вычислительных экспериментов для оценки качества получаемых решений;
- выработать умения и навыки использования библиотек языка Python для разработки прикладного программного обеспечения на основе существующих алгоритмов машинного обучения.

Форма промежуточной аттестации – зачёт с оценкой.

Б1.В.04 Теория игр и исследование операций

Общая трудоёмкость дисциплины: 4 з.е.

Дисциплина направлена на формирование следующих компетенций и индикаторов их достижения:

- *ПК-2 Способен подготовить элементы документации, проекты планов и программы проведения отдельных этапов работ;*
- *ПК-2.1 Осуществляет планирование и готовит программы проведения отдельных этапов работ;*
- *ПК-3 Способен осуществить выполнение экспериментов и оформить результаты исследований и разработок;*
- *ПК-3.1 Проводит наблюдения и измерения, составляет их описание и формулирует выводы;*
- *ПК-3.2 Применяет при обработке данных стандартное и оригинальное программное обеспечение.*

Место учебной дисциплины в структуре ОПОП: учебная дисциплина относится к части, формируемой участниками образовательных отношений, Блока 1 учебного плана.

Цели и задачи учебной дисциплины

Целями освоения учебной дисциплины являются: изучение технологий обработки информации, основанной на теории игр и исследовании операций, умение исследовать пространство возможных решений с использованием игровых алгоритмов и находить оптимальное решение.

Задачи учебной дисциплины:

- овладение основными понятиями и приемами построения математических моделей исследования операций;
- углубление знаний по основным классам задач исследования операций и методами их решения;
- получение навыков по построению моделей и применению методов и алгоритмов решения задач исследования операций.

Форма промежуточной аттестации – экзамен.

Б1.В.05 Математические основы компьютерных вычислений

Общая трудоемкость дисциплины: 3 з.е.

Дисциплина направлена на формирование следующих компетенций и индикаторов их достижения:

- *ПК-4 Способен применять методы вычислительной математики, компьютерного моделирования и оптимизации для организации вычислительных процессов;*
- *ПК-4.1 Осуществляет формализацию прикладной задачи и выбирает методы вычислительной математики для ее решения;*

– ПК-5 Способен осуществлять анализ и выбор современных технологий реализации отдельных функций вычислительных систем и сервисов информационных технологий, применяемых для их создания;

– ПК-5.1 Реализует численные методы решения прикладных задач в профессиональной сфере;

– ПК-5.3 Осуществляет выбор современных технологий и методик выполнения работ по реализации отдельных функций информационных систем.

Место учебной дисциплины в структуре ОПОП: учебная дисциплина относится к части, формируемой участниками образовательных отношений, Блока 1 учебного плана.

Цели и задачи учебной дисциплины

Целями освоения учебной дисциплины являются: ознакомить обучающихся с математическими основами компьютерных вычислений и способами их использования для повышения точности и оптимизации вычислительного процесса.

Задачи учебной дисциплины:

ознакомление с проблемами организации вычислительного процесса и путями повышения его эффективности на основе методов вычислительной математики и компьютерного моделирования;

формирование навыков анализа и выбора современных технологий для организации вычислительного процесса и повышения точности вычислений.

Форма(ы) промежуточной аттестации – экзамен.

Б1.В.06 Мягкие вычисления

Общая трудоемкость дисциплины: 4 з.е.

Дисциплина направлена на формирование следующих компетенций и индикаторов их достижения:

– ПК-2 Способен подготовить элементы документации, проекты планов и программы проведения отдельных этапов работ;

– ПК-2.1 Осуществляет планирование и готовит программы проведения отдельных этапов работ;

– ПК-3 Способен осуществить выполнение экспериментов и оформить результаты исследований и разработок;

– ПК-3.1 Проводит наблюдения и измерения, составляет их описание и формулирует выводы;

– ПК-5 Способен осуществлять анализ и выбор современных технологий реализации отдельных функций вычислительных систем и сервисов информационных технологий, применяемых для их создания;

– ПК-5.2 Применяет современные методы обработки различных типов информации для реализации отдельных функций и сервисов.

Место учебной дисциплины в структуре ОПОП: учебная дисциплина относится к части, формируемой участниками образовательных отношений, Блока 1 учебного плана.

Цели и задачи учебной дисциплины

Целями освоения учебной дисциплины являются: ознакомить обучающихся с подходами к представлению и обработке приближенной информации при решении прикладных задач в условиях неопределенности и способами их реализации при проектировании отдельных функций вычислительных систем и информационных систем различного назначения.

Задачи учебной дисциплины:

– ознакомление с подходами к представлению и обработке приближенной (интервальной, нечеткой, лингвистической) информации в прикладных задачах, решаемых в условиях неопределенности;

- формирование навыков проведения и организации исследовательской деятельности при формализации неопределенности, выбор и обоснование подходящих методов для обработки приближенной и качественной информации;

- развитие навыков анализа современных методов обработки информации для реализации отдельных функций и сервисов информационных систем, а также информационных систем различного назначения с использованием научных и научно-технических публикаций.

Форма(ы) промежуточной аттестации – экзамен

Б1.В.07 Структурное моделирование вычислительных систем

Общая трудоемкость дисциплины: 3 з.е.

Дисциплина направлена на формирование следующих компетенций и индикаторов их достижения:

- *ПК-4 Способен применять методы вычислительной математики, компьютерного моделирования и оптимизации для организации вычислительных процессов;*

- *ПК-4.2 Анализирует альтернативные варианты организации (или архитектурных решений) вычислительного процесса на основе методов структурного моделирования;*

- *ПК-5 Способен осуществлять анализ и выбор современных технологий реализации отдельных функций вычислительных систем и сервисов информационных технологий, применяемых для их создания;*

- *ПК-5.3 Осуществляет выбор современных технологий и методик выполнения работ по реализации отдельных функций информационных систем;*

- *ПК-6 Способен разрабатывать прототипы ИС на базе типовой ИС;*

- *ПК-6.3 Осуществляет принятие решения о пригодности архитектуры.*

Место учебной дисциплины в структуре ОПОП: учебная дисциплина относится к части, формируемой участниками образовательных отношений, Блока 1 учебного плана.

Цели и задачи учебной дисциплины

Целями освоения учебной дисциплины являются: ознакомить обучающихся с подходами и методиками структурного моделирования, которые используются при принятии решения относительно архитектуры вычислительных систем или организации вычислительного процесса.

Задачи учебной дисциплины:

- изучение алгоритмов теории графов как основы структурного моделирования, анализа и оптимизации структурированных объектов;

- обзор основных архитектур вычислительных систем и подходов к их моделированию и оптимизации;

- ознакомление с критериями пригодности при принятии решений об архитектуре вычислительной системы.

Форма(ы) промежуточной аттестации – экзамен.

Б1.В.08 Вычислительные алгоритмы решения прикладных граничных задач

Общая трудоемкость дисциплины: 2 з.е.

Дисциплина направлена на формирование следующих компетенций и индикаторов их достижения:

- *ПК-4 Способен применять методы вычислительной математики, компьютерного моделирования и оптимизации для организации вычислительных процессов;*

- *ПК-4.1 Осуществляет формализацию прикладной задачи и выбирает методы вычислительной математики для ее решения;*

– ПК-5 Способен осуществлять анализ и выбор современных технологий реализации отдельных функций вычислительных систем и сервисов информационных технологий, применяемых для их создания;

– ПК-5.1 Реализует численные методы решения прикладных задач в профессиональной сфере;

– ПК-6 Способен разрабатывать прототипы ИС на базе типовой ИС;

– ПК-6.1 Проводит анализ результатов тестирования.

Место учебной дисциплины в структуре ОПОП: учебная дисциплина относится к части, формируемой участниками образовательных отношений, Блока 1 учебного плана.

Цели и задачи учебной дисциплины

Целями освоения учебной дисциплины являются: ознакомить обучающихся с основными классами прикладных граничных задач из области профессиональной деятельности и методами их решения.

Задачи учебной дисциплины:

– обзор основных классов прикладных граничных задач и особенности их реализации при организации вычислительных процессов;

– ознакомление с численными методами, которые используются для решения прикладных граничных задач;

– проведение вычислительных экспериментов для тестирования методов решения прикладных граничных задач.

Форма(ы) промежуточной аттестации – зачет.

Б1.В.09 Планирование и оптимизация вычислительных процессов

Общая трудоемкость дисциплины: 3 з.е.

Дисциплина направлена на формирование следующих компетенций и индикаторов их достижения:

– ПК-4 Способен применять методы вычислительной математики, компьютерного моделирования и оптимизации для организации вычислительных процессов.

– ПК-4.3 Осуществляет планирование различных процессов на основе оптимизационных и имитационных моделей;

– ПК-6 Способен разрабатывать прототипы ИС на базе типовой ИС;

– ПК-6.2 Осуществляет кодирование на языках программирования в том числе, с использованием методов параллельной и распределенной обработки данных;

– ПК-6.3 Осуществляет принятие решения о пригодности архитектуры.

Место учебной дисциплины в структуре ОПОП: учебная дисциплина относится к части, формируемой участниками образовательных отношений, Блока 1 учебного плана.

Цели и задачи учебной дисциплины

Целями освоения учебной дисциплины являются: ознакомить обучающихся с подходами к планированию и оптимизации вычислительных процессов на основе оптимизационных и имитационных моделей, принципов параллельной и распределенной обработки данных.

Задачи учебной дисциплины:

– изучение алгоритмов планирования операций как основы планирования вычислений;

– анализ процессов планирования и оптимизации вычислительных процессов и выбор соответствующих методов с учетом специфики данных процессов в вычислительной системе;

– формирование навыков использования методов параллельной и распределенной обработки данных, методов принятия решений о пригодности архитектуры для оптимизации вычислительного процесса.

Форма(ы) промежуточной аттестации – зачет с оценкой.

Б1.В.10 Основы параллельного программирования

Общая трудоёмкость дисциплины: 2 з.е.

Дисциплина направлена на формирование следующих компетенций и индикаторов их достижения:

- *ПК-3 Способен осуществить выполнение экспериментов и оформить результаты исследований и разработок;*
- *ПК-3.2. Применяет при обработке данных стандартное и оригинальное программное обеспечение.*

Место учебной дисциплины в структуре ОПОП: учебная дисциплина относится к части, формируемой участниками образовательных отношений, Блока 1 учебного плана.

Цели и задачи учебной дисциплины

Целями освоения учебной дисциплины являются: освоение базовых знаний по вопросам организации параллельных вычислительных систем, а также основных технологий организации параллельных вычислений в системах с распределенной или общей оперативной памятью.

Задачи учебной дисциплины:

- знакомство с основными направлениями в области организации параллельных вычислений;
 - знакомство с технологиями параллельного программирования на языке C++;
 - приобретение навыков параллельного программирования.
- Форма промежуточной аттестации – зачёт.

Б1.В.ДВ.01.01 Математическая логика и теория алгоритмов

Общая трудоёмкость дисциплины: 3 з.е.

Дисциплина направлена на формирование следующих компетенций и индикаторов их достижения:

- *ПК-2 Способен подготовить элементы документации, проекты планов и программы проведения отдельных этапов работ;*
- *ПК-2.1 Осуществляет планирование и готовит программы проведения отдельных этапов работ.*

Место учебной дисциплины в структуре ОПОП: учебная дисциплина относится к части, формируемой участниками образовательных отношений, Блока 1 учебного плана и является дисциплиной по выбору.

Цели и задачи учебной дисциплины

Целями освоения учебной дисциплины являются: сформировать у обучающихся навыки проведения исследований по тематике основных разделов математической логики и теории алгоритмов и подготовки проектов планов и программ проведения отдельных этапов работ.

Задачи учебной дисциплины:

- изучение основных разделов математической логики и теории алгоритмов;
 - формирование навыков построения и исследования систем логического вывода;
 - формирование навыков планирования исследований и подготовки документации по тематике основных разделов математической логики и теории алгоритмов.
- Форма(ы) промежуточной аттестации – зачет с оценкой.

Б1.В.ДВ.01.02 Математические основы анализа сложности алгоритмов

Общая трудоёмкость дисциплины: 3 з.е.

Дисциплина направлена на формирование следующих компетенций и индикаторов их достижения:

– ПК-2 Способен подготовить элементы документации, проекты планов и программы проведения отдельных этапов работ;

– ПК-2.1 Осуществляет планирование и готовит программы проведения отдельных этапов работ.

Место учебной дисциплины в структуре ОПОП: учебная дисциплина относится к части, формируемой участниками образовательных отношений, Блока 1 учебного плана и является дисциплиной по выбору.

Цели и задачи учебной дисциплины

Целями освоения учебной дисциплины являются: изучение классификации алгоритмических задач и алгоритмов, основанной на их сложности, ознакомление с современными методами исследования алгоритмов и оценки их алгоритмической сложности, формирование способности осуществлять анализ и выбор современных технологий реализации отдельных функций и сервисов информационных технологий, применяемых для их создания.

Задачи учебной дисциплины:

- приобретение студентами необходимых знаний из теории алгоритмов;
- ознакомление студентов с типичными методами разработки эффективных алгоритмов и с эффективными алгоритмами решения задач из важнейших разделов математики и программирования;
- развитие у студентов умения оценивать сложность готовых алгоритмов и задач и конструировать собственные эффективные алгоритмы;
- знакомство с типичными NP-полными задачами, для которых неизвестны эффективные алгоритмы;
- развитие у студентов умения выявлять информационные потребности и разрабатывать требования к программному обеспечению; проводить сравнительный анализ и выбор информационно-коммуникационных технологий для решения прикладных задач.

Форма промежуточной аттестации – зачет с оценкой.

Б1.В.ДВ.02.01 Программирование на языке Java

Общая трудоёмкость дисциплины: 3 з.е.

Дисциплина направлена на формирование следующих компетенций и индикаторов их достижения:

– ПК-3 Способен осуществить выполнение экспериментов и оформить результаты исследований и разработок;

– ПК-3.2 Применяет при обработке данных стандартное и оригинальное программное обеспечение.

Место учебной дисциплины в структуре ОПОП: учебная дисциплина относится к части, формируемой участниками образовательных отношений, Блока 1 учебного плана и является дисциплиной по выбору.

Цели и задачи учебной дисциплины

Целями освоения учебной дисциплины являются: изучение языка программирования и платформы Java; освоение методики построения объектно-ориентированных программ; приобретение навыков разработки объектно-ориентированных программ для решения различных прикладных задач.

Задачи учебной дисциплины: изучение языка программирования и платформы Java; углубленное изучение методов и инструментальных средств объектно-ориентированного программирования; знакомство с библиотеками классов, широко используемых при создании прикладных программ.

Форма промежуточной аттестации – зачёт с оценкой.

Б1.В.ДВ.02.02 Программирование на языке C#

Общая трудоёмкость дисциплины: 3 з.е.

Дисциплина направлена на формирование следующих компетенций и индикаторов их достижения:

- ПК-3 Способен осуществить выполнение экспериментов и оформить результаты исследований и разработок;
- ПК-3.2 Применяет при обработке данных стандартное и оригинальное программное обеспечение.

Место учебной дисциплины в структуре ОПОП: учебная дисциплина относится к части, формируемой участниками образовательных отношений, Блока 1 учебного плана и является дисциплиной по выбору.

Цели и задачи учебной дисциплины

Целями освоения учебной дисциплины являются: ознакомить студентов с основными технологиями стека .NET и правилами их использования.

Задачи учебной дисциплины: овладение методами программирования в конкретной среде разработки программных приложений, способами создания высокоэффективных приложений, взаимодействующих с БД, внешними сервисами и поставщиками данных; овладение технологиями проектирования и реализации современных web-приложений.

Форма промежуточной аттестации – зачёт с оценкой.

Б1.В.ДВ.02.03 Правовые и организационные основы добровольческой (волонтерской) деятельности

Общая трудоемкость дисциплины 2 з.е.

Дисциплина направлена на формирование следующих компетенций и индикаторов их достижения:

УК-3 Способен осуществлять социальное взаимодействие и реализовывать свою роль в команде.

- УК-3.2 Выбирает эффективные способы организации социального взаимодействия и распределения ролей в команде

Место учебной дисциплины в структуре ОПОП: дисциплина «Правовые и организационные основы добровольческой (волонтерской) деятельности» относится к Блоку Б.1 «Дисциплины (модули)», часть, формируемая участниками образовательных отношений.

Цели и задачи учебной дисциплины

Цели изучения дисциплины:

освоение обучающимися ключевых понятий и базовых компонентов добровольческой (волонтерской) деятельности, их взаимодействия с НКО.

Задачи учебной дисциплины:

- сформировать основы понимания социальных, управленческих, педагогических аспектов добровольческой (волонтерской) деятельности и функционирования социально-ориентированными НКО в структуре российского гражданского общества;

- расширить теоретические и практические знания в области организации добровольческой (волонтерской) деятельности, а также эффективного взаимодействия с социально-ориентированными НКО;

- сформировать навыки самостоятельного решения профессиональных задач в области содействия развитию волонтерства.

Форма промежуточной аттестации – зачет.

Б1.В.ДВ.03.01 Объектно-ориентированный анализ и проектирование

Общая трудоёмкость дисциплины: 2 з.е.

Дисциплина направлена на формирование следующих компетенций и индикаторов их достижения:

- ПК-3 Способен осуществить выполнение экспериментов и оформить результаты исследований и разработок;

– *ПК-3.2 Применяет при обработке данных стандартное и оригинальное программное обеспечение.*

Место учебной дисциплины в структуре ОПОП: учебная дисциплина относится к части, формируемой участниками образовательных отношений, Блока 1 учебного плана и является дисциплиной по выбору.

Цели и задачи учебной дисциплины

Целями освоения учебной дисциплины являются: формирование у студентов систематизированных знаний в области объектно-ориентированного проектирования и практических навыков оформления результатов в виде UML-диаграмм.

Задачи учебной дисциплины: формирование у студентов представления об объектно-ориентированном подходе к проектированию и разработке программного обеспечения с использованием различных современных сред и языков программирования.

Форма промежуточной аттестации – зачёт.

Б1.В.ДВ.03.02 Конструирование и проектирование в пакетах инженерного анализа

Общая трудоёмкость дисциплины: 2 з.е.

Дисциплина направлена на формирование следующих компетенций и индикаторов их достижения:

– *ПК-3 Способен осуществить выполнение экспериментов и оформить результаты исследований и разработок;*

– *ПК-3.2 Применяет при обработке данных стандартное и оригинальное программное обеспечение.*

Место учебной дисциплины в структуре ОПОП: учебная дисциплина относится к части, формируемой участниками образовательных отношений, Блока 1 учебного плана и является дисциплиной по выбору.

Цели и задачи учебной дисциплины

Целями освоения учебной дисциплины являются: обучение студентов методам использования современных компьютерных пакетов для построения геометрических моделей; получение студентами необходимых знаний для построения в дальнейшем конечно-элементных сеток и их приложения к современным задачам.

Задачи учебной дисциплины: ознакомление студентов с методами построения геометрических моделей с помощью современных компьютерных пакетов.

Форма промежуточной аттестации – зачёт.

Б1.В.ДВ.03.03 Корпоративные информационные системы

Общая трудоёмкость дисциплины: 2 з.е.

Дисциплина направлена на формирование следующих компетенций и индикаторов их достижения:

– *ПК-3 Способен осуществить выполнение экспериментов и оформить результаты исследований и разработок;*

– *ПК-3.2 Применяет при обработке данных стандартное и оригинальное программное обеспечение.*

Место учебной дисциплины в структуре ОПОП: учебная дисциплина относится к части, формируемой участниками образовательных отношений, Блока 1 учебного плана и является дисциплиной по выбору.

Цели и задачи учебной дисциплины

Целями освоения учебной дисциплины являются: получение теоретических и практических знаний в области корпоративных информационных систем, осуществление выполнения экспериментов и оформлять результаты исследований и разработок, в том числе относительно архитектуры различных типов корпоративных информационных систем, администрирования файловых систем и системного программного обеспечения инфо-коммуникационной системы.

Задачи изучения дисциплины:

- ознакомление с современными и перспективными архитектурами корпоративных информационных систем;
- изучение стандартного и оригинального программного обеспечения используемого для обработки данных;
- приобретение навыков планирования научно-исследовательских работ;
- приобретение навыков поиска информации, необходимой для выполнения профессиональных задач, в том числе, подготовки и решения задач с использованием различных типов корпоративных информационных систем;
- получение опыта по планированию структур каталогов (директорий), пользователей и групп пользователей, использования процедур защиты информации и процедур регистрации пользователей, инсталляций файл-сервера и программного обеспечения рабочих станций.

Форма промежуточной аттестации – зачёт.

Б1.В.ДВ.03.04 Технология параллельного программирования

Общая трудоёмкость дисциплины: 2 з.е.

Дисциплина направлена на формирование следующих компетенций и индикаторов их достижения:

- *ПК-3 Способен осуществить выполнение экспериментов и оформить результаты исследований и разработок;*
- *ПК-3.2 Применяет при обработке данных стандартное и оригинальное программное обеспечение.*

Место учебной дисциплины в структуре ОПОП: учебная дисциплина относится к части, формируемой участниками образовательных отношений, Блока 1 учебного плана и является дисциплиной по выбору.

Цели и задачи учебной дисциплины

Целями освоения учебной дисциплины являются: знакомство с современными технологиями высокопроизводительных вычислений и умение оценивать применимость и эффективность различных параллельных технологий и алгоритмов для решения ресурсоемких вычислительных задач.

Задачи изучения дисциплины:

- получение знаний в области архитектуры современных многопроцессорных вычислительных систем,
 - получение практических навыков параллельной обработки информации с использованием технологий организации параллельных вычислений на многопроцессорных вычислительных комплексах с разделенной или общей оперативной памятью.
- Форма промежуточной аттестации – зачёт.

Б1.В.ДВ.04.01 Теория массового обслуживания

Общая трудоёмкость дисциплины: 2 з.е.

Дисциплина направлена на формирование следующих компетенций и индикаторов их достижения:

- *ПК-3 Способен осуществить выполнение экспериментов и оформить результаты исследований и разработок;*
- *ПК-3.3 Составляет отчеты (разделы отчетов) по теме или по результатам проведенных экспериментов.*

Место учебной дисциплины в структуре ОПОП: учебная дисциплина относится к части, формируемой участниками образовательных отношений, Блока 1 учебного плана и является дисциплиной по выбору.

Цели и задачи учебной дисциплины

Целями освоения учебной дисциплины являются: получение теоретических и практических знаний, позволяющих осуществлять выполнение экспериментов и

оформлять результаты исследований по теории вероятностей, при построении и анализе вероятностно-статистических моделей, учитывающих случайные факторы.

Задачи учебной дисциплины:

- получение представления о современных методах и средствах моделирования систем массового обслуживания;
- изучение и освоение основных теоретических методов и приемов исследования систем массового обслуживания (МО);
- получение знаний по теории и практике моделирования СМО, в том числе определению их операционных характеристик;
- приобретение опыта составления отчетов и отдельных разделов по тематике исследований (экспериментов, решения практических задач).

Форма промежуточной аттестации – зачёт.

Б1.В.ДВ.04.02 Теория автоматического управления

Общая трудоёмкость дисциплины: 2 з.е.

Дисциплина направлена на формирование следующих компетенций и индикаторов их достижения:

- *ПК-3 Способен осуществить выполнение экспериментов и оформить результаты исследований и разработок;*
- *ПК-3.3 Составляет отчеты (разделы отчетов) по теме или по результатам проведенных экспериментов.*

Место учебной дисциплины в структуре ОПОП: учебная дисциплина относится к части, формируемой участниками образовательных отношений, Блока 1 учебного плана и является дисциплиной по выбору.

Цели и задачи учебной дисциплины:

Целями освоения учебной дисциплины являются: формирование целостного представления о системах автоматического управления (САУ) и математического аппарата анализа и синтеза САУ, позволяющего понимать направления развития современной теории управления и применять их в профессиональной деятельности, а также планировать, осуществлять выполнение и документальное оформление экспериментов (исследований, тестирований) в данной сфере.

Задачи учебной дисциплины:

- изучение принципов построения систем автоматического управления и их отдельных элементов;
- изучение основных методов анализа САУ во временной и частотных областях, способов синтеза САУ;
- освоение и практическое использование типовых пакетов прикладных программ анализа динамических систем, в том числе для оформления отчетов (разделов отчетов) по результатам проведенных экспериментов (исследований, тестирований).

Форма промежуточной аттестации – зачёт.

Б1.В.ДВ.05.01 Введение в стохастический анализ

Общая трудоёмкость дисциплины: 2 з.е.

Дисциплина направлена на формирование следующих компетенций и индикаторов их достижения:

- *ПК-3 Способен осуществить выполнение экспериментов и оформить результаты исследований и разработок;*
- *ПК-3.3. Составляет отчеты (разделы отчетов) по теме или по результатам проведенных экспериментов.*

Место учебной дисциплины в структуре ОПОП: учебная дисциплина относится к части, формируемой участниками образовательных отношений, Блока 1 учебного плана и является дисциплиной по выбору.

Цели и задачи учебной дисциплины

Форма промежуточной аттестации – зачёт с оценкой.

Б1.В.ДВ.05.02 Теория динамического хаоса

Общая трудоёмкость дисциплины: 2 з.е.

Дисциплина направлена на формирование следующих компетенций и индикаторов их достижения:

– *ПК-3 Способен осуществить выполнение экспериментов и оформить результаты исследований и разработок;*

– *ПК-3.3. Составляет отчеты (разделы отчетов) по теме или по результатам проведенных экспериментов.*

Место учебной дисциплины в структуре ОПОП: учебная дисциплина относится к части, формируемой участниками образовательных отношений, Блока 1 учебного плана и является дисциплиной по выбору.

Цели и задачи учебной дисциплины

Форма промежуточной аттестации – зачёт с оценкой.

ФТД.01 Архитектура распределенных вычислительных систем

Общая трудоемкость дисциплины: 1 з.е.

Дисциплина направлена на формирование следующих компетенций и индикаторов их достижения:

– *ПК-5 Способен осуществлять анализ и выбор современных технологий реализации отдельных функций вычислительных систем и сервисов информационных технологий, применяемых для их создания;*

– *ПК-5.3 Осуществляет выбор современных технологий и методик выполнения работ по реализации отдельных функций информационных систем.*

Место учебной дисциплины в структуре ОПОП: факультатив.

Цели и задачи учебной дисциплины

Целями освоения учебной дисциплины являются: ознакомить обучающихся с подходами к организации вычислительных процессов и классами архитектур распределенных вычислительных систем.

Задачи учебной дисциплины:

– обзор методов параллельной и распределенной обработки данных, влияющих на архитектуру вычислительной системы;

– обзор архитектурных решений для вычислительных систем;

– обзор критериев для оценки пригодности архитектуры для оптимизации вычислительного процесса.

Форма(ы) промежуточной аттестации – зачет.

ФТД.02 Системы компьютерной математики

Общая трудоёмкость дисциплины: 1 з.е.

Дисциплина направлена на формирование следующих компетенций и индикаторов их достижения:

– *ПК-2 Способен подготовить элементы документации, проекты планов и программы проведения отдельных этапов работ;*

– *ПК-2.1 Осуществляет планирование и готовит программы проведения отдельных этапов работ.*

Место учебной дисциплины в структуре ОПОП: учебная дисциплина является факультативом.

Цели и задачи учебной дисциплины

Целями освоения учебной дисциплины являются: формирование навыков использования систем компьютерной математики при проведении исследовательских работ по тематике профессиональных задач.

Задачи учебной дисциплины:

- ознакомление обучающихся с основными программными, инструментальными и вычислительными средствами для решения математических задач;
 - формирование у обучающихся навыков планирования исследований с использованием основных программных, инструментальных и вычислительных средств для решения математических задач и подготовки соответствующих отчетов.
- Форма промежуточной аттестации – зачёт.

Аннотации программ учебной и производственной практик

Б2.О.01(У) Учебная практика, ознакомительная

Общая трудоемкость практики 3 з.е.

Практика направлена на формирование следующих компетенций с указанием кодов индикаторов их достижения:

ОПК-1 Способен применять фундаментальные знания, полученные в области математических и (или) естественных наук, и использовать их в профессиональной деятельности (ОПК-1.1, ОПК-1.2, ОПК-1.3);

ОПК-2 Способен использовать и адаптировать существующие математические методы и системы программирования для разработки и реализации алгоритмов решения прикладных задач (ОПК-2.2).

Место практики в структуре ОПОП: практика относится к обязательной части Блока 2 учебного плана.

Целями учебной практики являются: получение первичных профессиональных умений и навыков, в том числе первичных умений и навыков научно-исследовательской деятельности. В результате ознакомительной практики студент получает информацию для правильного выбора в будущем своих конкретных профессиональных интересов и приоритетов. Практика направлена на закрепление, расширение, углубление и систематизацию знаний.

Задачами учебной практики являются: ознакомление с различными видами производственной деятельности; изучение языков программирования, информационных технологий и систем, применяемых на производстве; получение навыков практической работы на оборудовании и с информационными системами организации.

Тип практики: учебная ознакомительная

Способ проведения практики: стационарная.

Форма проведения практики: непрерывная.

Разделы (этапы) практики: организационный, подготовительный, научно-исследовательский и/или производственный, заключительный (информационно-аналитический), отчетный.

Форма промежуточной аттестации – зачет с оценкой.

Б2.О.02(У) Учебная практика, проектная

Общая трудоемкость практики 3 з.е.

Практика направлена на формирование следующих компетенций с указанием кодов индикаторов их достижения:

ОПК-3 Способен применять и модифицировать математические модели для решения задач в области профессиональной деятельности (ОПК-3.1, ОПК-3.2);

ОПК-4 Способен решать задачи профессиональной деятельности с использованием существующих информационно-коммуникационных технологий и с учетом основных требований информационной безопасности (ОПК-4.1).

Место практики в структуре ОПОП: практика относится к обязательной части Блока 2 учебного плана.

Целями учебной практики являются: получение опыта работы в проектах в составе команд, разрабатывающих программные системы, закрепить и освоить навыки решения задач профессиональной деятельности с использованием существующих информационно-коммуникационных технологий и с учетом основных требований информационной безопасности.

Задачами учебной практики являются: изучение методологии индустриального проектирования информационных систем, правила определения требований к системе, состав показателей оценки и выбора проектных решений, методики, методы и средства управления процессами проектирования; научиться использовать способы

формализации процессов проектирования, выполнять выбор средств и методов проектирования отдельных компонент проекта и использовать их при выполнении конкретных работ, разрабатывать компоненты информационного, программного, технического и технологического обеспечений, включая описание и создание нормативно-справочной, оперативной информации и результатных данных, разработку человеко-машинного интерфейса, написание пользовательской документации, применять типовые проектные решения и пакеты прикладных программ в зависимости от условий задачи, проводить оценку внедрения проекта и осуществлять анализ функционирования и нужд модернизации систем, разрабатывать планы выполнения проектных работ.

Тип практики: учебная проектная

Способ проведения практики: стационарная.

Форма проведения практики: непрерывная.

Разделы (этапы) практики: организационный, подготовительный, научно-исследовательский и/или производственный, заключительный (информационно-аналитический), отчетный

Форма промежуточной аттестации – зачет с оценкой.

Б2.О.03(П) Производственная практика, научно-исследовательская работа

Общая трудоёмкость практики: 6 з.е.

Практика направлена на формирование следующих компетенций и индикаторов их достижения:

ОПК-2 Способен использовать и адаптировать существующие математические методы и системы программирования для разработки и реализации алгоритмов решения прикладных задач (ОПК-2.1, ОПК-2.2);

ОПК-3 Способен применять и модифицировать математические модели для решения задач в области профессиональной деятельности (ОПК-3.1, ОПК-3.2, ОПК-3.3);

ПК-1 Способен проводить работы по обработке и анализу научно-технической информации и результатов исследований (ПК-1.1, ПК-1.2).

Место практики в структуре ОПОП: практика относится к обязательной части Блока 2 учебного плана.

Целями производственной практики являются: приобретение студентами практических умений и опыта в сфере научно-исследовательской деятельности; подбор, обработка и анализ необходимой научно-технической информации для выполнения научно-исследовательской и выпускной квалификационной работы (бакалаврской работы); формирование у выпускников способности и готовности к выполнению профессиональных задач в организациях, занимающихся научными исследованиями и инновационной деятельностью; использование и адаптация существующих математических методов и систем программирования для разработки и реализации алгоритмов решения прикладных задач; применение и модификация математических моделей для решения задач в области профессиональной деятельности.

Задачами производственной практики являются:

– воспитание устойчивого интереса к профессии, убежденности в правильности ее выбора;

– развитие у студентов потребности в самообразовании и самосовершенствовании профессиональных знаний и умения;

– получение навыков по научно-исследовательской деятельности в области: изучения новых научных результатов, научной литературы или научно-исследовательских проектов в соответствии с профилем объекта профессиональной деятельности, изучения информационных систем методами математического прогнозирования и системного анализа, изучения больших систем современными методами высокопроизводительных вычислительных технологий, применение современных супер-

компьютеров в проводимых исследованиях, исследования и разработка математических моделей, алгоритмов, методов, программного обеспечения, инструментальных средств по тематике проводимых научно-исследовательских проектов, составления научных обзоров, рефератов и библиографии по тематике проводимых исследований;

- подготовки научных и научно-технических публикаций.
- применение в написании выпускной квалификационной (бакалаврской) работы навыков, полученных в ходе прохождения практики;
- формирование умений и навыков адаптации методов решения прикладной задачи; реализации математических методов и алгоритмов в форме компьютерных программ для проведения вычислительного эксперимента;
- формирование навыков сравнения систем программирования для обоснования выбора программной среды для разработки компонентов программного обеспечения;
- формирование практических навыков применения современных технологий математического и компьютерного моделирования для решения задач в области профессиональной деятельности;
- формирование практических навыков выделения основных направлений модификации математической модели, на основе требований к решению конкретной прикладной задачи, а также навыков оценки качества модели;
- формирование практических навыков сбора, обработки, анализа и обобщения результатов экспериментов и исследований в соответствующей области знаний;
- формирование навыков анализа научно-технической информации, касающейся передового отечественного и зарубежного опыта решения задач в области профессиональной деятельности.

Тип практики: производственная, научно-исследовательская работа.

Способ проведения практики: стационарная.

Форма проведения практики: дискретная.

Разделы (этапы) практики: организационно-подготовительный (участие в установочном собрании по практике; подготовка документов, подтверждающих факт направления на практику; выбор темы исследования; получение задания от руководителя практики; производственный инструктаж; инструктаж по технике безопасности); аналитический (сбор, обработка и систематизация практического материала для выполнения задания по практике; анализ собранных материалов; выполнение производственных заданий; участие в решении конкретных профессиональных задач; обсуждение с руководителем проделанной части работы); отчетный (подготовка отчетной документации, защита отчета).

Форма промежуточной аттестации – зачет с оценкой.

Б2.В.01(У) Учебная практика, технологическая

Общая трудоемкость практики 3 з.е.

Практика направлена на формирование следующих компетенций с указанием кодов индикаторов их достижения:

ПК-2 Способен подготовить элементы документации, проекты планов и программы проведения отдельных этапов работ (ПК-2.1, ПК-2.2);

ПК-5 Способен осуществлять анализ и выбор современных технологий реализации отдельных функций вычислительных систем и сервисов информационных технологий, применяемых для их создания (ПК-5.1, ПК-5.2, ПК-5.3).

Место практики в структуре ОПОП: практика относится к части, формируемой участниками образовательных отношений, Блока 2 учебного плана.

Целями учебной практики являются: изучение технологий разработки программного обеспечения, используемых в компаниях ИТ-индустрии, приобретение студентами знаний, умений и навыков работы в инструментальных средах, необходимых для

профессиональной деятельности.

Задачами учебной практики являются:

- закрепление и освоение навыков решения задач профессиональной деятельности с использованием существующих информационно-коммуникационных технологий и с учетом основных требований информационной безопасности;
- изучение методов создания и исследования новых практик ориентированных математических моделей с учетом возможностей современных информационных технологий, программирования и компьютерной техники;
- закрепление и освоение технологии обработки и анализа данных.

Тип практики: учебная технологическая

Способ проведения практики: стационарная.

Форма проведения практики: непрерывная.

Разделы (этапы) практики: организационный, подготовительный, основной (научно-исследовательский и/или производственный), заключительный (информационно-аналитический)

Форма промежуточной аттестации – зачет с оценкой.

Б2.В.02 (П) Производственная практика, проектно-технологическая

Общая трудоемкость практики 3 з.е.

Практика направлена на формирование следующих компетенций с указанием кодов индикаторов их достижения:

ПК-4 Способен применять методы вычислительной математики, компьютерного моделирования и оптимизации для организации вычислительных процессов (ПК-4.1, ПК-4.2, ПК-4.3);

ПК-5 Способен осуществлять анализ и выбор современных технологий реализации отдельных функций вычислительных систем и сервисов информационных технологий, применяемых для их создания (ПК-5.1, ПК-5.2, ПК-5.3);

ПК-6 Способен разрабатывать прототипы ИС на базе типовой ИС (ПК-6.1, ПК-6.2, ПК-6.3).

Место практики в структуре ОПОП: практика относится к части, формируемой участниками образовательных отношений, Блока 2 учебного плана.

Целями производственной практики являются: закрепление и расширение полученных знаний, приобретение необходимых практических навыков проектирования, внедрения и сопровождения современных информационных технологий и систем в условиях реального производственного цикла и овладения передовыми методами и инструментальными средствами.

Задачами производственной практики являются:

- изучение методических, инструктивных и нормативных материалов предприятий, занимающихся индустриальной разработкой программного обеспечения;
- закрепление и освоение навыков решения задач профессиональной деятельности с использованием существующих информационно-коммуникационных технологий и с учетом основных требований информационной безопасности;
- изучение методов создания и исследования новых практик ориентированных математических моделей с учетом возможностей современных информационных технологий, программирования и компьютерной техники;
- закрепление и освоение технологии обработки и анализа данных.

Тип практики: производственная проектно-технологическая.

Способ проведения практики: стационарная.

Форма проведения практики: непрерывная.

Разделы (этапы) практики: организационный этап, аналитический, отчетный.

Форма промежуточной аттестации – зачет с оценкой.

ФОНД ОЦЕНОЧНЫХ СРЕДСТВ

основной профессиональной образовательной программы высшего образования

01.03.02 Прикладная математика и информатика

Профиль подготовки: Информационные технологии для вычислительных систем

В результате освоения программы у выпускника должны быть сформированы следующие компетенции:

– универсальные компетенции:

Категория компетенций	Код	Формулировка компетенции	Код и формулировка индикаторов достижения компетенции
Системное и критическое мышление	УК-1	Способен осуществлять поиск, критический анализ и синтез информации, применять системный подход для решения поставленных задач	УК-1.1. Анализирует проблемную ситуацию как систему, выявляя ее составляющие и связи между ними. УК-1.2. Используя логико-методологический инструментарий, критически оценивает надежность источников информации, современных концепций философского и социального характера в своей предметной области.
Разработка и реализация проектов	УК-2	Способен определять круг задач в рамках поставленной цели и выбирать оптимальные способы их решения, исходя из действующих правовых норм, имеющихся ресурсов и ограничений	УК-2.1. Формулирует в рамках поставленной цели круг задач, соответствующих требованиям правовых норм. УК-2.2. Проектирует решение конкретной задачи с учетом возможных ограничений действующих правовых норм. УК-2.3. Решает конкретную задачу с учетом требований правовых норм. УК-2.4. Формулирует конкретную, специфичную, измеримую во времени и пространстве цель, а также определяет дорожную карту движения к цели, исходя из имеющихся ресурсов и ограничений. УК-2.5. Составляет иерархическую структуру работ, распределяет по задачам финансовые и трудовые ресурсы. УК-2.6. Оценивает эффективность результатов проекта
Командная работа и лидерство	УК-3	Способен осуществлять социальное взаимодействие и реализовывать свою роль в команде	УК-3.1. Определяет свою роль в команде, опираясь на знания индивидуально психологических особенностей своих и членов команды, а также психологических основ социального взаимодействия в группе. УК-3.2. Выбирает эффективные способы организации социального взаимодействия и распределения ролей в команде. УК-3.3. Эффективно взаимодействует с участниками образовательного процесса, соблюдая психологически обоснованные правила и нормы общения, устанавливает и поддерживает продуктивные взаимоотношения в группе в целях организации конструктивного общения.

Коммуникация	УК-4	Способен осуществлять деловую коммуникацию в устной и письменной формах на государственном языке Российской Федерации и иностранном(ых) языке(ах)	<p>УК-4.1. Выбирает на иностранном языке коммуникативно приемлемые стратегии делового общения.</p> <p>УК-4.2. Использует информационно-коммуникационные технологии при поиске необходимой информации в процессе решения стандартных коммуникативных задач на государственном языке.</p> <p>УК-4.3. Ведёт деловую переписку, учитывая особенности стилистики официальных и неофициальных писем, социокультурные различия в формате корреспонденции на государственном языке.</p> <p>УК-4.4. Демонстрирует интегративные умения использовать диалогическое общение для сотрудничества в академической и деловой коммуникации на государственном языке.</p> <p>УК-4.5. Владеет интегративными коммуникативными умениями в устной и письменной иноязычной речи.</p> <p>УК-4.6. Выбирает на государственном языке коммуникативно приемлемые стратегии делового общения.</p>
Межкультурное взаимодействие	УК-5	Способен воспринимать межкультурное разнообразие общества в социально-историческом, этическом и философском контекстах	<p>УК-5.1. Определяет специфические черты исторического наследия и социокультурные традиции различных социальных групп, опираясь на знание этапов исторического развития России (включая основные события, основных исторических деятелей) в контексте мировой истории и ряда культурных традиций мира (в зависимости от среды и задач образования).</p> <p>УК-5.2. Учитывает при социальном и профессиональном общении историко-культурное наследие и социокультурные традиции различных социальных групп, этносов и конфессий, включая мировые религии, философские и этические учения.</p> <p>УК-5.3. Умеет конструктивно взаимодействовать с людьми с учетом их социокультурных особенностей в целях успешного выполнения профессиональных задач и усиления социальной интеграции.</p> <p>УК-5.4. Ориентируется в основных этапах развития истории и культуры России и ее достижениях, учитывает особенности российской цивилизации при взаимодействии с представителями различных культур, оценивая потенциальные вызовы и риски.</p>
Самоорганизация и саморазвитие (в том числе здоровьесбережение)	УК-6	Способен управлять своим временем, выстраивать и реализовывать траекторию саморазвития на основе принципов образования в течение всей жизни	<p>УК-6.1. Оценивает свои личностные и временные ресурсы на основе самодиагностики.</p> <p>УК-6.2. Планирует траекторию саморазвития, опираясь на навыки управления своим временем и принципы образования в течение всей жизни.</p>

Самоорганизация и саморазвитие (в том числе здоровьесбережение)	УК-7	Способен поддерживать должный уровень физической подготовленности для обеспечения полноценной социальной и профессиональной деятельности	<p>УК-7.1. Выбирает здоровьесберегающие технологии для поддержания здорового образа жизни с учетом физиологических особенностей организма.</p> <p>УК-7.2. Планирует свое рабочее и свободное время для оптимального сочетания физической и умственной нагрузки и обеспечения работоспособности.</p> <p>УК-7.3. Соблюдает и пропагандирует нормы здорового образа жизни в различных жизненных ситуациях и в профессиональной деятельности.</p> <p>УК-7.4. Осуществляет выбор вида спорта или системы физических упражнений для физического самосовершенствования, развития профессионально важных психофизических качеств и способностей в соответствии со своими индивидуальными способностями и будущей профессиональной деятельностью.</p> <p>УК-7.5. Использует методику самоконтроля для определения уровня здоровья и физической подготовленности в соответствии с нормативными требованиями и условиями будущей профессиональной деятельности.</p> <p>УК-7.6. Приобретает личный опыт повышения двигательных и функциональных возможностей организма, обеспечивающий специальную физическую подготовленность в профессиональной деятельности.</p>
Безопасность жизнедеятельности	УК-8	Способен создавать и поддерживать в повседневной жизни и в профессиональной деятельности безопасные условия жизнедеятельности для сохранения природной среды, обеспечения устойчивого развития общества, в том числе при угрозе и возникновении чрезвычайных ситуаций и военных конфликтов	<p>УК-8.1. Идентифицирует и анализирует опасные и вредные факторы элементов среды обитания и в рамках осуществляемой деятельности; знает основные вопросы безопасности жизнедеятельности.</p> <p>УК-8.2. Способен осуществлять действия по предотвращению возникновения чрезвычайных ситуаций природного, техногенного, социального (биолого-социального) происхождения; грамотно действовать в чрезвычайных ситуациях мирного и военного времени, создавать безопасные условия реализации профессиональной деятельности.</p> <p>УК-8.3. Готов принимать участие в оказании первой и экстренной допсихологической помощи при травмах и неотложных состояниях, в том числе в условиях чрезвычайных ситуаций в мирное и военное время.</p> <p>УК-8.4. Способен обеспечить безопасные и/или комфортные условия труда на рабочем месте, в том числе с помощью средств защиты; выявить и устранить проблемы, связанные с нарушениями техники безопасности на рабочем месте.</p> <p>УК-8.5. Применяет положения общевоинских уставов в повседневной деятельности подразделения, управляет строями, применяет штатное стрелковое оружие; ведет общевойсковой бой в составе подразделения; выполняет поставленные задачи в условиях РХБ заражения; пользуется топографическими картами; оказывает первую медицинскую помощь при ранениях и травмах; имеет высокое чувство патриотизма, считает защиту Родины своим долгом и обязанностью.</p>
Экономика и финансовая грамотность	УК-9	Способен принимать обоснованные экономические решения в различных областях жизнедеятельности.	<p>УК-9.1. Понимает базовые принципы функционирования экономики</p> <p>УК-9.2. Понимает основные виды государственной социально-экономической политики и их влияние на индивида</p> <p>УК-9.3. Использует финансовые инструменты для управления личными финансами (личным бюджетом).</p> <p>УК-9.4. Применяет методы личного экономического и финансового планирования для достижения поставленных целей.</p> <p>УК-9.5. Контролирует собственные экономические и финансовые риски</p>

Гражданская позиция	УК-10	Способен формировать нетерпимое отношение к проявлениям экстремизма, терроризма, коррупционному поведению и противодействовать им в профессиональной деятельности.	УК-10.1 Соблюдает антикоррупционные стандарты поведения, выявляет коррупционные риски, противодействует коррупционному поведению в профессиональной деятельности УК-10.2 Поддерживает высокий уровень личной и правовой культуры, выявляет проявления экстремистской идеологии и противодействует им в профессиональной деятельности УК-10.3 Идентифицирует правонарушения террористической направленности, противодействует проявлениям терроризма в профессиональной деятельности
---------------------	-------	--	---

– общепрофессиональные компетенции:

Теоретические и практические основы профессиональной деятельности	ОПК-1	Способен применять фундаментальные знания, полученные в области математических и (или) естественных наук, и использовать их в профессиональной деятельности	ОПК-1.1 Демонстрирует знания, относящиеся к базовым дисциплинам математики, информатики и естественных наук. ОПК-1.2 Осуществляет формализацию поставленной задачи и выбирает математические методы для ее решения. ОПК-1.3 Использует современные математические инструментальные средства для решения поставленной задачи, анализирует и интерпретирует результаты.
	ОПК-2	Способен использовать и адаптировать существующие математические методы и системы программирования для разработки и реализации алгоритмов решения прикладных задач	ОПК-2.1 Выделяет основные направления адаптации методов решения прикладной задачи; реализует математические методы и алгоритмы в форме компьютерных программ для проведения вычислительного эксперимента. ОПК-2.2 Сравнивает системы программирования для обоснования выбора программной среды для разработки компонентов программного обеспечения.
	ОПК-3	Способен применять и модифицировать математические модели для решения задач в области профессиональной деятельности	ОПК-3.1 Применяет современные технологии математического моделирования для решения задач в области профессиональной деятельности. ОПК-3.2 На основе требований к решению конкретной прикладной задачи выделяет основные направления модификации математической модели, осуществляет оценку качества модели. ОПК 3.3 Применяет системы компьютерного моделирования для построения и анализа моделей при решении задач в области профессиональной деятельности.
Информационно-коммуникационные технологии для профессиональной деятельности	ОПК-4	Способен понимать принципы работы современных информационных технологий и использовать их для решения задач профессиональной деятельности	ОПК-4.1 Осуществляет поиск, сбор, хранение и обработку информации, выбирает способы представления и распространения информации при решении задач профессиональной деятельности. ОПК-4.2 Осуществляет выбор и применяет информационные технологии для решения задач профессиональной деятельности.

	ОПК-5	Способен разрабатывать алгоритмы и компьютерные программы, пригодные для практического применения	<p>ОПК-5.1 Применяет фундаментальные знания для реализации математических методов и алгоритмов при решении прикладной задачи; осуществляет сравнение точности, сходимости и других характеристик вычислительных алгоритмов.</p> <p>ОПК-5.2 Разрабатывает программное и информационное обеспечение компьютерных сетей, автоматизированных систем, сервисов, операционных систем и баз данных с учетом основных требований информационной безопасности.</p> <p>ОПК-5.3 Использует основные положения и концепции прикладного и системного программирования, современные языки программирования, технологии создания и эксплуатации программ и программных комплексов при решении задач профессиональной деятельности.</p>
--	-------	---	---

– профессиональные компетенции:

Тип задач профессиональной деятельности	Код	Формулировка компетенции	Код и формулировка индикатора достижения компетенции
Научно-исследовательский	ПК-1	Способен проводить работы по обработке и анализу научно-технической информации и результатов исследований.	<p>ПК-1.1. Обеспечивает сбор, обработку, анализ и обобщение результатов экспериментов и исследований в соответствующей области знаний.</p> <p>ПК-1.2. Анализирует научно-техническую информацию, касающуюся передового отечественного и зарубежного опыта решения задач в области профессиональной деятельности.</p>
	ПК-2	Способен подготовить элементы документации, проекты планов и программы проведения отдельных этапов работ.	<p>ПК-2.1. Осуществляет планирование и готовит программы проведения отдельных этапов работ.</p> <p>ПК-2.2 Проводит эксперименты в соответствии с поставленными задачами по отдельным этапам работ.</p>
	ПК-3	Способен осуществить выполнение экспериментов и оформить результаты исследований и разработок.	<p>ПК-3.1. Проводит наблюдения и измерения, составляет их описание и формулирует выводы.</p> <p>ПК-3.2. Применяет при обработке данных стандартное и оригинальное программное обеспечение.</p> <p>ПК-3.3. Составляет отчеты (разделы отчетов) по теме или по результатам проведенных экспериментов.</p>
Производственно-технологический	ПК-4	Способен применять методы вычислительной математики, компьютерного моделирования и оптимизации для организации вычислительных процессов	<p>ПК-4.1 Осуществляет формализацию прикладной задачи и выбирает методы вычислительной математики для ее решения.</p> <p>ПК-4.2 Анализирует альтернативные варианты организации (или архитектурных решений) вычислительного процесса на основе методов структурного моделирования.</p> <p>ПК-4.3 Осуществляет планирование различных процессов на основе оптимизационных и имитационных моделей.</p>
	ПК-5	Способен осуществлять анализ и выбор современных технологий реализации отдельных функций вычислительных систем и сервисов информационных технологий, применяемых для их создания.	<p>ПК-5.1 Реализует численные методы решения прикладных задач в профессиональной сфере.</p> <p>ПК-5.2 Применяет современные методы обработки различных типов информации для реализации отдельных функций и сервисов.</p> <p>ПК-5.3 Осуществляет выбор современных технологий и методик выполнения работ по реализации отдельных функций информационных систем.</p>
	ПК-6	Способен разрабатывать прототипы ИС на базе типовой ИС	<p>ПК-6.1 Проводит анализ результатов тестирования</p> <p>ПК-6.2 Осуществляет кодирование на языках программирования в том числе, с использованием методов параллельной и распределенной обработки данных</p>

			ПК-6.3 Осуществляет принятие решения о пригодности архитектуры.
--	--	--	---

В Приложении 10.1 приведен календарный график освоения элементов образовательной программы, в Приложении 10.2 – календарный график формирования компетенций.

Оценка качества освоения обучающимися образовательной программы включает текущий контроль успеваемости, промежуточную и государственную итоговую (итоговую) аттестацию (далее – ГИА (ИА)) обучающихся, а также контроль остаточных знаний 2, проводимые с использованием фондов оценочных средств отдельных элементов образовательной программы (дисциплин (модулей), практик, ГИА (ИА)) (включены в соответствующие рабочие программы) и настоящего фонда оценочных средств по образовательной программе в соответствии с учебным планом, календарным графиком формирования компетенций.

На основе рабочих программ (фондов оценочных средств) дисциплин (модулей), практик, ГИА (ИА) образовательной программы сформированы комплексы заданий (включающие тестовые задания, ситуационные, практико-ориентированные задачи / мини-кейсы для оценки сформированности компетенций у обучающегося (далее – фонд оценочных средств сформированности компетенций). Задания фонда оценочных средств по образовательной программе размещены на Образовательном портале «Электронный университет ВГУ»

Критерии и шкалы оценивания заданий ФОС:

Для оценивания выполнения заданий используется балльная шкала:

1) закрытые задания (тестовые с вариантами ответов, средний уровень сложности):

- 1 балл – указан верный ответ;
- 0 баллов – указан неверный ответ (полностью или частично неверный).

2) открытые задания (тестовые с кратким текстовым ответом, повышенный уровень сложности):

- 2 балла – указан верный ответ;
- 0 баллов – указан неверный ответ (полностью или частично неверный).

Календарный график освоения элементов образовательной программы

Компетенция	1 курс		2 курс		3 курс		4 курс	
	1 семестр	2 семестр	3 семестр	4 семестр	5 семестр	6 семестр	7 семестр	8 семестр
УК-1							Б1.О.01	
УК-2		Б1.О.08					Б1.О.09	
УК-3					Б1.В.ДВ.02.03		Б1.О.10	
УК-4	Б1.О.03	Б1.О.03 Б1.О.06	Б1.О.03	Б1.О.03				
УК-5	Б1.О.35		Б1.О.02	Б1.О.02			Б1.О.01	
УК-6							Б1.О.10	
УК-7	Б1.О.05	Б1.В.01	Б1.В.01	Б1.В.01	Б1.В.01	Б1.В.01		
УК-8							Б1.О.07	Б1.О.04
УК-9		Б1.О.34						
УК-10		Б1.О.08						
ОПК-1	Б1.О.11 Б1.О.12 Б1.О.13 Б1.О.14 Б1.О.24	Б1.О.11 Б1.О.12 Б1.О.14 Б1.О.24 Б2.О.01(У)	Б1.О.11 Б1.О.15 Б1.О.19	Б1.О.16 Б1.О.17 Б1.О.18 Б1.О.19	Б1.О.21 Б1.О.22 Б1.О.23	Б1.О.22 Б1.О.23	Б1.О.33	Б3
ОПК-2	Б1.О.24	Б1.О.24 Б2.О.01(У)			Б1.О.22 Б1.О.23	Б1.О.20 Б1.О.22 Б1.О.23	Б2.О.03(П)	Б2.О.03(П) Б3
ОПК-3			Б1.О.15 Б1.О.19	Б1.О.18 Б1.О.19 Б2.О.02(У)	Б1.О.21 Б1.О.32	Б1.О.20	Б1.О.33 Б2.О.03(П)	Б2.О.03(П) Б3
ОПК-4			Б1.О.25 Б1.О.26 Б1.О.27	Б1.О.25 Б1.О.29 Б2.О.02(У)	Б1.О.28	Б1.О.28 Б1.О.30		Б3
ОПК-5			Б1.О.25 Б1.О.26 Б1.О.27	Б1.О.25 Б1.О.27 Б1.О.29	Б1.О.22 Б1.О.23 Б1.О.28 Б1.О.32	Б1.О.23 Б1.О.28 Б1.О.30	Б1.О.31	Б3
ПК-1					Б1.В.02	Б1.В.03	Б2.О.03(П)	Б2.О.03(П) Б3

Компетенция	1 курс		2 курс		3 курс		4 курс	
	1 семестр	2 семестр	3 семестр	4 семестр	5 семестр	6 семестр	7 семестр	8 семестр
ПК-2	Б1.О.24	Б1.О.24	Б1.В.ДВ.01.01 Б1.В.ДВ.01.02			Б1.В.03 Б1.В.06 Б2.В.01(У)	Б1.В.04 ФТД.02	Б3
ПК-3					Б1.В.02 Б1.В.10 Б1.В.ДВ.02.01 Б1.В.ДВ.02.02	Б1.В.03 Б1.В.06 Б1.В.ДВ.03.01 Б1.В.ДВ.03.02 Б1.В.ДВ.03.03 Б1.В.ДВ.03.04	Б1.В.04 Б1.В.ДВ.04.01 Б1.В.ДВ.04.02 Б1.В.ДВ.05.01 Б1.В.ДВ.05.02 ФТД.02	Б3
ПК-4					Б1.В.05		Б1.В.07	Б1.В.08 Б1.В.09 Б2.В.02(П) Б3
ПК-5					Б1.В.05	Б1.В.06 Б2.В.01(У) ФТД.01	Б1.В.07	Б1.В.08 Б2.В.02(П) Б3
ПК-6							Б1.В.07	Б1.В.08 Б1.В.09 Б2.В.02(П) Б3

Календарный график формирования компетенций

Компетенции	1 курс		2 курс		3 курс		4 курс	
	1 семестр	2 семестр	3 семестр	4 семестр	5 семестр	6 семестр	7 семестр	8 семестр
Универсальные	УК-4, УК-5, УК-7	УК-2, УК-4, УК-7, УК-9, УК-10	УК-4, УК-5, УК-7	УК-4, УК-5, УК-7	УК-3, УК-7	УК-7	УК-1, УК-2 УК-3, УК-5, УК-6, УК-8	УК-8
Общепрофессиональные	ОПК-1	ОПК-1, ОПК- 2	ОПК-1, ОПК- 3, ОПК-4, ОПК-5	ОПК-1, ОПК- 3, ОПК-4, ОПК-5	ОПК-1, ОПК- 2, ОПК-3, ОПК-4, ОПК- 5	ОПК-1, ОПК- 2, ОПК-3, ОПК-4, ОПК- 5	ОПК-1, ОПК- 2, ОПК-3, ОПК-5	ОПК-2, ОПК- 3
Профессиональные	ПК-2	ПК-2	ПК-2		ПК-1, ПК-3, ПК-4, ПК-5	ПК-1, ПК-2, ПК-3, ПК-5	ПК-1, ПК-2, ПК-3, ПК-4, ПК-5, ПК-6	ПК-1, ПК-4, ПК-5, ПК-6

Фонд оценочных средств сформированности компетенций

УК-1. Способен осуществлять поиск, критический анализ и синтез информации, применять системный подход для решения поставленных задач

Период окончания формирования компетенции: 7 семестр

Перечень дисциплин (модулей), практик, участвующих в формировании компетенции:

Дисциплины (модули):

Б1.О.01 Философия (7 семестр)

Б1.О.01 Философия

1) закрытые задания (тестовые, средний уровень сложности):

ЗАДАНИЕ 1. Выберите правильный вариант ответа:

Совокупность методологических подходов к проблемам теоретической и практической философии, рассуждений о природе языка философии и его отношения к миру и человеку, состоящая в расчленении исследуемого явления на части –

- философский синтез
- **философский анализ**
- исторический метод
- логический метод

ЗАДАНИЕ 2. Выберите правильный вариант ответа:

В рамках системного подхода синтез представляет собой

- процесс сбора и интерпретации фактов, выявления проблемы и разложения системы на ее компоненты
- **соединение различных частей рассматриваемого сложного объекта в целостное образование**
- процесс восприятия предметов и явлений с целью их познания
- процесс воздействия на реальный объект или его изучение в заданных условиях

ЗАДАНИЕ 3. Выберите правильный вариант ответа:

Какую функции выполняет анализ проблемной ситуации с точки зрения системного подхода?

- **определяет цели и задачи системного анализа, методы принятия решений**
- ставит исследователя в тупик
- позволяет отказаться от имеющихся методов исследования
- ведет к смене научной парадигмы

ЗАДАНИЕ 4. Выберите правильный вариант ответа:

Принцип всеобщей связи и развития в системном подходе

- **позволяет реализовать взаимосвязь философских положений и методов конкретных наук**
- позволяет поставить вопрос о смысле существования
- предполагает дифференциацию философских направлений
- не имеет применения в системном подходе

ЗАДАНИЕ 5. Выберите правильный вариант ответа:

Принцип иерархии в системном подходе направлен на

- **установление порядка подчинения нижестоящих элементов и свойств вышестоящим по строго определенным ступеням и переход от низшего уровня к высшему**
- исследование объекта как единого целого
- исследование объекта как части более крупной системы, в которой анализируемый объект находится с остальными системами в определенных отношениях
- оценку количественные характеристики объектов

ЗАДАНИЕ 6. Выберите правильный вариант ответа:

В рамках системного подхода исследуемый объект рассматривается как

- **целое независимо от изучаемого аспекта объекта и с учетом выявления внутренних закономерностей развития объекта**
- одна из частей, обладающая своими уникальными характеристиками
- анализируются частные проблемы в познании объекта
- исследуется только лишь механизм функционирования объекта без выявления закономерностей его развития

ЗАДАНИЕ 7. Выберите правильный вариант ответа:

Как называется интеллектуальное затруднение, возникающее в ситуации неопределенности, когда человек не знает, как объяснить данное явление, факт, процесс действительности, не может достичь цель известным ему способом, что побуждает искать новый способ объяснения или способ действия?

- **проблемная ситуация**
- пограничная ситуация
- противоречие
- тупик

ЗАДАНИЕ 8. Выберите правильный вариант ответа:

В рамках системного подхода анализ представляет собой

- **процесс сбора и интерпретации фактов, выявления проблемы и разложения системы на ее компоненты**
- соединение различных частей рассматриваемого сложного объекта в целостное образование
- процесс восприятия предметов и явлений с целью их познания
- процесс воздействия на реальный объект или его изучение в заданных условиях

ЗАДАНИЕ 9. Выберите правильный вариант ответа:

Как называется способ решения практических и теоретически задач, основанный на мысленном отвлечении от несущественных свойств изучаемого предмета и выделении одной или нескольких существенных характеристик?

- аналогия
- моделирование
- **абстрагирование**
- исторический метод

ЗАДАНИЕ 10. Выберите правильный вариант ответа:

Какой вид познания основан на житейском опыте?

- абстрактный
- теоретический
- **обыденный**
- научный

ЗАДАНИЕ 11. Выберите правильный вариант ответа:

Определенная целевая установка в решении научно-исследовательской проблемы – это

- **познавательная задача**
- познавательная проблема
- метод решения
- метод исследования

ЗАДАНИЕ 12. Выберите правильный вариант ответа:

Что заставляет исследователя прийти в познавательном процессе к постановке новых проблем и задач?

- **противоречия в познании**
- успех
- техника
- неудачи

ЗАДАНИЕ 13. Выберите правильный вариант ответа:

Мысленное решение задачи в особо трудной ситуации, когда нет твердой уверенности в положительном исходе, но есть некоторая надежда на успех, – это

- **риск**
- предположение
- неопределенность
- сложное решение

ЗАДАНИЕ 14. Выберите правильный вариант ответа:

Что в системе познавательной деятельности является субъектом познания?

- **человек**
- материальные процессы
- духовные процессы
- природа

ЗАДАНИЕ 15. Выберите правильный вариант ответа:

Какая форма в системе теоретического познания выполняет функцию предположения?

- **гипотеза**
- парадигма
- проблема
- теория

ЗАДАНИЕ 16. Выберите правильный вариант ответа:

Абсолютная истина – это

- **полное, завершенное знание об объекте познания**
- знание на данном конкретно-историческом этапе общественного развития
- знание в пределах одной научно-исследовательской парадигмы
- неполное знание

ЗАДАНИЕ 17. Выберите правильный вариант ответа:

Осознание человеком своей деятельности, мыслей, чувств, потребностей – это

- **самосознание**
- мировоззрение
- миропонимание
- бессознательное

ЗАДАНИЕ 18. Выберите пример, иллюстрирующий действие закона перехода количественных изменений в качественные:

- социальная революция и переход к новой общественно-экономической формации
- упавшая в землю семечка прорастает и дает жизнь дереву

- смена поколений
- **нагревание воды приводит к ее кипению и переходу в парообразное состояние**

ЗАДАНИЕ 19. Выберите правильный вариант ответа:

Как называется сфера духовной жизни общества, основанная на вере в сверхъестественное?

- мораль
- право
- духовность
- **религия**

ЗАДАНИЕ 20. Выберите правильный вариант ответа:

В чем выражается самодостаточность общества как системы?

- **в способности к созданию всего необходимого для своего существования**
- в исключении из своей системы человека
- в неизменности свойств на протяжении всего времени его существования
- в статичности общества

ЗАДАНИЕ 21. Выберите правильный вариант ответа:

Какую подсистему не включает общество как система?

- социальную
- политическую
- духовную
- **эстетическую**

ЗАДАНИЕ 22. Выберите правильный вариант ответа:

В системе отношения человека и природы периодом господства природы над человеком является

- **мифологическая модель**
- научно-техническая модель
- гуманистическая модель
- информационная модель

ЗАДАНИЕ 23. Выберите правильный вариант ответа:

Какое отношение характерно для эпохи ноосферы?

- **коэволюция человека и биосферы**
- подчинение человека природе
- независимость человека от природы
- господство человека над природой

ЗАДАНИЕ 24. Выберите правильный вариант ответа:

Исходным отношением в системе познавательной деятельности является

- **оппозиция субъекта и объекта в процессе познания**
- зависимость субъекта от объекта познания
- невозможность для субъекта выделить объект
- познание объектом субъекта

ЗАДАНИЕ 25. Выберите правильный вариант ответа:

Как называется метод генерирования нового знания, основанный на движении мысли от частного к частному, при котором учитывается сходство объектов в некоторых признаках?

- дедукция
- **аналогия**
- индукция

- анализ

ЗАДАНИЕ 26. Выберите правильный вариант ответа:

Как называется метод исследования, основанный на мыслительном акте, приводящем к созданию идеальных объектов, не существующих в опыте и в действительности, однако необходимых для понимания сущности изучаемого объекта?

- **идеализация**
- исторический метод
- аналогия
- дедукция

ЗАДАНИЕ 27. Выберите правильный вариант ответа:

В рамках какого направления в гносеологии отрицается принципиальная возможность познания мира?

- **агностицизм**
- скептицизм
- оптимизм
- гносеология

ЗАДАНИЕ 28. Выберите правильный вариант ответа:

Чем по своим функциям в процессе познания является практика?

- **критерием истины**
- заменой мышления
- способом бытия
- способностью абстрагироваться от теоретического познания

ЗАДАНИЕ 29. Выберите правильный вариант ответа:

К какому случаю информацию можно считать полной?

- **если информация достаточна для понимания и принятия решения**
- если информация не решает познавательную неопределенность
- если информация избыточна
- если информация по данной теме отсутствует

ЗАДАНИЕ 30. Выберите правильный вариант ответа:

Поскольку истина – это свойство знания, она

- **субъективна и зависит от человека**
- ненаучна
- абсолютна
- интертекстуальна

ЗАДАНИЕ 31. Выберите правильный вариант ответа:

На основе какого метода в философии Ф. Бэкона развивался эмпиризм?

- **индукции**
- дедукции
- анализа
- синтеза

ЗАДАНИЕ 32. Выберите правильный вариант ответа:

Как называется философская позиция, согласно которой в основе бытия лежит сознание?

- **идеализм**
- материализм
- дуализм
- плюрализм

ЗАДАНИЕ 33. Выберите правильный вариант ответа:

Что является отличительной особенностью философского мышления в эпоху Возрождения?

- теоцентризм
- **антропоцентризм**
- космоцентризм
- сциентизм

ЗАДАНИЕ 34. Выберите правильный вариант ответа:

Атеизм отрицает

- **Бога**
- человека
- материю и сознание
- сознательное и бессознательное

ЗАДАНИЕ 35. Выберите правильный вариант ответа:

Что НЕ относится к чувственному познанию?

- ощущение
- восприятие
- представление
- **понятие**

ЗАДАНИЕ 36. Выберите правильный вариант ответа:

В чем состоит сущность реляционной концепции пространства и времени?

- время вечно, пространство бесконечно
- время и пространство не зависят друг от друга
- **пространство и время относительны и зависят от материальных процессов**
- время и пространство – ноуменальные сущности

ЗАДАНИЕ 37. Укажите основной вопрос гносеологии:

- что первично?
- **познаваем ли мир?**
- что такое человек?
- что я должен делать?

ЗАДАНИЕ 38. Выберите правильный вариант ответа:

Как может быть охарактеризована дуалистическая система?

- **утверждает наличие двух субстанций**
- утверждает наличие одной субстанции
- утверждает веру в единого Бога
- отрицает вселенную

ЗАДАНИЕ 39. Выберите философскую школу эпохи эллинизма:

- экзистенциализм
- позитивизм
- **эпикуреизм**
- номинализм

ЗАДАНИЕ 40. Выберите правильный вариант ответа:

Философская категория, выражающая протяженность и взаимное расположение объектов, – это

- **пространство**

- время
- движение
- атрибутивность

ЗАДАНИЕ 41. Выберите правильный вариант ответа:

Как называется направление, в котором провозглашается наличие множества субстанций?

- монизм
- одномерность
- дуализм
- **плюрализм**

ЗАДАНИЕ 42. Выберите правильный вариант ответа:

Как в марксизме называется определенный этап развития человечества, отличающийся способом производства материальных благ?

- культура
- цивилизация
- социокультурная суперсистема
- **общественно-экономическая формация**

ЗАДАНИЕ 43. Выберите правильный вариант ответа:

Какой фразой можно выразить роль философии в средние века?

- «царица наук»
- «наука наук»
- **«служанка богословия»**
- «учение о счастье»

ЗАДАНИЕ 44. Выберите правильный вариант ответа:

Каким методом познания пользовались рационалисты Нового времени?

- индукция
- **дедукция**
- аналогия
- противоречие

ЗАДАНИЕ 45. Выберите правильный вариант ответа:

В каком обществе научно-технические изобретения и открытия оказывают наиболее сильное воздействие на социальные изменения?

- в примитивном
- в традиционном
- в индустриальном
- **в информационном**

ЗАДАНИЕ 46. Выберите правильный вариант ответа:

Уподобление общества как системы биологическому организму характерно для философии

- **позитивизма**
- экзистенциализма
- идеализма
- иррационализма

ЗАДАНИЕ 47. Выберите правильный вариант ответа:

Аграрный сектор занимает наибольший удельный вес в структуре занятости

- информационного общества

- **традиционного общества**
- индустриального общества
- постиндустриального общества

ЗАДАНИЕ 48. Выберите наиболее характерный признак постиндустриального общества:

- религия
- **информация**
- земля
- великие географические открытия

ЗАДАНИЕ 49. Выберите правильный вариант ответа:

Чем определялась ценность человеческой деятельности для гуманистов эпохи Возрождения?

- заслугами перед Богом
- происхождением
- **личными заслугами и творчеством**
- социальной принадлежностью

ЗАДАНИЕ 50. Выберите правильный вариант ответа:

Какой из указанных законов НЕ относится к законам диалектики?

- закон единства и борьбы противоположностей
- закон перехода количественных изменений в качественные
- закон отрицания отрицания
- **закон трех стадий**

ЗАДАНИЕ 51. Выберите правильный вариант ответа:

Традиция европейского рационализма связана с именем

- Ф. Бэкона
- **Р. Декарта**
- Т. Гоббса
- Дж. Локка

2) открытые задания (тестовые, повышенный уровень сложности):

ЗАДАНИЕ 1. Что выступает в качестве социального фактора, детерминировавшего возникновение человека в рамках марксистской философии?

Ответ: труд

ЗАДАНИЕ 2. Какой раздел в системе философского знания изучает бытие?

Ответ: онтология

ЗАДАНИЕ 3. Какой раздел в системе философского знания изучает познание и его специфику?

Ответ: гносеология

ЗАДАНИЕ 4. Какой раздел в системе философского знания изучает человека и его специфику?

Ответ: философская антропология

ЗАДАНИЕ 5. Соответствие знания объективной реальности – это

Ответ: истина

ЗАДАНИЕ 6. Укажите направление в системе философского знания, представители которого считали, что основой познания является опыт.

Ответ: эмпиризм

ЗАДАНИЕ 7. Укажите направление в системе философского знания, представители которого считали, что основой познания является разум.

Ответ: рационализм

ЗАДАНИЕ 8. Как называется философское учение об обществе как системе?

Ответ: социальная философия

ЗАДАНИЕ 9. Что противостоит материи в системе онтологии?

Ответ: сознание

ЗАДАНИЕ 10. Какой тип мировоззрения определяется верой человека в сверхъестественное начало?

Ответ: религия

ЗАДАНИЕ 11. Представители какого направления в системе философского знания, считают первичным идеальное начало, не зависимое от человеческого сознания?

Ответ: объективный идеализм

ЗАДАНИЕ 12. Кто является одновременно существом биологическим, социальным и духовным?

Ответ: человек

ЗАДАНИЕ 13. Какая проблема в современном обществе вызвана противоречием между производственной деятельностью человека и стабильностью природной среды его обитания, связана со стремительным ухудшением экологической обстановки и вследствие этого – скоротечной гибелью населения планеты?

Ответ: экологическая

ЗАДАНИЕ 14. Что в рамках цивилизационного подхода Шпенглера является последней фазой в развитии культуры?

Ответ: цивилизация

ЗАДАНИЕ 15. Как называется направление в системе философского знания, представители которого, признают в качестве основания бытия материальное начало?

Ответ: материализм

ЗАДАНИЕ 16. Какое направление признает мышление и материю независимыми субстанциями?

Ответ: дуализм

ЗАДАНИЕ 17. Какая философская позиция отрицает возможность достоверного познания сущности окружающей человека действительности?

Ответ: агностицизм

ЗАДАНИЕ 18. Какое понятие определяется следующим образом: «фундаментальная исходная философская категория для обозначения объективной реальности, данной нам в ощущениях»?

Ответ: материя

ЗАДАНИЕ 19. Как называется учение о развитии и всеобщей связи?

Ответ: диалектика

ЗАДАНИЕ 20. Какое направление в философии является противоположным рационализму?

Ответ: иррационализм

ЗАДАНИЕ 21. Укажите имя философа, благодаря которому в философию было введено представление о коллективном бессознательном.

Ответ: Юнг

ЗАДАНИЕ 22. Философская теория познания – это

Ответ: гносеология

ЗАДАНИЕ 23. Какая сфера философского знания направлена на изучение человека?

Ответ: философская антропология

ЗАДАНИЕ 24. Как называется система принципов, взглядов, ценностей, идеалов и убеждений, определяющих направление деятельности и отношение к действительности отдельного человека, социальной группы или общества в целом?

Ответ: мировоззрение

ЗАДАНИЕ 25. Что являлось основным способом понимания мира на ранней стадии общественного развития?

Ответ: миф

ЗАДАНИЕ 26. Как называется философское направление, утверждающее первичность материи?

Ответ: материализм

ЗАДАНИЕ 27. Как называется учение о единой субстанции в основе мира?

Ответ: монизм

ЗАДАНИЕ 28. Что является критерием истины?

Ответ: практика

ЗАДАНИЕ 29. Как называлось мировоззрение эпохи Возрождения, выражающее человеколюбие и уважение личного достоинства человека?

Ответ: гуманизм

ЗАДАНИЕ 30. Какое из философских направлений выражало идею о том, что «истина – то, что полезно»?

Ответ: прагматизм

3) открытые задания (мини-кейсы, средний уровень сложности):

ЗАДАНИЕ 1. Критически проанализируйте умозаключение. Определите, какой метод решения проблемной ситуации здесь используется. Критически оцените его возможность разрешить проблемную ситуацию:

К. Маркс отрицает существование Бога, М. Хайдеггер отрицает существование Бога, Ж.-П. Сартр отрицает существование Бога, следовательно, все современные философы отрицают существование Бога.

Ответ: Индукция. Метод вероятностный, в данном случае, ведущий к ошибочному выводу. Позволяет в разрешении проблемной ситуации очертить круг проблем и выработать предположение.

ЗАДАНИЕ 2. Используя логико-методологический инструментарий, определите, какие из суждений являются «знанием», какие «мнением» и какие «верованием». Обоснуйте свою позицию:

1. Городской округ город Воронеж с населением 1050,6 тыс. человек. Воронеж возник в 1586 г. (крепость). В XVII в. – крупнейший центр торговли. Сейчас – один из аграрно-индустриальных центров России.
2. Зимой всегда слишком холодно.
3. Бог существует.

Ответ: 1 – знание, т.к. оно может быть сформировано путем ознакомления с различными научными источниками (справочником, словарем и т.д.); 2 – мнение, т.к. высказано на основе субъективного восприятия; 3– верование, т.к. сформировано под влиянием религиозного опыта.

ЗАДАНИЕ 3. Проанализируйте процесс познания. Из таких форм, как факт, гипотеза и теория, какая именно форма является проблемной? Обоснуйте свой ответ.

Ответ: гипотеза является проблемным знанием, играет в процессе познания роль предположения, требующего проверки на опыте и теоретического обоснования для того, чтобы стать достоверным знанием.

ЗАДАНИЕ 4. К какой форме познания относятся наблюдение и измерение, на решение каких задач они направлены, и в чем ограниченность наблюдения и измерения как способов решения познавательных задач?

Ответ: Наблюдение и измерение относятся к эмпирической форме познания, они направлены на исследование внешних характеристик и свойств изучаемого объекта. Недостатками наблюдения являются влияние субъекта познания на объект, сложность повторения наблюдения, ограниченность во времени, субъективность в интерпретации данных. Недостатками измерения являются ограниченность измерения для разных величин, влияние субъекта на объект познания.

ЗАДАНИЕ 5. Используя логико-методологический инструментарий, оцените, какие из умозаключений являются истинными и позволяют однозначно решить проблемную ситуацию, а какие – вероятностными (менее достоверными)? Обоснуйте свой ответ:

1. Все студенты нашей группы сдали зачет; Иванов – студент нашей группы. Иванов сдал зачет.
2. Иванов – студент нашей группы, сдавший зачет, Петров – студент нашей группы, сдавший зачет, Сидоров – студент нашей группы, сдавший зачет. Следовательно, все студенты нашей группы сдали зачет.

Ответ: 1 – умозаключение истинное, поскольку является дедуктивным; 2 – умозаключение вероятно, поскольку индуктивно и основывается на простом перечислении элементов, принадлежащих к одному классу. Индуктивный вывод менее достоверен и не всегда может позволить выбрать правильное решение проблемы.

ЗАДАНИЕ 6. Представьте себе ситуацию познавательной неопределенности. Как ее можно решить в рамках направлений, отвечающих на вопрос «Познаваем ли мир?» в контексте основного вопроса философии. Познавательный оптимизм или агностицизм. Какое из этих направлений в проблемной ситуации позволит достичь истины, а какое – завершить познавательный процесс, не добившись результата? Обоснуйте свой ответ.

Ответ: выбрав позицию познавательного оптимизма, мы будем стремиться к достижению истины, ориентируясь на то, что мир познаваем. Разделяя позицию агностицизма, мы будем считать, что мир не познаваем, и поэтому воздержимся от дальнейшего изучения объекта.

ЗАДАНИЕ 7. Сократ для достижения истины использовал метод майевтики, состоящий в постановке наводящих вопросов. Является ли данный метод актуальным? Как можно применить его в проблемной ситуации?

Ответ: метод майевтики актуален и реализуется в форме диалога в современной науке. В проблемной ситуации метод диалога позволяет проявить активность обеих сторон, которые совместно вырабатывают методы решения проблемы и находят выход из проблемной ситуации.

ЗАДАНИЕ 8. Вы – представитель эмпиризма. Объясните собеседнику, откуда мы получаем знания. В чем преимущества эмпиризма?

Ответ: как представитель эмпиризма, я считаю, что источником познания является опыт. Только приобретенный человеком при помощи органов чувств или путем проведения эксперимента опыт является важнейшим и основным источником истинных и достоверных знаний.

ЗАДАНИЕ 9. Многие философские направления формируются как результат поиска ответа на проблемный вопрос, возникающий в критической ситуации. Назовите такие проблемные ситуации в истории человечества и объясните, к формулировке каких идей они подтолкнули философов.

Ответ: возникновение христианства потребовало от философов обоснования основных положений вероучения и привело к формированию средневековой философии. Научная революция в Новое время способствовала развитию гносеологии и разработке учения о методе познания (студент может предложить любую проблемную ситуацию, в ответ на которую возникла философская концепция или направление, важно указание на причинно-следственную связь).

ЗАДАНИЕ 10. Каждый человек обладает системой представлений о мире, обществе, других людях и о себе самом, которые он применяет, в том числе, в своей профессиональной деятельности. В эти представления включаются знания, мнения, верования. Укажите, какие из этих категорий знания являются надежными, а какие – ненадежными источниками информации при решении профессиональных задач. Свой ответ обоснуйте.

Ответ: знания являются надежным источником информации, поскольку обоснованы и получены из достоверных источников информации. Мнения и верования не являются надежными, поскольку основаны на предположениях, которые не могут быть доказаны в данный момент времени.

ЗАДАНИЕ 11. Проанализируйте нижеприведенный отрывок. Укажите основные характеристики данного типа мировоззрения. Существует ли в современном обществе этот тип мировоззрения? Если да, назовите несколько сфер его использования.

«Могучая, богатая Земля породила беспредельное голубое Небо – Урана, и раскинулось Небо над Землей. Гордо поднялись к нему высокие Горы, рожденные Землей, и широко разлилось вечно шумящее Море. Матерью-Землей рождены Небо, Горы и Море, и нет у них отца. Уран – Небо – воцарился в мире. Он взял себе в жены богатую Землю. Шесть сыновей и шесть дочерей – могучих, грозных титанов».

Ответ: это мифологическое мировоззрение. Для него характерны образность, стремление к отражению мира не в строгих понятиях, а при помощи художественных образов. В современном обществе существует, например, в рекламе, политике.

ЗАДАНИЕ 12. Леонардо да Винчи разработал чертеж вертолета. Почему с точки зрения эмпиризма, полагающего, что основой познания является опыт, нельзя было установить достоверность его открытия? Поясните, почему именно опыт должен быть основой познания, по мнению представителей данного направления?

Ответ: в эпоху Возрождения отсутствовали технические возможности для эмпирической проверки достоверности открытия Леонардо. И потому нельзя было установить правильность его предположения. По мнению эмпириков, достоверное знание можно получить исключительно из опыта; знание, теория, догадка или предположение могут считаться верными, лишь когда они подтверждены практическим опытом.

ЗАДАНИЕ 13. Установите, какое из высказываний наиболее точно раскрывает содержание категорического императива И. Канта. Может ли оно являться надежным руководством для поведения современного человека в социуме? Если да, объясните, почему.

а) возлюби ближнего своего как самого себя;

б) не сотвори себе кумира;

в) поступай так, чтобы правило твоего поведения могло служить нормой всеобщего законодательства.

Ответ: высказывание в) раскрывает содержание категорического императива И. Канта. Оно может быть надежным руководством для поведения современного человека в социуме, поскольку является универсальным и безусловным правилом нравственного поведения.

ЗАДАНИЕ 14. Попадая в пограничные ситуации, каждый человек сталкивается с выбором, совершив который, он реализует свою свободу. Но при этом свобода связана с ответственностью. Проанализируйте ситуацию убийства героем Ремарка Равиком фашиста в произведении «Триумфальная арка». Связаны ли в данном эпизоде свобода и ответственность? Осознает ли герой ответственность за убийство?

«Вдруг это стало чем-то намного большим, чем просто личная месть. Казалось, что если он этого не сделает, то он будет виновен в каком-то бесконечном преступлении, что что-то в мире будет потеряно навсегда, если он не будет действовать. Он знал, что Хааке был всего лишь мелким служащим страха, что он не так уж много значил, – но внезапно он понял и то, что убить его было бесконечно важно».

Ответ: в данном отрывке Ремарк показывает, что герой, действительно, берет на себя ответственность за свой поступок, продиктованный не только мстостью, но и ответственностью за борьбу со злом в лице фашизма.

ЗАДАНИЕ 15. Проанализируйте категорический императив И. Канта: «Поступай только согласно такой максиме, руководствуясь которой, ты в то же время можешь пожелать, чтобы она стала всеобщим законом». К какому разделу в системе философского знания относится это высказывание? Обоснуйте свою позицию. Применима ли эта максима в Вашей профессиональной сфере?

Ответ: этика, поскольку именно этот раздел рассматривает поступки людей и отношения между ними с точки зрения представлений о добре и зле. Категорический императив И. Канта применим в различных сферах (политике, экономике), где мы должны человека ставить превыше всего, видеть в нем главную цель.

ЗАДАНИЕ 16. Используя логико-методологический инструментарий, классифицируйте следующие научные методы – аксиоматизация, идеализация, наблюдение, измерение, абстрагирование, эксперимент – по типам (эмпирические, теоретические).

Ответ:

Эмпирические методы	Теоретические методы
наблюдение	аксиоматизация
измерение	идеализация
эксперимент	абстрагирование

ЗАДАНИЕ 17. Критически анализируя проблему познаваемости мира, объясните, в чем преимущество скептицизма? Имеет ли он место в современном научном познании?

Ответ: скептицизм – философское направление, выдвигающее сомнение в возможности познания мира. В современной науке имеет место принцип умеренного скептицизма, предполагающий, что всякое суждение в научном познании необходимо подвергать той или иной критике и принимать его только в том случае, если оно эту критику выдерживает. Достоинством скептицизма является то, что все утверждения подвергаются критическому анализу, а все, не имеющее эмпирических доказательств, должно быть подвергнуто сомнению.

ЗАДАНИЕ 18. Какие из нижеуказанных процессов относятся к прогрессу, какие – к регрессу?

Снижение рождаемости.

Рост заболеваемости людей, эпидемии

Промышленный переворот.

Падение нравственности в современном обществе.

Информационная революция.

Переход от традиционного общества к индустриальному.

Выбрав один из процессов, отнесенных к прогрессу, укажите на возможные регрессивные его последствия. Выбрав один из процессов, отнесенных к регрессу, укажите на возможные прогрессивные его последствия.

Ответ:

Прогресс	Регресс
Промышленный переворот	Снижение рождаемости
Информационная революция	Падение нравственности в современном обществе
Переход от традиционного общества к индустриальному	Рост заболеваемости людей, эпидемии

Регрессивным следствием промышленного переворота можно считать кризис репродукции, появление экологических проблем.

Прогрессивным следствием эпидемий является развитие медицины в целях борьбы с заболеваниями.

ЗАДАНИЕ 19. Используя знание законов диалектики, продемонстрируйте их применимость в своей предметной области.

Ответ: закон единства и борьбы противоположностей – социальные конфликты, их возникновение, развитие и разрешение; закон перехода количественных изменений в качественные – повышение заработной платы населению приводит к инфляции; закон отрицания отрицания – здоровый человек, инфицированный больной, человек с выработанным на данный вирус иммунитетом.

УК-2. Способен определять круг задач в рамках поставленной цели и выбирать оптимальные способы их решения, исходя из действующих правовых норм, имеющихся ресурсов и ограничений

Период окончания формирования компетенции: 7 семестр

Перечень дисциплин (модулей), практик, участвующих в формировании компетенции:

Дисциплины (модули):

Б1.О.08 Основы права и противодействие противоправному поведению (2 семестр)

Б1.О.09 Основы проектного менеджмента (7 семестр)

Б1.О.08 Основы права и противодействие противоправному поведению

1) закрытые задания (тестовые, средний уровень сложности):

ЗАДАНИЕ 1. Выберите правильный вариант ответа:

В каком году была принята Конституция Российской Федерации?

- **1993 году**
- 2003 году
- 1983 году

ЗАДАНИЕ 2. Выберите правильный вариант ответа:

Конституция Российской Федерации принята

- **на всенародном голосовании**
- на заседании парламента
- выборщиками от регионов

ЗАДАНИЕ 3. Выберите правильный вариант ответа:

Президент Российской Федерации является

- **главой государства**
- главой исполнительной власти
- главой законодательной власти

ЗАДАНИЕ 4. Выберите правильный вариант ответа:

Как называется Парламент Российской Федерации?

- **Федеральное Собрание Российской Федерации**
- Конституционное Собрание Российской Федерации
- Совет безопасности РФ

ЗАДАНИЕ 5. Выберите правильный вариант ответа:

Каким государством по форме государственно-территориального устройства является Россия:

- унитарным
- **федеративным**
- конфедерацией

ЗАДАНИЕ 6. Выберите правильный вариант ответа:

Какие категории преступлений предусмотрены в УК РФ?

- **небольшой тяжести, средней тяжести, тяжкие, особо тяжкие**
- не представляющие большой общественной опасности
- особо опасные

ЗАДАНИЕ 7. Выберите правильный вариант ответа:

Какую характеристику Российской Федерации отражает это конституционное положение: «Никакая религия не может устанавливаться в качестве государственной или обязательной»?

- **светское государство**
- демократическое государство
- правовое

ЗАДАНИЕ 8. Выберите правильный вариант ответа:

Какую характеристику Российской Федерации отражает это конституционное положение: «Государство, политика которого направлена на создание условий, обеспечивающих достойную жизнь и свободное развитие человека»?

- правовое государство
- **социальное государство**
- демократическим государством

ЗАДАНИЕ 9. Выберите правильный вариант ответа:

В соответствии с теорией разделения властей государственная власть подразделяется на:

- федеральную, региональную, местную
- **законодательную, исполнительную, судебную**
- политическую, экономическую, военную

ЗАДАНИЕ 10. Выберите правильный вариант ответа:

Какая форма субъекта Российской Федерации предусмотрена в Конституции Российской Федерации?

- **край**
- автономный край
- независимый край

ЗАДАНИЕ 11. Выберите правильный вариант ответа:

Причинение вреда в состоянии необходимой обороны с соблюдением условий ее правомерности

- **исключает преступность деяния**
- смягчает наказание
- никак не влияет

ЗАДАНИЕ 12. Выберите правильный вариант ответа:

Утрата доверия государственного лица за совершенные коррупционные действия возможна

- **при установленном факте получении взятки**
- при опоздании на работу
- при супружеской измене

ЗАДАНИЕ 13. Выберите правильный вариант ответа:

Президентом Российской Федерации может быть избран гражданин РФ не моложе

- 21 года
- **35 лет**
- 45 лет

ЗАДАНИЕ 14. Выберите правильный вариант ответа:

Какое количество депутатов работает в составе Государственной Думы?

- **450**
- 225

– 600

ЗАДАНИЕ 15. Выберите правильный вариант ответа:
Какой город не является городом федерального значения?

- Москва
- Севастополь
- **Владивосток**

ЗАДАНИЕ 16. Выберите правильный вариант ответа:
Какого судебного органа не существует в России?

- Верховный Суд Российской Федерации
- **Высший Арбитражный Суд Российской Федерации**
- Конституционный Суд РФ

ЗАДАНИЕ 17. Выберите правильный вариант ответа:
По общему правилу – возраст, с которого допускается заключение трудового договора

....

- **16 лет**
- 18 лет
- 14 лет

ЗАДАНИЕ 18. Выберите правильный вариант ответа:
Что является основным источником семейного права в РФ?

- Кодекс РФ о браке и семье
- **Семейный кодекс РФ**
- Брачно-семейный кодекс РФ

ЗАДАНИЕ 19. Выберите правильный вариант ответа:
Как верно называется сторона трудовых отношений?

- **работник**
- трудящийся
- нанимающийся

ЗАДАНИЕ 20. Выберите правильный вариант ответа:
Минимальный размер оплаты труда устанавливается федеральным законом ...

- **для всей территории РФ**
- отдельно в каждом субъекте РФ
- только в городах федерального значения

ЗАДАНИЕ 21. Выберите правильный вариант ответа:
Какое из нижеуказанных действий является коррупционным нарушением?

- получение премии за добросовестное выполнение служебных обязанностей
- **получение должностным лицом в качестве подарка скидки, ссуды, бесплатной услуги от физических лиц и организаций, в отношении которых осуществлял государственные функции**
- получение подарка от члена своей семьи

ЗАДАНИЕ 22. Выберите неправильный вариант ответа:
К условиям заключения брака в РФ относятся:

- наличие взаимного добровольного согласия мужчины и женщины, вступающих в брак, достижение брачного возраста
- отсутствие препятствий к заключению брака, предусмотренных
- семейным законодательством

- **наличие взаимного добровольного согласия мужчины и женщины, вступающих в брак, а также их родителей (лиц, их заменяющих)**

ЗАДАНИЕ 23. Выберите правильный вариант ответа:

Все ли уголовные наказания в Российской Федерации назначаются по приговору суда?

- **да**
- нет
- нет, отдельные наказания (штраф, арест) накладываются иными государственными органами

ЗАДАНИЕ 24. Выберите правильный вариант ответа:

Фактическое допущение работника к работе без ведома или поручения работодателя либо его уполномоченного на это представителя

- **запрещается**
- разрешается
- разрешается, если работнику не менее 18 лет

ЗАДАНИЕ 25. Выберите правильный вариант ответа:

По общему правилу срочный трудовой договор заключается

- **на срок не более 5 лет**
- на срок не более 2 лет
- на срок не более 3 лет

2) открытые задания (ситуационные задачи, средний уровень сложности):

ЗАДАНИЕ 1. Является ли правомерным лишение гражданства Российской Федерации

в отношении гражданина Российской Федерации, осужденного за разглашение государственной тайны? Обоснуйте ответ.

Ответ: Нет. Согласно Конституции РФ гражданин Российской Федерации не может быть лишен своего гражданства или права изменить его.

ЗАДАНИЕ 2. В Центральную избирательную комиссию Российской Федерации поступило заявление урожденного гражданина России Н. о регистрации в качестве кандидата в Президенты Российской Федерации. Ему было отказано в регистрации, мотивируя отказ тем, что возраст Н. 30 лет. Правомерен ли отказ Центральной избирательной комиссии Российской Федерации? Обоснуйте ответ.

Ответ: Да. Согласно Конституции РФ Президентом Российской Федерации может быть избран гражданин Российской Федерации не моложе 35 лет.

ЗАДАНИЕ 3. Гражданин Н. был задержан сотрудниками органов внутренних дел на 72 часа, затем отпущен без объяснения причины задержания. Правомерно ли задержание лица на такой срок? Обоснуйте ответ.

Ответ: Нет. Согласно Конституции РФ до судебного решения лицо не может быть подвергнуто задержанию на срок более 48 часов.

ЗАДАНИЕ 4. Гражданин Российской Федерации в военкомате заявил, что убеждениям противоречит несение военной службы. Возможна ли в таком случае замена несения военной службы альтернативной гражданской службой? Обоснуйте ответ.

Ответ: Да. Согласно Конституции РФ гражданин Российской Федерации в случае, если его убеждениям противоречит несение военной службы, имеет право на замену ее альтернативной гражданской службой.

ЗАДАНИЕ 5. На период своей временной нетрудоспособности Президент Российской Федерации поручил исполнение своих обязанностей Председателю Совета Федерации Федерального Собрания Российской Федерации. Правильно ли поступил Президент РФ? Обоснуйте ответ.

Ответ: Нет. Согласно Конституции РФ во всех случаях, когда Президент Российской Федерации не в состоянии выполнять свои обязанности, их временно исполняет Председатель Правительства Российской Федерации.

ЗАДАНИЕ 6. В ходе Всероссийском переписи населения гражданин сообщил переписчику, что он представитель древнего народа - печенегов, и попросил внести эту информацию о себе в бланк переписи. Правомерно ли внесение информации о национальности со слов гражданина? Обоснуйте ответ.

Ответ: Да. Согласно Конституции РФ каждый вправе определять и указывать свою национальную принадлежность.

ЗАДАНИЕ 7. Президент Российской Федерации своим указом назначил Верховным Главнокомандующим Вооруженными Силами Российской Федерации министра обороны. Это правомерно? Обоснуйте ответ.

Ответ: Нет. Согласно Конституции РФ Президент Российской Федерации является Верховным Главнокомандующим Вооруженными Силами Российской Федерации.

ЗАДАНИЕ 8. В рамках реализации функции обеспечения проведения в Российской Федерации единой финансовой, кредитной и денежной политики Правительство Российской Федерации издало постановление «О денежной эмиссии». Правомерно ли это? Обоснуйте ответ.

Ответ: Нет. Согласно Конституции РФ денежная эмиссия осуществляется исключительно Центральным банком Российской Федерации.

ЗАДАНИЕ 9. Государственная Дума большинством голосов депутатов приняла решение об отрешении Президента Российской Федерации от должности. Это правомерно? Обоснуйте ответ.

Ответ: Нет. Согласно Конституции РФ Президент Российской Федерации может быть отрешен от должности Советом Федерации.

ЗАДАНИЕ 10. Гражданин Н., отбывающий наказание в виде лишения свободы, обратился в избирательную комиссию с заявлением о том, чтобы ему была предоставлена возможность голосования на выборах депутатов Государственной Думы. Будет ли ему предоставлено право участвовать в голосовании? Обоснуйте ответ.

Ответ: Нет. Согласно Конституции РФ не имеют права избирать граждане, содержащиеся в местах лишения свободы по приговору суда.

ЗАДАНИЕ 11. Депутат Государственной Думы Н. работает по совместительству преподавателем конституционного права в одном из высших учебных заведений. Является ли этот вид занятости депутата правомерным? Обоснуйте ответ.

Ответ: Да. Согласно Конституции РФ Депутаты Государственной Думы не могут находиться на государственной службе, заниматься другой оплачиваемой деятельностью, кроме преподавательской, научной и иной творческой деятельности.

ЗАДАНИЕ 12. Приказом директора государственного завода было предусмотрено, что все поступающие на работу должны пройти испытание не менее одного месяца. Прав ли директор? Обоснуйте ответ.

Ответ: Нет. Согласно Трудового кодекса РФ при заключении трудового договора в нем может быть предусмотрено условие об испытании работника по соглашению сторон.

ЗАДАНИЕ 13. При заключении трудового договора в него не были включены сведения об ИНН работника. Является ли это основанием для признания трудового договора незаключенным или его расторжения? Обоснуйте ответ.

Ответ: Нет. Согласно Трудового кодекса РФ если при заключении трудового договора в него не были включены какие-либо сведения из числа предусмотренных законом, то это не является основанием для признания трудового договора незаключенным или его расторжения.

ЗАДАНИЕ 14. Работник организации предупредил о досрочном расторжении трудового договора по его желанию работодателя за две недели. Это правомерно? Обоснуйте ответ.

Ответ: Да. Согласно Трудового кодекса РФ работник имеет право расторгнуть трудовой договор, предупредив об этом работодателя в письменной форме не позднее чем за две недели.

ЗАДАНИЕ 15. При поступлении на работу работодатель потребовал от гражданина предоставления страховой номер индивидуального лицевого счета (СНИЛС). Правомерно ли такое требование? Обоснуйте ответ.

Ответ: Да. Согласно Трудового кодекса РФ лицо, поступающее на работу, предъявляет работодателю документ, подтверждающий регистрацию в системе индивидуального (персонифицированного) учета

ЗАДАНИЕ 16. Во время рассмотрения темы «Источники права» студент Семенов объяснил, что нормативно-правовым актом следует считать обычай, установленный государством, и именно он обладает общеобязательной силой. По мнению студентки Вергизовой, нормативный правовой акт — это решение, которое принимается судом по конкретному делу, которое также обладает общеобязательной силой. Студент Петров был с этим не согласен. Он утверждал, что нормативный правовой акт — это официальный документ, который создан специально уполномоченными на то государственными органами и содержит общеобязательные юридические нормы. Кто из студентов дал правильный ответ? Обоснуйте свое решение.

Ответ: Студент Петров, т.к. нормативный правовой акт – это официальный документ, принятый в определенной форме правотворческим органом в пределах его компетенции и направленный на установление, изменение и отмену правовых норм. Это главный источник права для российской правовой системы.

ЗАДАНИЕ 17. Покупатель приобрёл в магазине автоматическую зубную щётку. Дома он обнаружил, что щётка не работает. В магазине товар не приняли, ссылаясь на то, что медицинские товары возврату и обмену не подлежат. Правы ли работники магазина? Обоснуйте ответ.

Ответ: Нет, не правы, в соответствии со ст. 503 Гражданского кодекса РФ, ст. 18 Закона «О защите прав потребителей» в случае обнаружения потребителем недостатков товара и предъявления требования о его замене продавец обязан заме-

нить такой товар на новый товар надлежащего качества. Продавец должен заменить неисправную щётку на такую же, только исправную, или вернуть деньги покупателю.

ЗАДАНИЕ 18. Покупательница обратилась в магазин с просьбой принять назад сапоги женские, не подошедшие ей по размеру и вернуть деньги. Товар был приобретен несколько часов назад. Продавец отказался произвести такой обмен. Прав ли продавец? Обоснуйте ответ.

Ответ: Нет, не прав. В соответствии со ст. 25 Закона РФ от 07.02.1992 «О защите прав потребителей» Потребитель вправе обменять непродовольственный товар надлежащего качества на аналогичный товар у продавца, у которого этот товар был приобретен, если указанный товар не подошел по форме, габаритам, фасону, расцветке, размеру или комплектации. Таким образом, покупатель может запросить любой фасон и расцветку, заведомо не имеющуюся у продавца и тот будет обязан возратить деньги.

ЗАДАНИЕ 19. Когда студент-вечерник Соколов возвращался домой, к нему на пустынной улице подошли двое его знакомых. Они попросили у него сигареты, и, получив отказ, избili Соколова. Соколов побежал звать на помощь своих друзей. Через полчаса они нашли обидчиков и нанесли им телесные повреждения средней тяжести. Можно ли их действия считать необходимой обороной? Обоснуйте ответ.

Ответ: Нет. Уголовное законодательство в качестве обстоятельства, исключающего преступность деяния, признает необходимую оборону, понятие необходимой обороны закреплено в статье 37 Уголовного кодекса РФ.

Условия правомерности необходимой обороны:

- посягательство должно быть общественно опасным, т.е. оно должно причинять (либо создавать угрозу причинения) вреда охраняемым общественным интересам;
- наличность посягательства;
- действительность посягательства, т.е. оно должно существовать фактически, а не в воображении обороняющегося.

В данном случае посягательство на Соколова было уже закончено, угрозы не существовало. Действия Соколова и его друзей были направлены на последующую месть. Поэтому данные действия не могут быть признаны необходимой обороной и являются преступными.

ЗАДАНИЕ 20. Член конкурсной комиссии образовательной организации позвонил одному из исполнителей ранее выполненных государственных контрактов, чтобы сообщить информацию о том, что будет объявлен новый конкурс, и предложил данному лицу принять в нем участие. Имеет ли место в данном случае коррупция? Обоснуйте ответ.

Ответ: Нет. Само по себе информирование о предстоящем конкурсе не является проявлением коррупции

ЗАДАНИЕ 21. Начальнику Управления организации оценки федерального имущества Федерального агентства по управлению государственным имуществом Алымову В.В. в период командировки была преподнесена картина, которую он принял, и в последующем повесил ее в своем кабинете. Правомерно ли поступил Алымов В.В.? Обоснуйте ответ.

Ответ: Нет, неправомочно. Подарки, полученные государственным служащим в связи с протокольными мероприятиями, со служебными командировками и с другими официальными мероприятиями, признаются федеральной собственностью или собственностью субъекта РФ и подлежат сдаче в орган, в котором госслужа-

щий проходит службу (п. 7 ч. 3 ст. 12.1 Закона от 25.12.2008 N 273-ФЗ). За нарушение установленных ограничений, в том числе в отношении получения подарков, он может быть привлечен к дисциплинарной (замечание, выговор, предупреждение о неполном должностном соответствии, увольнение в связи с утратой доверия), а также к административной ответственности (ст. 19.28 КоАП РФ; п. 1.1 ч. 1 ст. 37, ст. ст. 59.1, 59.2 Закона N 79-ФЗ).

ЗАДАНИЕ 22. Инспектор по особым поручениям отдела по взаимодействию с территориальными органами МВД России Исаев И.И. получил через посредника 50 тысяч рублей от заместителя начальника одного из следственных отделов МВД Воронежской области. Денежные средства были переданы за помощь в прохождении военно-врачебной комиссии в медико-санитарной части. Имеет ли место в данном казусе коррупция? Обоснуйте ответ.

Ответ: Да. Действия Исаева содержат признаки преступления, предусмотренные ст. 290 УК РФ (ч.1. ст. 290 УК РФ).

ЗАДАНИЕ 23. ООО «ЛИБЕР» договаривается с депутатом Государственной Думы Российской Федерации, что он проголосует в Государственной Думе так, как это выгодно Обществу, взамен на долю в ООО «ЛИБЕР». Имеет ли место в данном казусе коррупция? Обоснуйте ответ.

Ответ: Да. Коррупция – злоупотребление служебным положением, дача взятки, получение взятки, злоупотребление полномочиями, коммерческий подкуп либо иное незаконное использование физическим лицом своего должностного положения вопреки законным интересам общества и государства в целях получения выгоды в виде денег, ценностей, иного имущества или услуг имущественного характера, иных имущественных прав для себя или для третьих лиц либо незаконное предоставление такой выгоды указанному лицу другими физическими лицами (ст.1 ФЗ «О противодействии коррупции»).

ЗАДАНИЕ 24. Пациент районной Аннинской больницы Володин Е.Е. регулярно передает денежные средства врачу Пенкину А.А. за обслуживание вне очереди. Также Пенкин А.А. предоставляет необходимые для лечения бронхиальной астмы пациента лекарства. Имеет ли место в данном казусе коррупция? Обоснуйте ответ.

Ответ: Да. В соответствии с российским законодательством, и получение незаконного вознаграждения мед. работником, и дача взятки врачу квалифицируются как уголовные правонарушения (ст. 290,291 УК РФ).

Б1.О.09 Основы проектного менеджмента

1) закрытые задания (тестовые, средний уровень сложности):

1. Выберите наиболее полное определение проекта, используемое в проектном менеджменте.
 - а) «Проект - комплекс взаимосвязанных мероприятий, направленных на решение поставленных задач с четко определенными целями в течение заданного периода времени и при установленном бюджете»
 - б) «Проект - предприятие, направленное на решение поставленных задач с четко определенными целями в течение заданного периода времени и при установленном бюджете»
 - в) «Проект - деятельность, направленная на решение поставленных задач с четко определенными целями в течение заданного периода времени и при установленном бюджете»

Ответ: а.

2. Цель проекта в теории проектного менеджмента – это...

- а) желаемый результат деятельности, достигаемый в итоге успешного осуществления проекта в заданных условиях его выполнения;
- б) направления и основные принципы осуществления проекта;
- в) получение прибыли;
- г) причина существования проекта.

Ответ: а.

3. Верно ли утверждение из теории проектного менеджмента, что «ИСП — это метод планирования работ, который обычно иллюстрируют в виде многоуровневой схемы задач, где главная задача — это масштабная цель, которая разбивается на этапы, а затем на более мелкие задачи и подзадачи — понятные и достижимые?»

- а) верно;
- б) неверно.

Ответ: а.

4. Верно ли утверждение из теории проектного менеджмента, что «ИСП позволяет команде сфокусироваться на выполнении конкретных измеримых задач и контрольных точек проекта, что помогает достичь поставленных целей быстрее и эффективнее?»

- а) верно;
- б) неверно.

Ответ: а.

5. Какую степень детализации выбирают при формировании иерархической структуры работ в проектном менеджменте:

- а) деление происходит до того момента, когда все необходимые работы для достижения результата учтены и на каждую работу можно назначить исполнителя;
- б) деление происходит до одного работника;
- в) деление происходит до одного вида оборудования;
- г) деление происходит до одного дня.

Ответ: а.

6. Выберите нужное утверждение: «Документ со списком работ в определённой последовательности и с установленными сроками в проектном менеджменте называется...»

- а) план-график проекта;
- б) иерархическая структура работ;
- в) устав проекта;
- г) концепция проекта.

Ответ: а.

7. Верно ли утверждение из теории проектного менеджмента, что «ИСП не включает в себя информацию о сроках и ресурсах?»

- а) верно;
- б) неверно.

Ответ: а.

8. Какой документ по проекту в теории проектного менеджмента определяется как «первый официальный документ проекта, подтверждающий существование проекта?»

- а) устав проекта;
- б) смета работ по проекту;

- в) договор на оказание услуг по разработке проекта;
- г) переписка с Заказчиком.

Ответ: а.

9. Как называется в проектном менеджменте временной промежуток между началом реализации и окончанием проекта?

- а) стадия проекта;
- б) жизненный цикл проекта;
- в) результат проекта;
- г) время работ по проекту.

Ответ: б.

10. Календарный план в проектном менеджменте – это:

- а) документ, устанавливающий полный перечень работ проекта, их взаимосвязь, последовательность и сроки выполнения, продолжительности, а также исполнителей и ресурсы, необходимые для выполнения работ проекта;
- б) сетевая диаграмма;
- в) план по созданию календаря;
- г) документ, устанавливающий основные ресурсные ограничения проекта.

Ответ: а.

11. Диаграмма Ганта в проектном менеджменте это...

- а) горизонтальная линейная диаграмма, на которой иерархическая структура работ представляются протяженными во времени отрезками, характеризующимися временными и другими параметрами;
- б) документ, устанавливающий основные ресурсные ограничения проекта;
- в) графическое изображение иерархической структуры всех работ проекта без отображения их длительности и привязки к временным интервалам;
- г) дерево ресурсов проекта;
- д) организационная структура команды проекта в графическом представлении.

Ответ: а.

12. Веха (фаза) в проектном менеджменте – это:

- а) набор логически взаимосвязанных работ проекта, в процессе завершения которых достигается один из основных результатов проекта;
- б) полный набор последовательных работ проекта;
- в) ключевое событие проекта, используемое для осуществления контроля над ходом его реализации;
- г) период времени, в течение которого в проекте нет особых изменений.

Ответ: в.

13. Инициация проекта является стадией в процессе управления проектом, по итогам которой:

- а) объявляется окончание выполнения проекта;
- б) санкционируется начало проекта;
- в) утверждается укрупненный проектный план;
- г) принимается решение об утверждении состава работ по проекту.

Ответ: б.

14. Реализация проекта в проектном менеджменте – это стадия процесса управления проектом, результатом которой является:

- а) санкционирование начала проекта;
- б) утверждение сводного плана;
- в) осуществление проектных работ и достижение проектных целей;
- г) архивирование проектной документации и извлеченные уроки.

Ответ: в.

15. Завершение проекта в проектном менеджменте – это стадия процесса управления проектом, включающая процессы:

- а) формирования концепции проекта;
- б) формирования сводного плана проекта;
- в) осуществления всех запланированных проектных работ;
- г) ввода в эксплуатацию и принятия проекта заказчиком, документирования и анализа опыта реализации проекта.

Ответ: г.

16. Методы сетевого планирования в проектном менеджменте основываются на методах оценки и пересмотра планов и...

- а) построении стрелочных диаграмм;
- б) структурной декомпозиции работ;
- в) критического пути;
- г) сроков сдачи работ.

Ответ: в.

17. Метод контроля фактического выполнения работ по проекту, в котором работа делится на части, каждая из которых подразумевает определенную степень завершенности работы, является методом по...

- а) узлам;
- б) контрольными точкам;
- в) вехам (фазам);
- г) событиям.

Ответ: в.

18. Метод освоенного объема в проектном менеджменте позволяет:

- а) определить отставание/опережение хода реализации работ по графику и перерасход/экономии бюджета проекта;
- б) оптимизировать сроки выполнения проекта;
- в) определить продолжительность отдельных работ проекта;
- г) освоить максимальный объем бюджетных средств.

Ответ: а.

19. Верно ли утверждение из теории проектного менеджмента, что «Непосредственное инициирование проекта включает в себя: принятие решения о начале проекта, определение и назначение управляющего проектом и принятие решения об обеспечении ресурсами выполнения первой фазы проекта»?

- а) верно;
- б) неверно.

Ответ: а.

20. Для чего в проектном менеджменте используется метод критического пути?

- а) для определения сроков выполнения некоторых процессов проекта;
- б) для определения возможных рисков;
- в) для оптимизации в сторону сокращения сроков реализации проекта;
- г) для управления взаимодействием исполнителей.

Ответ: в.

21. Верно ли утверждение из теории проектного менеджмента, что критический путь включает наиболее сложные и продолжительные операции?

- а) верно;
- б) неверно.

Ответ: б.

22. Для распределения ответственности между участниками проекта в проектном менеджменте используется:

- а) матрица RACI;
- б) матрица PMI;
- в) матрица SMART;
- г) матрица IUP.

Ответ: а.

23. Какого вида показатели используются для оценки эффективности проектов в проектном менеджменте?

- а) количественные;
- б) качественные;
- в) количественные и качественные;
- г) любого вида, в том числе неопределенного.

Ответ: в.

24. Верно ли утверждение теории проектного менеджмента, что «Оценка эффективности проекта – это процесс анализа затрат ресурсов на реализацию проекта и полученных результатов, его соответствия поставленным целям и ожиданиям всех участников»?

- а) верно;
- б) неверно.

Ответ: а.

25. Верно ли утверждение, что «В терминологии проектного менеджмента формулировка и определения проектных KPI совпадает с выделением **вех (фаз)** проекта»?

- а) верно;
- б) неверно.

Ответ: а.

2) открытые задания (тестовые, повышенный уровень сложности):

1. Выберите критерии, согласно которым в рамках теории проектного менеджмента формулируется SMART-цель (ответ запишите в виде последовательности цифр без пробелов, например «35»):

1) цель должна быть измеримой, т.е. должны быть указаны конкретные показатели и их значения, по которым определяется степень достижения цели;

- 2) цель должна быть согласована всеми заинтересованными сторонами;
- 3) цель должна быть с указанием даты получения результата;
- 4) цель должна быть сформулирована в одном предложении;
- 5) цель должна включать в себя перечень ответственных за ее достижение

Ответ: 123.

2. Расставьте этапы жизненного цикла проекта в нужном порядке (ответ запишите в виде последовательности цифр без пробелов, например «35»):

- 1) начало проекта;
- 2) организация и подготовка;
- 3) выполнение работ проекта;
- 4) завершение проекта.

Ответ: 1234.

3. Система контроля, согласно теории проектного менеджмента, будет эффективной при обязательном наличии... (ответ запишите в виде последовательности цифр без пробелов, например «35»):

- 1) планов работ;
- 2) системы отчетности;
- 3) внешнего независимого аудита;
- 4) электронного документооборота;
- 5) программного обеспечения для контроля над выполнением работ;
- 6) отдела контроля в организационной структуре проектной команды.

Ответ: 12.

4. Сопоставьте роли, которые должны быть определены согласно теории проектного менеджмента в организационной структуре каждого проекта (независимо от его специфики), с их определениями (ответ представьте в виде последовательности цифр и букв без пробелов, например «2Г3а»):

Роли

- 1) Заказчик проекта
- 2) Руководитель проекта
- 3) Куратор проекта
- 4) Команда проекта
- 5) Заинтересованные стороны

Определения:

- а) лицо, ответственное за обеспечение проекта ресурсами и осуществляющее административную, финансовую и иную поддержку проекта;
- б) физическое или юридическое лицо, которое является владельцем результата проекта;
- в) лицо, осуществляющее управление проектом и ответственное за результаты проекта;
- г) лица или организации, чьи интересы могут быть затронуты в ходе реализации проекта;
- д) совокупность лиц, групп и организаций, объединенных во временную организационную структуру для выполнения работ проекта.

Ответ: 1б2в3а4д5г.

5. Добавьте в определение из теории проектного менеджмента пропущенное слово «Управление ... проекта включает в себя процессы, необходимые для идентификации, приобретения и управления ..., необходимыми для успешного выполнения проекта». Ответ запишите русскими буквами в нижнем регистре, в том падеже, как его следует добавить в текст.

Ответ: ресурсами.

6. К какому методу оценки выполнения проектных работ в проектном менеджменте относятся следующие показатели: оптимистичная оценка длительности задачи, наиболее вероятная оценка длительности задачи, пессимистичная оценка длительности задачи? Ответ запишите латинскими буквами в верхнем регистре.

Ответ: PERT.

7. Какой аббревиатурой обозначается в проектном менеджменте метод освоенного объема? Ответ запишите латинскими буквами в верхнем регистре.

Ответ: EVA.

8. К какому методу оценки выполнения проектных работ в проектном менеджменте относятся следующие показатели: PV— плановый объём, CV-отклонение по стоимости, SV- отклонение по срокам, CPI— индекс выполнения стоимости, SPI— индекс выполнения сроков? Ответ запишите латинскими буквами в верхнем регистре.

Ответ: EVA.

9. Для оценки степени достижения целей проектов в проектном менеджменте используются проектные ключевые показатели эффективности, называемые также ... Ответ запишите латинскими буквами в верхнем регистре.

Ответ: KPI.

10. Добавьте пропущенное слово в определении из проектного менеджмента «Суждение, предоставляемое на основании компетентности в прикладной области, области знаний, сфере деятельности, отрасли и т. д., соответствующих выполняемой операции является ... оценкой. Ее могут давать как группы, так и отдельные лица, имеющие специальное образование, знания, навыки, опыт или подготовку». Ответ запишите русскими буквами в нижнем регистре, в том падеже, как его следует добавить в текст.

Ответ: экспертная.

УК-3. Способен осуществлять социальное взаимодействие и реализовывать свою роль в команде

Период окончания формирования компетенции: 8 семестр

Перечень дисциплин (модулей), практик, участвующих в формировании компетенции:

Дисциплины (модули):

Б1.О.10 Психология личности и её саморазвития (8 семестр)

Б1.О.10 Психология личности и её саморазвития

1) закрытые задания (тестовые, средний уровень сложности):

ЗАДАНИЕ 1. Выберите правильный вариант ответа:

С целью успешного выполнения учебной и профессиональной деятельности человек осуществляет самодиагностику и использует метод исследования, предполагающий специальную организацию ситуации исследования, вмешательство исследователя в нее с целью вызвать изучаемое явление. Как называется этот метод?

- тест
- проективный метод
- **эксперимент**
- наблюдение

ЗАДАНИЕ 2. Выберите правильный вариант ответа:

С целью успешного выполнения учебной и профессиональной деятельности человек осуществляет самодиагностику и использует метод пассивного и непосредственного исследования реальности, когда он не может вмешиваться в ситуацию. Как называется этот метод?

- эксперимент
- тест
- **наблюдение**
- беседа

ЗАДАНИЕ 3. Выберите правильный вариант ответа:

При организации совместной работы в команде важно учитывать особенности личности каждого члена команды. Необходимо знать, что личность в психологии – это

- индивид, имеющий заслуги в определенной сфере деятельности
- человек во всех своих проявлениях
- **человек как общественный субъект, носитель индивидуальности, которая раскрывается в ходе функционирования в общественной жизни**
- социальный индивид

ЗАДАНИЕ 4. Выберите правильный вариант ответа:

Как называется вид деятельности, целью которого является приобретение человеком знаний, умений и навыков, которые впоследствии реализуются в деятельности?

- труд
- игра
- **учение**
- работа

ЗАДАНИЕ 5. Выберите правильный вариант ответа:

С целью эффективного взаимодействия в команде и определения своей роли в ней личность опирается на обобщенные и обширные знания психологии, что соответствует

- **научной психологии**
- фундаментальной психологии
- житейской психологии
- общей психологии

ЗАДАНИЕ 6. Выберите правильный вариант ответа:

Выбор профессиональной деятельности, в частности, опирается на учет конкретных психофизических и биологических черт, что характеризует отдельное живое существо, представителя биологического вида – это характеристика

- личности
- **индивида**
- человека
- субъекта

ЗАДАНИЕ 7. Выберите правильный вариант ответа:

Как называется способность оказывать влияние на отдельные группы и личности и направлять их способности на достижение цели организации?

- власть
- **лидерство**
- влияние
- индивидуальный стиль деятельности

ЗАДАНИЕ 8. Выберите правильный вариант ответа:

Если человек в команде проявляет такие качества, как самокритичность, скромность, гордость, это характеризует

- его отношение к вещам
- его отношение к другим людям
- **систему отношений человека к самому себе**
- особенности выполнения им какой-либо деятельности

ЗАДАНИЕ 9. Выберите правильный вариант ответа:

Как называется способность человека к длительному и неослабному напряжению энергии, неуклонное движение к намеченной цели при работе в команде?

- сознательность
- оптимизм
- трудолюбие
- **настойчивость**

ЗАДАНИЕ 10. Выберите правильный вариант ответа:

Мотив – это

- **материальный или идеальный предмет, который побуждает и направляет на себя деятельность, и ради которого она осуществляется**
- состояние нужды организма (индивида, личности) в чем-то, необходимом для нормального существования
- потребность в познании окружающей среды и себя, в творчестве, эстетических наслаждениях и т.п.

ЗАДАНИЕ 11. Выберите правильный вариант ответа:

При работе в команде важно учитывать особенности характера каждого. Характер понимается как

- **индивидуальное сочетание устойчивых психических особенностей человека, обуславливающих типичный для данного субъекта способ поведения в определенных жизненных условиях и обстоятельствах**
- форма направленности личности, представляющая собой систему мотивов личности
- отличительный признак, который человек заимствует в социальных отношениях
- индивидуально своеобразная, природно обусловленная совокупность динамических проявлений психики

ЗАДАНИЕ 12. Выберите правильный вариант ответа:

При распределении ролей в команде следует учитывать свойства человека, обусловленные генетическими факторами. Эти свойства относятся к

- воспитанности
- **задаткам**
- авторитету
- обученности

ЗАДАНИЕ 13. Выберите правильный вариант ответа:

При работе в команде каждому члену коллектива следует учитывается такой высший регулятор поведения человека, как

- убеждения
- **мировоззрение**
- установки
- мотивация

ЗАДАНИЕ 14. Выберите правильный вариант ответа:

Для волевого регулирования присущи ... действия.

- **сознательные**
- неосознанные
- интуитивные
- произвольные

ЗАДАНИЕ 15. Выберите правильный вариант ответа:

Планирование действий для достижения заданного результата, а также их корректировка связана с формированием самосознания личности. Самосознание в психологии определяется как

- **осознание собственных потребностей, способностей, мотивов поведения, мыслей, качеств**
- анализ поступков
- ориентация на успешность реализации в деятельности
- установка на предначертанность жизненного пути

ЗАДАНИЕ 16. Выберите правильный вариант ответа:

Для эффективного взаимодействия в команде важно осознавать и определять свой тип темперамента. Как называется темперамент, которому соответствуют следующие характеристики: чувства возникают быстро, отличаются высокой интенсивностью и устойчивостью, активны, энергичны, экстраверты, но нервны и резки в общении, не умеют сдерживать эмоции?

- **холерик**
- сангвиник
- меланхолик
- флегматик

ЗАДАНИЕ 17. Выберите правильный вариант ответа:

Проявление в командной работе таких характеристик как нерешительность (особенно при необходимости сделать самостоятельный выбор); тревожная мнительность, которая выступает защитой от постоянной тревоги и проявляется в выдумывании примет и ритуалов, является акцентуацией характера и относится к ... типу.

- сензитивному
- лабильному
- **психастеническому**

- гипертимному

ЗАДАНИЕ 18. Выберите правильный вариант ответа:

Эффективное взаимодействие с другими членами группы (команды) обусловлено сформированностью у личности, системы мотивов, побуждающих человека поступать в соответствии со своими взглядами и принципами, что характеризует его

- интерес
- **убеждение**
- склонность
- мировоззрение

ЗАДАНИЕ 19. Выберите правильный вариант ответа:

Эффективность командной работы связана с темпераментными особенностями отдельной личности. Достоинство меланхолического темперамента в том, что люди с этим типом

- **обладают глубиной чувств и никогда не обещают того, что не в состоянии сделать**
- обладают быстрой реакцией, легко приспосабливаются к изменяющимся условиям жизни
- прикладывают значительные усилия для достижения цели в короткий промежуток времени
- умеют не бояться трудностей

ЗАДАНИЕ 20. Выберите правильный вариант ответа:

Как называется самовосприятие человека как члена определенной группы или нескольких групп?

- коллективистическое самосознание
- **групповая идентичность**
- групповая сплоченность
- коллективная принадлежность

ЗАДАНИЕ 21. Выберите правильный вариант ответа:

Как называются препятствия, барьеры в общении, которые проявляются у партнеров в непонимании высказываний, требований, предъявляемых друг другу?

- профессиональные барьеры
- эмоциональные барьеры
- физические барьеры
- **смысловые барьеры**

ЗАДАНИЕ 22. Выберите правильный вариант ответа:

Как называется передача эмоционального состояния человеку или группе помимо собственно смыслового воздействия?

- убеждение
- **психическое заражение**
- поддержка
- сочувствие

ЗАДАНИЕ 23. Выберите правильный вариант ответа:

Какой вид общения Вы выберете при желании и умении выразить свою точку зрения и учесть позиции других?

- примитивное

- **открытое**
- ролевое
- закрытое

ЗАДАНИЕ 24. Выберите правильный вариант ответа:

Руководитель команды должен иметь способности внушения, существенный признак которого – это

- недоверие
- **некритическое восприятие информации**
- критичность
- подверженность стереотипам

ЗАДАНИЕ 25. Выберите правильный вариант ответа:

При работе в команде следует избегать манипулирующего воздействия на человека, что проявляется в

- **использовании человека в корыстных целях**
- демонстрации своей позиции
- резком отрицании мнения оппонентов
- покровительственном отношении к человеку

2) открытые задания (тестовые, повышенный уровень сложности):

ЗАДАНИЕ 1. Как называется относительно устойчивый и упрощенный образ, складывающийся в условиях дефицита информации как результат обобщения личного опыта индивида и предвзятых представлений, принятых в обществе (профессиональном коллективе)?

Ответ: стереотип

ЗАДАНИЕ 2. Руководитель, который способен применять психологические знания для анализа и критической оценки эффективности собственных ресурсов и ресурсов команды, способствует наивысшему уровню развития команды, характеризующейся межгрупповым единством, тесными связями с другими командами. Как называется такая команда?

Ответ: коллектив

ЗАДАНИЕ 3. Как называется познавательная активность, направленная на предметы и явления окружающего мира, на освоение выбранной профессии?

Ответ: интерес

ЗАДАНИЕ 4. Как называется образ желаемого результата, который должен быть достигнут в процессе деятельности?

Ответ: цель

ЗАДАНИЕ 5. Как называется общность людей, обладающая единой целью, традициями, обычаями, для которой характерно распределение ролей, функций, обязанностей между ее членами?

Ответ: группа

ЗАДАНИЕ 6. Группа, для которой характерны отчетливая система власти-подчинения, наличие нормативного документа ее регулирующего, четкая заданность позиций ее членов является

Ответ: формальной

ЗАДАНИЕ 7. Для эффективного осуществления профессиональной деятельности важно развитие познавательной способности, которая определяет готовность человека к усвоению и использованию знаний и опыта, к разумному поведению в проблемных ситуациях. Как называется данная способность?

Ответ: интеллект

ЗАДАНИЕ 8. Как называется состояние нужды организма (индивида, личности) в чем-то, обеспечивающее стремление к достижению цели?

Ответ: потребность

ЗАДАНИЕ 9. Стремление личности к достижению целей той степени сложности, на которую она считает себя способной, проявляется как

Ответ: притязание/уровень притязаний

ЗАДАНИЕ 10. При работе в команде человеку какого типа темперамента Вы поручите монотонную, однообразную работу?

Ответ: флегматик/флегматичный

ЗАДАНИЕ 11. Направленность на людей, общительность, инициативность, вместо обращенности на себя свойственны людям какого типа?

Ответ: экстраверт

ЗАДАНИЕ 12. При распределении командных ролей Вы обнаружили, что человек плаксив, обидчив, придает большое значение всему, что его касается, обладает повышенной тревожностью и ранимой душой. Какой это тип темперамента?

Ответ: меланхолик/меланхолическим

ЗАДАНИЕ 13. Как называются психологические трудности, возникающие в процессе общения, служащие причиной конфликтов или препятствующие взаимопониманию и взаимодействию?

Ответ: барьеры общения

ЗАДАНИЕ 14. В вашей команде есть человек, который проявляет свободу от внешних влияний и принуждений, готовность осуществлять деятельность без опоры на постороннюю помощь. Как называется эта способность?

Ответ: самостоятельность

ЗАДАНИЕ 15. Как называются правила и требования, которые приняты в соответствующей команде на определенном этапе его развития?

Ответ: норма

3) открытые задания (мини-кейсы, средний уровень сложности):

ЗАДАНИЕ 1. Директор предприятия по выпуску игрушек решил повысить уровень креативности своих сотрудников. Он предложил с этой целью следующие рекомендации:

- 1) не жалеете времени и выдвигайте как можно больше идей;
 - 2) не предлагайте фантастические варианты, те, которые нельзя воплотить в жизнь;
 - 3) обсуждайте свои идеи с коллегами;
 - 4) отбрасывайте идеи, которые могут потребовать больших затрат;
 - 5) старайтесь, чтобы ваше изобретение соответствовало имиджу компании по производству игрушек;
 - 6) постарайтесь придумать, как можно использовать наше оборудование в других целях.
- Какие из перечисленных рекомендаций будут продуктивными и почему?

Ответ: Продуктивными можно считать 1, 3 и 6 рекомендации. Они дают свободу действий, позволяют создавать и обсуждать идеи, по-новому смотреть на вещи, не ограничивают сотрудников в версиях. Эти условия способствуют созданию нового, т.е. развитию креативности.

ЗАДАНИЕ 2. В компании сотрудницу повысили в должности и перевели в другое подразделение. Ее новая начальница, практически не давала ей работать: критиковала ее действия, запрещала подчиненной принимать даже текущие мелкие решения. Выходом из данной ситуации стало подчеркнуто уважительное отношение сотрудницы к своей начальнице, стремление постоянно советоваться с ней, преподносить собственные решения так, будто именно руководительница подала идею подчиненной.

На какой компонент в структуре личности начальницы надо обратить внимание для объяснения причин ее поведения с сотрудницей? В чем причина такого общения с подчиненной на ваш взгляд?

Ответ: Надо обратить внимание на направленность личности руководителя, а именно на ее мотивы и интересы. Видимо, опасаясь за свое положение, и не веря в компетентность сотрудницы начальница выбрала такой способ взаимодействия.

ЗАДАНИЕ 3. Перед руководителем отдела в небольшой торговой компании стоит задача распределить обязанности между подчиненными на время своего отсутствия на работе. Подчиненные:

1) Иван обладает аналитическим складом ума, у него хорошо развиты организационные навыки. Сосредоточен, при оформлении документов не допускает ошибок. Жесткий, директивный в общении;

2) Михаил — творческий человек, с легкостью придумывает новые идеи, но не всегда доводит их до конца. Ошибается при работе с числами и в расчетах. Вспыльчив, может затевать интриги в отделе.

Обязанности следующие:

1) постановка задач, организация работы, координирование деятельности сотрудников (на время вашего отсутствия);

2) подготовка презентации к переговорам с клиентом;

3) анализ и статистика продаж;

4) урегулирование возможных спорных моментов договорных обязательств;

5) организация и проведение специальных акций;

6) анализ новинок компании.

Помогите распределить обязанности между сотрудниками и аргументируйте ответ.

Ответ: Ивану можно доверить 1, 3, 4 обязанности. Эти обязанности требуют организационных навыков и аналитического склада ума, которыми обладает Иван. Вызывает опасение как он справится с 4 обязанностью, но директивность в общении в этом случае лучше вспыльчивости Михаила.

Михаилу подойдут 2, 5 и 6 обязанности. Они требуют проявления творчества, не связаны с жестким регламентом, ошибки в их выполнении не критичны.

ЗАДАНИЕ 4. Руководитель команды имеет ряд полномочий. Такие как:

1) контроль результатов работы;

2) полномочия, способствующие профессиональному росту сотрудников;

3) принятие стратегических решений;

4) рутинную работу;

5) частные вопросы;

6) подготовительные операции;

7) установление целей.

Укажите какие из перечисленных полномочий руководитель не может делегировать в условиях дефицита времени. Дайте обоснование своего ответа.

Ответ: 1, 3, 7 не может делегировать. Направленность личности руководителя отражается в направленности деятельности коллектива. Успех работы команды зависит от того, как руководитель будет выстраивать эту работу. Поэтому ключевые задачи, обеспечивающие глобальную реализацию целей, руководитель не может никому делегировать.

ЗАДАНИЕ 5. Молодому специалисту компания предоставила возможность участвовать в международной конференции, где можно познакомиться с новейшими разработками, но также необходимо выступить с докладом. Немного подумав, молодой специалист отказался. Проанализируйте возможную причину отказа, если известно, что никаких личных причин у молодого специалиста не было.

Ответ: Скорее всего специалист отказался, испугавшись публичного выступления, или мероприятия с большим количеством людей. В этом случае необходимо развивать навыки публичного выступления, формировать стрессоустойчивость.

ЗАДАНИЕ 6. Перед руководителем отдела в небольшой торговой компании стоит задача распределить обязанности между подчиненными на время своего отсутствия на работе. Подчиненные:

1) Ольга аккуратна при работе с документами, редко допускает ошибки при расчетах, обладает аналитическим складом ума, хорошо развиты организационные навыки. Обидчива, все замечания принимает в штыки. Уверена, что ее недооценивают как сотрудника.
2) Олег обладает среднеразвитыми профессиональными навыками, но эффективно проводит презентации. Любит быть в центре внимания, периодически критикует коллег за их ошибки и является инициатором многих конфликтов.

Обязанности следующие:

1) постановка задач, организация работы, координирование деятельности сотрудников (на время вашего отсутствия);
2) анализ и статистика продаж;
3) подготовка презентации к переговорам с клиентом;
4) проведение переговоров с клиентом;
5) анализ остатков товара на складе, еженедельных, ежедневных отчетов;
6) регулирование претензий клиентов;
7) отслеживание платежей клиента.

Помогите распределить обязанности между сотрудниками и аргументируйте ответ.

Ответ: Ольге можно доверить 1, 2, 5, 6, 7 обязанности. Т.к. аккуратность работы с документами и организационные навыки, которыми она обладает востребованы в этих обязанностях.

Олег может выполнять 3, 4, 6 обязанности. Он эффективно проводит презентации, поэтому сам их может подготовить. 6 обязанность требует взаимодействия с людьми, он может с этим справиться, т.к. проведение презентаций предполагает сформированность этого навыка.

ЗАДАНИЕ 7. Представьте, что вы – руководитель предприятия. И выбираете специалиста по связям с общественностью, опираясь только на тип темперамента личности. Человека какого типа темперамента вы можете выбрать на эту должность и почему?

Ответ: На эту должность подойдет коммуникабельный, активный, оптимистичный человек, умеющий быстро включаться в работу. Поэтому сангвиник или холерик вполне справились бы с данной должностью. Нужно только помнить, что сангвиники могут не доводить начатое дело до конца, а холерики чрезмерно эмоциональны и резки в поведении.

ЗАДАНИЕ 8. При подготовке к семинару студент столкнулся с трудностями в поиске необходимой литературы и в результате не смог ответить на семинаре. Все остальные студенты отыскивали необходимые литературные источники. Какие личностные качества не позволили студенту добиться успешного ответа на семинаре и почему?

Ответ: Не развитые коммуникативные качества, неусидчивость, отсутствие находчивости. Он мог бы уточнить у педагога какой литературой воспользоваться, выяснить это у одногруппников, применить креативный способ поиска литературы.

ЗАДАНИЕ 9. Определите о проявлении каких компонентов личности идет речь. Дайте обоснование своего ответа.

Сотрудник, нервный, самолюбивый и раздражительный молодой человек, не терпел никаких возражений со стороны коллег. Если с ним не соглашались, он устраивал скандал, использовал нецензурную лексику, повышал голос. На критику молодой реагировал бурно, не умел спокойно отстаивать свою мысль.

Ответ: Здесь проявляются темперамент и характер молодого специалиста. Темперамент в большей степени: несдержанность в проявлении эмоций, бурные реакции. Но вот самолюбие, не терпимость возражений и критики – это черты характера.

ЗАДАНИЕ 10. Люди обычно по-разному реагируют на неудачи в деятельности, направленной на достижение целей. Например, при решении сложных задач одни после первой неудачи пытаются решить ее во второй и третий раз, другие, наоборот, после первой же попытки оставляют эту задачу и хотят решать только более легкие. Как называется такая, лежащая в основе поведения, особенность личности? Почему Вы так считаете?

Ответ: Воля/волевые качества и самооценка личности. Умение идти к намеченной цели лежит в основе волевого поведения, а вера в то, что ты можешь справиться с трудностью – основа самооценки личности.

УК-4. Способен осуществлять деловую коммуникацию в устной и письменной формах на государственном языке Российской Федерации и иностранном(ых) языке(ах)

Период окончания формирования компетенции: 4 семестр

Перечень дисциплин (модулей), практик, участвующих в формировании компетенции:

Дисциплины (модули):

Б1.О.03 Иностранный язык (1, 2, 3, 4 семестры)

Б1.О.06 Деловое общение и культура речи (2 семестр)

Б1.О.03 Иностранный язык

1) закрытые задания (тестовые, средний уровень сложности):

ЗАДАНИЕ 1. Choose the correct alternative to complete the tip for making a successful career.

(Выберите правильный вариант совета, как сделать успешную карьеру.)

Understand ... motivates you and be true to yourself.

- **what**
- that
- which

ЗАДАНИЕ 2. Choose the correct alternative to complete the tip for making a successful career.

(Выберите правильный вариант совета, как сделать успешную карьеру.)

Be positive. This ... your chances of promotion.

- have
- will reduce
- **will improve**

ЗАДАНИЕ 3. Choose the correct alternative to complete the tip for making a successful career.

(Выберите правильный вариант совета, как сделать успешную карьеру.)

Remember that social ... can be a great place to get yourself noticed.

- **events**
- programmes
- security

ЗАДАНИЕ 4. Choose the correct alternative to complete the tip for making a successful career.

(Выберите правильный вариант совета, как сделать успешную карьеру.)

Update ... CV – and if you do not have an electronic version, get one.

- **your**
- his
- yours

ЗАДАНИЕ 5. Choose the correct alternative to complete the tip for making a successful career.

(Выберите правильный вариант совета, как сделать успешную карьеру.)

Remember health and family. Opportunities expand when you are ...and healthy.

- unhappy
- **happy**
- gloomy

ЗАДАНИЕ 6. Our life is unthinkable without technologies. Read some ideas about the relationship of different generations with technologies. Choose the correct alternative to fill in the gap. (Наша жизнь невысказима без технологий. Прочитайте об отношении разных поколений к технологиям. Выберите правильный вариант ответа.)

Modern technology is changing and improving all the time. Every month, scientists ... new gadgets and equipment to help us with our daily lives.

- break
- **invent**
- teach

ЗАДАНИЕ 7. Our life is unthinkable without technologies. Read some ideas about the relationship of different generations with technologies. Choose the correct alternative to fill in the gap. (Наша жизнь невысказима без технологий. Прочитайте об отношении разных поколений к технологиям. Выберите правильный вариант ответа.)

Scientists try to ... ways to make existing technology faster and better.

- carry
- go
- **discover**

ЗАДАНИЕ 8. Our life is unthinkable without technologies. Read some ideas about the relationship of different generations with technologies. Choose the correct alternative to fill in the gap. (Наша жизнь невысказима без технологий. Прочитайте об отношении разных поколений к технологиям. Выберите правильный вариант ответа.)

Whereas teenagers have no problem ... a DVD player, their mums and dads and grandparents often find using new technology complicated and difficult.

- **operating**
- making
- doing

ЗАДАНИЕ 9. Our life is unthinkable without technologies. Read some ideas about the relationship of different generations with technologies. Choose the correct alternative to fill in the gap. (Наша жизнь невысказима без технологий. Прочитайте об отношении разных поколений к технологиям. Выберите правильный вариант ответа.)

If you are a teenager who criticizes your parents for their ... of technological awareness, don't be too hard on them!

- chance
- **lack**
- ability

ЗАДАНИЕ 10. Our life is unthinkable without technologies. Read some ideas about the relationship of different generations with technologies. Choose the correct alternative to fill in the gap.

(Наша жизнь невысказима без технологий. Прочитайте об отношении разных поколений к технологиям. Выберите правильный вариант ответа.)

Some time in the future, when you've got children of your own, your ability to deal with new technology will probably ... and your children will feel more comfortable with new technology than you do.

- **decrease**
- improve
- enhance

ЗАДАНИЕ 11. Match the sentences from a presentation with the correct category of the presentation plan.

(Укажите категорию, к которой относится предложение из презентации.)

Good morning, everyone! I'm Maria Ivanova, a second-year student of AMM faculty. Today I'm going to talk about....

- **Introduction**
- The main part
- Conclusion

ЗАДАНИЕ 12. Match a sentence from a presentation with the correct category of the presentation plan.

(Укажите категорию, к которой относится предложение из презентации.)

Let's now move on to my next point....

- Introduction
- **The main part**
- Conclusion

ЗАДАНИЕ 13. Match a sentence from a presentation with the correct category of the presentation plan.

(Укажите категорию, к которой относится предложение из презентации.)

Now I'd like to focus your attention on...

- Introduction
- **The main part**
- Conclusion

ЗАДАНИЕ 14. Match a sentence from a presentation with the correct category of the presentation plan.

(Укажите категорию, к которой относится предложение из презентации.)

Now I'll be happy to answer any questions you may have.

- Introduction
- The main part
- **Conclusion**

ЗАДАНИЕ 15. Match a sentence from a presentation with the correct category of the presentation plan.

(Укажите категорию, к которой относится предложение из презентации.)

I've divided my presentation into three parts...

- **Introduction**
- The main part
- Conclusion

ЗАДАНИЕ 16. Match the sentences from a presentation with the correct category of the presentation plan.

(Укажите категорию, к которой относится предложение из презентации.)

Let me just start by introducing myself. My name is...

- **Introduction**
- The main part
- Conclusion

ЗАДАНИЕ 17. Match a sentence from a presentation with the correct category of the presentation plan.

(Укажите категорию, к которой относится предложение из презентации.)

Well, that brings me to the end of my presentation.

- Introduction
- The main part
- **Conclusion**

ЗАДАНИЕ 18. Match a sentence from a presentation with the correct category of the presentation plan.

(Укажите категорию, к которой относится предложение из презентации.)

Let's now look at the next slide which shows....

- Introduction
- **The main part**
- Conclusion

ЗАДАНИЕ 19. Read the text below and choose the sentence which best summarizes its main idea.

(Прочитайте текст и выберите предложение, которое наиболее точно выражает основную идею текста.)

My cousin loves watches. He is so passionate about collecting watches. In fact, five years ago he quit his day job as a lawyer and became the managing director of New York's "Antiquorum", the largest watch auction house in the world. Now, immersed in watches, my cousin can keep an eager eye on rare timepieces as they become available to add to his constantly evolving personal collection.

- Sometimes we need to travel to enjoy our hobby.
- **Hobbies can sometimes change one's life.**
- Hobbies can be the result of pure chance.
- It is not easy to focus on one hobby.

ЗАДАНИЕ 20. Read the text below and choose the sentence which best summarizes its main idea.

(Прочитайте текст и выберите предложение, которое наиболее точно выражает основную идею текста.)

My friend and I collect and buy each other models of frogs. It all started as a silly joke at the office party, but now we are serious collectors. Our models of frogs are fantastic and unusual. They are made from wood, glass, plastic, clay, porcelain and even soap and wax. Now I am trying to find an interesting one for my friend's birthday but it is not easy as she has a remarkable collection.

- Sometimes we need to travel to enjoy our hobby.

- Hobbies can sometimes change one's life.
- **Hobbies can be the result of pure chance.**
- It is not easy to focus on one hobby.

ЗАДАНИЕ 21. Read the text below and choose the sentence which best summarizes its main idea.

(Прочитайте текст и выберите предложение, которое наиболее точно выражает основную идею текста.)

I wish I had a hobby. I like everything but I am not really fascinated by anything in particular. My dad drives a taxi. He says all the drivers have hobbies as they often get hours of waiting between jobs. Some play chess, or learn languages or teach themselves how to play the guitar. I would like to have something like that. I hope one day I'll find something really distracting.

- Sometimes we need to travel to enjoy our hobby.
- Hobbies can sometimes change one's life.
- Hobbies can be the result of pure chance.
- **It is not easy to focus on one hobby.**

ЗАДАНИЕ 22. Read the text below and choose the sentence which best summarizes its main idea.

(Прочитайте текст и выберите предложение, которое наиболее точно выражает основную идею текста.)

Most people think fishermen are mad. They get up very early to be by a lake or a river bank. Don't forget about the weather. But, to tell you the truth, my brother finds fishing the perfect way to deal with his stress. He says when he is fishing it is as if his mind gradually empties. Coming back home he feels as if he has been away for months.

- Sometimes we need to travel to enjoy our hobby.
- Hobbies can be the result of pure chance.
- It is not easy to focus on one hobby.
- **Some hobbies are a form of escape.**

2) открытые задания (тестовые, повышенный уровень сложности):

ЗАДАНИЕ 1. Read a part of the conversation between two colleagues and put the verbs in brackets into the correct tense. Mind the correct spelling, use low case letters and do not use short forms!

(Прочитайте часть разговора между двумя коллегами и поставьте глаголы в скобках в правильном времени. Следите за правописанием, используйте строчные буквы и не используйте краткие формы!)

'When did you see David?'

'While I ... (wait) at the bus stop yesterday morning.'

Ответ: was waiting

ЗАДАНИЕ 2. Read a part of the conversation between two colleagues and put the verbs in brackets into the correct tense. Mind the correct spelling, use low case letters and do not use short forms!

(Прочитайте часть разговора между двумя коллегами и поставьте глаголы в скобках в правильном времени. Следите за правописанием, используйте строчные буквы и не используйте краткие формы!)

'How was your holiday?'

'Not great. We ... (have) a lot of problems with the hotel.'

Ответ: had

ЗАДАНИЕ 3. Read a part of the conversation between two colleagues and put the verbs in brackets into the correct tense. Mind the correct spelling, use low case letters and do not use short forms!

(Прочитайте часть разговора между двумя коллегами и поставьте глаголы в скобках в правильном времени. Следите за правописанием, используйте строчные буквы и не используйте краткие формы!)

'Where did the boss go last week?'

'He ... (go) to a new branch of the company in the Far East.'

Ответ: went

ЗАДАНИЕ 4. Read a part of the conversation between two colleagues and put the verbs in brackets into the correct tense. Mind the correct spelling, use low case letters and do not use short forms!

(Прочитайте часть разговора между двумя коллегами и поставьте глаголы в скобках в правильном времени. Следите за правописанием, используйте строчные буквы и не используйте краткие формы!)

'How long have you known Dave?'

'We ... (be) friends since we went to school.'

Ответ: have been

ЗАДАНИЕ 5. Read a part of the conversation between two colleagues and put the verbs in brackets into the correct tense. Mind the correct spelling, use low case letters and do not use short forms!

(Прочитайте часть разговора между двумя коллегами и поставьте глаголы в скобках в правильном времени. Следите за правописанием, используйте строчные буквы и не используйте краткие формы!)

'What is Anna doing?'

'She ... (write) a report.'

Ответ: is writing

ЗАДАНИЕ 6. Read a part of the conversation between two colleagues and put the verbs in brackets into the correct tense. Mind the correct spelling, use low case letters and do not use short forms!

(Прочитайте часть разговора между двумя коллегами и поставьте глаголы в скобках в правильном времени. Следите за правописанием, используйте строчные буквы и не используйте краткие формы!)

'Anna is very good at her job, isn't she?'

'Yes. She ... (have) a lot of experience.'

Ответ: has

ЗАДАНИЕ 7. Read a part of the conversation between two colleagues and put the verbs in brackets into the correct tense. Mind the correct spelling, use low case letters and do not use short forms!

(Прочитайте часть разговора между двумя коллегами и поставьте глаголы в скобках в правильном времени. Следите за правописанием, используйте строчные буквы и не используйте краткие формы!)

'When I was young, I always dreamed of becoming a scientist. And you?'
'When I was at school I ... (decide) to study engineering and invent a new engine.'

Ответ: decided

ЗАДАНИЕ 8. Read a part of the conversation between two colleagues and put the verbs in brackets into the correct tense. Mind the correct spelling, use low case letters and do not use short forms!

(Прочитайте часть разговора между двумя коллегами и поставьте глаголы в скобках в правильном времени. Следите за правописанием, используйте строчные буквы и не используйте краткие формы!)

'It is quite difficult for me to understand how to test this machine.'
'If you don't understand, I ... (show) you.'

Ответ: will show

ЗАДАНИЕ 9. Read a part of the conversation between two colleagues and put the verbs in brackets into the correct tense. Mind the correct spelling, use low case letters and do not use short forms!

(Прочитайте часть разговора между двумя коллегами и поставьте глаголы в скобках в правильном времени. Следите за правописанием, используйте строчные буквы и не используйте краткие формы!)

'Are you planning to go anywhere on holiday this year?'
'Yes, I think I ... (visit) my relatives in Spain.'

Ответ: will visit

ЗАДАНИЕ 10. Read a part of the conversation between two colleagues and put the verbs in brackets into the correct tense. Mind the correct spelling, use low case letters and do not use short forms!

(Прочитайте часть разговора между двумя коллегами и поставьте глаголы в скобках в правильном времени. Следите за правописанием, используйте строчные буквы и не используйте краткие формы!)

'What time does Dave start work?'
'He usually ... (start) work at 9 o'clock in the morning.'

Ответ: starts

ЗАДАНИЕ 11. Read a part of the conversation between two colleagues and put the verbs in brackets into the correct tense. Mind the correct spelling, use low case letters and do not use short forms!

(Прочитайте часть разговора между двумя коллегами и поставьте глаголы в скобках в правильном времени. Следите за правописанием, используйте строчные буквы и не используйте краткие формы!)

'Did you give Mark a message?'
'No, but when I ... (see) him, I will tell him the news.'

Ответ: see

ЗАДАНИЕ 12. Read a part of the conversation between two colleagues and put the verbs in brackets into the correct tense. Mind the correct spelling, use low case letters and do not use short forms!

(Прочитайте часть разговора между двумя коллегами и поставьте глаголы в скобках в правильном времени. Следите за правописанием, используйте строчные буквы и не используйте краткие формы!)

'What are you doing?'

'We ... (make) plans for our summer holidays right now.'

Ответ: are making

ЗАДАНИЕ 13. Your friend is going on a business trip to another country. Write the following words in the correct order to give him or her some useful tips. The first word of the sentence begins with the capital letter. Mind the spelling.

(Ваш друг собирается в деловую поездку в другую страну. Напишите слова в правильном порядке, чтобы дать совет другу. Первое слово предложения начинается с заглавной буквы. Следите за правописанием.)

passport an international Apply for advance in

Ответ: Apply for an international passport in advance

ЗАДАНИЕ 14. Your friend is going on a business trip to another country. Write the following words in the correct order to give him or her some useful tips. The first word of the sentence begins with the capital letter. Mind the spelling.

(Ваш друг собирается в деловую поездку в другую страну. Напишите слова в правильном порядке, чтобы дать совет другу. Первое слово предложения начинается с заглавной буквы. Следите за правописанием.)

phrases Learn to feel in English some comfortable more

Ответ: Learn some phrases in English to feel more comfortable

ЗАДАНИЕ 15. Your friend is going on a business trip to another country. Write the following words in the correct order to give him or her some useful tips. The first word of the sentence begins with the capital letter. Mind the spelling.

(Ваш друг собирается в деловую поездку в другую страну. Напишите слова в правильном порядке, чтобы дать совет другу. Первое слово предложения начинается с заглавной буквы. Следите за правописанием.)

Make overseas you access sure your can money

Ответ: Make sure you can access your money

ЗАДАНИЕ 16. Your friend is going on a business trip to another country. Write the following words in the correct order to give him or her some useful tips. The first word of the sentence begins with the capital letter. Mind the spelling.

(Ваш друг собирается в деловую поездку в другую страну. Напишите слова в правильном порядке, чтобы дать совет другу. Первое слово предложения начинается с заглавной буквы. Следите за правописанием.)

time is ideal flights to The book cheap 180 days

Ответ: The ideal time to book cheap flights is 180 days

ЗАДАНИЕ 17. Your friend is going on a business trip to another country. Write the following words in the correct order to give him or her some useful tips. The first word of the sentence begins with the capital letter. Mind the spelling.

(Ваш друг собирается в деловую поездку в другую страну. Напишите слова в правильном порядке, чтобы дать совет другу. Первое слово предложения начинается с заглавной буквы. Следите за правописанием.)

yourself to get time over jet Give lag

Ответ: Give yourself time to get over jet lag

ЗАДАНИЕ 18. Communication with your colleagues supposes discussing not only work issues, but also talking about everyday activities. Write the following words in the correct order to make questions you may ask him or her. The first word of the question begins with the capital letter. Mind the spelling and do not forget to put a question mark.

(Общение с вашими коллегами предполагает обсуждение не только рабочих вопросов, но и разговоры о повседневной деятельности. Напишите следующие слова в правильном порядке, чтобы задать вопрос коллеге. Первое слово вопроса начинается с заглавной буквы. Следите за правописанием и не забудьте поставить вопросительный знак.)

networks do What social use you ?

Ответ: What social networks do you use?

ЗАДАНИЕ 19. Communication with your colleagues supposes discussing not only work issues, but also talking about everyday activities. Write the following words in the correct order to make questions you may ask him or her. The first word of the question begins with the capital letter. Mind the spelling and do not forget to put a question mark.

(Общение с вашими коллегами предполагает обсуждение не только рабочих вопросов, но и разговоры о повседневной деятельности. Напишите следующие слова в правильном порядке, чтобы задать вопрос коллеге. Первое слово вопроса начинается с заглавной буквы. Следите за правописанием и не забудьте поставить вопросительный знак.)

you your Do personal have website ?

Ответ: Do you have your personal website?

ЗАДАНИЕ 20. Communication with your colleagues supposes discussing not only work issues, but also talking about everyday activities. Write the following words in the correct order to make questions you may ask him or her. The first word of the question begins with the capital letter. Mind the spelling and do not forget to put a question mark.

(Общение с вашими коллегами предполагает обсуждение не только рабочих вопросов, но и разговоры о повседневной деятельности. Напишите следующие слова в правильном порядке, чтобы задать вопрос коллеге. Первое слово вопроса начинается с заглавной буквы. Следите за правописанием и не забудьте поставить вопросительный знак.)

What know languages you foreign do ?

Ответ: What foreign languages do you know?

ЗАДАНИЕ 21. Communication with your colleagues supposes discussing not only work issues, but also talking about everyday activities. Write the following words in the correct order to make questions you may ask him or her. The first word of the question begins with the capital letter. Mind the spelling and do not forget to put a question mark.

(Общение с вашими коллегами предполагает обсуждение не только рабочих вопросов, но и разговоры о повседневной деятельности. Напишите следующие слова в правильном порядке, чтобы задать вопрос коллеге. Первое слово вопроса начинается с заглавной буквы. Следите за правописанием и не забудьте поставить вопросительный знак.)

be data protect What done to might private ?

Ответ: What might be done to protect private data?

ЗАДАНИЕ 22. Communication with your colleagues supposes discussing not only work issues, but also talking about everyday activities. Write the following words in the correct order to make questions you may ask him or her. The first word of the question begins with the capital letter. Mind the spelling and do not forget to put a question mark.

(Общение с вашими коллегами предполагает обсуждение не только рабочих вопросов, но и разговоры о повседневной деятельности. Напишите следующие слова в правильном порядке, чтобы задать вопрос коллеге. Первое слово вопроса начинается с заглавной буквы. Следите за правописанием и не забудьте поставить вопросительный знак.)

sports What think of do you team ?

Ответ: What do you think of team sports?

ЗАДАНИЕ 23. Communication with your colleagues supposes discussing not only work issues, but also talking about everyday activities. Write the following words in the correct order to make questions you may ask him or her. The first word of the question begins with the capital letter. Mind the spelling and do not forget to put a question mark.

(Общение с вашими коллегами предполагает обсуждение не только рабочих вопросов, но и разговоры о повседневной деятельности. Напишите следующие слова в правильном порядке, чтобы задать вопрос коллеге. Первое слово вопроса начинается с заглавной буквы. Следите за правописанием и не забудьте поставить вопросительный знак.)

What to of music you kind listen do ?

Ответ: What kind of music do you listen to?

ЗАДАНИЕ 24. Communication with your colleagues supposes discussing not only work issues, but also talking about everyday activities. Write the following words in the correct order to make questions you may ask him or her. The first word of the question begins with the capital letter. Mind the spelling and do not forget to put a question mark.

(Общение с вашими коллегами предполагает обсуждение не только рабочих вопросов, но и разговоры о повседневной деятельности. Напишите следующие слова в правильном порядке, чтобы задать вопрос коллеге. Первое слово вопроса начинается с заглавной буквы. Следите за правописанием и не забудьте поставить вопросительный знак.)

do sports you watching like What ?

Ответ: What sports do you like watching?

ЗАДАНИЕ 25. Communication with your colleagues supposes discussing not only work issues, but also talking about everyday activities. Write the following words in the correct order to make questions you may ask him or her. The first word of the question begins with the capital letter. Mind the spelling and do not forget to put a question mark.

(Общение с вашими коллегами предполагает обсуждение не только рабочих вопросов, но и разговоры о повседневной деятельности. Напишите следующие слова в правильном порядке, чтобы задать вопрос коллеге. Первое слово вопроса начинается с заглавной буквы. Следите за правописанием и не забудьте поставить вопросительный знак.)

Which to have in Russia places you been ?

Ответ: Which places in Russia have you been to?

ЗАДАНИЕ 26. Communication with your colleagues supposes discussing not only work issues, but also talking about everyday activities. Write the following words in the correct order

to make questions you may ask him or her. The first word of the question begins with the capital letter. Mind the spelling and do not forget to put a question mark.

(Общение с вашими коллегами предполагает обсуждение не только рабочих вопросов, но и разговоры о повседневной деятельности. Напишите следующие слова в правильном порядке, чтобы задать вопрос коллеге. Первое слово вопроса начинается с заглавной буквы. Следите за правописанием и не забудьте поставить вопросительный знак.)

How gym you often go to do the ?

Ответ: How often do you go to the gym?

3) открытые задания (мини-кейсы, средний уровень сложности):

ЗАДАНИЕ 1. Read the text below and write the main idea of the text in 1-2 sentences in English. Mind the spelling.

(Прочитайте текст и напишите главную идею текста в 1-2 предложениях на английском языке. Следите за правописанием.)

Online education is not for everyone. On the one hand, online education offers flexibility for people who have work or family responsibilities outside of school. Often, students enrolled in online education programs are able to work at their own pace. Online education programs may also be cheaper than traditional programs.

On the other hand, online education has its cons. Students involved in online education often complain that they miss the direct, face-to-face interaction found on traditional campuses. Since coursework is generally self-directed, it is difficult for some online education students to stay engaged and complete their assignments on time.

Критерии оценивания:

- Задание выполнено верно: главная идея текста выражена правильно, допускается не более двух негрубых лексико-грамматических ошибок и/или не более двух орфографических ошибок;
- Выполнение задания содержит незначительные ошибки: главная идея текста выражена в целом правильно, допускается не более четырех лексико-грамматических ошибок и/или не более четырех орфографических ошибок;
- Задание не выполнено или выполнено неверно: главная идея текста выражена неверно, понимание главной идеи текста затруднено из-за множества лексико-грамматических и орфографических ошибок.

Примеры ответа:

1) The main idea of the text is to give the reader some information on online education, its advantages and disadvantages.

2) This text is about online education, its pros and cons.

ЗАДАНИЕ 2. Read the text below and write the main idea of the text in 1-2 sentences in English. Mind the spelling.

(Прочитайте текст и напишите главную идею текста в 1-2 предложениях на английском языке. Следите за правописанием.)

Simulating reality games are very popular. The Sims, Sim City and MS Flight Simulator are now some of the most popular video games among teenagers. But we do not only use computer simulations for fun. There are many things that we cannot study or test in real life, because it is too difficult or dangerous. Computer simulations make such study and testing possible. Pilots can practice their skills before they enter the cockpit by using flight simulators. Engineers also use computer simulation to design and test new products before people start using them. Thanks to computer simulators, we can develop and test new things without putting people's lives at risk.

Критерии оценивания:

- Задание выполнено верно: главная идея текста выражена правильно, допускается не более двух негрубых лексико-грамматических ошибок и/или не более двух орфографических ошибок;
- Выполнение задания содержит незначительные ошибки: главная идея текста выражена в целом правильно, допускается не более четырех лексико-грамматических ошибок и/или не более четырех орфографических ошибок;
- Задание не выполнено или выполнено неверно: главная идея текста выражена неверно, понимание главной идеи текста затруднено из-за множества лексико-грамматических и орфографических ошибок.

Примеры ответа:

- 1) This text deals with computer simulations. The author describes different areas of life where computer simulations can be used.
- 2) The text focuses on describing various ways of using computer simulations in our life.

ЗАДАНИЕ 3. Read the text below and write the main idea of the text in 1-2 sentences in English. Mind the spelling. (Прочитайте текст и напишите главную идею текста в 1-2 предложениях на английском языке. Следите за правописанием.)

Genealogy, the study of family history, is certainly nothing new. Family trees have been used for thousands of years, often to demonstrate our rights to wealth and power. But the rise of the Internet has made it much more popular than ever before.

According to some sources, genealogy is now one of the most popular topics on the Internet. Modern genealogists have a huge amount of information available online, and are able to connect with people from all around the world. One popular ancestry website provides access to approximately sixteen billion historical records. Its two million subscribers have added 200 million photographs, documents and stories to connect with 70 million family trees.

Критерии оценивания:

- Задание выполнено верно: главная идея текста выражена правильно, допускается не более двух негрубых лексико-грамматических ошибок и/или не более двух орфографических ошибок;
- Выполнение задания содержит незначительные ошибки: главная идея текста выражена в целом правильно, допускается не более четырех лексико-грамматических ошибок и/или не более четырех орфографических ошибок;
- Задание не выполнено или выполнено неверно: главная идея текста выражена неверно, понимание главной идеи текста затруднено из-за множества лексико-грамматических и орфографических ошибок.

Примеры ответа:

- 1) This text is about genealogy, the study of family history. The author says that the Internet has made it more popular than ever before.
- 2) The text focuses on genealogy, the study of family history, and its special popularity nowadays as the Internet makes a huge amount of information available online.

ЗАДАНИЕ 4. Read the text below and write the main idea of the text in 1-2 sentences in English. Mind the spelling. (Прочитайте текст и напишите главную идею текста в 1-2 предложениях на английском языке. Следите за правописанием.)

Sport plays a large role in many people's lives. It plays a positive role in uniting people from different social backgrounds in support of their favourite team. This make people understand and be tolerant towards each other.

Sport is an important part of every child's schooling as it plays a big role in both their physical and mental development. It teaches children how to work as part of a team and cooperate with others, while at the same time improving physical condition. In addition, sport not only helps them to become strong and develop physically but also makes them more organized and better disciplined in their daily activities.

Критерии оценивания:

- Задание выполнено верно: главная идея текста выражена правильно, допускается не более двух негрубых лексико-грамматических ошибок и/или не более двух орфографических ошибок;
- Выполнение задания содержит незначительные ошибки: главная идея текста выражена в целом правильно, допускается не более четырех лексико-грамматических ошибок и/или не более четырех орфографических ошибок;
- Задание не выполнено или выполнено неверно: главная идея текста выражена неверно, понимание главной идеи текста затруднено из-за множества лексико-грамматических и орфографических ошибок.

Примеры ответа:

- 1) This text is about sport and its big role in people's and especially children's lives. It is said that sport helps children to become stronger, more organized and better disciplined in their daily activities.
- 2) The main idea of the text is to show a large role of sport in people's lives and especially in child's schooling.

Критерии и шкалы оценивания:

Для оценивания выполнения заданий используется балльная шкала:

1) закрытые задания (тестовые, средний уровень сложности):

- 1 балл – указан верный ответ;
- 0 баллов – указан неверный ответ, в том числе частично.

2) открытые задания (тестовые, повышенный уровень сложности):

- 2 балла – указан верный ответ;
- 0 баллов – указан неверный ответ, в том числе частично.

3) открытые задания (мини-кейсы, средний уровень сложности):

- 5 баллов – задание выполнено верно;
- 2 балла – выполнение задания содержит незначительные ошибки;
- 0 баллов – задание не выполнено или выполнено неверно.

Б1.О.06 Деловое общение и культура речи

1) закрытые задания (тестовые, средний уровень сложности):

ЗАДАНИЕ 1. Соотнесите обозначения форм делового общения с определениями:

- форма организации делового общения коллектива (группы) с целью обмена информацией и принятия коллективного решения по актуальным для данного коллектива (группы) проблемам
- обсуждение каких-либо вопросов между официальными сторонами с целью выяснения позиций сторон и заключения возможного договора
- специально организованный предметный разговор, служащий решению управленческих задач
- собрание приглашенных официальных лиц в честь кого- или чего-либо с целью углубления и расширения контактов, получения нужной информации в неофициальной обстановке

Варианты для выбора:

- деловое совещание
- деловые переговоры
- деловая беседа
- деловой прием

* варианты для выбора приведены в порядке указания понятий.

ЗАДАНИЕ 2. Выберите правильный вариант ответа:

Что является главным условием эффективности делового общения?

- обязательное достижение поставленной цели
- **создание основы для дальнейшего делового взаимодействия**
- демонстрация доминирования над собеседником
- ослабление позиции собеседника

ЗАДАНИЕ 3. Выберите правильные варианты ответа:

Каковы основные принципы бесконфликтного делового общения?

- **принцип терпимости к собеседнику**
- принцип коммуникативного доминирования
- **принцип уважения к собеседнику**
- принцип доминирования

ЗАДАНИЕ 4. Выберите правильный вариант ответа:

Принцип, на котором не может быть основано деловое общение, – это... .

- доброжелательность
- порядочность
- тактичность
- уважительность
- **эгоизм**

ЗАДАНИЕ 5. Выберите правильный вариант ответа:

Какой стиль руководства охарактеризован в определении?

Основан на децентрализации власти, коллегиальности управления. Сотрудники принимают участие в выработке решений. Практикуется делегирование функций и полномочий от руководителя подчиненным.

- либеральный
- авторитарный
- **демократический**

ЗАДАНИЕ 6. Выберите правильный вариант ответа:

Стратегия поведения, которая позволяет выработать навыки слушания, приобрести опыт совместной работы, навыки аргументации, выработать умение сдерживать свои эмоции, – это... .

- **сотрудничество**
- избегание
- приспособление
- соперничество

ЗАДАНИЕ 7. Выберите правила, которые НЕ способствуют успеху делового общения:

- пытаться находить общее с собеседником
- **выделять свое «я»**
- проявлять искренность и доброжелательность
- **навязывать свою точку зрения**

- видеть положительное в собеседнике

ЗАДАНИЕ 8. Выберите правила, которые способствуют успеху делового общения:

- **учитывать интересы собеседника**
- говорить только о себе
- **ориентироваться на ситуацию и обстановку**
- спорить по каждому поводу

ЗАДАНИЕ 9. Выберите правильный вариант ответа:

Переговоры все время прерываются по вине Вашего собеседника: звонит телефон — он долго разговаривает, заходят без предупреждения его коллеги — он уделяет им максимум внимания. Какова Ваша реакция?

- Вы добиваетесь договоренности, не обращая внимания на помехи
- Вы показываете поведением свое недовольство
- **Вы говорите партнеру, что не можете сосредоточиться**

ЗАДАНИЕ 10. Выберите правильный вариант ответа:

Приспособление – это

- решение, удовлетворяющее интересы всех сторон
- взаимные уступки
- стремление выйти из конфликта, не решая его
- **сглаживание противоречий за счет своих интересов**
- все ответы неверны

ЗАДАНИЕ 11. Выберите правильный вариант ответа:

Конфликтогены – это слова, действия (бездействия), которые

- **способствуют возникновению конфликта**
- препятствуют возникновению конфликта
- помогают разрешить конфликт

ЗАДАНИЕ 12. Укажите правильную «формулу» критики:

- **похвала+критика+предложение**
- похвала+критика+утешение
- критика+помощь+похвала

ЗАДАНИЕ 13. Выберите пример конструктивной критики:

- **Не огорчайтесь, сегодня Вы сделали не очень хорошо, завтра получится лучше.**
- Сколько раз можно было говорить – нельзя было так делать!
- Какой дурак так делает!
- Никогда вовремя не сделаете – всегда с задержкой.

ЗАДАНИЕ 14. Выберите пример неконструктивной критики:

- **Сколько можно повторять – отчет надо сдавать в двух экземплярах!**
- В основном все правильно, но несколько ошибок придется устранить.
- С вашим старанием в следующий раз вы добьетесь отличного результата.

ЗАДАНИЕ 15. Выберите правильный вариант ответа:

При знакомстве

- женщина первая представляется мужчине
- лица с более высоким статусом представляются людям со статусом более низким

- **младшие по возрасту представляются старшим**

ЗАДАНИЕ 16. Выберите правильный вариант начала телефонного разговора:

- **Доброе утро, страховая компания «Висепт», Анна.**
- Извините, я работаю в другом отделе, поэтому ничем вам помочь не могу.
- Алло. К сожалению, Анна еще обедает.
- Это кто? Что вам нужно?

ЗАДАНИЕ 17. Укажите, какие правила необходимо выполнять, ведя деловое общение по телефону:

- **быть лаконичным, информативным, доброжелательным**
- быть лаконичным, повторять сказанное несколько раз, разговаривать в присутствии третьих лиц
- быть лаконичным, говорить громче обычного, прерывать разговор

ЗАДАНИЕ 18. Укажите, что нежелательно в деловом телефонном разговоре:

- предварительно договариваться о звонке
- представляться
- **переадресовывать говорящего к другому сотруднику**

ЗАДАНИЕ 19. Укажите, какой документ охарактеризован в определении:

«официальный письменный документ, отражающий ход общественного собрания, судебного слушания и принятые решения».

- аннотация
- **протокол**
- постановление

ЗАДАНИЕ 20. Укажите, какой документ охарактеризован в определении:

«документ информационного типа, нацеленный на описание социально значимых и наиболее важных событий жизни составителя текста. Пишется от первого лица в хронологическом порядке».

- резюме
- сопроводительное письмо
- **автобиография**
- заявление

ЗАДАНИЕ 21. Выберите правильный вариант ответа:

Что из перечисленного не относится к распорядительным документам?

- приказ
- решение
- **представление**
- распоряжение

ЗАДАНИЕ 22. Выберите правильный вариант ответа:

Что из перечисленного относится к организационным документам?

- докладная записка
- **устав**
- служебная записка
- представление

ЗАДАНИЕ 23. Выберите правильный вариант ответа:

Что из перечисленного не относится к формам устной деловой коммуникации?

- совещание

- деловая беседа
- **лекция**
- переговоры

ЗАДАНИЕ 24. Выберите правильный вариант ответа:

Что из перечисленного не относится к видам коммерческой корреспонденции?

- оферта
- запрос
- рекламация
- **циркулярное письмо**

ЗАДАНИЕ 25. Выберите из предложенных слова, относящиеся к официально-деловому стилю:

- дифференциальный
- **налогоплательщик**
- преподаватель
- **надлежащий**
- требовать
- **взыскать**

ЗАДАНИЕ 26. Выберите правильный ответ.

Культура речи включает в себя

- только нормативный аспект
- **нормативный, коммуникативный и этический аспекты**
- нормативный, коммуникативный и эстетический аспекты

ЗАДАНИЕ 27. Укажите какая норма нарушена в следующих словах:

бАловать, премИровать, шин[Э]ль

- словообразовательная
- грамматическая
- **орфоэпическая**
- стилистическая

ЗАДАНИЕ 28. Выберите правильный ответ.

Что понимают под логичностью речи?

- **последовательность, непротиворечивость высказывания, установление связей между высказываниями**
- соответствие речи языковым нормам
- отсутствие в речи чуждых литературному языку элементов
- доходчивость, доступность речи для тех, кому она адресована

ЗАДАНИЕ 29. Укажите ситуации, в каких эффективно использовать перефразирование:

- в конце телефонного разговора, если собеседник должен что-то сделать сразу же после завершения разговора
- **в процессе переговоров, когда требуется полное понимание желаний партнера**
- в ситуациях, когда протекает острая дискуссия;
- **в ситуациях, когда партнер хочет найти понимание со стороны собеседника**

ЗАДАНИЕ 30. Выберите правильный ответ.

В каком жесте обычно проявляется критическая оценка со стороны собеседника?

- руки, скрещенные на груди
- **указательный палец вытянут вдоль щеки, а остальные располагаются под подбородком**
- прикрытие рта ладонью
- все ответы неверны

2) открытые задания (тестовые, повышенный уровень сложности):

ЗАДАНИЕ 1. Централизация власти в руках руководителя, подавление инициативы подчиненных, жесткий контроль за их деятельностью, запрет критики действий руководителя характерен для ... стиля руководства.

Ответ: авторитарного

ЗАДАНИЕ 2. Какой аспект культуры речи характеризуется в определении?

Умение эффективно пользоваться средствами языка в зависимости от сферы, ситуации, условий и задач общения.

Ответ: коммуникативный

ЗАДАНИЕ 3. Укажите, какому типу речи соответствует вопрос «Почему?».

Ответ: рассуждение

ЗАДАНИЕ 4. Укажите, какому типу речи соответствует вопрос «Что происходит?».

Ответ: повествование

ЗАДАНИЕ 5. Какой стиль языка характеризуют следующие черты:

точность, стандартизированность, безличность, императивность, безэмоциональность?

Ответ: официально-деловой

ЗАДАНИЕ 6. Укажите стиль, который характеризуется в определении:

Функциональная разновидность литературного языка, которая обслуживает сферу общественных отношений (политических, экономических, социально-культурных и др.), с целью воздействия на массовое сознание посредством общественно значимой информации.

Ответ: публицистический

ЗАДАНИЕ 7. Укажите, как называются слова или выражения официально-делового стиля, неуместно употребленные в тексте другого стиля.

Ответ: канцеляризмы

ЗАДАНИЕ 8. Укажите, какой документ требуется представить, если Вы собираетесь пройти собеседование в порядке конкурсного отбора на какую-либо должность.

Ответ: резюме

ЗАДАНИЕ 9. Укажите, какой жанр официально-делового стиля характеризуется в определении:

это соглашение о начале, исполнении, изменении или завершении конкретных обязательств, которое два человека или группа людей заключили между собой.

Ответ: договор / контракт

ЗАДАНИЕ 10. Оформите вступительную часть заявления (поставьте имя и фамилию в родительный падеж).

Работник: Игорь Черных.

Заявление кого?

Ответ: Игоря Черных

ЗАДАНИЕ 11. Оформите вступительную часть заявления (поставьте имя и фамилию в родительный падеж).

Работник: Павел Левада.

Заявление кого?

Ответ: Павла Левады

ЗАДАНИЕ 12. Оформите вступительную часть заявления (поставьте имя и фамилию в родительный падеж).

Работник: Олег Бунчук.

Заявление кого?

Ответ: Олега Бунчука

ЗАДАНИЕ 13. Оформите вступительную часть заявления (поставьте имя и фамилию в родительный падеж).

Работник: Михаил Фоменко.

Заявление кого?

Ответ: Михаила Фоменко

ЗАДАНИЕ 14. Оформите вступительную часть заявления (поставьте имя и фамилию в дательный падеж).

Имя и фамилия работника, которому адресовано заявление: Наталья Седых.

Кому адресовано заявление?

Ответ: Наталье Седых

ЗАДАНИЕ 15. Оформите вступительную часть заявления (поставьте имя и фамилию в дательный падеж).

Имя и фамилия работника, которому адресовано заявление: Нина Дейнека.

Кому адресовано заявление?

Ответ: Нине Дейнеке

ЗАДАНИЕ 16. Оформите вступительную часть заявления (поставьте имя и фамилию в дательный падеж).

Имя и фамилия работника, которому адресовано заявление: Мария Мицкевич.

Кому адресовано заявление?

Ответ: Марии Мицкевич

ЗАДАНИЕ 17. Оформите вступительную часть заявления (поставьте имя и фамилию в дательный падеж).

Имя и фамилия работника, которому адресовано заявление: Анна Шевченко.

Кому адресовано заявление?

Ответ: Анне Шевченко

ЗАДАНИЕ 18. Укажите, как называется реакция на конфликт, выражающаяся в его игнорировании и фактическом отрицании.

Ответ: уклонение

ЗАДАНИЕ 19. Как называется форма разрешения конфликта, заключающаяся в выработке наиболее удобного и приемлемого для обеих сторон решения спорного вопроса?

Ответ: компромисс

ЗАДАНИЕ 20. Восстановите классификацию конфликтов (вставьте пропущенное слово) в зависимости от субъектов конфликтного взаимодействия:

внутриличностный конфликт,
межличностный конфликт,
конфликт между личностью и группой,
... конфликт

Ответ: межгрупповой

ЗАДАНИЕ 21. Укажите, как называется конфликт, который осуществляется не путем прямых столкновений и противоборства, а завуалированными методами.

Ответ: закрытый

ЗАДАНИЕ 22. Выпишите слова-конфликтогены (строчными буквами через запятую) из следующих диалогов:

– Вечно Вы опаздываете! Вчера на полчаса и сегодня на 15 минут!

– Ты никогда не гасишь свет в кабинете!
– Неправда! Вчера, например, выключил!

– Вот ты как всегда не замечаешь того, что я делаю!

Ответ: вечно, никогда, всегда

ЗАДАНИЕ 23. Закончите предложение:

Деловой телефонный разговор заканчивает тот, кто ...

Ответ: позвонил/начал его

ЗАДАНИЕ 24. Что в деловом общении является единственной формой физического контакта при приветствии и прощании?

Ответ: рукопожатие

ЗАДАНИЕ 25. В какой последовательности нужно расположить предложения, чтобы получился текст?

1. История его такова.
2. В вырытом котловане обнаружилось старинное подземелье.
3. В 1836 году архиерейское подворье превратили в Митрофановский монастырь, куда стекались паломники со всей России на поклон мощам святителя Митрофана...
4. В семнадцатом веке здесь была лицевая часть деревянной крепости.
5. Стоило только «Воронежскому курьеру» рассказать о строительстве нового входа в главный корпус ВГУ, как тут же последовало продолжение этой истории.
6. Судя по старинным планам города, экскаватор работал там, где еще в первой половине XVIII века стоял каменный архиерейский дом.

В ответе укажите набор подряд идущих цифр (без пробелов или других знаков)

Ответ : 521463

ЗАДАНИЕ 26. Укажите (в именительном падеже через запятую и пробел) три элемента, образующие структуру аргументации.

Ответ: тезис, аргументы, демонстрация

ЗАДАНИЕ 27. Какой элемент аргументации должен быть неизменным и определенным?

Ответ: тезис

3) открытые задания (мини-кейсы, средний уровень сложности)

ЗАДАНИЕ 1. Вы приняли на работу молодого, способного юриста, который только окончил университет. Он справляется с работой, провел несколько консультаций, и клиенты им довольны. Вместе с тем он резок и заносчив в общении с другими работниками, особенно с обслуживающим персоналом. Вы каждый день получаете такого рода сигналы, а сегодня поступило письменное заявление от Вашего секретаря по поводу его грубости. Какие замечания и каким образом необходимо сделать молодому специалисту, чтобы изменить стиль его общения в коллективе?

Пример ответа: Побеседовать наедине. Надо сначала отметить успехи молодого специалиста и его способности. Далее объяснить свои приоритеты как руководителя. Для Вас здоровый психологический климат в коллективе важнее, чем амбиции одного сотрудника, даже очень ценного. Хорошие отношения с коллегами выгодны и самому молодому специалисту, они помогут ему найти свое место в коллективе и сделают общую работу эффективнее, избавят коллег от нервозности. Выразить уверенность, что сотрудник может перестроиться и скорректировать свое поведение, пока его разногласия с коллективом не стали критическими. Похвалить еще раз и сказать о том, что доброжелательные отношения с коллегами – это важное условие профессионального роста. Предложить сотруднику понаблюдать за собой, за тем, как он разговаривает с коллегами, найти возможность извиниться за свою грубость.

ЗАДАНИЕ 2. Отредактируйте текст объяснительной записки, исправьте нарушения языковых норм (орфографии, пунктуации, стилистики и др.) и оформления.

Декану экономфака КГУ
Иванову И.И., проф.
студентка группы ЭБ-2
Горских Л. Ю.

Объяснительная

Я Горских Людмила Юрьевна извиняюсь за пропущенные занятия с 7 — 17 ноября по дисциплине «экономическая теория», по болезни. Предъявляю справку с поликлиники института.

Декан КГУ

Подпись Иванов И.И.

Студентка ЭБ-2

Подпись Горских Л. Ю.

18.11.2022.

Ответ:

Декану экономического факультета КГУ
проф. Иванову И.И.
студентки 1 курса группы ЭБ-2
Горских Л. Ю.

Объяснительная записка

Я, Горских Людмила Юрьевна, отсутствовала на занятиях по дисциплине «Экономическая теория» с 7 ноября 2022г. по 17 ноября 2022г. в связи с болезнью.

Справка из поликлиники прилагается.

Подпись Горских Л. Ю.
18.11.2022.

ЗАДАНИЕ 3. К каким вопросам работодателя надо подготовиться перед собеседованием для приема на работу на конкурсной основе (интервью)?

Пример ответа:

- 1) Расскажите о себе.
- 2) Чем вас привлекает работа в данной должности?/Почему вы хотите получить эту работу?
- 3) Каковы ваши сильные качества?
- 4) Есть ли у вас недостатки? Если есть, то какие?
- 5) Почему вы ушли с предыдущего места (решили сменить работу)?
- 6) Не мешает ли ваша личная жизнь работе, связанной с дополнительными нагрузками (ненормированный рабочий день, длительные или дальние командировки и т.д.)?
- 7) Как вы представляете свою работу (карьеру) через 2 года (пять, десять лет)?
- 8) Чем вы любите заниматься в свободное время?
- 9) На какую зарплату вы рассчитываете?
- 10) Вы хотели что-то спросить?

Критерии и шкалы оценивания:

Для оценивания выполнения заданий используется балльная шкала:

1) закрытые задания (тестовые, средний уровень сложности):

- 1 балл – указан верный ответ;
- 0 баллов – указан неверный ответ, в том числе частично.

2) открытые задания (тестовые, повышенный уровень сложности):

- 2 балла – указан верный ответ;
- 0 баллов – указан неверный ответ, в том числе частично.

3) открытые задания (мини-кейсы, средний уровень сложности):

- 5 баллов – задание выполнено верно (получен правильный ответ, обоснован (аргументирован) ход выполнения (при необходимости));
- 2 балла – выполнение задания содержит незначительные ошибки, но приведен правильный ход рассуждений, или получен верный ответ, но отсутствует обоснование хода его выполнения (если оно было необходимым), или задание выполнено не полностью, но получены промежуточные (частичные) результаты, отражающие правильность хода выполнения задания, или, в случае если задание состоит из выполнения нескольких подзаданий, 50% которых выполнено верно;
- 0 баллов – задание не выполнено или выполнено неверно (ход выполнения ошибочен или содержит грубые ошибки, значительно влияющие на дальнейшее его изучение).

УК-5. Способен воспринимать межкультурное разнообразие общества в социально-историческом, этическом и философском контекстах

Период окончания формирования компетенции: 7 семестр

Перечень дисциплин (модулей), практик, участвующих в формировании компетенции:

Дисциплины (модули):

Б1.О.01 Философия (7 семестр)

Б1.О.02 История России (4 семестр)

Б1.О.35 Основы российской государственности (1 семестр)

Б1.О.01 Философия

1) закрытые задания (тестовые, средний уровень сложности):

ЗАДАНИЕ 1. Выберите правильный вариант ответа:

Какое из представлений чуждо древнегреческому мировоззрению?

- мир есть космос
- человек – это политическое существо
- **человек – свободная личность**
- мир есть конечный завершённый порядок

ЗАДАНИЕ 2. Выберите правильный вариант ответа:

Родоначальником гуманизма считают философа эпохи Возрождения

- Джованни Боккаччо
- **Франческо Петрарка**
- Николай Кузанский
- Джордано Бруно

ЗАДАНИЕ 3. Выберите правильный вариант ответа:

Какой раздел философии изучает проблемы ценностей?

- онтология
- логика
- **аксиология**
- социальная философия

ЗАДАНИЕ 4. Выберите правильный вариант ответа:

С точки зрения возрожденческого гуманизма ценностью обладает человек

- имеющий аристократическое происхождение
- **творческий и деятельный**
- каждый человек
- моральный и добродетельный

ЗАДАНИЕ 5. Выберите правильный вариант ответа:

Антропологический поворот связан с ориентацией на познание какой философской проблемы?

- **проблемы человека**
- проблемы истины
- проблемы метода исследования
- проблемы бытия и небытия

ЗАДАНИЕ 6. Выберите правильный вариант ответа:

Какой из утверждений является исходной истиной буддизма?

- жизнь есть радость и наслаждение
- **жизнь есть страдание**
- жизнь есть борьба
- жизнь есть форма существования белковой материи

ЗАДАНИЕ 7. Выберите правильный вариант ответа:

Что означает термин «экзистенциализм»?

- философия полезности
- философия аскетизма
- **философия существования**
- философия долженствования

ЗАДАНИЕ 8. Выберите правильный вариант ответа:

Кто должен править в государстве с точки зрения Платона?

- аристократия

- философы
- тираны
- рабочие

ЗАДАНИЕ 9. Выберите правильный вариант ответа:

В своей этической концепции стоики выдвинули

- **идеал мудреца, который бесстрастно переносит удары судьбы**
- анархические принципы социальной жизни
- идеал героя, противостоящего всему миру
- идеал мудреца, проводящего жизнь в наслаждении от познания истины

ЗАДАНИЕ 10. Выберите правильный вариант ответа:

У России свои культурные основания и свой особый путь развития, поэтому ей не нужно ничего заимствовать у Запада. Так утверждали

- марксисты
- позитивисты
- западники
- **славянофилы**

ЗАДАНИЕ 11. Выберите правильный вариант ответа:

Что означает термин «антисциентизм»?

- убеждение о вреде избыточных знаний для человека
- борьба против суеверий
- вера в будущее научно-технического процесса
- **критическая оценка науки и ее роли в системе культуры и научного познания как фактора отношения человека к миру**

ЗАДАНИЕ 12. Укажите понятие, которое НЕ характеризует механизм развития культуры:

- традиции
- преемственность
- **элитарная культура**
- новации

ЗАДАНИЕ 13. Выберите правильный вариант ответа:

«Научная революция» в концепции Т. Куна – это

- **смена научных парадигм**
- выдающееся открытие
- внезапное ускорение развития науки
- смена одной научной элиты другой

ЗАДАНИЕ 14. Выберите правильный вариант ответа:

Что представляет собой «Категорический императив» в философии И. Канта?

- причинно-следственную связь
- закон природы
- **моральный закон**
- эстетическое восприятие мира

ЗАДАНИЕ 15. Выберите правильный вариант ответа:

Как называется функция культуры, заключающаяся в формировании средств и условий общения людей на разном уровне социокультурной системы?

- **коммуникативной**
- аксиологической
- адаптивной

- гносеологической

ЗАДАНИЕ 16. Выберите правильный вариант ответа:

Какое из утверждений относится к представлениям экзистенциализма?

- действительность определяет возможности
- **существование предшествует сущности**
- сущность определяет существование
- основой бытия является материя

ЗАДАНИЕ 17. Выберите правильный вариант ответа:

Как называется процесс «очищения» душевного состояния зрителей через переживание страха, гнева или сострадания?

- **катарсис**
- мимезис
- воображение
- познание

ЗАДАНИЕ 18. Выберите правильный вариант ответа:

На что оказал влияние принцип трудовой аскезы в протестантской этике?

- **развитие капитализма в западных странах**
- развитие культуры на Востоке
- греческую этику
- российскую соборность

ЗАДАНИЕ 19. Выберите правильный вариант ответа:

Когда возникло понятие «глобальные проблемы человечества»?

- 6 в. до н.э.
- 13 в. н.э.
- 19 в. н.э.
- **20 в. н. э.**

ЗАДАНИЕ 20. Выберите правильный вариант ответа:

Что является последним этапом в развитии любого типа культуры, по мнению О. Шпенглера?

- **цивилизация**
- коммунизм
- прогресс
- регресс

ЗАДАНИЕ 21. Выберите правильный вариант ответа:

Культурное наследие, передающееся от поколения к поколению и воспроизводящееся в определенных обществах в течение длительного времени – это

- инновации
- интериоризация
- **традиции**
- тенденции

ЗАДАНИЕ 22. Выберите правильный вариант ответа:

Что является специфически человеческим способом коммуникации?

- **речь**
- труд
- подражание
- игра

ЗАДАНИЕ 23. Что из перечисленного относится к духовным ценностям?

- здоровье
- богатство
- физическая красота
- **свобода**

ЗАДАНИЕ 24. Выберите правильный вариант ответа:

Один из аспектов толерантности и терпимости, предполагающий требование параллельного существования культур в целях их взаимного проникновения, обогащения и развития – это

- **мультикультурализм**
- пацифизм
- анархизм
- традиционализм

ЗАДАНИЕ 25. Выберите правильный вариант ответа:

С чем представители иррационализма связывают сущность человека?

- **волей**
- разумом
- сознательностью
- социальностью

2) открытые задания (тестовые, повышенный уровень сложности):

ЗАДАНИЕ 1. Какие древнегреческие философы объявили человека мерой всех вещей?

Ответ: софисты

ЗАДАНИЕ 2. Как называется этическая концепция, в которой высшим благом провозглашается удовольствие?

Ответ: гедонизм

ЗАДАНИЕ 3. Как называется себялюбие, предпочтение своих личных интересов интересам других, пренебрежение к интересам общества и окружающих?

Ответ: эгоизм

ЗАДАНИЕ 4. Какие нормы указывают на то, что должно быть, предъявляя требования к сознанию и поведению человека?

Ответ: моральные

ЗАДАНИЕ 5. Укажите социально-философское понятие, означающее терпимость к иному мировоззрению, образу жизни, поведению и обычаям?

Ответ: толерантность

ЗАДАНИЕ 6. Как называется учение о ценностях, их происхождении, сущности, функциях, типах и видах?

Ответ: аксиология

ЗАДАНИЕ 7. Какую культуру традиционно противопоставляют западной, акцентируют внимание на ее традиционности, патриархальности, религиозности?

Ответ: восточную

ЗАДАНИЕ 8. Укажите, какая этическая концепция применяется в примере:

губительно как чрезмерное чревоугодие, так и голод, как растрата денег, так и скупость.

Ответ: концепция золотой середины

ЗАДАНИЕ 9. Какая категория этики по своему содержанию противоположна добру, выражает представление о том, что противоречит требованиям морали и заслуживает осуждения?

Ответ: зло

ЗАДАНИЕ 10. Как называется философский и этический принцип, провозглашающий человека высшей ценностью?

Ответ: гуманизм

ЗАДАНИЕ 11. Как называется этический принцип и моральная практика, реализующие идею приоритета заботы о благополучии и счастье других людей?

Ответ: альтруизм

3) открытые задания (мини-кейсы, средний уровень сложности):

ЗАДАНИЕ 1. М.М. Бахтин в своей работе «К философии поступка» писал: «...Всякая общезначимая ценность становится действительно значимой только в индивидуальном контексте».

Объясните, как знание ценностей соотносится с их реализацией в социокультурном и профессиональном взаимодействии?

Ответ: Без воплощения в реальном общении, в отношении к миру и самому себе, ценность остается абстракцией. Знание ценностей имеет смысл только тогда, когда они реализуются на практике.

ЗАДАНИЕ 2. Основные этические концепции, реализуемые в социокультурном и профессиональном взаимодействии, можно разделить на следующие типы: этика добродетели, этика долга и утилитаристская этика. Соотнесите с каждым из направлений соответствующее ему высказывание:

1. Добродетель – такое качество личности, реализуя которое и действуя в соответствии с которым человек оказывается нравственным.

2. Поступай только согласно такой максиме, руководствуясь которой, ты в то же время можешь пожелать, чтобы она стала всеобщим законом.

3. Поступки являются правильными (хорошими) соответственно, когда имеют тенденцию содействовать счастью, неправильными (дурными), когда имеют тенденцию приносить противоположное счастье.

При соблюдении какой концепции наиболее эффективным окажется профессиональное взаимодействие, при соблюдении какой – социокультурное?

Ответ: 1 – этика добродетели; 2 – этика долга; 3 – утилитаристская этика. Наиболее эффективным профессиональное взаимодействие будет при соблюдении этики долга, социокультурное – при соблюдении этики добродетели и утилитаристской этики.

ЗАДАНИЕ 3. Изложите Ваши мысли относительно высказывания Ф. Ницше: «У кого есть Зачем жить, может вынести почти любое Как». Какая антропологическая проблема ставится в этом высказывании?

Ответ: проблема смысла жизни. В данном высказывании заключена мысль о том, что у человека должна быть в жизни цель, ради достижения которой он сможет выдержать любые испытания.

ЗАДАНИЕ 4. Проанализируйте отрывок из «Легенды о Великом инквизиторе» Ф.М. Достоевского. Какова основная проблема, которая ставится в данной легенде? В чем ее актуальность?

«Ты хочешь идти в мир и идешь с голыми руками, с каким-то обетом свободы, которого они, в простоте своей и в прирожденном бесчинстве своем, не могут и осмыслить, которого боятся они и страшатся, – ибо ничего и никогда не было для человека и для человеческого общества невыносимее свободы! А видишь ли сии камни в этой нагой раскаленной пустыне? Обрати их в хлебы, и за тобой побежит человечество как стадо, благодарное и послушное, хотя и вечно трепещущее, что ты отымешь руку свою и прекратятся им хлебы твои. Но ты не захотел лишить человека свободы и отверг предложение, ибо какая же свобода, рассудил ты, если послушание куплено хлебами? Ты возразил, что человек жив не единым хлебом, но знаешь ли, что во имя этого самого хлеба земного и восстанет на тебя дух земли, и сразится с тобою, и победит тебя, и все пойдут за ним...».

Ответ: Проблема свободы. Данная проблема актуальна в связи с тем, что человек стремится к свободе, но, получая ее, боится связанной с ней ответственности, его пугает проблема выбора и он бежит от свободы.

ЗАДАНИЕ 5. В социокультурном и профессиональном взаимодействии одним из основных выступает принцип гуманизма, наиболее полно развитый в философии эпохи Возрождения. Сформулируйте основные характеристики гуманизма и обоснуйте его актуальность. Проанализируйте возможные последствия современных феноменов (например, эвтаназии, смертной казни и т.п.), и укажите их противоречивость с точки зрения гуманизма.

Ответ: гуманизм – это система мировоззрения, основу которого составляет защита достоинства и самоценности личности, ее свободы и права на счастье. Актуальность гуманизма сегодня связана с увеличением числа экзистенциальных проблем, с необходимостью определить ценность человека и решать глобальные проблемы. В таких феноменах, как эвтаназия, смертная казнь, мы сталкиваемся с гуманистическими проблемами. Эвтаназия – это убийство, но одновременно – это облегчение страданий больного человека. Смертная казнь, с одной стороны, предотвращает повторное преступление в случае освобождения осужденного и является равноценным содеянному наказанием. С другой стороны, казнь – это убийство, а наказание должно быть направлено на исправление человека, а не на его уничтожение.

ЗАДАНИЕ 6. Анализируя особенности различных социальных групп, этносов и конфессий, укажите, какие глобальные проблемы человечества Вам известны, что является их причиной, и какие Вы видите пути их решения?

Ответ: экологические, экономические, демографические проблемы, эпидемии, проблемы применения оружия массового поражения, проблема войны и мира, проблема защиты культурного наследия.

Причины глобальных проблем человечества в усилении взаимосвязи между государствами и взаимозависимости регионов. Решение проблем возможно при объединении усилий всех стран и при приоритете выживания человека перед всеми остальными интересами.

ЗАДАНИЕ 7. Проанализируйте, в чем видит различие между культурой и цивилизацией Н.А. Бердяев. Согласны ли Вы с теми оценками и характеристиками культуры и цивилизации, которые предложены автором?

«Культура есть явление глубоко индивидуальное и неповторимое. Цивилизация же есть явление общее и повсюду повторяющееся. Культура имеет душу. Цивилизация же имеет

лишь методы и орудие... Культура основана на священном предании. И чем древнее культура, тем она значительнее и прекраснее. Культура всегда гордится древностью своего происхождения, неразрывной связью с великим прошлым... Этого нельзя сказать про цивилизацию. Цивилизация дорожит своим недавним происхождением, она не ищет древних и глубоких источников. Она гордится изобретением сегодняшнего. У нее нет предков. Все в ней новенькое, все приспособлено к удобствам сегодняшнего дня».

Ответ: Действительно, можно согласиться с Бердяевым, поскольку цивилизация – это этап в развитии общества, когда приоритетным становится техническое развитие и материальное благополучие, а духовные процессы и явления отступают на задний план.

ЗАДАНИЕ 8. Проанализируйте высказывание Д.С. Лихачева из «Письма о добром и прекрасном», укажите, какими он видит принципы межкультурного взаимодействия. Согласны ли Вы с ним?

«Культура человечества движется вперед не путем перемещения в “пространстве-времени”, а путем наполнения ценностей. Ценности не сменяют друг друга, новые не уничтожают старых (если старые действительно настоящие), а присоединяясь к старым, увеличивают их значимость для сегодняшнего дня. Чем большими ценностями мы овладели, тем более изощренным и острым становится наше восприятие иных культур – культур удаленных от нас во времени и в пространстве древних и других стран. Каждая из культур прошлого или иной страны становится для интеллигентного человека “своей культурой”, своей глубоко личной и своей в национальном аспекте, ибо познание своего сопряжено с познанием чужого».

Ответ: автор говорит о необходимости межкультурного диалога. Чем больше человек сталкивается с другими культурами и старается понять их ценности и принципы, тем легче ему общаться с представителями других групп, уважать и понимать их позицию.

ЗАДАНИЕ 9. Опираясь на знание этических учений, проанализируйте, в какой профессиональной сфере может быть применима этика долга И. Канта. Обоснуйте свой ответ.

Ответ: Практически каждая современная профессия формирует представление о долге. Этика Канта является основой врачебной этики, поскольку врач должен относиться к человеку как к цели, ориентируясь на непричинение вреда пациенту, справедливость и правдивость.

ЗАДАНИЕ 10. Проанализируйте, свидетельствует ли исторический опыт о том, что вера и упование на божественное откровение позволяют лучше решать практические задачи и овладевать наукой, чем стремление к знанию, самопознанию и собственной активной деятельности?

Ответ: нет, исторический опыт об этом не свидетельствует. На основании знания исторического опыта можно сказать, что именно стремление к знанию, самопознанию и собственной активной деятельности способствует научному прогрессу успешному решению практических задач. Наука в большей степени развивается в эпохи, когда человечество ориентировано на знание, самопознание и творческую активность (Эпоха Возрождения, Новое время).

Критерии и шкалы оценивания:

Для оценивания выполнения заданий используется балльная шкала:

1) закрытые задания (тестовые, средний уровень сложности):

- 1 балл – указан верный ответ;
- 0 баллов – указан неверный ответ, в том числе частично.

2) открытые задания (тестовые, повышенный уровень сложности):

- 2 балла – указан верный ответ;
- 0 баллов – указан неверный ответ, в том числе частично.

3) открытые задания (мини-кейсы, средний уровень сложности):

- 5 баллов – задание выполнено верно (получен правильный ответ, обоснован (аргументирован) ход выполнения (при необходимости));
- 2 балла – выполнение задания содержит незначительные ошибки, но приведен правильный ход рассуждений, или получен верный ответ, но отсутствует обоснование хода его выполнения (если оно было необходимым), или задание выполнено не полностью, но получены промежуточные (частичные) результаты, отражающие правильность хода выполнения задания, или, в случае если задание состоит из выполнения нескольких подзаданий, 50% которых выполнено верно;
- 0 баллов – задание не выполнено или выполнено неверно (ход выполнения ошибочен или содержит грубые ошибки, значительно влияющие на дальнейшее его изучение).

Б1.О.02 История России1) закрытые задания (тестовые, средний уровень сложности):

ЗАДАНИЕ 1. Выберите правильный вариант ответа:

Что являлось основой политической системы Древней Греции?

- номы
- фемы
- коммуны
- **полисы**

ЗАДАНИЕ 2. Выберите правильный вариант ответа:

К какому веку относится появление в славянских землях норманнов во главе с Рюриком?

- XI век
- X век
- **IX век**
- XII век

ЗАДАНИЕ 3. Выберите правильный вариант ответа:

Ключевым принципом функционирования средневекового общества в Западной Европе был принцип

- **а) вассалитета**
- б) верховенства права
- в) веротерпимости
- г) демократического централизма

ЗАДАНИЕ 4. Выберите правильный вариант ответа:

Когда впервые состоялся созыв Земского собора в России?

- **XVI век**
- XII век
- XV век
- XVII век

ЗАДАНИЕ 5. Выберите правильный вариант ответа:

В европейской экономике XVI-XVII веков произошла

- промышленная революция
- натурализация хозяйства
- **«революция цен»**
- индустриализация

ЗАДАНИЕ 6. Выберите правильный вариант ответа:

Какой из перечисленных городов был в XVII веке центром российской морской торговли со странами Западной Европы?

- Рига
- Кронштадт
- Мурманск
- **Архангельск**

ЗАДАНИЕ 7. Выберите правильный вариант ответа:

Противником России, в ходе Северной войны была

- Польша
- **Швеция**
- Пруссия
- Дания

ЗАДАНИЕ 8. Выберите правильный вариант ответа:

«Верховный тайный совет» играл определяющую роль в политической жизни России при

- Павле I
- **Петре II**
- Екатерине II
- Петре III

ЗАДАНИЕ 9. Выберите правильный вариант ответа:

В число «просветителей», в европейской истории XVIII века, входил

- **Ж.-Ж. Руссо**
- Н. Макиавелли
- Б. Спиноза
- Ф. Аквинский

ЗАДАНИЕ 10. Выберите правильный вариант ответа:

Что из перечисленного было характерно для славянофилов в России XIX века?

- **идеализация истории допетровской Руси**
- идеализация капиталистического общества
- стремление к возрождению старообрядчества
- стремление к возрождению традиционных языческих культов

ЗАДАНИЕ 11. Выберите правильный вариант ответа:

В какой стране к середине XIX века завершился промышленный переворот?

- Германия
- Россия
- **Англия**
- Франция

ЗАДАНИЕ 12. Выберите правильный вариант ответа:

Какая из перечисленных реформ произошла в России в 1860-1870-х годах?

- Столыпинская аграрная реформа
- **земская реформа**
- учреждение первых министерств
- секуляризация церковных земель

ЗАДАНИЕ 13. Выберите правильный вариант ответа:

Декрет о земле, принятый на II Всероссийском съезде Советов отменял

- крестьянскую общину
- продразвёртку
- крепостное право
- **право частной собственности на землю**

ЗАДАНИЕ 14. Выберите правильный вариант ответа:

Кто в годы гражданской войны возглавлял в России Добровольческую армию?

- **Деникин А.И.**
- Брусилов А.А.
- Каменев С.С.
- Власов А.А.

ЗАДАНИЕ 15. Выберите правильный вариант ответа:

Продовольственная диктатура, введенная в годы «военного коммунизма» предусматривала

- **принудительное изъятие излишков сельхозпродукции**
- создание колхозов
- введение натурального сельскохозяйственного налога
- ликвидацию помещичьих хозяйств

ЗАДАНИЕ 16. Выберите правильный вариант ответа:

В каком году в Италии установился Фашистский режим?

- **1922 г.**
- 1939 г.
- 1914 г.
- 1936 г.

ЗАДАНИЕ 17. Выберите правильный вариант ответа:

В каком году была принята первая Конституция Советского Союза?

- 1922 г.
- **1924 г.**
- 1918 г.
- 1936 г.

ЗАДАНИЕ 18. Выберите правильный вариант ответа:

Какое положение из названных характеризует новую экономическую политику?

- **разрешение иностранных концессий**
- введение всеобщей трудовой повинности
- отмена частной собственности на землю
- установление продовольственной диктатуры

ЗАДАНИЕ 19. Выберите правильный вариант ответа:

Что стало одной из причин свёртывания НЭПа?

- падение уровня жизни людей, по сравнению с периодом осуществления политики «военного коммунизма»
- **несоответствие НЭПа идеологическим установкам большевиков**
- невозможность создания колхозов в условиях НЭПа
- массовые крестьянские выступления с требованиями проведения сплошной коллективизации

ЗАДАНИЕ 20. Выберите правильный вариант ответа:

Крупнейшей стройкой первых пятилеток было

- строительство транссиба
- освоение Донбасса
- **строительство Днепрогэса**
- строительство Байконура

ЗАДАНИЕ 21. Выберите правильный вариант ответа:

Благодаря советско-германскому договору от 1939 года в состав СССР вошла

- Украина
- Болгария
- **Прибалтика**
- Чехословакия

ЗАДАНИЕ 22. Выберите правильный вариант ответа:

Главным вопросом Мюнхенской конференции 1938 года стал вопрос о

- ненападении, между Чехословакией и Германией
- **передаче Судетской области Германии**
- объединении Австрии и Германии
- заключении «Антикоминтерновского пакта»

ЗАДАНИЕ 23. Выберите правильный вариант ответа:

В 1941 году немецкие войска были

- разгромлены под Смоленском
- окружены в Сталинграде
- **разгромлены под Москвой**
- разбиты в Ленинграде

ЗАДАНИЕ 24. Выберите правильный вариант ответа:

В конце 40-х – начале 50-х преследовали «безродных космополитов» обвиняя людей в ...

- коррупции
- нелегальном пересечении границы
- хищении государственного имущества
- **преклонении перед Западом**

ЗАДАНИЕ 25. Выберите правильный вариант ответа:

Что из нижеперечисленного связано с понятием «десталинизация»?

- борьба с диссидентами
- **реабилитация политических заключённых**
- разрешение многопартийности
- созыв съезда народных депутатов

ЗАДАНИЕ 26. Выберите правильный вариант ответа:

Какое из приведенных событий произошло позже остальных?

- Карибский кризис
- **ввод советских войск в Афганистан**
- ввод советских войск в Венгрию
- создание НАТО

ЗАДАНИЕ 27. Выберите правильный вариант ответа:

Кого в Советском Союзе называли диссидентами?

- злостных прогульщиков
- агентов иностранной разведки
- борцов с «космополитизмом»
- **борцов с существующим строем**

ЗАДАНИЕ 28. Выберите правильный вариант ответа:

Согласно решению XIX конференции КПСС высшим органом государственной власти в СССР становился

- **Съезд народных депутатов СССР**
- Совет Министров СССР
- Государственная Дума СССР
- Федеральное собрание

ЗАДАНИЕ 29. Укажите, что из перечисленного относится к реформам правительства Ельцина — Гайдара начала 1990-х гг.:

- начало деятельности Съезда народных депутатов
- **ваучерная приватизация**
- реализация национальных проектов в социальной сфере и экономике
- образование Государственного совета Российской Федерации

ЗАДАНИЕ 30. Выберите правильный вариант ответа:

В соответствии с Конституцией Российской Федерации 1993 года высшим законодательным органом государственной власти стал двухпалатный парламент, получивший название

- Верховный Совет
- **Федеральное собрание**
- Национальная ассамблея
- Народное собрание

ЗАДАНИЕ 31. Расположите события в хронологическом порядке:

- приход Рюрика на славянские земли
- образование древнерусского государства
- принятие христианства на Руси
- Любичский княжеский съезд

Варианты для выбора:

- 1
- 2
- 3
- 4

* В формулировке вопроса события расположены в верном хронологическом порядке.

ЗАДАНИЕ 32. Расположите события в хронологическом порядке:

- Битва при Калке
- Ледовое побоище
- Куликовская битва
- Стояние на Угре

Варианты для выбора:

- 1
- 2
- 3
- 4

* В формулировке вопроса события расположены в верном хронологическом порядке.

ЗАДАНИЕ 33. Расположите события в хронологическом порядке:

- создание империи Карла Великого

- раскол христианской церкви на католическую и ортодоксальную (православную)
- первый «крестовый поход»
- «столетняя» война между Англией и Францией

Варианты для выбора:

- 1
- 2
- 3
- 4

* В формулировке вопроса события расположены в верном хронологическом порядке.

ЗАДАНИЕ 34. Расположите события в хронологическом порядке:

- царствование Бориса Годунова
- правление Василия Шуйского
- семибоярщина
- создание второго ополчения

Варианты для выбора:

- 1
- 2
- 3
- 4

* В формулировке вопроса события расположены в верном хронологическом порядке.

ЗАДАНИЕ 35. Расположите события в хронологическом порядке:

- захват Константинополя турками-османами
- открытие Х. Колумбом американского континента
- начало Реформации в Европе
- ликвидация абсолютизма в Англии

Варианты для выбора:

- 1
- 2
- 3
- 4

* В формулировке вопроса события расположены в верном хронологическом порядке.

ЗАДАНИЕ 36. Расположите события в хронологическом порядке:

- Поход русской армии В.В.Голицина на Крым
- Взятие Азова
- Поражение под Нарвой
- Полтавская битва

Варианты для выбора:

- 1
- 2
- 3
- 4

* В формулировке вопроса события расположены в верном хронологическом порядке.

ЗАДАНИЕ 37. Расположите события в хронологическом порядке:

- создание приказов
- создание коллегий

- создание министерств
- создание Государственной Думы

Варианты для выбора:

- 1
- 2
- 3
- 4

* В формулировке вопроса события расположены в верном хронологическом порядке.

ЗАДАНИЕ 38. Расположите события в хронологическом порядке:

- создание «Священного союза»
- гражданская война в США
- создание Германской империи
- создание Антанты

Варианты для выбора:

- 1
- 2
- 3
- 4

* В формулировке вопроса события расположены в верном хронологическом порядке.

ЗАДАНИЕ 39. Расположите события в хронологическом порядке:

- Крымская война
- русско-японская война
- назначение П.А. Столыпина на пост премьер-министра
- начало I мировой войны

Варианты для выбора:

- 1
- 2
- 3
- 4

* В формулировке вопроса события расположены в верном хронологическом порядке.

ЗАДАНИЕ 40. Расположите события в хронологическом порядке:

- Падение монархии в России
- «Корниловский мятеж»
- II съезд Советов
- Открытие Учредительного собрания

Варианты для выбора:

- 1
- 2
- 3
- 4

* В формулировке вопроса события расположены в верном хронологическом порядке.

ЗАДАНИЕ 41. Расположите события в хронологическом порядке:

- II съезд Советов
- Брестский мир
- Принятие первой Конституции РСФСР

- Введение НЭПа

Варианты для выбора:

- 1
- 2
- 3
- 4

* В формулировке вопроса события расположены в верном хронологическом порядке.

ЗАДАНИЕ 42. Расположите события в хронологическом порядке:

- назначение А. Гитлера канцлером Германии
- выход Германии и Италии из Лиги Наций
- объединение (аншлюс) Германии и Австрии
- заключение Мюнхенского договора

Варианты для выбора:

- 1
- 2
- 3
- 4

* В формулировке вопроса события расположены в верном хронологическом порядке.

ЗАДАНИЕ 43. Расположите события в хронологическом порядке:

- Московское сражение
- Сталинградская битва
- Курская битва
- Висло-Одерская операция

Варианты для выбора:

- 1
- 2
- 3
- 4

* В формулировке вопроса события расположены в верном хронологическом порядке.

ЗАДАНИЕ 44. Расположите события в хронологическом порядке:

- создание НАТО
- создание ОВД
- Карибский кризис
- ввод советских войск в Афганистан

Варианты для выбора:

- 1
- 2
- 3
- 4

* В формулировке вопроса события расположены в верном хронологическом порядке.

ЗАДАНИЕ 45. Расположите события в хронологическом порядке:

- выборы президента РСФСР
- попытка захвата власти ГКЧП
- образование СНГ
- принятие Конституции России

Варианты для выбора:

- 1
- 2
- 3
- 4

* В формулировке вопроса события расположены в верном хронологическом порядке.

ЗАДАНИЕ 46. Установите связи между событиями и историческим персонами:

- Любический княжеский съезд
- восстание древлян
- создание системы престолонаследия
- захват Киева
- строительство белокаменного Кремля

Варианты для выбора:

- князь Владимир «Мономах»
- князь Игорь «Старый»
- князь Ярослав «Мудрый»
- князь Юрий «Долгорукий»
- нет среди приведенных

* варианты для выбора приведены в порядке указания событий.

ЗАДАНИЕ 47. Установите связи между событиями и историческим персонами:

- поход Лжедмитрия I на Москву
- «стояние» на р. Угре
- Куликовская битва
- Ливонская война
- восстание под предводительством К. Булавина

Варианты для выбора:

- Борис Годунов
- Иван III
- Дмитрий Донской
- Иван IV Грозный
- нет среди приведенных

* варианты для выбора приведены в порядке указания событий.

ЗАДАНИЕ 48. Установите связи между представительными органами власти и странами, где они были созданы:

- кортесы
- конгресс
- генеральные штаты
- парламент

Варианты для выбора:

- Испания
- США
- Франция
- Англия

* варианты для выбора приведены в порядке указания органов власти.

ЗАДАНИЕ 49. Установите связи между законодательными актами и историческими персонами:

- Наказ к работе «Уложенной комиссии»
- Указ о создании Московского университета
- «Соборное уложение»
- Указ о единонаследии

Варианты для выбора:

- Екатерина II
- Елизавета Петровна
- Алексей Михайлович
- Пётр I

* варианты для выбора приведены в порядке указания законодательных актов.

ЗАДАНИЕ 50. Установите связи между законодательными актами и историческими персонами:

- Наказ к работе «Уложенной комиссии»
- Указ об обязанных крестьянах
- Указ о вольных хлебопашцах
- Указ о приписных и посессионных крестьянах

Варианты для выбора:

- Екатерина II
- Николай I
- Александр I
- Пётр I

* варианты для выбора приведены в порядке указания законодательных актов.

ЗАДАНИЕ 51. Установите связи между историческими событиями и датами их наступления:

- Венский конгресс
- Битва при Аустерлице
- Битва при Бородино
- Тильзитский мир

Варианты для выбора:

- 1815 год
- 1805 год
- 1812 год
- 1807 год

* варианты для выбора приведены в порядке указания событий.

ЗАДАНИЕ 52. Установите связи между событиями внешней политики СССР в 20-30-е годы и датами их наступления:

- Советско-германский договор «О дружбе и границе»
- Раппальский советско-германский договор
- Вступление СССР в Лигу Наций
- Советско-японские бои у озера Хасан

Варианты для выбора:

- 1939 г.
- 1922 г.

- 1934 г.
- 1938 г.

* варианты для выбора приведены в порядке указания событий.

ЗАДАНИЕ 53. Установите связи между названиями крупнейших сражений на советско-германском фронте и годами их происхождения:

- Смоленское сражение
- Завершение Сталинградской битвы
- освобождение Белоруссии («Багратион»)
- Висло-Одерская операция

Варианты для выбора:

- 1941 г.
- 1943 г.
- 1944 г.
- 1945 г.

* варианты для выбора приведены в порядке указания сражений.

ЗАДАНИЕ 54. Установите соответствие между терминами и их определениями:

- политика максимальной открытости деятельности государственных учреждений и свободы информации, основной компонент политики перестройки, проводимой в СССР во второй половине 1980х гг.
- произвольные решения в хозяйственной практике, не учитывающие объективные условия и научно обоснованные рекомендации
- состояние экономики, характеризующееся застоем производства и торговли на протяжении длительного периода и сопровождающееся увеличением численности безработных, снижением заработной платы и уровня жизни населения
- мировоззрение мирового гражданства, ставящее общечеловеческие интересы и ценности выше интересов отдельной нации

Варианты для выбора:

- гласность
- волюнтаризм
- стагнация
- космополитизм

* варианты для выбора приведены в порядке указания определений.

2) открытые задания (тестовые, повышенный уровень сложности):

ЗАДАНИЕ 1. С X века в древнерусском государстве появляются наследные земельные владения у феодалов. В дальнейшем собственниками могли быть не только частные лица, но и монастыри.

Укажите, как называлась на Руси земельная собственность, передаваемая по наследству.

Ответ: вотчина

ЗАДАНИЕ 2. В XI веке было создано первое писанное законодательство, которое в последующие столетия было дополнено.

Укажите название этого документа.

Ответ: Русская правда

ЗАДАНИЕ 3. В период ордынского владычества русские князья получали у монгольских ханов специальный документ, который подтверждал их право на княжение.

Как назывался такой документ?

Ответ: ярлык

ЗАДАНИЕ 4. В Судебнике 1497 года была введена регламентация права крестьян на уход от землевладельца. Это разрешалось делать в определенный период.

Как называлось время, разрешённое для ухода крестьян?

Ответ: Юрьев день

ЗАДАНИЕ 5. В XV-XVII веках при Московском государе большую роль играл, существовавший совещательный орган, состоявший из бояр окольничьих, а затем и думных дворян, и думных дьяков.

Укажите его название.

Ответ: Боярская дума

ЗАДАНИЕ 6. Во второй половине XVI века вводится временный запрет на использование крестьянами права ухода от землевладельца («Юрьев день»).

Как назывались годы действия этого запрета?

Ответ: Заповедные годы

ЗАДАНИЕ 7. В годы Смуты в России происходила частая смена власти. После отстранения от власти Василия Шуйского было создано боярское правительство.

Как назывался период правления данного правительства?

Ответ: семибоярщина

ЗАДАНИЕ 8. В России в XVII веке усилились крепостнические тенденции.

Назовите юридический документ, окончательно закрепивший крестьян за землевладельцами в Российском государстве в XVII веке.

Ответ: Соборное уложение

ЗАДАНИЕ 9. Уезжая из столицы в один из своих походов, Петр I издал указ о создании высшего государственного органа, который должен управлять страной во время отсутствия монарха.

Укажите название этого органа.

Ответ: Сенат

ЗАДАНИЕ 10. После окончательного разгрома Наполеона ведущими европейскими монархиями, был заключен основополагающий договор, об образовании структуры, гарантирующей стабильность и определявший принципы европейской политики в первой половине XIX века.

Укажите его название.

Ответ: Священный союз

ЗАДАНИЕ 11. Одно из общественно-политических течений в XIX веке провозгласило приоритет прав и свобод человека, устанавливая их основой общественного и экономического порядка и достигаемых через реформы.

Укажите название этой доктрины.

Ответ: либерализм

ЗАДАНИЕ 12. Одно из общественно-политических течений в XIX веке настаивало на приоритетности традиционных ценностей и порядков, необходимости сохранения традиций общества, его институтов, этики, нравственности и морали, основанной на религиозных доктринах.

Укажите название этого общественно-политического течения.

Ответ: консерватизм

ЗАДАНИЕ 13. В года правления Николая I в России возникло общественно-политическое течение, основным положением которого был возврат к идеалам допетровской Руси, воссоздание монархии, опирающейся на совещательный Земский собор.

Какое название получило это течение?

Ответ: славянофильство

ЗАДАНИЕ 14. В начале XX века в России была сформирована революционная партия, выступавшая за наделение крестьян землёй за счёт конфискации помещичьих земель. В качестве способа борьбы активно использовали индивидуальный террор.

Как называлась эта партия?

Ответ: эсеры

ЗАДАНИЕ 15. На II Всероссийском съезде Советов большевики объявили о взятии власти и устранении Временного правительства. Было провозглашено создание нового правительства.

Как называлось советское правительство, созданное на съезде?

Ответ: Совет народных комиссаров

ЗАДАНИЕ 16. Политика Советского руководства, в 1918-1921 году была направлена на мобилизацию ресурсов для победы в гражданской войне.

Укажите название этой политики.

Ответ: Военный коммунизм

ЗАДАНИЕ 17. По окончании первой мировой войны на Парижской мирной конференции была создана международная организация, имевшая целью предотвращение войн и регулирование споров между странами мирным путём.

Эта организация –

Ответ: Лига Наций

ЗАДАНИЕ 18. С 1929 года в СССР проводилась политика, в рамках которой крестьянские семьи, имеющие крепкое хозяйство и объявленные кулаками, принудительно переселялись в отдалённые районы СССР с передачей их хозяйств создаваемым колхозам в рамках политики коллективизации.

Укажите название данной политики.

Ответ: раскулачивание

ЗАДАНИЕ 19. В 1929 году разразился мировой экономический кризис, породивший массу проблем в экономической, политической и социальной сферах. В различных странах искали пути его преодоления, в том числе и в США, где её представил новый президент – Ф.Д. Рузвельт.

Какое название получила данная программа.

Ответ: «Новый курс»

ЗАДАНИЕ 20. В 1935 году в угольной промышленности Донбасса возникло, а затем распространилось на другие отрасли промышленности и на транспорт, движение работников в СССР за повышение производительности труда и лучшее использование техники.

Укажите название этого движения

Ответ: Стахановское движение

ЗАДАНИЕ 21. Конституция СССР 1936 года была одной из наиболее демократичных в мире по набору декларируемых прав и свобод, в частности, провозглашена реализация системы разделения властей.

Укажите название высшего законодательного органа в СССР.

Ответ: Верховный Совет СССР

ЗАДАНИЕ 22. После второй мировой войны была запущена программа восстановления европейской экономики путём оказания экономической помощи США.

Укажите название этого проекта.

Ответ: план Маршалла

ЗАДАНИЕ 23. После смерти И.В. Сталина начинается критика его методов руководства, получившим название «культ личности», происходит отказ от репрессивных и мобилизационных методов управления обществом, начинается процесс реабилитации жертв репрессий, имя Сталина убирают из названий городов, районов, улиц, площадей, заводов колхозов, демонтируются памятники.

Как называется данная политика?

Ответ: десталинизация

ЗАДАНИЕ 24. С конца 50-х годов в СССР начинает проявляться движение, ратующее за соблюдение прав человека и гражданина, против преследования за иные, нежели предписано официальной идеологией, убеждения. Со второй половины 60-х годов оно приобретает всё более широкий размах, в виде несанкционированных демонстраций, распространения самиздата. Участники преследовались властями.

Укажите название данного движения.

Ответ: диссидентство

ЗАДАНИЕ 25. Период советской истории с 1964 по 1982 год характеризуется замедлением темпов экономического развития, социальной апатией, ужесточением репрессивных мер в политической и культурной сфере.

Укажите название данного периода.

Ответ: застой

ЗАДАНИЕ 26. Период советской истории с 1985 по 1991 год. Советское руководство, во главе с М.С. Горбачёвым пыталось реформировать советскую экономику и политическую систему, с целью добиться её эффективности и привести в соответствие с общечеловеческими ценностями и идеалами.

Как назывался этот период?

Ответ: перестройка

ЗАДАНИЕ 27. В начале 90-х годов XX века правительство России взяло курс на ускоренный переход к рынку с целью оздоровления экономики без учета социальной цены данного перехода.

Укажите название данной политики.

Ответ: «шоковая терапия»

ЗАДАНИЕ 28. В 1998 году в России разразился тяжёлый экономический кризис. Он был связан с обвалом экономической активности в Азии и последовавшим падением цен на нефть. В сочетании с огромным государственным долгом это привело к признанию невозможности Российской Федерации осуществлять выплаты по долговым обязательствам.

Этот кризис получил название

Ответ: дефолт

3) открытые задания (мини-кейсы, средний уровень сложности):

ЗАДАНИЕ 1. Каковы причины и значение принятия христианства на Руси?

Приведите не менее 2 причин и 2 значений.

Пример ответа:

Причины:

- стремление к укреплению единоличной княжеской власти
- поиск союзников в обостряющейся борьбе с печенегами
- желание укрепить и сделать равноправными связи с Византией, на основе общей веры

Значение:

- формальное уравнивание княжеского титула с императорской властью византийских монархов (династические браки)
- превращение Руси в часть европейско-христианского мира
- развитие каменного зодчества, иконописи
- появление славянского алфавита
- использование византийского церковного права, введение единобрачия

ЗАДАНИЕ 2. Чем можно обосновать утверждение, что при Иване III Россия стала самостоятельным, независимым государством? Приведите не менее 2 аргументов.

Пример ответа:

- появление государственной символики – герба;
- отказ от уплаты дани и отражение похода ордынского правителя, хана Ахмата, в результате «стояния на Угре» в 1480 году;
- создание единого законодательства – Судебника;
- появление органов общегосударственной власти: Боярская Дума, Дворцы, Казна;
- введение единой денежной единицы – рубль;
- внутренняя унификация страны: ликвидация большинства независимых княжеств, упразднение новгородских «вольностей»;
- международное признание российского государства.

ЗАДАНИЕ 3. Приведите не менее 2 целей индустриализации в СССР.

Пример ответа:

- ликвидация технико-технологического отставания от ведущих западных стран;
- достижение экономической независимости, чтобы выдержать возможную экономическую блокаду;
- создание мощного военно-промышленного комплекса;
- демонстрация успехов социалистической системы, для приближения мировой революции;
- рост численности пролетариата, для укрепления социальной опоры коммунистической партии;
- ликвидация социально чуждых элементов: непманов;
- ликвидация безработицы, снова появившейся в годы НЭПа.

ЗАДАНИЕ 4. Можно ли согласиться с утверждением, что внутренняя политика Александра I была направлена на модернизацию общественных отношений в Российской империи? Обоснуйте свое мнение, приведите не менее 2 аргументов.

Пример ответа 1: да:

- в годы правления Александра I был осуществлён ряд мер, направленных на модернизацию социально-экономических отношений (издание указа «о вольных хлебопашцах», разработка проектов отмены крепостного права в Прибалтике);
- модернизация государственного управления, создание системы министерств, разработка проекта государственного переустройства М.М. Сперанским, основанного на

принципе «разделения властей», создание Государственного совета, дарование Конституции Царству Польскому;

- составление проекта российской Конституции – «Государственной уставной грамоты Российской империи»;
- открытие новых высших и средних учебных заведений, издание Университетского устава, что способствовало модернизации образования.

Пример ответа 2: нет:

- Александр I не проявлял решительности в осуществлении социально-экономических преобразований, поэтому они не оказали существенного влияния на российское общество («указ о вольных хлебопашцах» имел рекомендательный характер, проекты отмены крепостного права на территории всей империи не были реализованы);
- из проекта М.М. Сперанского был создан только Государственный совет с законосовещательными функциями, проект же Конституции был совершенно оставлен без последствий;
- преобразование Министерства народного просвещения в Министерство духовных дел и народного просвещения повлекло усиление консервативных начал в системе образования.

ЗАДАНИЕ 5. Можно ли согласиться с тем, что промышленная и финансовая политика Александра III способствовала успешному социально-экономическому развитию России? Обоснуйте свое мнение, приведите не менее 2 аргументов.

Пример ответа 1: да:

- государство поощряло железнодорожное строительство, что стимулировало развитие промышленного производства;
- Правительству удалось добиться значительного превышения экспорта над импортом за счёт увеличения вывоза хлеба и другой сельскохозяйственной продукции и тем самым существенно пополнить бюджет;
- казна выкупила ряд частных железных дорог, что позволило упорядочить дорожное хозяйство и унифицировать тарифы;
- снижение размера выкупных платежей способствовало развитию рыночных отношений в России.

Пример ответа 2: нет:

- распределение государственных заказов препятствовало развитию свободной конкуренции в промышленности;
- государственная поддержка дворянского землевладения сдерживало перераспределение земельного фонда в России и решение проблемы малоземелья;
- сохранение крестьянской общины сдерживало развитие рыночных отношений в сельском хозяйстве.

ЗАДАНИЕ 6. Можно ли согласиться с тем, что Советский Союз был хорошо подготовлен к возможной войне с гитлеровской Германией? Обоснуйте свое мнение, приведите не менее 2 аргументов.

Пример ответа 1: да:

- индустриализация, форсированный рост военного производства накануне войны создали экономический потенциал страны и предпосылки для последующего быстрого перехода её экономики на военные рельсы;
- перед войной резко увеличились ассигнования на военные нужды, росло производство новой военной техники;
- изменилась кадровая политика, в связи с переходом на кадровую систему комплектования и выдвижение на командные должности офицеров и генералов с боевым опытом, полученным в Испании, Монголии, Финляндии;
- принятый в 1939 году закон «О всеобщей воинской обязанности», позволил удвоить численность армии уже через год;

- были сделаны выводы из советско-финляндской войны и в плане подготовки войск, и в части вооружений; пошли на спад репрессии в армии и в военной промышленности;
- велась целенаправленная идеологическая, военно-спортивная подготовка населения к отпору врагу, развивалась патриотическая тематика в искусстве, обращение к историческим традициям;
- СССР пописал, в 1941 году, «Пакт о нейтралитете» с Японией, дабы обезопасить свои восточные границы;
- установление семидневной рабочей недели, восьмичасового рабочего дня, ужесточение трудовой дисциплины, способствовали повышению уровня производства в промышленности.

Пример ответа 2: нет:

1. руководство страны допустило серьёзные просчёты в прогнозах, внедрялась мысль о невозможности участия европейских рабочих и крестьян в войне против СССР;
2. опасаясь провокаций, И. Сталин отказывался привести войска в приграничной зоне в боевую готовность;
3. допущены ошибки в определении направления главного удара и стратегических целей противника, велась подготовка только к наступательной войне;
4. перевооружение армии было далеко от завершения, большое количество боевой техники было неисправно, было недостаточно кадров для эффективного использования новой техники, по ряду позиций (особенно авиация) она всё ещё качественно уступала противнику;
5. огромный урон уровню подготовки нанесли репрессии в отношении командного состава советской армии, руководителей промышленных предприятий, конструкторов;
6. политика советского руководства привела к наличию внутренних конфликтов в стране: национальных, особенно на вновь присоединенных территориях, социальных, связанные с репрессиями в отношении целых социальных групп (казаки, кулаки, священники, бывшие дворяне, буржуазия);
7. в результате советско-германского сближения в 1939 году СССР получил серьёзный удар по своему имиджу борца с нацистской угрозой, а в результате советско-финской войны Советский Союз был исключён из Лиги Наций, что подрывало его авторитет и приводило к международной изоляции.

Критерии и шкалы оценивания:

Для оценивания выполнения заданий используется балльная шкала:

1) закрытые задания (тестовые, средний уровень сложности):

- 1 балл – указан верный ответ;
- 0 баллов – указан неверный ответ, в том числе частично.

2) открытые задания (тестовые, повышенный уровень сложности):

- 2 балла – указан верный ответ;
- 0 баллов – указан неверный ответ, в том числе частично.

3) открытые задания (мини-кейсы, средний уровень сложности):

- 5 баллов – задание выполнено верно (получен правильный ответ, обоснован (аргументирован) ход выполнения (при необходимости));
- 2 балла – выполнение задания содержит незначительные ошибки, но приведен правильный ход рассуждений, или получен верный ответ, но отсутствует обоснование хода его выполнения (если оно было необходимым), или задание выполнено не полностью, но получены промежуточные (частичные) результаты, отражающие правильность хода выполнения задания, или, в случае если задание состоит из выполнения нескольких подзаданий, 50% которых выполнено верно;
- 0 баллов – задание не выполнено или выполнено неверно (ход выполнения ошибочен или содержит грубые ошибки, значительно влияющие на дальнейшее его изучение).

Б1.О.35 Основы российской государственности

1) закрытые задания (тестовые, средний уровень сложности):

ЗАДАНИЕ 1. Выберите правильный вариант ответа:

Ключевую роль в формировании мировоззрения играют

- **ценности**
- мысли
- концепты
- эмоции

ЗАДАНИЕ 2. Выберите правильный вариант ответа:

Л.Н Толстой, Ф.М. Достоевский, А.С. Пушкин относятся к

- Железному веку
- **Золотому веку**
- Серебряному веку
- Каменному веку

ЗАДАНИЕ 3. Выберите правильный вариант ответа:

Идея мирового гражданства и отказа от государств характерна для

- **космополитизма**
- патриотизма
- интернационализма
- национализма

ЗАДАНИЕ 4. Выберите правильный вариант ответа:

Русскую идею в своих трудах разрабатывали

- П. Чаадаев и А. Герцен
- Л. Толстой и К. Победоносцев
- **Н. Бердяев и В. Соловьев**
- В. Ленин и И. Сталин

ЗАДАНИЕ 5. Выберите правильный вариант ответа:

Н.Я. Данилевский является представителем ... подхода.

- системного
- формационного
- **цивилизационного**
- технологического

ЗАДАНИЕ 6. Выберите правильный вариант ответа:

Подход к месту человека в мировой и общественной системе, при котором он считает себя частью родной страны, т.е. гражданином в полном смысле этого слова, чувствует сопричастность ее истории и культуре, – это

- интернационализм
- **патриотизм**
- национализм
- синкретизм

ЗАДАНИЕ 7. Выберите правильный вариант ответа:

В.М. Васнецов – автор картины «...».

- **Богатыри**
- Бурлаки на Волге
- Незнакомка
- Крик

ЗАДАНИЕ 8. Выберите правильный вариант ответа:

Категория социально-гуманитарных наук (психологии, социальной философии, культурной антропологии, социальной психологии и др.), применяемая для описания индивидов и групп в качестве относительно устойчивых, «тождественных самим себе» целостностей, – это

- **идентичность**
- толерантность
- справедливость
- чувственность

ЗАДАНИЕ 9. Выберите правильный вариант ответа:

К конкурентным преимуществам России относятся:

- обширные территории
- образованность и почти 100% грамотность населения
- обилие природных ресурсов
- **все перечисленное**

ЗАДАНИЕ 10. Выберите правильный вариант ответа:

В.И. Ленин был сторонником ... подхода.

- системного
- **формационного**
- цивилизационного
- технологического

2) открытые задания (короткие (тестовые, повышенный уровень сложности)):

ЗАДАНИЕ 1. Выразите предложенные ниже понятия одним термином, включающим в себя все из перечисленных: ценности, смыслы, знания, принципы.

Ответ: мировоззрение

ЗАДАНИЕ 2. Укажите фамилию российского ученого, открывшего в ходе опытов систему рефлексов.

Ответ: Павлов

ЗАДАНИЕ 3. Сражением за Берлин в 1945 году командовал
(укажите только фамилию)

Ответ: Жуков

ЗАДАНИЕ 4. Укажите фамилию советского космонавта, совершившего первый выход в открытый космос в мире.

Ответ: Леонов

ЗАДАНИЕ 5. А.С. Хомяков является представителем какого течения русской общественной и философской мысли?

Ответ: славянофильство

3) открытые задания (мини-кейсы, средний уровень сложности):

ЗАДАНИЕ 1. Вам предстоит выступить на международной конференции с докладом о роли России в мировом историческом процессе. Укажите, какие факторы генезиса российской государственности Вы выделите как первостепенные и какие качества русского народа Вы представите, как основу для выдающихся достижений нашей страны.

Пример ответа: Россия во все времена играла ключевую роль в мировой истории, что обусловлено обширностью ее территорий, наличием ресурсов, смелостью и патриотизмом народов, населяющих ее, готовностью к подвигу и стойкостью во имя России.

ЗАДАНИЕ 2. Представьте, что Вам необходимо рассказать иностранцам о русской культуре. Какие фигуры/персоналии Вы выберете для иллюстрации достижений? Приведите по 1 персоне из разных областей общественной жизни и культуры, обосновав свой выбор.

Пример ответа: А.С. Пушкин, величайший русский поэт, определил развитие русского языка, создал первый в истории роман в стихах. Ю.А. Гагарин стал первым космонавтом. В.И. Вернадский разработал учение о биосфере и ноосфере, в контексте идей космизма, что повлияло и на гуманитарные, и на естественные науки.

ЗАДАНИЕ 3. Представьте, что Вы разрабатываете проект о роли идентичности в современном обществе. Укажите, на основании какого определения идентичности Вы будете разрабатывать проект? Какие социальные институты должны быть задействованы при его реализации? Ответ обоснуйте.

Пример ответа: идентичность – это ценность, содержанием которой является способность индивида или общности соотносить (отождествлять) себя с иными социальными группами и/или их отдельными представителями. СМИ, образование, политические партии и общественные движения как социальные институты способствуют формированию идентичности. СМИ ведут разъяснительную работу по текущим вопросам, образование формирует ценности и установки у молодежи, наделяя их знаниями, умениями и навыками, в том числе критического мышления, политические партии и общественные движения помогают коммуникации и учат работать в коллективе.

ЗАДАНИЕ 4. Вы готовите школьников к диспуту о значении подвига советского народа в Великой Отечественной войне для российской государственности и мировой истории. Как Вы аргументируете для них важность сохранения исторической памяти, ее связь с патриотизмом.

Пример ответа: Победа над фашистской Германией – величайшее событие в истории человечества. Были остановлены массовые убийства, геноцид, разрушения жизненного уклада. И сегодня это – одна из основных базовых ценностей россиянин. Историческая память – основа патриотизма: пока общество помнит и чтит своих героев, оно способно идти вперед, развиваться и воспитывать новые поколения в любви к своей Родине.

ЗАДАНИЕ 5. Представьте, что Вам необходимо общаться с жителями иной страны. Выработайте ряд требований к межкультурной коммуникации для ее успеха.

Пример ответа: важно учитывать интересы собеседника, традиции и обычаи его культуры, подбирать нейтральные выражения, особенно, если вы до конца не знаете специфику культуры его народа. Желательно подготовиться к такому общению заранее. В случае дискуссии нужно дипломатично отстаивать свою позицию, не переходя к оскорблениям, а при неадекватном поведении партнера мягко закончить коммуникацию.

Критерии и шкалы оценивания:

Для оценивания выполнения заданий используется балльная шкала:

1) закрытые задания (тестовые, средний уровень сложности):

- 1 балл – указан верный ответ;
- 0 баллов – указан неверный ответ, в том числе частично.

2) открытые задания (тестовые, повышенный уровень сложности):

- 2 балла – указан верный ответ;
- 0 баллов – указан неверный ответ, в том числе частично.

3) открытые задания (мини-кейсы, средний уровень сложности):

- 5 баллов – задание выполнено верно (получен правильный ответ, обоснован (аргументирован) ход выполнения (при необходимости));

- 2 балла – выполнение задания содержит незначительные ошибки, но приведен правильный ход рассуждений, или получен верный ответ, но отсутствует обоснование хода его выполнения (если оно было необходимым), или задание выполнено не полностью, но получены промежуточные (частичные) результаты, отражающие правильность хода выполнения задания, или, в случае если задание состоит из выполнения нескольких подзаданий, 50% которых выполнено верно;
- 0 баллов – задание не выполнено или выполнено неверно (ход выполнения ошибочен или содержит грубые ошибки, значительно влияющие на дальнейшее его изучение).

УК-6. Способен управлять своим временем, выстраивать и реализовывать траекторию саморазвития на основе принципов образования в течение всей жизни

Период окончания формирования компетенции: 8 семестр

Перечень дисциплин (модулей), практик, участвующих в формировании компетенции:

Дисциплины (модули):

Б1.О.10 Психология личности и её саморазвития (8 семестр)

Б1.О.10 Психология личности и её саморазвития

1) закрытые задания (тестовые, средний уровень сложности):

ЗАДАНИЕ 1. Выберите правильный вариант ответа:

Системное социальное качество, приобретаемое индивидом в предметной деятельности и общении, характеризующее место человека в системе общественных отношений и выполняемую социальную роль (функцию) – это определение

- личности
- индивида
- индивидуальности
- индивидуума

ЗАДАНИЕ 2. Выберите правильный вариант ответа:

Выбор профессиональной деятельности опирается на учет конкретных психофизических и биологических черт, что характеризует отдельное живое существо, представителя биологического вида – это характеристика

- личности
- индивида
- индивидуальности
- индивидуума

ЗАДАНИЕ 3. Выберите правильный вариант ответа:

Успешное выполнение профессиональной деятельности зависит от уникального сочетания психологических черт и особенностей конкретной личности – это характеристика

- личности
- индивида
- индивидуальности
- индивидуума

ЗАДАНИЕ 4. Выберите правильный вариант ответа:

Личность демонстрирует аккуратность и бережливость — это

- черты, которые проявляются по отношению к другим
- черты, характеризующие отношение личности к вещам
- черты, проявляющие отношение к деятельности

- черты, которые проявляются по отношению к себе

ЗАДАНИЕ 5. Выберите правильный вариант ответа:

С целью успешного выполнения учебной и профессиональной деятельности важно учитывать характер человека. В чем он проявляется?

- интроверсии, экстраверсии, тревожности, импульсивности
- **отношении человека к себе, людям, деятельности, вещам**
- пластичности, ригидности, реактивности, темпе психических реакций

ЗАДАНИЕ 6. Выберите правильный вариант ответа:

Среди личностных качеств, выделяют те, которые позволяют человеку достигать цели:

- целеполагание
- настойчивость
- решительность
- оптимизм
- **все ответы верны**

ЗАДАНИЕ 7. Выберите правильный вариант ответа:

Планирование перспективных целей собственной деятельности связано и проявляется в характере человека, под которым понимают

- **индивидуальное сочетание устойчивых психических особенностей человека, обуславливающих типичный для данного субъекта способ поведения в определенных жизненных условиях и обстоятельствах**
- форма направленности личности, представляющая собой систему мотивов личности, побуждающую ее поступать в соответствии со своими взглядами, принципами, мировоззрением
- индивидуально своеобразная, природно обусловленная совокупность динамических проявлений психики

ЗАДАНИЕ 8. Выберите правильный вариант ответа:

Психологические закономерности усвоения человеком социального опыта и его активного воспроизводства связаны с отражательными, регуляторно-оценочными, творческими, рефлексивными функциями, которые являются характерными для

- памяти
- **сознания**
- мышления
- бессознательного

ЗАДАНИЕ 9. Выберите правильный вариант ответа:

Как называется осознанное внешнее согласие с группой при внутреннем расхождении с ее позицией?

- **конформность**
- подражание
- психическое заражение
- убеждение

ЗАДАНИЕ 10. Выберите правильный вариант ответа:

Планирования временной перспективы развития учебной и профессиональной деятельности проявляется в темпераменте человека, под которым понимают

- **индивидуально своеобразная, природно обусловленная совокупность динамических проявлений психики**

- индивидуальное сочетание устойчивых психических особенностей человека, обуславливающих типичный для данного субъекта способ поведения в определенных жизненных условиях и обстоятельствах
- форма направленности личности, представляющая собой систему мотивов личности, побуждающую ее поступать в соответствии со своими взглядами, принципами, мировоззрением

ЗАДАНИЕ 11. Выберите правильный вариант ответа:

Мотив – это

- **материальный или идеальный предмет, который побуждает и направляет на себя деятельность, и ради которого они осуществляются**
- состояние нужды организма (индивида, личности) в чем-то, необходимом для нормального существования
- потребность в познании окружающей среды и себя, в творчестве, эстетических наслаждениях и т.п.

ЗАДАНИЕ 12. Выберите правильный вариант ответа:

Потребность – это

- материальный или идеальный предмет, который побуждает и направляет на себя деятельность, и ради которого они осуществляются
- **состояние нужды организма (индивида, личности) в чем-то, необходимом для нормального существования**
- потребность в познании окружающей среды и себя, в творчестве, эстетических наслаждениях и т.п.

ЗАДАНИЕ 13. Выберите правильный вариант ответа:

Какой тип темперамента характерен для руководителя?

Руководителю данного типа темперамента свойственны высокая реактивность и активность. Чувства возникают быстро, отличаются высокой интенсивностью и устойчивостью. Они активны, энергичны. Однако реактивность у них преобладает над активностью. Поэтому они нервны резки в общении с людьми, экстравертированы.

- **холерик**
- сангвиник
- меланхолик
- флегматик

ЗАДАНИЕ 14. Выберите правильный вариант ответа:

Какое из перечисленных качеств противоположно креативности?

- ум
- **шаблонность мышления**
- настойчивость
- оригинальность

ЗАДАНИЕ 15. Выберите правильный вариант ответа:

Какими двумя качествами часто обладают творческие личности?

- чувство юмора и конформизм
- **любопытность и упорство**
- импульсивность и несамостоятельность
- покладистость и робость

ЗАДАНИЕ 16. Выберите правильный вариант ответа:

Быстрота адаптации личности к изменяющимся условиям внешней среды, профессиональной деятельности связана с индивидуальными особенностями личности, а именно, с его чувствительностью, под которой понимают

- повышение чувствительности анализатора под влиянием внутренних факторов
- изменение чувствительности, происходящее вследствие приспособления органа чувств к действующему на него раздражителю
- **способность реагировать на сравнительно слабые или незначительно отличающиеся друг от друга воздействия, которая характеризуется индивидуальностью и может изменяться в зависимости от ряда факторов: характера деятельности, возраста, состояния организма**

ЗАДАНИЕ 17. Выберите правильный вариант ответа:

На нарушение адаптации человека к новым условиям труда и деятельности оказывает влияние зависимость восприятия предметов или явлений от предшествующего опыта человека, от общего содержания его психической жизни. Как называется это явление?

- **апперцепция**
- осмысленность
- иллюзии восприятия
- галлюцинация

ЗАДАНИЕ 18. Выберите правильный вариант ответа:

Резкое снижение способности прогнозировать последствия своих поступков, предвидеть результаты действий; изменение характера протекания процессов мышления происходит под влиянием интенсивных, бурно протекающих и кратковременных эмоциональных вспышек, которые называются

- чувства
- **аффекты**
- настроение
- ощущения

ЗАДАНИЕ 19. Выберите правильный вариант ответа:

Достоинства молодого специалиста холерического темперамента в профессиональной деятельности в том, что он

- обладает ценной способностью долго и упорно работать, добиваясь поставленной цели
- обычно живет сложной и напряженной внутренней жизнью, придает большое значение всему, что его касается, обладает повышенной тревожностью и ранимой душой
- **для реализации намеченных целей и задач деятельности способен сосредоточить значительные усилия в короткий промежуток времени**

ЗАДАНИЕ 20. Выберите правильный вариант ответа:

Достоинство специалиста меланхолического темперамента в том, что он в деятельности ...

- **никогда не обещает того, что не в состоянии сделать, даже в том случае, если его выполнение непосредственно от него самого мало зависит**
- обладают быстрой реакцией, легко и скоро приспособляются к изменяющимся условиям жизни
- позволяет сосредоточить значительные усилия в короткий промежуток времени

ЗАДАНИЕ 21. На формирование профессионально-грамотной личности оказывают влияние наследственность, среда и собственная активность личности. Кто является автором направления в психологии, которое считает, что психическое развитие личности обусловлено бессознательными врожденными инстинктами и влечениями?

- **З. Фрейд**
- Ж. Пиаже
- Б. Скиннер
- В. Франкл

ЗАДАНИЕ 22. Выберите правильный вариант ответа:

Как называется направление психологии, получившее наибольшее распространение в 60-х гг. XX в., в котором изучается реализация намеченных целей и задач деятельности с учетом отдельных познавательных процессов (памяти, мышления, речи и др.)?

- **когнитивная психология**
- психоаналитическая психология
- гуманистическая психология
- экзистенциальная психология

ЗАДАНИЕ 23. Выберите правильный вариант ответа:

Выбор способа реализации намеченных целей деятельности осуществляется благодаря целостному отражению в сознании человека свойств предметов и явлений окружающего мира, возникающее при непосредственном воздействии раздражителей на органы чувств. Это характеристика

- памяти
- **восприятия**
- внимания
- речи

ЗАДАНИЕ 24. Выберите правильный вариант ответа:

На развитие личности как профессионала оказывают влияние факторы среды, наследственности и активности самой личности. Что является движущей силой развития в биогенетическом направлении?

- активность самой личности
- взаимодействие среды и наследственности
- среда
- **наследственность**

ЗАДАНИЕ 25. Выберите правильный вариант ответа:

Способность личности разрешать конфликт между врожденными инстинктивными влечениями и сознательными моральными, культурно-нормированными представлениями лежит в основе ... теории.

- гуманистической
- бихевиаризма
- **психоаналитической**
- культурно-исторической

ЗАДАНИЕ 26. Выберите правильный вариант ответа:

При профессиональном росте большое значение придается такой характеристике личности, которая описывает человека, погруженного во внутренний мир своих мыслей, чувств и опыта, сдержанного, стремящегося к уединению, — это:

- **интроверт**
- экстраверт

- коммуникатор
- аутист

ЗАДАНИЕ 27. В процессе совершенствования профессиональной деятельности мы опираемся на черты характера. Чертами характера являются следующие указанные, кроме:

- вежливости
- доброжелательности
- **меланхолии**
- настойчивости

ЗАДАНИЕ 28. Выберите правильный вариант ответа:

Как называется зависимость восприятия предметов или явлений от предшествующего профессионального и личного опыта человека, от общего содержания его психической жизни?

- **апперцепция**
- осмысленность
- иллюзия восприятия
- галлюцинация

ЗАДАНИЕ 29. Выберите правильный вариант ответа:

Что оказывает отрицательное влияние на планирование перспективных целей собственной деятельности?

- осмысленность собственных действий
- **иллюзия восприятия**
- сознание
- целеустремленность

ЗАДАНИЕ 30. Выберите правильный вариант ответа:

Какой тип имеет человек, который выражает собой скорее склонность к бездеятельности в профессиональной сфере, чем к напряженной, активной работе; медленно приходит в состояние возбуждения, но зато надолго, что заменяет ему медлительность вхождения в работу?

- **флегматик**
- холерик
- сангвиник
- меланхолик

ЗАДАНИЕ 31. Выберите правильный вариант ответа:

Как называется совокупность индивидуальных данных человека, при наличии которых он соответствует требованиям, предъявленным к нему профессией?

- профессиональная подготовка
- профессиональная направленность
- профиль рабочего места
- **профессиональная пригодность**

ЗАДАНИЕ 32. Выберите правильный вариант ответа:

Как называется состояние организма, возникающее в процессе взаимодействия индивида с внешней средой, сопровождающееся значительным эмоциональным напряжением в условиях, когда нормальная адаптивная реакция оказывается недостаточной?

- **психический стресс**
- физиологический стресс
- аффект

– страх

2) открытые задания (тестовые, повышенный уровень сложности):

ЗАДАНИЕ 1. Усиленное внимание членов коллектива к деятельности, выполнение осознанных действий, на основе внутренних решений, но часто без непосредственного удовольствия, получаемого в процессе и в результате выполнения называется ... действие.

Ответ: волевое

ЗАДАНИЕ 2. Как называется сознательное регулирование человеком своего поведения и деятельности, выраженное в умении преодолевать внутренние и внешние трудности при совершении целенаправленных действий?

Ответ: воля

ЗАДАНИЕ 3. Обмен информацией между членами коллектива, имеющий единую систему значений, способствующий установлению и изменению между ними взаимоотношений относится к

Ответ: коммуникативной стороне общения

ЗАДАНИЕ 4. Как называется существенно отражающаяся в профессиональной деятельности, индивидуально своеобразная, природно обусловленная совокупность динамических проявлений психики?

Ответ: темперамент

ЗАДАНИЕ 5. При реализации приоритетов профессиональной деятельности человек опирается на неповторимое, уникальное сочетание психологических черт и особенностей своей личности, проявляющееся в профессиональной деятельности, достижении поставленных целей – это

Ответ: индивидуальность

ЗАДАНИЕ 6. На оценку внешних и внутренних ситуаций в профессиональной и личной сферах жизнедеятельности человека существенную роль оказывают психические процессы, протекающие в форме переживаний. Они называются

Ответ: эмоции

ЗАДАНИЕ 7. Способы успешного выполнения действия, соответствующие целям и условиям деятельности – это

Ответ: умения

ЗАДАНИЕ 8. Полностью автоматизированные компоненты деятельности, сформированные в процессе упражнений - это

Ответ: навыки

ЗАДАНИЕ 9. Как называется способность руководителя проявлять сопереживание и сочувствие другим людям?

Ответ: эмпатия

ЗАДАНИЕ 10. Как называется негибкая часть деятельности, которая человеком выполняется механически и не имеет сознательной цели или явно выраженного продуктивного завершения?

Ответ: привычки

ЗАДАНИЕ 11. Деятельность, направленная на создание материальных и духовных ценностей – это

Ответ: труд/трудова

ЗАДАНИЕ 12. Как называется многоплановый процесс установления контактов между людьми, порождаемый потребностью в совместной деятельности, включающий в себя обмен информацией, взаимовлияние и познание людьми друг друга?

Ответ: общение

ЗАДАНИЕ 13. Совершенствуя собственную профессиональную деятельность важно учитывать такую характеристику как временное снижение работоспособности под влиянием длительного воздействия нагрузки, которая называется

Ответ: утомление

ЗАДАНИЕ 14. Как называются чувства, которые представляют собой эмоциональное отношение человека к прекрасному в природе, в жизни людей и в искусстве?

Ответ: эстетические

ЗАДАНИЕ 15. В каждой группе, организации, команде, подразделении есть человек, пользующийся большим, признанным авторитетом, обладающий влиянием, которое проявляется как управляющие действия. Такого человека в психологии называют

Ответ: лидер

ЗАДАНИЕ 16. Как называется эмоциональное состояние, отрицательное по знаку, как правило, протекающее в форме аффекта и вызываемое внезапным возникновением серьезного препятствия на пути удовлетворения исключительно важной для субъекта потребности?

Ответ: гнев

3) открытые задания (мини-кейсы, средний уровень сложности):

ЗАДАНИЕ 1. Перед Вами 2 типа руководителей. Один любит оживленную суету вокруг себя, очень общителен, предпочитает быть в центре внимания, энергичен, чрезмерно эмоционален. Другой, напротив, предпочитает тишину и уединение, спокоен, вдумчив, медлителен, не любит новизну, с трудом знакомится с новыми людьми, слишком большое внимание его смущает. Укажите описанные виды темперамента руководителей и их отличительные особенности.

Ответ: Описаны темперамент холерика и флегматика. Отличительные особенности экстраверт – холерик, интроверт – флегматик.

ЗАДАНИЕ 2. Молодой специалист отказывается серьезно выполнять профессиональные обязанности, объясняя это суждением руководителя, который сказал: «с такой подготовкой в вузе, ты мало чего добьешься». Какой компонент в структуре личности подвергся воздействию в этом случае и почему?

Ответ: Затронута самооценка и снижена мотивация деятельности. Т.к. мнение руководителя значимо для специалиста, он поверил словам руководителя-наставника, и теперь не видит смысла прикладывать усилия для эффективной деятельности.

ЗАДАНИЕ 3. Начинаящему специалисту руководитель поручил выполнение срочного задания и предупредил, что сегодня в 5 часов вечера он должен совместно с другими коллегами участвовать в разработке стратегии реализации задания. Но гораздо раньше этого предложения руководителя специалист вместе с друзьями планировал пойти в это же время на интересное выступление о новых технологиях, интересующих его. Он долго

колебался: идти ему на заседание команды или на выступление с друзьями. Верх взяло первое соображение. Проявление каких качеств можно наблюдать в этом решении и почему?

Ответ: Проявление волевых качеств наблюдается в этом поступке. Ответственность и значимость профессиональной деятельности взяли вверх над другими интересами и желанием провести время с друзьями.

ЗАДАНИЕ 4. Какие компонент личности характеризуются в ситуации? По каким критериям Вы определили эти компоненты?

Сотрудники описывают своего коллегу как инициативного, честного, трудолюбивого, хорошего организатора, красноречивого, с чувством юмора, с золотыми руками, но эгоистичного, самоуверенного, осторожного.

Ответ: В ситуации говорится о характере и способностях сотрудника. К чертам характера относятся: инициативный, честный, с чувством юмора, эгоистичный, самоуверенный, осторожный. К способностям – трудолюбивый, хороший организатор, красноречивый, с золотыми руками. Критерий определения черт характера – это стереотипы поведения, сложившиеся в межличностном взаимодействии; а способности – это особенности, проявляющиеся в деятельности и позволяющие выполнять ее успешно.

ЗАДАНИЕ 5. Молодой специалист, недавно ставший членом коллектива, часто прибегал к такому приему: прерывал чтение интересной книги на самом захватывающем месте и не прикасался к ней 2-3 дня. Как Вы думаете какие качества он тренировал и как можно назвать этот прием?

Ответ: Он тренировал волевые качества, прием называется – способность к задержке волевого действия. Т.к. в течение этих дней студенту приходилось бороться с желанием взяться за книгу и это развивало волю.

ЗАДАНИЕ 6. Молодой человек меняет третье место работы за полгода. Характеризует себя «я самый правильный», «я лучше всех». По мнению руководства компании и членов коллектива, он не уживается в коллективе, т.к. имеет идеализированное представление о себе, о своих способностях и возможностях, о своей значимости для дела и для окружающих людей; игнорирует личные неудачи ради поддержания своего психологического комфорта; не прислушивается к чужому мнению; к критической оценке себя со стороны других относится с явным недоверием, относя все это к придиркам и зависти; как правило, ставит перед собой невыполнимые цели.

В чем причина такого представления о себе? Какова самооценка у молодого человека?

Ответ. Явно завышенная самооценка

ЗАДАНИЕ 7. Молодой человек пришел устраиваться на работу, окончил вуз с красным дипломом. Работодатель обратил внимание на его внешние характерные черты. Походка нерешительная, как бы вкрадчивая, при разговоре глаза часто отводит в сторону. На собеседовании проявил себя как застенчивый, нерешительный, чрезмерно самокритичный. Был принят на работу с испытательным сроком. В первый месяц работы продемонстрировал требовательность к себе и окружающим, чрезмерную самокритичность, что привело к замкнутости, зависти, подозрительности, мстительности и даже жестокости; раздражал окружающих мелочами, вызывая конфликты на работе. По завершении испытательного срока на работу не принят.

В чем причина отказа со стороны работодателя? Какова самооценка у молодого человека?

Ответ. Явно заниженная самооценка

ЗАДАНИЕ 8. Студент И. рассказал о том, как он распределяет время между учёбой, спортом и личной жизнью.

Преподаватель Г. отличается выразительной мимикой, резкими движениями и быстрой походкой.

В каком примере образцы поведения характеризуют человека как индивида, а в каком как личность. Почему?

Ответ: Поведение студента – личность, характеристика преподавателя – индивид. Т.к. умение ставить цели и управлять временем это личностные, сформированные в социуме навыки, а преподаватель характеризуется по врожденным параметрам, компонентам поведения.

ЗАДАНИЕ 9. Подчиненный характеризуется следующими особенностями: на заседаниях спокоен, сидит всегда в одном и том же положении, что-нибудь вертит в руках, настроение меняется от очень незначительных причин. Он болезненно чувствителен. Когда руководитель попросил его пересесть, чтобы другие члены коллектива тоже могли поместиться за столом, он обиделся, долго размышлял, почему его пересадили, и на протяжении всего совещания сидел расстроенный и подавленный. Он легко теряется, смущается, сдержан в выражении чувств. Если ему делают замечание относительно работы, несколько не изменившись в лице, не реагирует на него, но дома долго не может успокоиться, не в состоянии приняться за работу, теряет всякую веру в себя. Какой тип темперамента у данного сотрудника? Перечислите преимущества данного типа темперамента.

Ответ: Меланхолик. К преимуществам данного типа темперамента можно отнести: эмпатию, склонность к творчеству, нестандартность мышления, серьезное отношение к деятельности, умение держать обещания.

ЗАДАНИЕ 10. Проанализируйте ситуацию и объясните, какие личностные черты способствуют внушению.

Начинающий специалист неожиданно получил от руководителя отдела очень интересное задание, которое также хотели бы выполнить несколько его коллег. За грамотное выполнение задания полагалась премия и могли открыться перспективы карьерного роста.

Молодой специалист с детства отличался усидчивостью, прилежностью, исполнительностью, творческим подходом к деятельности, он отлично учился в вузе, но был тревожным и мнительным, не был уверен в своих профессиональных качествах и часто ориентировался на внешнее подтверждение своих способностей другими людьми.

Когда выполнение задания поручили ему, то в кабинете руководителя никто не оспаривал этот выбор. После совещания двое коллег в личной беседе с молодым сотрудником убедили его отказаться от выполнения задания и попросить перепоручить его им. Они отметили его небольшой опыт работы в данной сфере, незнание технологий, необходимых для выполнения задания, и обрисовали неблагоприятные перспективы при неуспешном выполнении задания. Это подействовало и молодой человек решил отказаться от выполнения задания.

Ответ: Внушению способствовали такие качества специалиста как исполнительность, прилежность, тревожность, мнительность, неуверенность в себе как профессионале, ориентация на мнение окружающих.

ЗАДАНИЕ 11. Девушка прошла психологическое тестирование и выяснила, что она флегматик. Она изучает иностранные языки и планирует работать переводчиком. Какие личностные качества девушке необходимо развивать в себе, чтобы максимально эффективно использовать качества своего типа темперамента в работе?

Ответ: Флегматикам свойственны трудоспособность, устойчивое настроение, невозмутимость, неподверженность стрессам, терпение, целеустремленность. Девушке нужно развивать умение адаптироваться к новым обстоятельствам, приспосабливаться к переменам и учиться быстро понимать ситуацию, быстро реагировать на изменения.

Критерии и шкалы оценивания:

Для оценивания выполнения заданий используется балльная шкала:

1) закрытые задания (тестовые, средний уровень сложности):

- 1 балл – указан верный ответ;
- 0 баллов – указан неверный ответ, в том числе частично.

2) открытые задания (тестовые, повышенный уровень сложности):

- 2 балла – указан верный ответ;
- 0 баллов – указан неверный ответ, в том числе частично.

3) открытые задания (мини-кейсы, средний уровень сложности):

- 5 баллов – задание выполнено верно (получен правильный ответ, обоснован (аргументирован) ход выполнения (при необходимости));
- 2 балла – выполнение задания содержит незначительные ошибки, но приведен правильный ход рассуждений, или получен верный ответ, но отсутствует обоснование хода его выполнения (если оно было необходимым), или задание выполнено не полностью, но получены промежуточные (частичные) результаты, отражающие правильность хода выполнения задания, или, в случае если задание состоит из выполнения нескольких подзаданий, 50% которых выполнено верно;
- 0 баллов – задание не выполнено или выполнено неверно (ход выполнения ошибочен или содержит грубые ошибки, значительно влияющие на дальнейшее ее изучение).

УК-7. Способен поддерживать должный уровень физической подготовленности для обеспечения полноценной социальной и профессиональной деятельности

Период окончания формирования компетенции: 6 семестр

Перечень дисциплин (модулей), практик, участвующих в формировании компетенции:

Дисциплины (модули):

Б1.О.05 Физическая культура и спорт (1 семестр)

Б1.В.01 Элективные дисциплины по физической культуре и спорту (модуль) (2, 3, 4, 5, 6 семестры)

Б1.О.05 Физическая культура и спорт

1) закрытые задания (тестовые, средний уровень сложности):

ЗАДАНИЕ 1. Выберите правильный вариант ответа:

Физическая культура в вузе является... .

- средством активного отдыха
- **обязательной учебной дисциплиной**
- средством отвлечения от дурных привычек и безделья
- делом избранных

ЗАДАНИЕ 2. Выберите правильный вариант ответа:

Каким принципом создается необходимая предпосылка освоения движения?

- системности
- **наглядности**
- сознательности и активности
- доступности

ЗАДАНИЕ 3. Выберите правильный вариант ответа:

Какая из частей физической культуры является самой объемной?

- двигательная реабилитация
- **физическое воспитание**
- спорт
- физическая рекреация

ЗАДАНИЕ 4. Выберите правильный вариант ответа:

Что такое здоровье?

- отсутствие заболеваний
- **состояние физического, психического, социального и душевного благополучия**
- хорошее самочувствие
- состояние нормальной работоспособности

ЗАДАНИЕ 5. Выберите правильный вариант ответа:

Главная задача, решаемая на занятиях по физической культуре?

- стать чемпионом
- получить материальное вознаграждение
- **укрепить здоровье и общее физическое развитие**
- побить рекорд

ЗАДАНИЕ 6. Выберите правильный вариант ответа:

Какая из приведенных целей больше всего присуща спорту высших достижений?

- продление творческого долголетия
- снятие нервно-эмоционального напряжения
- социальная и физическая адаптация в обществе
- **достижение высоких спортивных результатов на крупнейших соревнованиях**

ЗАДАНИЕ 7. Выберите правильный вариант ответа:

Физическая нагрузка увеличивает

- **продолжительность сна**
- прочность суставов
- количество суставов
- длину суставов

ЗАДАНИЕ 8. Выберите правильный вариант ответа:

Целью ГТО является

- **укрепление здоровья, гармоничное и всестороннее развитие личности, воспитание патриотизма**
- выполнение спортивных и массовых разрядов
- получение максимального количества населения знаков отличия ГТО
- обучение разным видам спорта и видам физической активности

ЗАДАНИЕ 9. Выберите правильный вариант ответа:

Какие виды спортивных упражнений не входят в тесты ГТО?

- бег
- **сгибание и разгибание рук в упоре на брусьях**
- бег на лыжах

- плавание

ЗАДАНИЕ 10. Выберите правильный вариант ответа:

От какого фактора больше всего зависит продолжительность жизни человека?

- экология
- наследственность
- **образ жизни**
- питание

ЗАДАНИЕ 11. Выберите правильный вариант ответа:

Специальными средствами воспитания быстроты являются

- непрерывный длительный бег
- **спринтерский бег, стартовые ускорения, скоростные спурты**
- прыжки, многоскоки, скачки
- упражнения с гантелями, гирей, штангой

ЗАДАНИЕ 12. Выберите правильный вариант ответа:

Какая группа нижеперечисленных упражнений развивает общую выносливость?

- спринт, прыжки, метания
- акробатические, гимнастические, прыжки на батуте, в воду
- **плавание, лыжные гонки, бег на средние и длинные дистанции**
- спортивные игры, бокс, фехтование

ЗАДАНИЕ 13. Выберите правильный вариант ответа:

За какое время выполняется испытание (тест) по выбору «Поднимание туловища из положения лёжа на спине»?

- 30 секунд
- **1 минута**
- 2 минуты
- без учета времени

ЗАДАНИЕ 14. Выберите правильный вариант ответа:

В комплекс ГТО входят ... испытания.

- обязательные и необязательные
- **обязательные и по выбору**
- обязательные и дополнительные
- только обязательные

ЗАДАНИЕ 15. Выберите правильный вариант ответа:

Что относится к скоростным способностям?

- **время реакции, быстроту одиночного движения, частоту движений**
- способность противостоять утомлению
- способность преодолевать мышечное сопротивление
- подвижность в суставах и позвоночнике

ЗАДАНИЕ 16. Выберите правильный вариант ответа:

Какова масса гири при выполнении норматива «рывок гири» при сдаче ВФСК ГТО VI ступени?

- 10 кг
- **16 кг**
- 18 кг
- 20 кг

ЗАДАНИЕ 17. Выберите правильный вариант ответа:

Кто может проходить тестирование ГТО?

- школьники
- студенты
- женщины и мужчины, достигшие совершеннолетия
- **все вышеперечисленные**

ЗАДАНИЕ 18. Выберите правильный вариант ответа:

На каких принципах основывается Всероссийский физкультурно-спортивный комплекс ГТО?

- **добровольности и обязательности медицинского контроля**
- экономичности проведения соревнований
- равноправия женщин и мужчин
- сознательности и активности

ЗАДАНИЕ 19. Выберите правильный вариант ответа:

Какая возрастная группа охватывает шестую ступень?

- 6-8 лет
- 9-12 лет
- 15-17 лет
- **18-29 лет**

ЗАДАНИЕ 20. Выберите правильный вариант ответа:

Кого не допустят до сдачи нормативов ВФСК ГТО?

- пенсионеров
- дошкольников
- **лиц, не имеющих медицинского допуска**
- лиц, не имеющих спортивного разряда

ЗАДАНИЕ 21. Выберите правильный вариант ответа:

Какой вид спорта в большей степени формируют координацию?

- **спортивная гимнастика**
- стрелковый спорт
- тяжелая атлетика
- шахматы

ЗАДАНИЕ 22. Выберите правильный вариант ответа:

Кто имеет право принимать нормативы ВФСК ГТО?

- преподаватель физической культуры
- тренер или администрация спортивной школы
- **лица, прошедшие специальное обучение**
- все вышеперечисленные

ЗАДАНИЕ 23. Выберите правильный вариант ответа:

Может ли иностранный гражданин принять участие в сдаче нормативов ГТО?

- нет
- могут все без исключения
- **могут те иностранные граждане, которые предоставят временную прописку**

ЗАДАНИЕ 24. Выберите правильный вариант ответа:

Каким стилем необходимо сдавать норматив по плаванию в ВФСК ГТО?

- кроль

- брасс
- **произвольный**
- устанавливает судейская коллегия при сдаче норматива

ЗАДАНИЕ 25. Выберите правильный вариант ответа:

При какой ошибке во время выполнения норматива метание снаряда на дальность попытка будет засчитана?

- **метание произведено до линии разметки за 2-3 метра**
- снаряд не попал в сектор
- попытка выполнена без команды спортивного судьи
- просрочено время, выделенное на попытку

ЗАДАНИЕ 26. Выберите правильный вариант ответа:

В течение какого времени достаточна фиксация при выполнении норматива «Наклон вперед из положения стоя на гимнастической скамейке»?

- фиксация не нужна
- 1 секунда
- **2 секунды**
- 3 секунды

ЗАДАНИЕ 27. Выберите правильный вариант ответа:

Какие вещества выполняют функцию основного строительного материала для клеток человеческого организма?

- **белки**
- жиры
- углеводы
- витамины

ЗАДАНИЕ 28. Выберите правильный вариант ответа:

Какие вещества являются наиболее подходящим источником для быстрого получения энергии клетками человеческого организма?

- белки
- жиры
- **углеводы**
- витамины

ЗАДАНИЕ 29. Выберите правильный вариант ответа:

По какой формуле можно рассчитать индивидуальную максимальную физическую нагрузку?

- 180 - возраст
- 200 - возраст
- **220 - возраст**
- 300 - возраст

ЗАДАНИЕ 30. Выберите правильный вариант ответа:

Упражнение «Подъем туловища из положения лежа на спине» (количество раз за 1 минуту) выполняется следующим образом:

- Руки сомкнуты в замок за головой, ноги согнуты в коленях. Осуществляется подъем туловища без подпрыгивания таза во время выполнения упражнения
- Руки сомкнуты на груди, ноги выпрямлены. Подъем туловища осуществляется рывком
- **Руки в замке за головой на затылке, ноги согнуты в коленях под углом 90 градусов, локти во время подъема туловища касаются бедра и разводятся в стороны при опускании туловища в нижнее положение**

- Руки сомкнуты на груди, ноги выпрямлены. Подъем туловища осуществляется, пока угол между ногами и туловищем не будет равняться 90 градусам

ЗАДАНИЕ 31. Выберите правильный вариант ответа:

Интенсивность физической нагрузки можно задать

- скоростью движения
- длиной дистанции
- количеством повторений
- **время выполнения упражнений**

ЗАДАНИЕ 32. Выберите правильный вариант ответа:

Какая функция не входит в общекультурные социальные функции физической культуры?

- коммуникативная
- воспитательная
- **прагматическая**
- образовательная

ЗАДАНИЕ 33. Выберите правильный вариант ответа:

Воспитание физической культуры личности – это

- привитие чувства превосходства над другими людьми
- воспитание неадекватной мотивации к занятиям физической культурой и спортом
- **воздействие на физические способности человека, на его чувства, сознание, психику и интеллект**
- воздействие на интеллект

ЗАДАНИЕ 34. Выберите правильный вариант ответа:

Какой принцип предусматривает планомерное увеличение объема и интенсивности физической нагрузки по мере роста функциональных возможностей организма?

- принцип научности
- принцип доступности и индивидуализации
- **принцип непрерывности, систематичности**

ЗАДАНИЕ 35. Выберите правильный вариант ответа:

Какие документы необходимо иметь для прохождения тестирования комплекса ГТО?

- Заявку на соревнования
- Медицинский полис
- СНИЛС
- **Медицинскую справку и документ, удостоверяющий личность**

ЗАДАНИЕ 36. Выберите правильный вариант ответа:

Каковы действия судей, если участник переходит на шаг при выполнении нормативов «бег на 2000 м» и «бег на 3000 м» в ВФСК ГТО?

- **участник снимается с дистанции**
- судья делают устное замечание
- судейский корпус не применяет санкций
- предлагают пересдать данную дисциплину на следующий день

ЗАДАНИЕ 37. Выберите правильный вариант ответа:

Степень владения техникой действия, при которой управление движениями происходит автоматически и отличается надежностью исполнения, называется

- техническим мастерством
- двигательной одаренностью
- двигательным умением

– **двигательным навыком**

ЗАДАНИЕ 38. Выберите правильный вариант ответа:
Какая цель не ставится перед утренней гигиенической зарядкой?

- усилить ток крови в кровяном русле
- способствовать лучшему обмену веществ
- ускорить приведение организма в рабочее состояние
- **способствовать развитию абсолютной силы путем применения упражнений статического характера**

ЗАДАНИЕ 39. Выберите правильный вариант ответа:
Спортивная тренировка приводит к

- **увеличению полостей сердца и сердечной мышцы**
- изменению положения сердца
- смещению сердца влево
- уменьшению сердца

ЗАДАНИЕ 40. Выберите правильный вариант ответа:
Какие упражнения необходимо включать в физкультурные занятия после учебного дня, если занятия проводились в малоподвижной позе?

- упражнения статического характера
- **упражнения, дающие активную нагрузку на все группы мышц, способствующие активизации сердечно-сосудистой и дыхательной систем**
- упражнения на скоростную выносливость
- упражнения с тяжестями предельной величины

2) открытые задания (тестовые, повышенный уровень сложности):

ЗАДАНИЕ 1. Укажите допустимую максимальную величину частоты ударов сердечных сокращений у тренированных людей (ударов в минуту).
(целое число цифрами)

Ответ: 60

ЗАДАНИЕ 2. Как переводится на русский язык Олимпийский девиз «*Citius, altius, fortius!*»?

Ответ: Быстрее! Выше! Сильнее!

ЗАДАНИЕ 3. Укажите через запятую пропущенные слова в правильном порядке и правильных падежах:

Физическая рекреация – это использование любых видов двигательной активности (физические упражнения, игры, физический труд и т.п.) в целях ... развития и укрепления ...

Ответ: физического, здоровья

ЗАДАНИЕ 4. Какие органы власти присваивают золотой знак отличия комплекса ГТО?

Ответ: федеральные

ЗАДАНИЕ 5. Укажите пропущенное слово в правильном падеже:

Гиподинамия – это состояние, когда организм испытывает ... двигательной активности.

Ответ: дефицит / недостаток

ЗАДАНИЕ 6. К какой медицинской группе относятся студенты, имеющие те или иные отклонения в физическом развитии и состоянии здоровья?

Ответ: к специальной

ЗАДАНИЕ 7. Укажите пропущенное словосочетание в правильном падеже:
За выполнение нормативов, овладение знаниями и умениями определенных ступеней Комплекса ГТО гражданам России вручают

Ответ: знак отличия

ЗАДАНИЕ 8. Какая дистанция (в метрах) на выносливость для женщин в обязательных испытаниях (тестах) есть в VI ступени ВФСК ГТО?
(укажите целое число цифрами)

Ответ: 2000

ЗАДАНИЕ 9. Укажите пропущенное слово в правильном падеже:
Сила – это способность человека преодолевать внешнее сопротивление или противостоять ему за счет ... усилий (напряжений).

Ответ: мышечных

ЗАДАНИЕ 10. Какое физическое качество является основой здоровья?

Ответ: выносливость

ЗАДАНИЕ 11. Укажите через запятую пропущенные слова в правильном порядке и правильных падежах:

Гибкость как физическое качество – это ... выполнять движения с ... амплитудой.

Ответ: способность, большой

ЗАДАНИЕ 12. Какое максимальное количество участников в одном забеге на дистанцию 3000 м при сдаче ГТО?

(укажите целое число цифрами)

Ответ: 20

ЗАДАНИЕ 13. Какое количество видов испытаний (тестов), которые необходимо выполнить для получения «золотого» знака отличия ВФСК ГТО в рамках VI ступени?

(укажите целое число цифрами)

Ответ: 9

ЗАДАНИЕ 14. Какой знак отличия Вы получите, если все виды испытаний сданы на золото и одно испытание по выбору на бронзу?

Ответ: бронзовый знак отличия

ЗАДАНИЕ 15. Сколько уровней, соответствующих знакам отличия, предусматривает ВФСК ГТО?

(укажите целое число цифрами)

Ответ: 3

ЗАДАНИЕ 16. Какое количество попыток дается при выполнении норматива прыжок с места?

(укажите целое число цифрами)

Ответ: 1

ЗАДАНИЕ 17. Укажите пропущенное слово в правильном падеже:
В федеральном законе «О физической культуре и спорте в Российской Федерации» сказано: выполнять нормы испытаний комплекса ГТО должны

Ответ: добровольно

ЗАДАНИЕ 18. Какова гигиеническая норма сна (в часах)?
(укажите целое число цифрами)

Ответ: 8

ЗАДАНИЕ 19. Какой город стал столицей XXII Олимпийских зимних игр 2014 года?

Ответ: Сочи

ЗАДАНИЕ 20. На каком континенте еще ни разу не проводились Олимпийские игры?

Ответ: Африка

Критерии и шкалы оценивания:

Для оценивания выполнения заданий используется балльная шкала:

1) закрытые задания (тестовые, средний уровень сложности):

- 1 балл – указан верный ответ;
- 0 баллов – указан неверный ответ, в том числе частично.

2) открытые задания (тестовые, повышенный уровень сложности):

- 2 балла – указан верный ответ;
- 0 баллов – указан неверный ответ, в том числе частично.

УК-8. Способен создавать и поддерживать в повседневной жизни и в профессиональной деятельности безопасные условия жизнедеятельности для сохранения природной среды, обеспечения устойчивого развития общества, в том числе при угрозе и возникновении чрезвычайных ситуаций и военных конфликтов

Период окончания формирования компетенции: 8 семестр

Перечень дисциплин (модулей), практик, участвующих в формировании компетенции:

Дисциплины (модули):

Б1.О.04 Безопасность жизнедеятельности (8 семестр)

Б1.О.07 Основы военной подготовки (модуль) (7 семестр)

Б1.О.04 Безопасность жизнедеятельности

1) закрытые задания (тестовые, средний уровень сложности):

ЗАДАНИЕ 1. Пострадавший внезапно потерял сознание. Дыхание присутствует. Выберите необходимое действие:

- **следует уложить пострадавшего в устойчивое боковое положение (позу восстановления, стабильное боковое положение)**
- для профилактики возможного вдыхания рвотных масс необходимо уложить пострадавшего на живот
- для профилактики возможного вдыхания рвотных масс следует повернуть голову пострадавшего набок
- для скорейшего восстановления сознания необходимо надавить пострадавшему на болевые точки (угол нижней челюсти, верхняя губа и т.д.)
- следует дать понюхать нашатырный спирт на ватке
- необходимо придать положение на спине с приподнятыми ногами для обеспечения лучшего кровоснабжения головного мозга пострадавшего

ЗАДАНИЕ 2. Выберите правильный вариант ответа:

Для наложения окклюзионной (гермитизирующей) повязки при открытом пневмотораксе можно использовать

- Индивидуальный противохимический пакет
- **Пакет перевязочный медицинский**
- Аптечку индивидуальную АИ-2
- Аптечку индивидуальную АИ-4

ЗАДАНИЕ 3. Выберите правильные варианты ответа:

Выберите телефоны экстренных служб РФ.

- **112**
- **101**
- **104**
- 113
- 105
- 001
- 020
- **103**
- 911

ЗАДАНИЕ 4. Выберите правильный вариант ответа:

При полном отсутствии или недостатке кислорода в воздухе применяются ... СИЗОД.

- фильтрующие
- **изолирующие**
- табельные
- простейшие

ЗАДАНИЕ 5. Выберите правильный вариант ответа:

В случае применения каких защитных сооружений нужно пользоваться средствами индивидуальной защиты, т.к. они не обеспечивают защиты от аварийно химически опасных веществ и бактериальных средств?

- **простейших укрытий**
- убежищ
- противорадиационных укрытий
- бомбоубежищ

ЗАДАНИЕ 6. Укажите, в каких случаях осуществляется экстренное извлечение пострадавшего из аварийного автомобиля:

- во всех случаях, когда пострадавшему требуется немедленное оказание первой помощи
- экстренное извлечение пострадавшего производится только силами сотрудников скорой медицинской помощи или спасателями МЧС
- **наличие угрозы для жизни и здоровья пострадавшего и невозможность оказания первой помощи в автомобиле**
- в случае, если у пострадавшего отсутствуют признаки серьезных травм

ЗАДАНИЕ 7. Выберите основные способы остановки кровотечения при ранении головы:

- **прямое давление на рану, наложение давящей повязки**
- наложение давящей повязки, пальцевое прижатие сонной артерии
- пальцевое прижатие сонной артерии, наложение давящей повязки с использованием жгута
- применение холода в области ранения, пальцевое прижатие сонной артерии

ЗАДАНИЕ 8. Выберите основные признаки закупорки инородным телом верхних дыхательных путей тяжелой степени у пострадавшего:

- **не может дышать или дыхание явно затруднено (шумное, хриплое), хватается за горло, не может говорить, только кивает**
- хватается за горло, кашляет, просит о помощи
- надрывно кашляет, пытается что-то сказать, лицо багровеет
- жалуется на наличие инородного тела в дыхательных путях, говорит, что «поперхнулся», просит постучать по спине

ЗАДАНИЕ 9. Выберите правильный вариант ответа:

При проникающем ранении груди самое важное – это

- попытаться остановить кровотечение давящей повязкой
- не прикасаться к ране во избежание причинения вреда
- **наложить на рану груди повязку, не пропускающую воздух (окклюзионную)**
- своевременно обезболить пострадавшего
- постоянно контролировать дыхание и кровообращение пострадавшего
- придать пострадавшему устойчивое боковое положение

ЗАДАНИЕ 10. Выберите правильный вариант ответа:

Если в ране находится инородный предмет, более правильным будет

- срочно извлечь из раны инородный предмет, остановить кровотечение доступными способами, вызвать скорую медицинскую помощь
- срочно извлечь из раны инородный предмет, остановить кровотечение доступными способами, вызвать скорую медицинскую помощь
- не предпринимать никаких действий до прибытия медицинских работников
- **закрыть рану стерильной салфеткой, вызвать скорую медицинскую помощь, инородный предмет не извлекать**
- аккуратно удалить инородный предмет, кровотечение из раны остановить путем заполнения ее стерильными салфетками, вызвать скорую медицинскую помощь, положить холод на место ранения

ЗАДАНИЕ 11. Укажите основную цель обзорного (быстрого) осмотра пострадавшего:

- оценить его общее состояние
- **обнаружить явные признаки наружного кровотечения (прежде всего, артериального)**
- попытаться обнаружить ранения различных областей тела
- определить, нуждается ли пострадавший в оказании первой помощи

ЗАДАНИЕ 12. Выберите последовательность подробного осмотра пострадавшего, находящегося в сознании:

- **голова, шея, грудная клетка, живот, ноги и руки**
- грудная клетка, голова и шея, ноги и руки, живот
- голова, грудная клетка, живот, шея, руки и ноги
- ноги и руки, голова и шея, грудная клетка и живот

ЗАДАНИЕ 13. Выберите виды инструктажа на рабочем месте.

- **первичный**
- **вводный**
- вторичный
- **повторный**
- **внеплановый**
- плановый

ЗАДАНИЕ 14. Выберите правильные варианты ответа:

Цунами характеризуется следующим:

- **несколько волн, следующих одна за другой с неравномерными интервалами**
- несколько волн, следующих одна за другой с относительно равномерными интервалами
- **самая высокая волна не всегда бывает первой**
- самая высокая волна ВСЕГДА бывает первой
- волны цунами следуют с интервалами – от 3 мин до нескольких часов

ЗАДАНИЕ 15. Укажите действия во время наводнения:

- **Ценные вещи перенесите на верхние этажи здания и сооружений**
- **Поднимитесь на верхние этажи, чердаки, крыши зданий и сооружений**
- **Отключите газ и электричество**
- **Возьмите с собой документы, самые необходимые вещи, небольшой запас продуктов и воды**
- **Включите радио для прослушивания экстренных сообщений**
- Брать с собой документы, самые необходимые вещи, небольшой запас продуктов и воды не рекомендуется, т.к. вы теряете время и становитесь менее мобильными. Срочно переключайтесь как можно выше!
- Не теряйте время на отключение газа и электричества, т.к. при ЧС в зоне бедствия это должно происходить автоматически
- Не поднимитесь на верхние этажи, чердаки, крыши зданий и сооружений, т.к. вода изолирует вас. Нужно срочно выдвигаться в ближайший более крупный населенный пункт

ЗАДАНИЕ 16. Выберите правильный вариант ответа:

Выведение в загородную зону рабочих и служащих, членов их семей, студентов вузов и ссузов организуется через предприятия, учреждения и учебные заведения при ... принципе эвакуации.

- территориальном
- **территориально-производственном**
- производственном
- бытовом
- территориально-локальном

ЗАДАНИЕ 17. Выберите правильный вариант ответа:

Полную специальную обработку проводят

- **после выхода из зоны загрязнения (заражения)**
- до выхода из зоны загрязнения (заражения)
- до входа в зону загрязнения (заражения)

ЗАДАНИЕ 18. Выберите правильные варианты ответа:

Йодная профилактика при выбросе в окружающую среду радиоактивных изотопов йода проводится следующими препаратами:

- **калия йодид**
- **раствор Люголя**
- **настойка йода 5%**
- калия гипохлорит
- раствор Рингера

ЗАДАНИЕ 19. Укажите основные формы острой лучевой болезни:

- **костно-мозговая**
- **кишечная**
- **токсическая**
- **церебральная**
- кардиальная

- нейрогенная
- мнимая
- смешанная

ЗАДАНИЕ 20. Выберите естественные источники радиации:

- **излучение Солнца**
- **радиоизотопы земной коры**
- **газ радон**
- различные медицинские процедуры: компьютерная томография, лучевая терапия и т.д.
- длинноволновое ультрафиолетовое излучение

ЗАДАНИЕ 21. Выберите правильные варианты ответа:

К простейшим способам защиты от аммиака относят:

- **протереть кожные покровы борным спиртом или раствором лимонной кислоты**
- протереть кожные покровы синильной кислоты
- **дышать через ткань или ватно-марлевую повязку, смоченную 2-5% раствором лимонной кислоты**
- дышать через ткань или ватно-марлевую повязку, смоченную раствором синильной кислоты
- дышать через ткань или ватно-марлевую повязку, смоченную раствором пищевой соды
- **закапать в нос несколько капель растительного масла**
- закапать в нос несколько капель минерального масла

ЗАДАНИЕ 22. Выберите правильный вариант ответа:

Трансмиссивные инфекции передаются от человека к человеку с помощью/через

- **кровососущих членистоногих**
- воду, пищу
- капельки мокроты и слизи в воздухе
- контакт кожных покровов или слизистых оболочек

ЗАДАНИЕ 23. Выберите правильный вариант ответа:

Массовое заболевание животных называется

- пандемия
- эпидемия
- эпифитотия
- **эпизоотия**

ЗАДАНИЕ 24. Выберите правильный вариант ответа:

Для возникновения эпидемического процесса необходим (-о, -ы)

- любые бактерии, вирусы, грибы
- большое скопление людей
- **патогенный микроорганизм**
- холодное время года

ЗАДАНИЕ 25. Выберите правильный вариант ответа:

РСЧС – это

- **Единая государственная система предупреждения и ликвидации чрезвычайных ситуаций**
- Российская система чрезвычайных ситуаций
- Российская служба чрезвычайных ситуаций

2) открытые задания (тестовые, повышенный уровень сложности):

ЗАДАНИЕ 1. Как называется территория разброса конструкционных материалов аварийных объектов и действия α -, β - и γ -излучений?

Ответ: Очаг аварии

ЗАДАНИЕ 2. Заполните пропуск:

В системе СИ единицей поглощенной дозы радиоактивного излучения является ...?

Ответ: Грей/Гр

ЗАДАНИЕ 3. Заполните пропуск (цифрами укажите число):

Острая лучевая болезнь развивается после кратковременного (3 суток) внешнего относительно равномерного внешнего облучения в дозах, превышающих ... Гр.

Ответ: 1

ЗАДАНИЕ 4. Заполните пропуск (в соответствующем падеже):

По скорости развития патологических нарушений в организме аварийно химически опасные вещества делятся на три группы. Если развитие симптомов интоксикации у пораженных аварийно химически опасными веществами наблюдается в течение нескольких минут, значит это вещества ... действия.

Ответ: быстрого

ЗАДАНИЕ 5. Заполните пропуск (в соответствующем падеже):

Непланируемый и неуправляемый выброс (пролив, россыпь, утечка) АОХВ, отрицательно воздействующий на человека и окружающую среду называется

Ответ: химическая авария

ЗАДАНИЕ 6. Заполните пропуск (в соответствующем падеже):

При поражении хлором для защиты органов дыхания используется промышленный противогаз, при отсутствии противогаза – ватно-марлевая повязка, смоченная 2-5% раствором

Ответ: питьевой соды

ЗАДАНИЕ 7. Как называется временное затопление водой участков суши в результате подъема уровня воды в реках, озерах, морях?

Ответ: Наводнение

ЗАДАНИЕ 8. Признаки какой ЧС природного характера перечислены ниже?

- запах газа в районе, где раньше этого не замечалось;
- беспокойство птиц и домашних животных;
- вспышки в виде рассеянного света зарниц;
- искрение близко расположенных, но не соприкасающихся электрических проводов;
- голубоватое свечение внутренней поверхности стен домов;
- самопроизвольное загорание люминесцентных ламп.

Ответ: Близкого землетрясения

ЗАДАНИЕ 9. Признаками какого пожара является горячая земля и струйки дыма из почвы?

Ответ: Подземного

ЗАДАНИЕ 10. Какой режим функционирования единой государственной системы предупреждения и ликвидации чрезвычайных ситуаций (РСЧС) вводится при возникновении и во время ликвидации чрезвычайных ситуаций природного и техногенного характера?

Ответ: Режим чрезвычайной ситуации

ЗАДАНИЕ 11. Какие подсистемы единой государственной системы предупреждения и ликвидации чрезвычайных ситуаций (РСЧС) создаются федеральными органами исполнительной власти в министерствах, ведомствах для решения специальных задач по защите населения и территорий от чрезвычайных ситуаций в сфере их деятельности и порученных им отраслях экономики?

Ответ: Функциональные

ЗАДАНИЕ 12. Заполните пропуск (в соответствующем падеже):

Область научных знаний, изучающая общие проблемы опасности, угрожающие человеку и среде его обитания и разрабатывающая соответствующие способы защиты от них – это

Ответ: Безопасность жизнедеятельности

ЗАДАНИЕ 13. Заполните пропуск (в соответствующем падеже):

Территория, на которой сложилась ЧС называется

Ответ: Зона чрезвычайной ситуации

ЗАДАНИЕ 14. Заполните пропуск (в соответствующем падеже):

Совокупность взаимосвязанных по времени, ресурсам, и месту проведения мероприятий, направленных на предотвращение или предельное снижение потерь населения и угрозы его жизни и здоровью от поражающих факторов называется

Ответ: защита населения в чрезвычайных ситуациях

ЗАДАНИЕ 15. Заполните пропуск (в соответствующем падеже):

Комплекс мероприятий по организованному вывозу (выводу) нетрудоспособного и не занятого в производстве населения, а также рабочих и служащих объектов экономики, прекращающих производственную деятельность, из зоны вероятной или случившейся ЧС в безопасные районы, а также жизнеобеспечение эвакуированных в районе размещения называется

Ответа. эвакуация

ЗАДАНИЕ 16. Заполните пропуск (в соответствующем падеже):

Средства коллективной защиты населения – инженерные сооружения гражданской обороны, предназначенные для защиты от оружия массового поражения и других современных средств нападения. Они подразделяются на противорадиационные укрытия, простейшие укрытия и

Ответ: убежища

3) открытые задания (ситуационные задачи, средний уровень сложности):

ЗАДАНИЕ 1. Укажите основные способами борьбы с лесными пожарами.

Пример ответа: Захлестывание кромки огня, засыпка его землей, заливка водой (химикатами), создание заградительных и минеральных полос, пуск встречного огня (отжиг).

ЗАДАНИЕ 2. Сформулируйте рекомендации по наполнению тревожного чемодана на случай возникновения ЧС.

Пример ответа: Аптечка первой помощи, ремонтный комплект (нитки, иголки и пр.), спички (лучше охотничьи), 2-3 газовые зажигалки, мини радиоприёмник с дополнительными элементами питания, фонарь с дополнительными элементами питания, охотничий и универсальный нож (мультирул), теплая одежда и обувь, комплект сменного белья, постельные принадлежности, средства личной гигиены, продукты питания и вода на 2-3 дня,

одноразовая посуда, свисток, средства индивидуальной защиты, документы, деньги. Уложить все это в рюкзак или чемодан объёмом 50 л, яркой расцветки со светоотражающими полосами.

ЗАДАНИЕ 3. Семья из трёх человек – родители и ребенок 5 лет. Сформулируйте рекомендации о проведении йодной профилактики препаратом калия йодид.

Пример ответа: Родители применяют калия йодид 1 раз в день по 125 мкг, ребенок - 1 раз в день по 40 мкг.

ЗАДАНИЕ 4. Вы упали на рельсы в метро. Приближение поезда не слышно. Вы не травмированы, можете идти. Ваши действия? Какие действия недопустимы?

Пример ответа: Двигаться под часы (в эту сторону придет голова состава). Под часами зайти на 1-2 м за указательную линию (типа «зебра»). Остановиться. Лечь между рельсами. До линии состав сделает остановку. Не пытаться подтянуться за край платформы из-за опасности травмирования электрическим током. Не уходить далеко вглубь тоннеля.

ЗАДАНИЕ 5. Вы видите, что человек упал между вагонами стоящего поезда. Ваши действия?

Пример ответа: Заблокировать дверь любым подручным предметом (сумка, бутылка с водой, книга и т.п.). Взять в руку яркую ткань (шарф, платок и т.п.) и совершая круговые движения руки над головой двигаться в сторону головы состава (там, где находится машинист). Попросить прохожих сообщить о человеке дежурному по станции.

ЗАДАНИЕ 6. Прозвучал сигнал «Внимание всем!». В речевом сообщении указано, что произошел выброс аммиака. Сформулируйте рекомендации о простейших способах защиты населения от аммиака.

Пример ответа: При поражении аммиаком кожу промыть 2% раствором борной кислоты или 5% раствором лимонной кислоты. В глаза закапать 30% раствор альбумида, в нос – несколько капель любого растительного масла. Для защиты органов дыхания использовать промышленный противогаз, при его отсутствии - ватно-марлевая повязка, смоченная 5% раствором лимонной кислоты.

ЗАДАНИЕ 7. Какие преимущества имеет, применяемый в РФ, комбинированный способ эвакуации?

Пример ответа: Комбинированный способ эвакуации имеет два преимущества – сокращение сроков эвакуации и наибольший охват населения.

ЗАДАНИЕ 8. Произошло возгорание масла на сковороде во время приготовления пищи на кухне. Ваши действия?

Пример ответа: Накрыть сковороду крышкой для прекращения поступления кислорода воздуха, который поддерживает горение масла.

ЗАДАНИЕ 9. Вы почувствовали запах газа в подъезде. Ваши действия?

Пример ответа: Открыть дверь и окна в подъезде для проветривания. Вызвать аварийную службу газа по номеру 104 или 112. Выйдите сами и выведите людей из зоны утечки газа (не менее 5 м); не допускайте в зону утечки посторонних людей и автотранспорт; дождитесь прибытия бригады.

ЗАДАНИЕ 10. Вас сбивает автомобиль, и избежать этого уже нельзя. Каким образом можно постараться уменьшить вероятность получения серьезных травм?

Пример ответа: Необходимо сгруппировавшись (подтянуть колени к животу) прыгнуть на капот автомобиля или лобовое стекло и защитить голову руками.

ЗАДАНИЕ 11. Произошел выброс радиоактивных веществ. Человек жалуется на тошноту, рвоту, скачки давления, нарушение стула. С каким состоянием организма, скорее всего, связаны эти симптомы?

Пример ответа: Острая лучевая болезнь

ЗАДАНИЕ 12. При оказании первой помощи пострадавшему, какие мероприятия нужно произвести самыми первыми и почему?

Пример ответа: Оценить наличие угрожающих факторов для собственной безопасности. Чтобы количество пострадавших не увеличилось.

ЗАДАНИЕ 13. Для распространения инфекционных болезней в человеческом коллективе необходимо три взаимодействующих звена (факторы эпидемического процесса). Укажите их.

Пример ответа: 1 звено – источник инфекции, который выделяет микроба-возбудителя болезни; 2 звено – механизм передачи возбудителей инфекционной болезни; 3 звено – восприимчивое население (восприимчивый организм).

Критерии и шкалы оценивания:

Для оценивания выполнения заданий используется балльная шкала:

1) закрытые задания (тестовые, средний уровень сложности):

- 1 балл – указан верный ответ;
- 0 баллов – указан неверный ответ, в том числе частично.

2) открытые задания (тестовые, повышенный уровень сложности):

- 2 балла – указан верный ответ;
- 0 баллов – указан неверный ответ, в том числе частично.

3) открытые задания (ситуационные задачи, средний уровень сложности):

- 5 баллов – задание выполнено верно (получен правильный ответ, обоснован (аргументирован) ход выполнения (при необходимости));
- 2 балла – выполнение задания содержит незначительные ошибки, но приведен правильный ход рассуждений, или получен верный ответ, но отсутствует обоснование хода его выполнения (если оно было необходимым), или задание выполнено не полностью, но получены промежуточные (частичные) результаты, отражающие правильность хода выполнения задания, или, в случае если задание состоит из выполнения нескольких подзаданий, 50% которых выполнено верно;
- 0 баллов – задание не выполнено или выполнено неверно (ход выполнения ошибочен или содержит грубые ошибки, значительно влияющие на дальнейшее его изучение).

УК-9. Способен принимать обоснованные экономические решения в различных областях жизнедеятельности

Период окончания формирования компетенции: 2 семестр

Перечень дисциплин (модулей), практик, участвующих в формировании компетенции:

Дисциплины (модули):

Б1.О.34 Экономика и финансовая грамотность (2 семестр)

Б1.О.34 Экономика и финансовая грамотность

1) закрытые задания (тестовые, средний уровень сложности):

ЗАДАНИЕ 1. Выберите правильный вариант ответа:

Что собой представляет страхование?

- страхование – это взаимодействие между страховщиком и страхователем
- **страхование выражает совокупность экономических отношений, возникающих между продавцом и покупателем страховой услуги**
- страхование – это процесс передачи страхового полиса физическому или юридическому лицу
- страхование представляет собой организационную форму предоставления страховой услуги

ЗАДАНИЕ 2. Выберите правильный вариант ответа:

Страхование гражданской ответственности относится к

- **имущественному страхованию**
- личному страхованию
- страхованию убытков
- личному страхованию и страхованию убытков

ЗАДАНИЕ 3. Выберите правильный вариант ответа:

Пенсия – это

- регулярная денежная выплата, которая является средством существования
- страхование работающих от утраты трудоспособности
- **регулярная денежная выплата, которую человек начинает получать при признании его нетрудоспособным, при утрате близкого человека, доход которого является единственным средством существования, а также за выслугу лет и особые заслуги перед государством**
- регулярная денежная выплата, которую человек начинает получать при признании его нетрудоспособным

ЗАДАНИЕ 4. Выберите правильный вариант ответа:

Какие бывают пенсионные системы по характеру участия?

- распределительные и накопительные
- **обязательные и добровольные**
- распределительные и добровольные
- обязательные и накопительные

ЗАДАНИЕ 5. Выберите правильный вариант ответа:

Какая организация осуществляет регулирование страхового рынка в России?

- Министерство экономического развития
- Министерство финансов
- Торгово-промышленная палата
- **Банк России**

ЗАДАНИЕ 6. Выберите правильный вариант ответа:

Какой результат отражает прибыль от реализации продукции предприятия?

- денежное выражение всей стоимости товаров
- **финансовый результат, полученный от основной деятельности предприятия**
- материальный результат производства продукции
- социально-экономический результат

ЗАДАНИЕ 7. Выберите правильный вариант ответа:

Механизм денежного возмещения износа основного капитала называется

- кругооборотом капитала
- авансированием капитала
- оборотом капитала
- **амортизацией основного капитала**

ЗАДАНИЕ 8. Выберите правильный вариант ответа:

Период, в течение которого фирма может изменить количество всех используемых ею производственных ресурсов, называется

- **долгосрочным**
- краткосрочным
- мгновенным
- среднесрочным

ЗАДАНИЕ 9. Выберите правильный вариант ответа:

Чистая прибыль не используется для формирования какого из фондов?

- фонд накопления
- фонд инвестирования
- резервный фонд
- **фонд заработной платы**

ЗАДАНИЕ 10. Выберите правильный вариант ответа:

Что характеризует эффективность фирмы?

- массу прибыли
- **соотношение результатов хозяйственной деятельности и связанных с их достижением затрат**
- суммарную стоимость материальных затрат к себестоимости продукции
- выручку, приходящуюся на единицу проданных изделий

ЗАДАНИЕ 11. Выберите правильный вариант ответа:

Предельная склонность к потреблению – это

- соотношение между приростом потребления и приростом сбережений
- **соотношение между приростом потребления и приростом дохода**
- соотношение между приростом сбережения на единицу прироста дохода
- соотношение между приростом дохода и приростом потребления

ЗАДАНИЕ 12. Выберите правильный вариант ответа:

Диверсификация как метод управления инвестиционными рисками – это

- снижение доходов вследствие наличия противоречий в законодательной базе
- **включение в портфель ценных бумаг с различными параметрами риска и ожидаемой доходности**
- реализация всех ценных бумаг с низким уровнем доходности
- вложение всех средств в ценные бумаги одного предприятия

ЗАДАНИЕ 13. Укажите собственные средства предприятия для осуществления инвестиций:

- **прибыль**
- банковский кредит
- средства муниципального бюджета
- средства от продажи корпоративных облигаций

ЗАДАНИЕ 14. Выберите правильный вариант ответа:

Какой из названных факторов экономического роста является интенсивным?

- рост количества рабочей силы на предприятии
- покупка дополнительного оборудования, аналогичных уже имеющимся
- **совершенствование технологий**

- увеличение объема инвестиций при сохранении существующего уровня технологии

ЗАДАНИЕ 15. Выберите правильный вариант ответа:

Экономический рост, сопровождаемый повышением качества выпускаемой продукции, ростом производительности труда и ресурсосбережения, называется

- экстенсивным
- **интенсивным**
- интегрированным
- нейтральным

ЗАДАНИЕ 16. Выберите правильный вариант ответа:

Какое из перечисленных явлений не соответствует периоду экономического спада?

- снижение инвестиций в оборудование с длительным сроком служб
- сокращение налоговых поступлений
- снижение прибылей предприятий
- **уменьшение объема пособий по безработице**

ЗАДАНИЕ 17. Выберите правильный вариант ответа:

Подавленная (скрытая) инфляция проявляется

- во все меньшем разрыве между ценой на товары, устанавливаемой государством, и рыночной ценой на эти же товары, складывающейся под влиянием спроса и предложения
- в появлении у производителей стимулов к увеличению количества производимой продукции
- в возникновении у производителей стимулов к повышению качества производимой продукции
- **в дефиците товаров и услуг в стране**

ЗАДАНИЕ 18. Выберите правильный вариант ответа:

Открытая инфляция характеризуется

- **постоянным повышением цен**
- ростом дефицита товаров
- увеличением денежной массы
- снижением качества выпускаемой продукции

ЗАДАНИЕ 19. Выберите правильный вариант ответа:

Кривая Филлипса характеризует связь между

- налоговыми ставками и объемом налоговых поступлений
- **уровнем безработицы и уровнем инфляции**
- нормой процента и денежной массой в обращении
- уровнем безработицы и объемом ВВП

ЗАДАНИЕ 20. Выберите правильный вариант ответа:

Полная занятость связана с

- полным отсутствием безработных
- гиперинфляцией
- **естественным уровнем безработицы**
- циклической безработицей

ЗАДАНИЕ 21. Выберите правильный вариант ответа:

Спрос на факторы производства является производным, так как

- **определяется спросом на готовую продукцию**

- без факторов производства невозможно производство товаров
- от количества приобретаемых факторов производства зависит объем производства
- все факторы производства между собой взаимосвязаны

ЗАДАНИЕ 22. Выберите правильный вариант ответа:

Субъектами предложения на рынке труда являются

- государство
- **домашние хозяйства**
- фирмы
- некоммерческие организации

ЗАДАНИЕ 23. Выберите правильный вариант ответа:

Как, согласно экономической теории, рост заработной платы влияет на предложение труда работника?

- количество часов работы однозначно растет
- количество часов работы однозначно сокращается
- **количество часов работы может как вырасти, так и сократиться, это зависит от предпочтений индивида**
- количество часов работы не изменится

ЗАДАНИЕ 24. Какое из нижеперечисленных положений относительно трудового договора и договора гражданско-правового характера (ГПХ), заключающиеся при трудоустройстве на работу, является верным?

- Ни при трудовом договоре, ни при ГПХ не положен ежегодный оплачиваемый отпуск и учебный отпуск
- Период работы по договору ГПХ не включается в страховой стаж, дающий право на страховую пенсию по старости, так как работодатель не обязан перечислять страховые взносы с вознаграждения по договору ГПХ
- Работа по трудовому договору и по договору ГПХ регулируется трудовым кодексом РФ
- **Предмет договора ГПХ – конечный результат работы или оказания услуги, который работодатель принимает в срок, установленный договором, процесс выполнения работы заказчика, как правило, не интересует**

ЗАДАНИЕ 25. Какое из нижеперечисленных положений о минимальном размере оплаты труда (МРОТ) является верным?

- МРОТ служит только для определения размеров пособий по временной нетрудоспособности
- **МРОТ не может быть ниже величины прожиточного минимума трудоспособного населения**
- Регионы устанавливают свой МРОТ, который может быть ниже федерального
- Согласно методике расчета, МРОТ составляет 62% от средней заработной платы

ЗАДАНИЕ 26. Иванов И.И. планировал отправиться в путешествие в Бразилию. Целый год он откладывал определённую часть зарплаты для последующего приобретения туристической путёвки. Какую функцию денег иллюстрирует данный пример?

- мера стоимости
- мировые деньги
- **средство накопления**
- средство обращения

ЗАДАНИЕ 27. Выберите правильный вариант ответа:

К функциям ЦБ не относится

- эмиссия денежных знаков
- регулирование денежного обращения в соответствии с потребностями экономики

- хранение золотовалютных резервов страны
- **выдача кредитов населению**

ЗАДАНИЕ 28. Выберите правильный вариант ответа:

Денежно-кредитная политика проводится

- правительством страны
- всеми финансово-кредитными учреждениями страны
- **Центральным банком страны**
- министерством финансов

ЗАДАНИЕ 29. Выберите правильный вариант ответа:

К инструментам денежно-кредитной политики не относится

- регулирование учетной ставки
- регулирование нормы обязательных резервов
- операции на открытом рынке
- **изменение налоговых ставок**

ЗАДАНИЕ 30. Выберите правильный вариант ответа:

В чем состоит разница между кредитом и займом?

- Деньги, полученные по договору займа, возвращать не обязательно
- **Кредиты выдают банки, а МФО и ломбарды выдают займы**
- Заём может выдавать только один гражданин другому гражданину
- Заём выдается только на сумму не более 100 тыс. рублей

ЗАДАНИЕ 31. Выберите правильный вариант ответа:

Кредитная карта в общем случае позволяет своему владельцу

- контролировать свои расходы и воздержаться от спонтанных, ненужных покупок
- снимать наличные средства в банкомате без дополнительных комиссий
- **получить доступ к дополнительному источнику заемных средств**
- обеспечить более надежную защиту от несанкционированного доступа к своим средствам, чем дебетовая карта

ЗАДАНИЕ 32. Выберите однозначно правильный вариант ответа:

Чем безналичные расчеты могут быть удобнее наличных?

- **Быстрота совершения операций, даже с контрагентами, находящимися вне оперативной доступности**
- Анонимность и конфиденциальность
- Отсутствие комиссий
- Невозможность потерять

ЗАДАНИЕ 33. Укажите правильное утверждение касательно криптовалюты:

- **Криптовалюта – это цифровые деньги, существующие только в виртуальном пространстве интернет**
- Криптовалюту можно приобрести в обменном пункте, как любую другую валюту
- Существует только одна криптовалюта – биткойн, остальные являются подделкой
- Существует орган, который контролирует цифровые монеты криптовалют, влияет на их курс и объем в сети, а также может заблокировать транзакции, счета и так далее

ЗАДАНИЕ 34. Выберите правильный вариант ответа:

Что такое Агентство по страхованию вкладов?

- организация, осуществляющая надзор за деятельностью страховых компаний

- **организация, которая обеспечивает осуществление страховых выплат при отзыве лицензии у банка или его банкротстве**
- банк, через который страховые компании выплачивают страховые возмещения своим клиентам
- государственный орган, в задачи которого входит обеспечение устойчивости национальной валюты и платежной системы

ЗАДАНИЕ 35. Продолжите утверждение:

Чем выше ставка рефинансирования, тем

- дешевле будет взять кредит на автомобиль
- больше бизнесмены будут инвестировать
- **больше процентов по депозиту получит вкладчик**
- дешевле для коммерческого банка будет кредит в ЦБ

ЗАДАНИЕ 36. Укажите неверное утверждение:

- Кредит лучше брать в той валюте, в которой вы получаете зарплату
- Проценты по кредитам обычно выше, чем проценты по вкладам
- **Годовая процентная ставка по займам в МФО существенно ниже, чем по банковским кредитам**
- Для некоторых кредитных карт предусмотрен беспроцентный период

ЗАДАНИЕ 37. Выберите правильный вариант ответа:

Какой вид страхования является обязательным для заемщика при взятии ипотечного кредита?

- добровольное медицинское страхование
- **страхование недвижимого имущества, являющегося предметом залога**
- страхование жизни и/или здоровья заемщика
- накопительное страхование жизни

ЗАДАНИЕ 38. Выберите правильный вариант ответа:

К доходам государственного бюджета не относятся

- доходы от приватизации
- акцизы
- **зарплата государственных служащих**
- доходы от продажи государственных ценных бумаг

ЗАДАНИЕ 39. Выберите правильные варианты ответа:

Какой налог из перечисленных относится к косвенным налогам?

- **налог на добавленную стоимость**
- налог на прибыль
- таможенная пошлина
- транспортный налог

ЗАДАНИЕ 40. Выберите правильный вариант ответа:

Фискальная функция налогов проявляется в том, что они

- сдерживают экономический рост
- позволяют контролировать доходы населения
- **обеспечивают доходами казну (бюджет) государства**
- нет верного ответа

ЗАДАНИЕ 41. Выберите правильный вариант ответа:

В каком случае из перечисленных ниже вы не должны самостоятельно составить и подать налоговую декларацию о полученных доходах и уплатить с них НДФЛ?

- выигрыш в лотерею в размере 10000 руб.
- **зарплата, полученная от работодателя в рамках трудового контракта**
- арендная плата, полученная от сдачи квартиры
- дивиденды, полученные по ценным бумагам, которые по договору доверительного управления приобрел для вас банк

ЗАДАНИЕ 42. Выберите правильный вариант ответа:

Какие виды дохода не подлежат налогообложению?

- доходы от продажи квартиры, которая находилась в собственности 2 года
- **стипендии**
- заработная плата в случае, если ее размер не превышает 20000 руб.
- доходы, полученные лицами-нерезидентами РФ

2) открытые задания (тестовые, повышенный уровень сложности):

ЗАДАНИЕ 1. Какой риск можно передать в страховую компанию?

Ответ: чистый риск / чистый

ЗАДАНИЕ 2. Кем является клиент страховой компании в процедуре страхования?

Ответ: страхователь

ЗАДАНИЕ 3. Как называется суммарная продолжительность периодов работы, в течение которых с заработной платы работников уплачиваются страховые взносы в Пенсионный Фонд РФ?

Ответ: страховой стаж

ЗАДАНИЕ 4. Какой вид страхования включает медицинское страхование?

Ответ: личное страхование

ЗАДАНИЕ 5. Это вложения средств в денежной, материальной и нематериальной формах в объекты предпринимательской деятельности с целью получения прибыли.

Ответ: инвестиции

ЗАДАНИЕ 6. Как называется ценная бумага, удостоверяющая отношения по займу и дающие право владельцу на получение заранее определенного дохода в оговоренные сроки?

Ответ: облигация

ЗАДАНИЕ 7. В какой фазе экономического цикла происходит превышение докризисного уровня ВВП?

Ответ: в фазе подъема / подъем

ЗАДАНИЕ 8. Какая фаза экономического цикла характеризуется минимальной ставкой процента?

Ответ: фаза депрессии / депрессия

ЗАДАНИЕ 9. Период времени, в течение которого страхователь вправе отказаться от договора страхования и получить возврат уплаченной страховой премии в полном

объеме установлен сроком ...календарных дней с даты заключения договора страхования.

(цифрами укажите целое числовое значение)

Ответ: 14

ЗАДАНИЕ 10. Агентство по страхованию вкладов страхует вклады как индивидуальных предпринимателей, так и физических лиц, в размере ... руб. страхования.

(цифрами укажите целое числовое значение)

Ответ: 1400000

ЗАДАНИЕ 11. Укажите через запятую пропущенные слова в правильном порядке:

При стагнации производства Центральный банк ... ставку рефинансирования, а в случае повышенного спроса на денежные ресурсы и ускорения роста цен Центральный банк ... ставку рефинансирования.

Ответ: уменьшает/снижает, увеличивает/повышает

ЗАДАНИЕ 12. Укажите пропущенное слово в правильной падеже:

Сумма превышения расходов бюджета над его доходами представляет собой ... государственного бюджета.

Ответ: дефицит

ЗАДАНИЕ 13. Как называется форма безработица, причиной которой является потеря работы из-за спада в экономическом развитии?

Ответ: циклическая форма безработицы

ЗАДАНИЕ 14. Определите размер страховой пенсии по старости в 2019 г., если гражданин с накопленными 40 пенсионными баллами выходил на пенсию. При этом стоимость пенсионного бала была равна 87 руб., фиксированная выплата – 5334 руб.

В ответе цифрами укажите целое числовое значение.

Ответ: 8814

ЗАДАНИЕ 15. Объем выпуска фирмы за месяц составляет 2000 ед. товара, цена реализации единицы товара – 70 р., средние валовые издержки (АТС) на единицу товара при данном объеме выпуска товара составляют 40 р. Определите величину валовой (общей) прибыли, полученной фирмой за месяц (в рублях).

В ответе цифрами укажите целое числовое значение.

Ответ: 60000

ЗАДАНИЕ 16. Если при увеличении располагаемого дохода с 200 до 400 млн.руб. сбережения домохозяйств увеличились с 40 до 80 млн.руб., то чему равна предельная склонность к потреблению (в %)?

В ответе цифрами укажите целое числовое значение.

Ответ: 80

ЗАДАНИЕ 17. Определите курс акции (в ден.ед.), номинальная стоимость которой равна 1000 ден.ед. Выплачиваемый на нее дивиденд составляет 18 %, ставка банковского процента составляет 12 % годовых.

В ответе цифрами укажите целое числовое значение.

Ответ: 1500

ЗАДАНИЕ 18. Номинальная ставка процента в течение 2-х лет одинаковая и составляет 11%, а уровень инфляции изменился с 8% (в первый год) до 6% (во второй год). Найти как изменится реальная ставка процента во втором году по сравнению с первым?

В ответе укажите как изменится ставка и на сколько (цифрами целое числовое значение) %.

Ответ: увеличится на 2%

ЗАДАНИЕ 19. В данном году потенциальный объем ВВП составляет 5000 млрд. ден. ед., а фактический уровень безработицы равен 7% при естественном уровне 4% (коэффициент Оукена 2,5). Найти насколько процентов фактический ВВП отклоняется от своего потенциального значения?

В ответе цифрами укажите числовое значение.

Ответ: 7,5

ЗАДАНИЕ 20. Какую сумму (в руб.) за месяц получит человек на руки, если он устроился на работу в организацию, оформив трудовой договор с официальным окладом в 50000 руб.?

В ответе цифрами укажите целое числовое значение.

Ответ: 43500

ЗАДАНИЕ 21. Какую сумму (в руб.) за месяц потратит работодатель на сотрудника, которого он взял на работу по трудовому договору с официальным окладом в 80000 руб.?

В ответе цифрами укажите целое числовое значение.

Ответ: 104160/104000

ЗАДАНИЕ 22. На производственном предприятии за год получена валовая прибыль 4000 р. Определите, сколько составит чистая прибыль, если взимается налог на прибыль в размере 20%.

В ответе цифрами укажите целое числовое значение.

Ответ: 3200

ЗАДАНИЕ 23. Чему равен темп инфляции (в %), если номинальная заработная плата увеличилась на 10%, а при этом реальная снизилась на 7%?

В ответе цифрами укажите целое числовое значение.

Ответ: 17

ЗАДАНИЕ 24. Госпожа Сыроежкина открыла вклад с капитализацией процентов в банке "Успех" на свое имя в размере 100000 рублей. По условиям банка этот вклад клиент может забрать только через 2 года, а до этого момента банк обещает ежегодно начислять 10% в рублях. Сколько денег сможет получить Сыроежкина в конце срока вклада?

В ответе цифрами укажите округленное до целого числовое значение.

Ответ: 121000

ЗАДАНИЕ 25. Какую сумму нужно положить в банк человеку, желающему через 2 года приобрести квартиру, стоимостью 4000000 руб., если процентная ставка по вкладам в банке составляет 10% (сложные проценты с ежегодным начислением)?

В ответе цифрами укажите округленное до целого числовое значение.

Ответ: 3305785

ЗАДАНИЕ 26. Официальная заработная плата Сидорова А.П. в 2021 г. составила 600000 руб. Сидоров А.П. в этом году оплатил свое обучение на общую сумму 150000 руб. Какую сумму (в руб.) сможет вернуть себе Сидоров А.П., если подаст документы на вычет в налоговый орган в 2022 году?

В ответе цифрами укажите округленное до целого числовое значение.

Ответ: 15600

ЗАДАНИЕ 27. Рассчитайте курсовую стоимость акции на рынке ценных бумаг, если номинальная стоимость акции 1000 руб., размер дивиденда – 30%, ссудный процент – 25%.

В ответе цифрами укажите округленное до целого числовое значение.

Ответ: 1200

ЗАДАНИЕ 28. Страна производит автомобили и пушки:

Автомобили (шт)	4	3	2	1	0
Пушки (шт)	0	5	10	15	20

Альтернативные издержки производства одного дополнительного автомобиля составляют?

В ответе цифрами укажите целое числовое значение.

Ответ: 5

ЗАДАНИЕ 29. При повышении цены товара на 10%, спрос на него снизился на 12%. Чему равен коэффициент ценовой эластичности спроса?

В ответе цифрами укажите числовое значение.

Ответ: 1,2

ЗАДАНИЕ 30. Кривая спроса на лыжи в небольшом городке Калач описывается следующим уравнением: $Q_d = 700 - 2P$, где Q_d – объем спроса в месяц, P – цена. Кривая предложения лыж описывается следующим уравнением: $Q_s = -100 + 2P$, где Q_s – месячный объем предложения. Какова равновесная цена товара?

В ответе цифрами укажите целое числовое значение.

Ответ: 200

ЗАДАНИЕ 31. Если землевладелец ежегодно получает 72000 рублей земельной ренты, а ставка ссудного процента 12% годовых, то чему равна цена земельного участка?

В ответе цифрами укажите целое числовое значение.

Ответ: 600000

ЗАДАНИЕ 32. Определите средние переменные издержки, если в краткосрочном периоде фирма производит 400 единиц продукции при общих издержках 5000 руб., в том числе 1000 руб. составляют постоянные издержки.

В ответе цифрами укажите целое числовое значение.

Ответ: 10

ЗАДАНИЕ 33. Семья Ивановых состоит из пяти человек: студент Иван, его мама, папа, бабушка и дедушка. Мама получает заработную плату, работая врачом в больнице, 35 000 р. (без учета подоходного налога). Папа – инженер на заводе, получает зарплату 52 000 р. (без учета подоходного налога). Бабушка и дедушка получают пенсию соответственно 12 000 р. и 14 000 р. Стипендия Ивана – 2500 рублей. Каков доход семьи Ивановых в расчете на одного человека после вычета налогов?

В ответе цифрами укажите целое числовое значение.

Ответ: 20838

Критерии и шкалы оценивания:

Для оценивания выполнения заданий используется балльная шкала:

1) закрытые задания (тестовые, средний уровень сложности):

- 1 балл – указан верный ответ;
- 0 баллов – указан неверный ответ, в том числе частично.

2) открытые задания (тестовые, повышенный уровень сложности):

- 2 балла – указан верный ответ;
- 0 баллов – указан неверный ответ, в том числе частично.

УК-10. Способен принимать обоснованные экономические решения в различных областях жизнедеятельности

Период окончания формирования компетенции: 2 семестр

Перечень дисциплин (модулей), практик, участвующих в формировании компетенции:

Дисциплины (модули):

Б1.О.08 Основы права и противодействие противоправному поведению (2 семестр)

Б1.О.08 Основы права и противодействие противоправному поведению

1) закрытые задания (тестовые, средний уровень сложности):

ЗАДАНИЕ 1. Выберите правильный вариант ответа:

Что не является коррупцией?

- злоупотребление служебным положением
- **отказ в выполнении неправомерного поручения**
- дача взятки

ЗАДАНИЕ 2. Выберите правильный вариант ответа:

Профилактика коррупции – это

- деятельность институтов гражданского общества, организаций и физических лиц по выявлению и последующему устранению причин коррупции
- **деятельность федеральных органов государственной власти, органов государственной власти субъектов Российской Федерации, органов местного самоуправления, институтов гражданского общества, организаций и физических лиц в пределах их полномочий по предупреждению коррупции, в том числе по выявлению и последующему устранению причин коррупции**
- деятельность институтов гражданского общества по выявлению и последующему устранению причин коррупции

ЗАДАНИЕ 3. Выберите правильный вариант ответа:

Кто обязан предоставлять сведения о своих доходах, об имуществе и обязательствах имущественного характера, а также о доходах, об имуществе и обязательствах имущественного характера своих супруги (супруга) и несовершеннолетних детей?

- **граждане, претендующие на замещение должностей государственной гражданской службы**
- граждане, претендующие на замещение должностей гражданской службы, включенных в перечни, установленные нормативными правовыми актами Российской Федерации
- граждане, иностранные граждане, претендующие на замещение должностей гражданской службы

ЗАДАНИЕ 4. Выберите правильный вариант ответа:

Личная заинтересованность гражданского служащего, которая влияет или может повлиять на надлежащее исполнение им должностных (служебных) обязанностей – это

- **конфликт интересов**
- коррупция
- коррупциогенный фактор

ЗАДАНИЕ 5. Выберите правильный вариант ответа:

Предотвращение или урегулирование конфликта интересов на гражданской службе может состоять

- в понижении гражданского служащего в должности
- **в отказе гражданского служащего от выгоды, явившейся причиной возникновения конфликта интересов**
- в прекращении государственной гражданской службы

ЗАДАНИЕ 6. Выберите правильный вариант ответа:

Непринятие гражданским служащим, являющимся стороной конфликта интересов, мер по предотвращению или урегулированию конфликта интересов

- несоблюдением требований к служебному поведению, влекущим наложение дисциплинарного взыскания
- **правонарушением, влекущим увольнение гражданского служащего с гражданской службы**
- преступлением

ЗАДАНИЕ 7. Выберите правильный вариант ответа:

В какой форме обязан уведомить гражданский служащий о возникшем конфликте интересов или о возможности его возникновения?

- **в письменной**
- в устной
- допускаются обе формы уведомления

ЗАДАНИЕ 8. Выберите правильный вариант ответа:

Вправе ли гражданский служащий выполнять иную оплачиваемую работу?

- не вправе
- **вправе, если это не повлечет за собой конфликта интересов**
- вправе

ЗАДАНИЕ 9. Выберите правильный вариант ответа:

Вправе ли государственный служащий публично высказываться, в том числе в СМИ и давать оценки либо высказывать свои суждения?

- нет
- **да, если это входит в его должностные обязанности**
- да

ЗАДАНИЕ 10. Выберите правильный вариант ответа:

Решение комиссии по соблюдению требований к служебному поведению принимается

- **тайным голосованием**
- открытым голосованием
- возможны оба варианта

ЗАДАНИЕ 11. Выберите правильный вариант ответа:

Государственный служащий обязан уведомить представителя нанимателя

- **обо всех случаях совершенных коррупционных действий**
- только о склонении к коррупционным действиям лично государственного служащего
- только о факте коррупционных действий в отношении государственного служащего

ЗАДАНИЕ 12. Выберите правильный вариант ответа:

К взысканиям, которые предусмотрены за совершение коррупционных действий, независимо от их тяжести относятся

- **дисциплинарные взыскания в виде замечания, выговора, предупреждения о неполном должностном соответствии, либо увольнения**
- отмена выплаты премии
- дисциплинарные взыскания в виде замечания, выговора, строгого выговора

ЗАДАНИЕ 13. Выберите правильный вариант ответа:

Государственный служащий обязан предоставлять сведения о доходах каких членов семьи?

- всех близких родственников, включая родителей, а также сестер и братьев
- **супруги (супруга) и несовершеннолетних детей**
- супруги (супруга) и родителей

ЗАДАНИЕ 14. Выберите правильный вариант ответа:

Утрата доверия государственного лица за совершенные коррупционные действия возможна

- **при установленном факте получении взятки**
- при опоздании на работу
- при отказе в выполнении неправомерного поручения

ЗАДАНИЕ 15. Выберите пример коррупционных действий:

- получение любого подарка
- **использование служебного положения для получения выгоды в отношении родственников**
- отказ в выполнении неправомерного поручения

ЗАДАНИЕ 16. Выберите правильный вариант ответа:

Кто является субъектом коррупционной деятельности?

- только государственные служащие
- **физические и юридические лица**
- органы публичной власти

ЗАДАНИЕ 17. Выберите правильный вариант ответа:

Какова основная цель Национальной стратегии противодействия коррупции?

- **искоренение причин и условий, порождающих коррупцию в российском обществе**
- формирование у субъекта определённого отношения к коррупционным проявлениям
- формирование у субъекта негативного отношения к коррупционным проявлениям

ЗАДАНИЕ 18. Выберите правильный вариант ответа:

Кто может быть привлечен к уголовной ответственности за совершение коррупционных преступлений?

- только лицо, получающее взятку
- **лицо, которое получает взятку; лицо, которое дает взятку; лицо, которое передает взятку взяткополучателю**
- лицо, дающее взятку

ЗАДАНИЕ 19. Выберите правильный вариант ответа:

Что запрещается гражданскому служащему в связи с прохождением гражданской службы?

- **заниматься предпринимательской деятельностью лично или через доверенных лиц**
- нет запретов
- заниматься творческой деятельностью

ЗАДАНИЕ 20. Выберите правильный вариант ответа:

Какая сумма признается крупным размером взятки (а также стоимость ценных бумаг, иного имущества или выгод имущественного характера)?

- от 25 до 150 тысяч рублей
- **от 150 тысяч рублей до 1 миллиона рублей**
- от 1 миллиона до 5 миллионов рублей

ЗАДАНИЕ 21. Выберите правильный вариант ответа:

Задачей федеральных государственных органов в области информационных технологий для профилактики коррупции является

- внедрение современных информационных технологий
- **обеспечение наличия полноты сведений, содержащихся на сайтах государственных органов, по вопросам профилактики и противодействия коррупции и иным правонарушениям**
- обеспечение государственной защиты государственных служащих

ЗАДАНИЕ 22. Выберите правильный вариант ответа:

Органом, ответственным за реализацию в России положений Конвенции против коррупции 2003 г. по всем вопросам взаимной правовой помощи (за исключением гражданско-правовых вопросов), является

- **Генеральная прокуратура Российской Федерации**
- Следственный комитет Российской Федерации
- ФСБ Российской Федерации

ЗАДАНИЕ 23. Выберите правильный вариант ответа:

В случае, если государственный служащий владеет ценными бумагами, акциями (долями участия, паями в уставных (складочных) капиталах организаций), обязан ли он в целях предотвращения конфликта интересов передать принадлежащие ему ценные бумаги, акции (доли участия, паи в уставных (складочных) капиталах организаций) в доверительное управление?

- нет, не обязан
- **да, обязан**
- обязан в случаях, установленных законом

ЗАДАНИЕ 24. Выберите действие, являющееся коррупционным нарушением:

- получение премии за добросовестное выполнение служебных обязанностей
- **получение должностным лицом в качестве подарка скидки, ссуды, бесплатной услуги от физических лиц и организаций, в отношении которых осуществлял государственные функции**
- получение любого подарка

ЗАДАНИЕ 25. Выберите правильный вариант ответа:

Является ли должностной (служебной) обязанностью государственного служащего уведомление о фактах обращения к нему в целях склонения к совершению коррупционных правонарушений?

- **да, является его обязанностью**

- нет, не является обязанностью, а только рекомендовано антикоррупционным законодательством
- нет, не является

ЗАДАНИЕ 26. Выберите правильный вариант ответа:

Что относится к конфликту интересов (в соответствии с Федеральным законом от 25.12.2008 № 273-ФЗ «О противодействии коррупции»)?

- **ситуация, при которой личная заинтересованность (прямая или косвенная) лица, замещающего должность, замещение которой предусматривает обязанность принимать меры по предотвращению и урегулированию конфликта интересов, влияет или может повлиять на надлежащее, объективное и беспристрастное исполнение им должностных (служебных) обязанностей**
- наличие завышенных требований к лицу, предъявляемых для реализации принадлежащего ему права
- противоречия, в том числе внутренние, между нормами, создающие для государственных органов, органов местного самоуправления или организаций (их должностных лиц) возможность произвольного выбора норм, подлежащих применению в конкретном случае

ЗАДАНИЕ 27. Выберите правильный вариант ответа:

В течение какого периода после увольнения с государственной службы граждане, замещавшие должности государственной гражданской службы, перечень которых устанавливается нормативными правовыми актами Российской Федерации, обязаны при заключении трудовых договоров сообщать работодателю сведения о последнем месте службы?

- в течение двух лет
- в течение 12 месяцев
- в течение пяти лет

2) открытые задания (ситуационные задачи, средний уровень сложности):

ЗАДАНИЕ 1. На экзамене студента Иванова И.В. преподаватель попросил назвать федеральный закон, который закрепляет основные принципы противодействия коррупции, правовые и организационные основы предупреждения коррупции и борьбы с ней, минимизации и (или) ликвидации последствий коррупционных правонарушений. Студент сказал, что таким актом является Федеральный закон «О государственной гражданской службе Российской Федерации». Согласны ли Вы с его ответом? (в случае отрицательного ответа, укажите правильный ответ на вопрос преподавателя).

Ответ: Нет, Федеральный закон «О противодействии коррупции».

ЗАДАНИЕ 2. Министерство юстиции России ссылаясь на то, что оно не является субъектом, который может проводить антикоррупционную экспертизу нормативных правовых актов и их проектов, не стало рассматривать проект федерального закона «Об административных процедурах». Согласны ли Вы с позиции федерального органа исполнительной власти? Обоснуйте ответ.

Ответ: Нет, поскольку согласно Федеральному закону от «Об антикоррупционной экспертизе нормативных правовых актов и проектов нормативных правовых актов» антикоррупционная экспертиза нормативных правовых актов (проектов нормативных правовых актов) проводится федеральным органом исполнительной власти в области юстиции.

ЗАДАНИЕ 3. Студент Петров на вопрос, что понимается под конфликтом интересов в Федеральном законе «О противодействии коррупции», ответил, что это ситуация, при которой личная заинтересованность (прямая или косвенная) лица, замещающего должность, замещение которой предусматривает обязанность принимать меры по предотвращению и урегулированию конфликта интересов, влияет или может повлиять на надлежащее, объективное и беспристрастное исполнение им должностных (служебных) обязанностей (осуществление полномочий). Согласны ли Вы с ответом студента? Обоснуйте ответ.

Ответ: Да, Федеральный закон «О противодействии коррупции» закрепляет понятие «конфликт интересов».

ЗАДАНИЕ 4. В действиях главного специалиста отдела кадров Иванова В.И. усматривался конфликт интересов, в связи с чем он был уволен. Правомерно ли увольнение в связи с утратой доверия при непринятии лицом, являющимся стороной конфликта интересов, мер по предотвращению или урегулированию конфликта интересов? Обоснуйте ответ.

Ответ: Да, Федеральный закон «О противодействии коррупции» закрепляет положения об увольнении (освобождении от должности) лиц, замещающих государственные должности Российской Федерации, государственные должности субъектов Российской Федерации, муниципальные должности, в связи с утратой доверия.

ЗАДАНИЕ 5. Муниципальный служащий Иванов В.И. был привлечен к административной ответственности, и к нему было применено административное наказание в виде дисквалификации. Представитель нанимателя посчитал данное обстоятельство недопустимым для дальнейшего прохождения службы и расторг трудовой договор с Ивановым В.И. Правомерно ли поступил представитель нанимателя? Обоснуйте ответ.

Ответ: Решение, принятое представителем нанимателя, является правомерным. В соответствии с Федеральным законом «О муниципальной службе в Российской Федерации» трудовой договор с муниципальным служащим может быть расторгнут в случае применения административного наказания в виде дисквалификации.

ЗАДАНИЕ 6. Руководитель управления Сидоров А.М. полагал, что за совершение коррупционного правонарушения его не привлекут к уголовной ответственности, поскольку действующим законодательством предусмотрены административная, гражданско-правовая и дисциплинарная ответственность. Согласны ли Вы с мнением должностного лица? Обоснуйте ответ.

Ответ: Нет, поскольку ФЗ "О противодействии коррупции" закрепляет, что граждане Российской Федерации, иностранные граждане и лица без гражданства за совершение коррупционных правонарушений несут уголовную, административную, гражданско-правовую и дисциплинарную ответственность в соответствии с законодательством Российской Федерации.

ЗАДАНИЕ 7. Начальник отдела департамента имущественных и земельных отношений Воронежской области Иванов И.И. женился на ведущем специалисте того же департа-

мента Петровой П.А. Могут ли после заключения брака супруги Ивановы проходить государственную службу в одном подразделении и (или) одном Департаменте? Обоснуйте ответ.

Ответ: Нет. После заключения брака супруги Сазоновы не могут проходить государственную гражданскую службу потому, что в соответствии с пунктом 5 части 1 статьи 16 Федерального закона «О государственной гражданской службе РФ» наличие близкого родства или свойства государственных гражданских служащих (родителей, супругов, братьев, сестер и др.), связанное с непосредственной их подчиненностью или подконтрольностью одному другому – есть ограничение (запрет) в дальнейшем прохождении такой службы в одном отделе или ином подразделении.

ЗАДАНИЕ 8. В ходе проверки исполнения законодательства о противодействии коррупции Россошанской межрайонной прокуратурой было установлено, что руководитель АО «Россошанский элеватор» при трудоустройстве бывшего руководителя отдела образования и молодежной политики администрации района не сообщил прежнему работодателю о заключении трудового договора с бывшим муниципальным служащим. Предусмотрена ли законодательством обязанность сообщать представителю нанимателя (работодателю) государственного и муниципального служащего по последнему месту его службы о заключении трудового или гражданско-правового договора? Обоснуйте ответ.

Ответ: Да. Согласно Федеральному закону "О противодействии коррупции" гражданин, замещавший должности государственной или муниципальной службы, перечень которых устанавливается нормативными правовыми актами Российской Федерации, в течение двух лет после увольнения с государственной или муниципальной службы обязан при заключении трудовых или гражданско-правовых договоров на выполнение работ (оказание услуг), указанных в части 1 настоящей статьи, сообщать работодателю сведения о последнем месте своей службы (ч. 2 ст. 12).

ЗАДАНИЕ 9. К государственному гражданскому служащему Иванову И.И. обратились представители коммерческой организации с просьбой совершить действия в их интересе, которые бы явились коррупционным правонарушением. Иванов И.И. отказался от совершения такого рода действия, но, при этом, не уведомил представителя нанимателя о данном обращении. В ходе служебной проверки данный факт был вскрыт, в результате чего последовало увольнение Иванова И.И. с гражданской службы. Обоснованно ли данное решение? Поясните ответ.

Ответ: Да обоснованно, так как Федеральным законом «О противодействии коррупции» установлена обязанность государственных и муниципальных служащих уведомлять об обращениях в целях склонения к совершению коррупционных правонарушений.

ЗАДАНИЕ 10. Верно ли, что при выявлении в нормативном правовом акте коррупциогенных факторов прокурор не обязан вносить требование прокурора об изменении нормативного правового акта? Обоснуйте ответ.

Ответ: Нет. Согласно Федеральному закону "О прокуратуре Российской Федерации" при выявлении в нормативном правовом акте коррупциогенных факторов прокурор вносит в орган, организацию или должностному лицу, которые издали этот акт, требование об изменении нормативного правового акта с предложением способа устранения выявленных коррупциогенных факторов либо обращается в суд в порядке, предусмотренном процессуальным законодательством Российской Федерации.

ЗАДАНИЕ 11. Помощник заместителя Председателя Верховного Суда Российской Федерации Чашкина С.С. в установленный законодательством срок не представила сведения о своих доходах и расходах, об имуществе и обязательствах имущественного характера, мотивировав такое бездействие фактом нахождения в отпуске по уходу за ребенком, за что была привлечена к дисциплинарной ответственности. Законно ли применение к Чашкиной С.С. мер дисциплинарной ответственности? Обоснуйте ответ.

Ответ: Действия Чашкиной неправомерны. Привлечение Чашкиной С.С. к дисциплинарной ответственности законно. Статья 8 Федерального закона от 25 декабря 2008 г. № 273-ФЗ «О противодействии коррупции» не содержит каких-либо исключений из установленной для служащих обязанности представлять сведения о своих доходах, а также о доходах своих супруги (супруга) и несовершеннолетних детей, нахождение в отпуске по уходу за ребенком не является основанием непредставления указанных сведений.

В случае непредставления или представления неполных или недостоверных сведений о доходах, расходах, об имуществе и обязательствах имущественного характера гражданин подлежит привлечению к дисциплинарной ответственности в порядке, предусмотренном статьями 59.1 и 59.2 Федерального закона от 27 июля 2004 г. № 79-ФЗ «О государственной гражданской службе Российской Федерации».

ЗАДАНИЕ 12. Начальнику Управления организации оценки федерального имущества Федерального агентства по управлению государственным имуществом Алымову В.В. в период командировки была преподнесена картина, которую он принял, и в последующем повесил ее в своем кабинете. Правомерно ли поступил Алымов В.В.? Обоснуйте ответ.

Ответ: Нет, неправомерно. Подарки, полученные государственным служащим в связи с протокольными мероприятиями, со служебными командировками и с другими официальными мероприятиями, признаются федеральной собственностью или собственностью субъекта РФ и подлежат сдаче в орган, в котором госслужащий проходит службу (п. 7 ч. 3 ст. 12.1 Закона от 25.12.2008 № 273-ФЗ).

ЗАДАНИЕ 13. Инспектор по особым поручениям отдела по взаимодействию с территориальными органами МВД России Исаев И.И. получил через посредника 50 тысяч рублей от заместителя начальника одного из следственных отделов МВД Воронежской области. Денежные средства были переданы за помощь в прохождении военно-врачебной комиссии в медико-санитарной части. Имеет ли место в данном случае коррупция? Обоснуйте ответ.

Ответ: Да. Действия Исаева содержат признаки преступления, предусмотренные ст. 290 УК РФ (ч.1. ст. 290 УК РФ)

ЗАДАНИЕ 14. ООО «ЛИБЕР» договаривается с депутатом Государственной Думы Российской Федерации, что он проголосует в Государственной Думе так, как это выгодно Обществу, взамен на долю в ООО «ЛИБЕР». Имеет ли место в данном случае коррупция? Обоснуйте ответ.

Ответ: Да. Коррупция – злоупотребление служебным положением, дача взятки, получение взятки, злоупотребление полномочиями, коммерческий подкуп либо иное незаконное использование физическим лицом своего должностного положения вопреки законным интересам общества и государства в целях получения выгоды в виде денег, ценностей, иного имущества или услуг имущественного характера, иных имущественных прав для себя или для третьих лиц либо незаконное предоставление такой выгоды указанному лицу другими физическими лицами. (ст. 1 ФЗ «О противодействии коррупции»).

ЗАДАНИЕ 15. Пациент районной Аннинской больницы Володин Е.Е. регулярно передает денежные средства врачу Пенкину А.А. за обслуживание вне очереди. Также Пенкин А.А. предоставляет необходимые для лечения бронхиальной астмы пациента лекарства. Имеет ли место в данном казусе коррупция? Обоснуйте ответ.

Ответ: Да. В соответствии с российским законодательством, и получение незаконного вознаграждения мед. работником, и дача взятки врачу квалифицируются как уголовные правонарушения (ст. 290, 291 УК РФ).

ЗАДАНИЕ 16. Налоговый инспектор Котова А.А. регулярно использует служебный автомобиль после рабочего дня для поездок по личным делам, не связанных с осуществлением профессиональной деятельности. Содержатся ли в действиях Котовой А.А. признаки коррупционного правонарушения? Обоснуйте ответ.

Ответ: Да. Использование служебного автомобиля в целях, не связанных со служебной деятельностью, запрещено. В соответствии со ст.1 ФЗ «О противодействии коррупции» такие действия квалифицируются как злоупотребление служебным положением и считаются проявлением коррупции.

Законами о государственной гражданской службе, о муниципальной службе установлен прямой запрет на использование в целях, не связанных с исполнением должностных обязанностей, средства материально-технического, финансового и иного обеспечения (п. 8 ст.17 ФЗ «О государственной гражданской службе»).

ЗАДАНИЕ 17. Заместителю руководителя управления физической культуры и спорта Исаеву А.А., участвовавшему в церемонии открытия спортивно-развлекательного центра, владельцем центра был вручен подарочный сертификат на услуги центра, предоставляющий право на бесплатное посещение центра в течение года. Исаев А.А. тем же вечером подарил указанный сертификат своей сестре – Баранкиной П.П. Содержатся ли в действиях Исаева А.А. признаки коррупционного правонарушения? Обоснуйте ответ.

Ответ: Да. Государственному гражданскому служащему запрещено получать в связи с исполнением должностных обязанностей вознаграждения от физических и юридических лиц (подарки, денежное вознаграждение, ссуды, услуги, оплату развлечений, отдыха, транспортных расходов и иные вознаграждения) (п. 7 ст.17 ФЗ «О государственной гражданской службе»).

ЗАДАНИЕ 18. Налоговый инспектор Котова А.А. с целью трудоустройства сына обратилась к директору ООО «ГАЗСТРОЙПРОМТОРГ» с просьбой о содействии в трудоустройстве, в результате чего сын Котовой А.А. был принят на работу. В благодарность за это, инспектор Котова А.А. по собственной инициативе сообщала главному бухгалтеру ООО «ГАЗСТРОЙПРОМТОРГ» о предстоящих проверках, помогала советами в составлении финансовой отчетности. Имеет ли место в данном казусе коррупция? Обоснуйте ответ.

Ответ: Да. В соответствии со ст.1 ФЗ «О противодействии коррупции» коррупция – это злоупотребление служебным положением, дача взятки, получение взятки, злоупотребление полномочиями, коммерческий подкуп либо иное незаконное использование физическим лицом своего должностного положения вопреки законным интересам общества и государства в целях получения выгоды в виде денег, ценностей, иного имущества или услуг имущественного характера, иных имущественных прав для себя или для третьих лиц либо незаконное предоставление такой выгоды указанному лицу другими физическими лицами; совершение указанных деяний от имени или в интересах юридического лица.

ЗАДАНИЕ 19. Пугачева А.П. передала заместителю начальника следственного изолятора Агееву А.Р. коробку шоколадных конфет стоимостью 800 рублей за организацию

встречи с мужем, содержащимся в данном изоляторе. Содержатся ли в действиях указанных лиц признаки коррупционного правонарушения? Обоснуйте ответ.

Ответ: Да. В соответствии со ст.1 ФЗ «О противодействии коррупции» коррупция – это злоупотребление служебным положением, дача взятки, получение взятки, злоупотребление полномочиями, коммерческий подкуп либо иное незаконное использование физическим лицом своего должностного положения вопреки законным интересам общества и государства в целях получения выгоды в виде денег, ценностей, иного имущества или услуг имущественного характера, иных имущественных прав для себя или для третьих лиц либо незаконное предоставление такой выгоды указанному лицу другими физическими лицами; совершение указанных деяний от имени или в интересах юридического лица.

ЗАДАНИЕ 20. Член конкурсной комиссии образовательной организации позвонил одному из исполнителей ранее выполненных государственных контрактов, чтобы сообщить информацию о том, что будет объявлен новый конкурс, и предложил данному лицу принять в нем участие. Имеет ли место в данном случае коррупция? Обоснуйте ответ.

Ответ: Нет. Само по себе информирование о предстоящем конкурсе не является проявлением коррупции.

ЗАДАНИЕ 21. Может ли государственный служащий получать подарки от своего непосредственного подчиненного? Обоснуйте ответ.

Ответ: Государственному служащему не следует принимать подарки от непосредственных подчиненных вне зависимости от их стоимости и повода дарения в соответствии с ФЗ «О государственной гражданской службе».

ЗАДАНИЕ 22. Государственный служащий участвует в осуществлении отдельных функций государственного управления в отношении организации, перед которой сам государственный служащий и/или его родственники имеют имущественные обязательства. Какие меры необходимо принять государственному служащему?

Ответ: В соответствии с действующим законодательством государственному служащему следует уведомить представителя нанимателя и непосредственного начальника о наличии личной заинтересованности в письменной форме. До урегулирования имущественного обязательства государственного служащего не следует отстранить от исполнения должностных (служебных) обязанностей в отношении организации, перед которой сам государственный служащий, его родственники или иные лица, с которыми связана личная заинтересованность государственного служащего, имеют имущественные обязательства при условии приостановления получения им доходов от соответствующей гражданско-правовой деятельности.

ЗАДАНИЕ 23. В 2020 году А. была назначена на должность заместителя начальника отдела в территориальном органе федеральной службы. В 2022 году супруг А. был назначен на должность руководителя этого территориального органа. Присутствует ли в данной ситуации конфликт интересов? Обоснуйте ответ, при необходимости укажите возможные действия государственного гражданского служащего в данной ситуации.

Ответ. Да, присутствует. Государственному служащему необходимо уведомить представителя нанимателя о наличии конфликта интересов.

ЗАДАНИЕ 24. Заместителю начальника Департамента спорта и туризма Министерства Безобразову, участвовавшему согласно протоколу в церемонии открытия спортивно-развлекательного центра, владельцем центра в числе прочих сувениров была вручена платиновая карта VIP-клиента, предоставляющая право на 90-процентную скидку на все

услуги центра. Согласно приложенной справке совокупная стоимость изготовления сувенирной продукции составляет 2 тыс. 850 руб. Безобразов той же ночью передал карту ранее не знакомой с ним Душечкиной, которая решила воспользоваться картой через два месяца, посетила указанный центр и по предъявлении карты получила скидку на сумму 32 тыс. рублей. Дайте правовую оценку действиям Безобразова.

Ответ: Безобразов должен был уведомить представителя нанимателя о полученном подарке в соответствии с действующим законодательством.

ЗАДАНИЕ 25. К гражданскому служащему Афанасьеву А.Д. обратились представители коммерческой организации с просьбой совершить действия в их интересе, которые бы явились коррупционным правонарушением. Афанасьев А.Д. отказался от совершения такого рода действия, но, при этом, не уведомил представителя нанимателя о данном обращении. В ходе служебной проверки данный факт был вскрыт, в результате чего последовало увольнение Афанасьева А.Д. с гражданской службы. Обоснованно ли данное решение? Поясните ответ.

Ответ: Да, обоснованно. Согласно ст. 9 Федерального закона «О противодействии коррупции» установлена обязанность государственных и муниципальных служащих уведомлять об обращениях в целях склонения к совершению коррупционных правонарушений.

ЗАДАНИЕ 26. Муниципальный служащий Федоров А.А. был привлечен к административной ответственности и к нему было применено административное наказание в виде дисквалификации. Представитель нанимателя посчитал данное обстоятельство недопустимым для дальнейшего прохождения службы и расторг трудовой договор с Федоровым А.А. Дайте правовую оценку принятому решению.

Ответ: Решение, принятое представителем нанимателя, является правомерным. В соответствии со статьей 19 Федерального закона «О муниципальной службе в Российской Федерации» трудовой договор с муниципальным служащим может быть расторгнут в случае применения административного наказания в виде дисквалификации.

ЗАДАНИЕ 27. К руководителю территориального управления министерства Усик М.М. обратилась Иванова И.В. с просьбой помочь получить служебную квартиру. В разговоре Иванова пообещала пригласить Усика в один из лучших ресторанов города после получения квартиры, отметить новоселье. Являются ли действия Ивановой коррупционными? Можно ли расценивать в качестве взятки приглашение в ресторан? Обоснуйте ответ.

Ответ: Да, действия Ивановой являются коррупционными. Приглашение в ресторан можно расценивать как взятка-благодарность. Усику не нужно соглашаться на предложение Ивановой пойти в ресторан.

ЗАДАНИЕ 28. Сазонов Н.А. – начальник отдела департамента субъекта женился на Матвеевой М.Г. – ведущем специалисте того же департамента. Могут ли после заключения брака супруги Сазоновы проходить государственную службу в одном подразделении и (или) одном Департаменте? Обоснуйте ответ.

Ответ: После заключения брака супруги Сазоновы не могут проходить государственную гражданскую службу потому, так как наличие близкого родства или свойства государственных гражданских служащих (родителей, супругов, братьев, сестер и др.), связанное с непосредственной их подчиненностью или подконтрольностью одного другому – есть ограничение (запрет) в дальнейшем прохождении такой службы в одном отделе или ином подразделении.

ЗАДАНИЕ 29. К сотруднице отдела кадров департамента здравоохранения субъекта РФ Звонаревой обратилась с просьбой о содействии в трудоустройстве ее давняя подруга Пустикова, поскольку департаментом был объявлен конкурс на замещение вакантной должности. Конкурс проходил в два этапа: выполнение тестового задания и собеседование. Учитывая дружеские отношения, Звонарева заранее передала Пустиковой тесты с ответами. Содержатся ли в действиях указанных лиц признаки коррупции? Обоснуйте ответ.

Ответ: Да, содержатся. В действиях Пустиковой состав правонарушения – склонение к коррупционному поведению. В действиях Звонаревой – не уведомление представителя нанимателя о наличии конфликта интересов.

ЗАДАНИЕ 30. Преподаватель кафедры деликтологии и криминологии, работающий на постоянной основе в качестве преподавателя 3 года, решил самостоятельно и за свой счет провести антикоррупционную экспертизу Федерального закона «О государственной гражданской службе Российской Федерации». Вправе ли преподаватель Юридического института осуществлять независимую антикоррупционную экспертизу? Обоснуйте ответ.

Ответ: Нет, не вправе. Антикоррупционную экспертизу проводят независимые эксперты специально аккредитованные при Министерстве юстиции РФ. Преподаватель вправе провести антикоррупционную экспертизу, если он аккредитован Министерством юстиции РФ.

1) закрытые задания (тестовые, средний уровень сложности):

- 1 балл – указан верный ответ;
- 0 баллов – указан неверный ответ, в том числе частично.

2) открытые задания (ситуационные задачи, средний уровень сложности):

- 5 баллов – задание выполнено верно (получен правильный ответ, обоснован (аргументирован) ход выполнения (при необходимости));
- 2 балла – выполнение задания содержит незначительные ошибки, но приведен правильный ход рассуждений, или получен верный ответ, но отсутствует обоснование хода его выполнения (если оно было необходимым), или задание выполнено не полностью, но получены промежуточные (частичные) результаты, отражающие правильность хода выполнения задания, или, в случае если задание состоит из выполнения нескольких подзаданий, 50% которых выполнено верно;
- 0 баллов – задание не выполнено или выполнено неверно (ход выполнения ошибочен или содержит грубые ошибки, значительно влияющие на дальнейшее его изучение).

ОПК-1. Способен применять фундаментальные знания, полученные в области математических и (или) естественных наук, и использовать их в профессиональной деятельности

Период окончания формирования компетенции: 7 семестр

Перечень дисциплин (модулей), практик, участвующих в формировании компетенции:

Дисциплины (модули):

Б1.О.11 Математический анализ (1, 2, 3 семестры)

Б1.О.12 Алгебра (1, 2 семестры)

Б1.О.13 Аналитическая геометрия и основы линейной алгебры (1 семестр)

Б1.О.14 Дискретная математика (1, 2 семестры)

Б1.О.15 Теория вероятностей (3 семестр)

Б1.О.16 Математическая статистика (4 семестр)

Б1.О.17 Комплексный анализ (4 семестр)

Б1.О.18 Функциональный анализ (4 семестр)

Б1.О.19 Дифференциальные уравнения (3, 4 семестры)

Б1.О.20 Математическое и компьютерное моделирование (6 семестр)

Б1.О.22 Численные методы (5, 6 семестры)

Б1.О.23 Методы оптимизации (5, 6 семестры)

Б1.О.24 Информатика и программирование (1, 2 семестры)

Б1.О.33 Физика (7 семестр)

Б2.О.01(У) Учебная практика (ознакомительная) (2 семестр)

Б1.О.11 Математический анализ

1) закрытые задания (тестовые, средний уровень сложности):

ЗАДАНИЕ 1.1. Укажите названия, соответствующие описаниям числовых множеств:

- $\left\{\frac{a}{b} \mid a - \text{целое}, b - \text{натуральное}\right\}$
- $\{0; \pm 2; \pm 4; \dots\}$
- $\{0; \pm 1; \pm 2; \dots\}$
- $\{1; 2; 3; \dots\}$

Варианты для выбора:

- множество рациональных чисел
- множество четных чисел
- множество целых чисел
- множество натуральных чисел

* варианты для выбора приведены в порядке вышеуказанных множеств.

ЗАДАНИЕ 1.2. Установите соответствие между описаниями операций над множествами и названиями операций:

- Множество, состоящее из всех тех элементов, каждый из которых принадлежит хотя бы одному из множеств A и B
- Множество, состоящее из тех элементов, каждый из которых принадлежит как множеству A , так и множеству B
- Множество, состоящее из всех тех элементов, которые принадлежат множеству A , но не принадлежат множеству B

Варианты для выбора:

- объединение (сумма) множеств A и B
- пересечение множеств A и B
- разность множеств A и B

* варианты для выбора приведены в порядке вышеуказанных определений.

ЗАДАНИЕ 1.3. Установите соответствие между обозначениями и наименованиями логических символов:

- \exists
- \Rightarrow
- \wedge
- \vee
- \Leftrightarrow
- \forall

– \neg

Варианты для выбора:

- квантор существования
- импликация
- конъюнкция
- дизъюнкция
- эквивалентность
- квантор общности
- отрицание (инверсия)

* варианты для выбора приведены в порядке вышеуказанных символов.

ЗАДАНИЕ 1.4. Выберите верный ответ

Если выполнено утверждение

$$\exists(m \in \mathbb{R})\forall(x \in X)[x \geq m]$$

множество X является

- полным
- **ограниченным снизу**
- монотонным
- конечным

ЗАДАНИЕ 1.5. Выберите ограниченные снизу множества

- \mathbb{N}
- \mathbb{Z}
- $\{x | (x \in \mathbb{R}) \wedge (\sin x = 1)\}$
- $\{x | (x \in \mathbb{R}) \wedge (x > 153)\}$
- \mathbb{R}
- $\{x | (x \in \mathbb{R}) \wedge (x : 2)\}$

ЗАДАНИЕ 1.6. Установите соответствие между наименованиями и описаниями числовых промежутков:

- $\{x | (x \in \mathbb{R}) \wedge (a < x \leq b)\}$
- $\{x | (x \in \mathbb{R}) \wedge (a < x < b)\}$
- $\{x | (x \in \mathbb{R}) \wedge (x \geq a)\}$

Варианты для выбора:

- полуинтервал
- интервал
- полупрямая

* варианты для выбора приведены в порядке вышеуказанных промежутков.

ЗАДАНИЕ 1.7. Выберите верный ответ

Если выполнено условие

$$\forall(M | (M \in \mathbb{R}) \wedge (M > 0))\exists(n_0 \in \mathbb{N})\forall(n | (n \in \mathbb{N}) \wedge (n \geq n_0))[|x_n| > M]$$

числовая последовательность $\{x_n\}$ называется

- знакопеременной
- **бесконечно большой**
- предельной
- сходящейся

ЗАДАНИЕ 1.8. Выберите верный ответ

Если выполнено условие

$$\exists(M \in \mathbb{R})\forall(i \in \mathbb{N})[x_i \leq M]$$

числовая последовательность $\{x_n\}$ называется

- предельной
- сходящейся
- монотонной
- **ограниченной сверху**

ЗАДАНИЕ 1.9. Выберите сходящиеся последовательности

- $\left\{\frac{(-1)^n}{n+2}\right\}_{n=1}^{\infty}$
- $\{(-1)^n \cdot n\}_{n=1}^{\infty}$
- $\{(-1)^n\}_{n=1}^{\infty}$
- $\left\{\frac{(-1)^n \cdot n^3}{n+2}\right\}_{n=1}^{\infty}$
- $\left\{\frac{1}{n}\right\}_{n=1}^{\infty}$

ЗАДАНИЕ 1.10. Выберите ограниченные последовательности

- $\left\{\frac{(-1)^n}{n+2}\right\}_{n=1}^{\infty}$
- $\{(-1)^n \cdot n\}_{n=1}^{\infty}$
- $\{(-1)^n\}_{n=1}^{\infty}$
- $\left\{\frac{(-1)^n \cdot n^3}{n+2}\right\}_{n=1}^{\infty}$
- $\left\{\frac{1}{n}\right\}_{n=1}^{\infty}$

ЗАДАНИЕ 1.11. Выберите верный ответ

Для того, чтобы возрастающая числовая последовательность сходилась, необходимо и достаточно, чтобы она была

- ограничена снизу
- **ограничена сверху**
- конечна
- монотонна

ЗАДАНИЕ 1.12. Выберите верный ответ

Функция $\alpha(x)$ имеет в точке a более высокий порядок малости, чем функция $\beta(x)$, если

- $\lim_{x \rightarrow a} \frac{\beta(x)}{\alpha(x)} = 5$
- **$\lim_{x \rightarrow a} \frac{\alpha(x)}{\beta(x)} = 0$**
- $\lim_{x \rightarrow a} \frac{\alpha(x)}{\beta(x)} = 1$
- $\lim_{x \rightarrow a} \frac{\beta(x)}{\alpha(x)} = 0$

ЗАДАНИЕ 1.13. Установите соответствие между определениями и наименованиями типов пределов функции (по Гейне):

- $\forall \left\{x_n\right\}_{n \rightarrow \infty} x_n = a, x_n < a \left[\left\{f(x_n)\right\}; \lim_{n \rightarrow \infty} f(x_n) = b \right]$
- $\forall \left\{x_n\right\}_{n \rightarrow \infty} x_n = a, x_n > a \left[\left\{f(x_n)\right\}; \lim_{n \rightarrow \infty} f(x_n) = b \right]$
- $\forall \left\{x_n\right\}_{n \rightarrow \infty} x_n = a, x_n \neq a \left[\left\{f(x_n)\right\}; \lim_{n \rightarrow \infty} f(x_n) = b \right]$

Варианты для выбора:

- предел функции слева от точки
- предел функции справа от точки
- предел функции в точке

* варианты для выбора приведены в порядке вышеуказанных определений.

ЗАДАНИЕ 1.14. Установите соответствие между определениями и наименованиями типов пределов функции (по Коши):

- $\forall(\varepsilon > 0) \exists(\delta = \delta(\varepsilon) > 0) \forall(x: a < x < a + \delta)[|f(x) - b| < \varepsilon]$
- $\forall(\varepsilon > 0) \exists(\delta = \delta(\varepsilon) > 0) \forall(x: x > \delta)[|f(x) - b| < \varepsilon]$
- $\forall(\varepsilon > 0) \exists(\delta = \delta(\varepsilon) > 0) \forall(x: 0 < |x - a| < \delta)[|f(x) - b| < \varepsilon]$

Варианты для выбора:

- предел функции справа от точки
- предел функции на бесконечности
- предел функции в точке

* варианты для выбора приведены в порядке вышеуказанных определений.

ЗАДАНИЕ 1.15. Выберите верный ответ

$$\lim_{x \rightarrow 0} \frac{\sin x}{x} = \dots$$

- **1**
- 0
- не существует
- π

ЗАДАНИЕ 1.16. Выберите верный ответ

Функция $f(x)$ называется непрерывной в точке a , если для любой сходящейся к пределу a последовательности $\{x_n\}$ значений ее аргументов соответствующая последовательность значений функции $\{f(x_n)\}$ сходится к ...

- **$f(a)$**
- 0
- $f(0)$
- a

ЗАДАНИЕ 1.17. Выберите верный ответ

Функция $f(x)$ называется ... на множестве X если

$$\forall(x_1, x_2 \in X: x_1 < x_2)[f(x_1) < f(x_2)]$$

- непрерывной
- ограниченной сверху
- сходящейся
- **возрастающей**

ЗАДАНИЕ 1.18. Выберите строго убывающие функции на заданных множествах:

- $f(x) = \sin x$ на $[-\pi; \pi]$
- **$f(x) = x^2$ на $(-\infty; -2]$**
- $f(x) = -1$ на \mathbb{R}
- **$f(x) = \frac{1}{x}$ на $(-\infty; 0)$**
- $f(x) = x$ на \mathbb{R}

ЗАДАНИЕ 1.19. Выберите ограниченные снизу функции на заданных множествах:

- **$f(x) = \sin x$ на $[-\pi; \pi]$**
- **$f(x) = x^2$ на $(-\infty; -2]$**
- **$f(x) = -1$ на \mathbb{R}**
- $f(x) = \frac{1}{x}$ на $(-\infty; 0)$
- $f(x) = x$ на \mathbb{R}

ЗАДАНИЕ 1.20. Выберите верный ответ

Пусть функция f имеет производную в точке x_0 , а функция g имеет производную в точке $y_0 = f(x_0)$. Тогда существует $(g(f(x_0)))'$ и $(g(f(x_0)))' = \dots$

- $g'(f(x_0)) \cdot f(x_0)$
- $\frac{g'(f(x_0))}{f'(x_0)}$
- $g'(f(x_0)) \cdot f'(x_0)$
- $g'(f(x_0)) + f'(x_0)$

ЗАДАНИЕ 1.21. Выберите верный ответ

Функция $f(x)$ называется ... на множестве X , если

$$\exists(M \in \mathbb{R}) \forall(x \in X)[f(x) \leq M]$$

- сходящейся
- монотонной
- **ограниченной сверху**
- непрерывной

ЗАДАНИЕ 1.22. Установите соответствие между описаниями и наименованиями точек разрыва функции:

- Если хотя бы один из двух односторонних пределов функции $f(x)$ в точке a либо не существует, либо равен бесконечности, то точка a называется точкой ... функции $f(x)$

- Если конечный предел функции $f(x)$ в точке a существует ($\lim_{x \rightarrow a-0} f(x) = \lim_{x \rightarrow a+0} f(x) = \lim_{x \rightarrow a} f(x)$), но не равен ее значению $f(a)$, то точка a называется точкой ... функции $f(x)$

- Если конечные пределы функции $f(x)$ в точке a справа и слева существуют и $\lim_{x \rightarrow a-0} f(x) \neq \lim_{x \rightarrow a+0} f(x)$, то точка a называется точкой ... функции $f(x)$

Варианты для выбора:

- разрыва 2-го рода
- устранимого разрыва
- разрыва 1-го рода

* варианты для выбора приведены в порядке вышеуказанных определений.

ЗАДАНИЕ 1.23. Установите соответствие между функциями и их производными:

- $-\frac{1}{\sqrt{1-x^2}}$
- $\frac{1}{1+x^2}$
- $-\cos x$
- $-\sin x$
- $\frac{1}{\cos^2 x}$
- $-\frac{1}{\sin^2 x}$
- $\frac{1}{x}$

Варианты для выбора:

- $(\arccos x)'$
- $(\operatorname{arctg} x)'$
- $(-\sin x)'$
- $(\cos x)'$
- $(\operatorname{tg} x)'$
- $(\operatorname{ctg} x)'$
- $(\ln x)'$

* варианты для выбора приведены в порядке вышеуказанных функций.

ЗАДАНИЕ 1.24. Выберите верный ответ

Если $F(x)$ – первообразная функции $f(x)$ на промежутке X , то функция \dots , где C – произвольная постоянная, также является первообразной функции $f(x)$ на промежутке X .

- $F(x) + C$
- $\frac{F(x)}{C}$
- $\frac{C}{F(x)}$
- $F(x) \cdot C$

ЗАДАНИЕ 1.25. Выберите верный ответ

Операция нахождения неопределенного интеграла называется ...

- дифференцированием
- интегрализацией
- **интегрированием**
- аппроксимацией

ЗАДАНИЕ 1.26. Выберите правильный вариант ответа:

Пусть функция $f(x)$ определена на отрезке $[a; b]$ ($a < b$). Рассмотрим разбиение (T, ξ) этого отрезка диаметра $d(T)$ с отмеченными точками $(T = \{x_0, x_1, \dots, x_{n-1}, x_n\})$ такое, что $a = x_0 < x_1 < \dots < x_{n-1} < x_n = b$; $\Delta x_i = x_i - x_{i-1}$, $i = 1; 2; \dots; n$) и соответствующую интегральную сумму Римана функции $f(x)$

$$S(f, (T, \xi)) = \sum_{i=1}^n f(\xi_i) \Delta x_i.$$

Функция $f(x)$ называется интегрируемой по Риману на $[a; b]$, если

- $\exists(J) \forall(\varepsilon > 0) \exists(\delta > 0) \forall((T, \xi): d(T) < \delta) [|S(f, (T, \xi)) - J| < \varepsilon]$
- $\forall(c \in (a; b)) \forall(J) \exists(\varepsilon > 0) \forall(\delta > 0) \exists(x: |x - c| < \delta) [|f(x) - J| < \varepsilon]$
- $\exists(c \in (a; b)) \exists(J) \forall(\varepsilon > 0) \exists(\delta > 0) \forall(x: 0 < |x - c| < \delta) [|f(x) - J| < \varepsilon]$
- $\forall(J) \exists(\varepsilon > 0) \forall(\delta > 0) \exists((T, \xi): d(T) < \delta) [|S(f, (T, \xi)) - J| < \varepsilon]$

ЗАДАНИЕ 1.27. Выберите правильный вариант ответа:

Если функция $f(x)$ интегрируема на $[a; b]$ по Риману, то она ... на $[a; b]$.

- сохраняет свой знак
- **ограничена**
- монотонна
- дифференцируема

ЗАДАНИЕ 1.28. Поставьте в соответствие формулировкам названия утверждений:

Пусть функция $f(x)$ определена и ограничена на отрезке $[a; b]$.

- $f(x)$ – интегрируемая по Риману на отрезке $[a; b]$ функция тогда и только тогда, когда $\bar{J} = \underline{J}$
- $f(x)$ – интегрируемая по Риману на отрезке $[a; b]$ функция тогда и только тогда, когда $\forall(\varepsilon > 0) \exists(\delta > 0) \forall((T', \xi'), (T'', \xi'')): d(T') < \delta, d(T'') < \delta) [|S(f, (T', \xi')) - S(f, (T'', \xi''))| < \varepsilon]$
- $f(x)$ – интегрируемая по Риману на отрезке $[a; b]$ функция тогда и только тогда, когда $\forall(\varepsilon > 0) \exists(\delta > 0) \forall((T, \xi): d(T) < \delta,) [\sum_{i=1}^n \omega_i \Delta x_i < \varepsilon]$

Варианты для выбора:

- критерий Дарбу интегрируемости функции
- критерий Коши интегрируемости функции
- критерий Римана интегрируемости функции

* варианты для выбора приведены в порядке вышеуказанных утверждений.

ЗАДАНИЕ 1.29. Выберите правильный вариант ответа:

Теорема о среднем значении. Пусть функции $f(x)$ и $\varphi(x)$ определены и интегрируемы на отрезке $[a; b]$, на котором функция $\varphi(x) \dots$. Тогда при некотором $\mu \in [m; M]$, где $m = \inf_{x \in [a; b]} f(x)$, $M = \sup_{x \in [a; b]} f(x)$, имеет место равенство

$$\int_a^b (\varphi f)(x) dx = \mu \int_a^b \varphi(x) dx.$$

- дифференцируема
- **сохраняет свой знак**
- ограничена
- монотонна

ЗАДАНИЕ 1.30. Выберите правильный ответ:

Непрерывную функцию $F(x)$ называют ... на отрезке $[a; b]$, если функция $F(x)$ имеет во всех точках отрезка $[a; b]$, за исключением конечного множества $X \subset [a; b]$, производную, причем в этих точках $F'(x) = f(x)$.

- квадратируемой
- интегрируемой
- **обобщенной первообразной функции $f(x)$**
- монотонной

ЗАДАНИЕ 1.31. Выберите правильный вариант ответа:

Пусть функции $u(x)$ и $v(x)$ непрерывны и дифференцируемы на отрезке $[a; b]$, то справедливо равенство:

- $\int_a^b u'(x)v'(x) dx = (u(x)v'(x))|_a^b + \int_a^b u(x)v''(x) dx$
- $\int_a^b u(x)v'(x) dx = (u(x)v(x))|_a^b - \int_a^b u'(x)v(x) dx$
- $\int_a^b u(x)v(x) dx = -(u(x)v(x))|_a^b + \int_a^b u'(x)v'(x) dx$
- $\int_a^b u(x)v'(x) dx = (u(x)v(x))|_a^b - \int_a^b u(x)v''(x) dx$
- $\int_a^b u(x)v'(x) dx = (u'(x)v(x))|_a^b - \int_a^b u''(x)v(x) dx$
- $\int_a^b u(x)v'(x) dx = (u(x)v'(x))|_a^b + \int_a^b u'(x)v(x) dx$

ЗАДАНИЕ 1.32. Выберите правильный вариант ответа:

Если кривая, задаваемая уравнением $y = f(x)$ при $x \in [a; b]$, является гладкой, то она спрямляема и ее длина l определяется равенством:

- $l = \int_0^{2\pi} f'(x) dx$
- $l = \int_a^b \sqrt{1 + (f'(x))^2} dx$
- $l = \pi \int_a^b f^2(x) dx$
- $l = \int_a^b f(x) dx$

ЗАДАНИЕ 1.33. Выберите правильный вариант ответа:

Если функция $f(x)$ неотрицательна на $[a; b]$, то для сходимости несобственного интеграла $\int_a^b f(x) dx$ необходимо и достаточно, чтобы все интегралы $\int_a^c f(x) dx$, $a \leq c < b$ были ...

- монотонными на $[a; b]$
- интегрируемы
- определены
- **ограниченными по совокупности**

ЗАДАНИЕ 1.34. Выберите правильный вариант ответа:

Если $f(x) \leq g(x)$ для всех $x \in [a; b]$, то говорят, что функция $g(x)$... функцию $f(x)$.

- квадратирует
- дифференцирует
- **мажорирует**
- определяет

ЗАДАНИЕ 1.35. Установите соответствие между наименованиями и формулировками утверждений:

- Для сходимости несобственного интеграла $\int_a^b f(x)dx$ необходимо и достаточно, чтобы $\forall(\varepsilon > 0)\exists(c: a \leq c < b)\forall(c', c'': c < c' < b, c < c'' < b)[|\int_{c'}^{c''} f(x)dx| < \varepsilon]$

- Для того, чтобы несобственный интеграл $\int_a^b f(x)dx$ абсолютно сходился необходимо и достаточно, чтобы $\forall(\varepsilon > 0)\exists(c = c(\varepsilon): a \leq c < b)\forall(c', c'': c < c' < b, c < c'' < b)[|\int_{c'}^{c''} |f(x)|dx| < \varepsilon]$

- Если несобственные интегралы $\int_a^{+\infty} f(x)dx$ и $\int_a^{+\infty} g(x)dx$ сходятся, то для любых чисел α и β сходится и несобственный интеграл $\int_a^{+\infty} (\alpha f(x) + \beta g(x))dx$, причем $\int_a^{+\infty} (\alpha f(x) + \beta g(x))dx = \alpha \int_a^{+\infty} f(x)dx + \beta \int_a^{+\infty} g(x)dx$

- Пусть функции $f(x)$ и $g(x)$ определены и неотрицательны на $[a; b)$, при всех $x \in [a; b)$ справедливо неравенство $f(x) \leq g(x)$, и существует конечный предел $\lim_{x \rightarrow b} \frac{f(x)}{g(x)}$. Тогда если интеграл $\int_a^b g(x)dx$ сходится, то и сходится интеграл $\int_a^b f(x)dx$, и если интеграл $\int_a^b f(x)dx$ расходится, то расходится и интеграл $\int_a^b g(x)dx$.

Варианты для выбора:

- критерий Коши сходимости несобственного интеграла
- критерий Коши абсолютной сходимости несобственного интеграла
- свойство линейности несобственных интегралов
- признак сравнения

* варианты для выбора приведены в порядке вышеуказанных утверждений.

ЗАДАНИЕ 1.36. Укажите характер сходимости геометрического ряда:

Геометрический ряд (ряд составленный из членов геометрической прогрессии) $1 + q + q^2 + \dots + q^{k-1} + \dots = \sum_{k=1}^{\infty} q^{k-1}$:

- при $q = 0$
- при $|q| = 1$
- при $|q| > 1$
- при $|q| < 1$

Варианты для выбора:

- сходится
- расходится
- расходится
- сходится

* варианты для выбора приведены в порядке вышеуказанных промежутков.

ЗАДАНИЕ 1.37. Выберите правильный вариант ответа (знак):

Пусть $\sum_{k=1}^{\infty} p_k$ и $\sum_{k=1}^{\infty} p'_k$ – два ряда с неотрицательными членами, и пусть для всех номеров k справедливо: $p_k \dots p'_k$. Тогда сходимость ряда $\sum_{k=1}^{\infty} p'_k$ влечет за собой сходимость ряда $\sum_{k=1}^{\infty} p_k$, а расходимость ряда $\sum_{k=1}^{\infty} p_k$ влечет за собой расходимость ряда $\sum_{k=1}^{\infty} p'_k$

- \geq
- \leq
- $>$
- $<$

– =

ЗАДАНИЕ 1.38. Поставьте в соответствие значения константы характеру сходимости ряда:

Если $\sum_{k=1}^{\infty} p_k$ (1) – ряд с неотрицательными членами, а $\sum_{k=1}^{\infty} p'_k$ (2) – ряд со строго положительными членами, и существует $\lim_{k \rightarrow \infty} \frac{p_k}{p'_k} = C$, то

- если $0 < C < \infty$
- если $C = +\infty$
- если $C = 0$

Варианты для выбора:

- сходимость (расходимость) ряда (1) эквивалентна сходимости (расходимости) ряда (2)
- сходимость ряда (1) влечет за собой сходимость ряда (2)
- сходимость ряда (2) влечет за собой сходимость ряда (1)

* варианты для выбора приведены в порядке вышеуказанных значениями.

ЗАДАНИЕ 1.39. Выберите правильный вариант ответа (знак):

Пусть $\sum_{k=1}^{\infty} p_k$ и $\sum_{k=1}^{\infty} p'_k$ – два ряда со строго положительными членами, и пусть для всех номеров k справедливо: $\frac{p_{k+1}}{p_k} \dots \frac{p'_{k+1}}{p'_k}$. Тогда сходимость ряда $\sum_{k=1}^{\infty} p'_k$ влечет за собой сходимость ряда $\sum_{k=1}^{\infty} p_k$, а расходимость ряда $\sum_{k=1}^{\infty} p_k$ влечет за собой расходимость ряда $\sum_{k=1}^{\infty} p'_k$

- \geq
- $>$
- \leq
- $=$
- $<$

ЗАДАНИЕ 1.40. Установите соответствие между наименованиями и формулировками утверждений:

– Если функция $f(x)$, определенная при всех $x \geq 1$, неотрицательная и убывает, то ряд $\sum_{k=1}^{\infty} f(k)$ сходится тогда и только тогда, когда сходится интеграл $\int_1^{+\infty} f(x) dx$

– Пусть дан ряд $\sum_{k=1}^{\infty} p_k$ со строго положительными членами. Если для всех k (или, по крайней мере, начиная с некоторого номера k_0) справедливо неравенство $\frac{p_{k+1}}{p_k} \leq q < 1$ ($\frac{p_{k+1}}{p_k} \geq 1$), то ряд $\sum_{k=1}^{\infty} p_k$ сходится (расходится)

– Пусть дан ряд $\sum_{k=1}^{\infty} p_k$ со строго положительными членами. Если для всех k (или, по крайней мере, начиная с некоторого номера k_0) справедливо неравенство $\sqrt[k]{p_k} \leq q < 1$ ($\sqrt[k]{p_k} \geq 1$), то ряд $\sum_{k=1}^{\infty} p_k$ сходится (расходится)

Варианты для выбора:

- интегральный признак
- признак Даламбера
- признак Коши

* варианты для выбора приведены в порядке вышеуказанных утверждений.

ЗАДАНИЕ 1.41. Поставьте в соответствие значения константы характеру сходимости ряда:

Пусть дан ряд $\sum_{k=1}^{\infty} p_k$ со строго положительными членами. Если существует предел $\lim_{k \rightarrow \infty} \frac{p_{k+1}}{p_k} = C$, то ряд $\sum_{k=1}^{\infty} p_k$

- если $C = 0$
- если $C < 1$

- если $C > 1$

Варианты для выбора:

- сходится
- сходится
- расходится

* варианты для выбора приведены в порядке вышеуказанных промежутков.

ЗАДАНИЕ 1.42. Поставьте в соответствие значения константы характеру сходимости ряда:

Пусть дан ряд $\sum_{k=1}^{\infty} p_k$ со строго положительными членами. Если существует предел $\lim_{k \rightarrow \infty} \sqrt[k]{p_k} = C$, то ряд $\sum_{k=1}^{\infty} p_k$

- если $C > 1$
- если $C < 1$
- если $C = 0$

Варианты для выбора:

- расходится
- сходится
- сходится

* варианты для выбора приведены в порядке вышеуказанных промежутков.

ЗАДАНИЕ 1.43. Выберите правильный вариант ответа:

Ряд $\sum_{k=1}^{\infty} u_k$ называется абсолютно сходящимся, если сходится ряд ...

- $\sum_{k=1}^{\infty} (-u_k)^k$
- $\sum_{k=1}^{\infty} (-1)^{u_k}$
- $\sum_{k=1}^{\infty} \frac{1}{u_k}$
- $\sum_{k=1}^{\infty} |u_k|$

ЗАДАНИЕ 1.44. Выберите правильный вариант ответа:

Пусть дан ряд $\sum_{k=1}^{\infty} u_k$

- из обычной сходимости ряда следует его абсолютная сходимость
- понятия абсолютной сходимости и обычной сходимости эквивалентны
- **из абсолютной сходимости ряда следует его обычная сходимость**

ЗАДАНИЕ 1.45. Выберите правильный вариант ответа:

Если модули членов знакопеременующегося ряда $\sum_{k=1}^{\infty} (-1)^{k-1} p_k$, где все $p_k > 0$, образуют ... бесконечно малую последовательность, то этот ряд сходится.

- постоянную
- **невозрастающую/убывающую**
- неубывающую/возрастающую

ЗАДАНИЕ 1.46. Выберите правильный вариант ответа:

Ряд $\sum_{k=1}^{\infty} \frac{(-1)^{k-1}}{k}$

- **условно сходится**
- абсолютно сходится
- расходится

ЗАДАНИЕ 1.47. Установите соответствие между наименованиями и описаниями характеристик функциональной последовательности $\{f_n(x)\}$ на множестве X :

- $\forall (n \in \mathbb{N}) \forall (x \in X) [f_n(x) > f_{n+1}(x)]$

- $\forall(\varepsilon > 0)\exists(n_0 = n_0(\varepsilon) \in \mathbb{N})\forall(n \in \mathbb{N}: n \geq n_0)\forall(x \in X)[|f_n(x) - f(x)| < \varepsilon]$
- $\exists(M > 0)\forall(n \in \mathbb{N})\forall(x \in X)[|f_n(x)| \leq M]$
- $\forall(x \in X)\forall(\varepsilon > 0)\exists(n_0 = n_0(\varepsilon, x) \in \mathbb{N})\forall(n \in \mathbb{N}: n \geq n_0)[|f_n(x) - f(x)| < \varepsilon]$

Варианты для выбора:

- убывающая
- равномерно сходящаяся
- ограниченная
- сходящаяся

* варианты для выбора приведены в порядке вышеуказанных описаний.

ЗАДАНИЕ 1.48. Выберите правильный вариант ответа:

Последовательность $\{f_n(x)\}$ функций, определенных на множестве X , равномерно сходится на этом множестве к функции $f(x)$ в том и только в том случае, когда

$$\lim_{n \rightarrow \infty} \sup_X |f_n(x) - f(x)| = \dots$$

- 1
- 0
- ∞
- не существует

ЗАДАНИЕ 1.49. Выберите правильный вариант ответа (знак):

Для любых трех точек M', M'' и M''' N -мерного евклидова пространства справедливо соотношение $\rho(M', M''') \dots \rho(M', M'') + \rho(M'', M''')$.

- \leq
- \geq
- $=$

ЗАДАНИЕ 1.50. Выберите правильный вариант ответа:

Последовательность $\{M_n\}$ точек N -мерного евклидова пространства R^N называется ..., если $\forall(\varepsilon > 0)\exists(n_0 \in \mathbb{N})\forall(n, p \in \mathbb{N}: n \geq n_0)[\rho(M_{n+p}, M_n) < \varepsilon]$.

- убывающей
- фундаментальной (последовательностью Коши)
- подпоследовательностью последовательности $\{1; 2; \dots; n; \dots\}$
- конечной

ЗАДАНИЕ 1.51. Выберите правильный вариант ответа:

Пусть на плоскости Oxy задача спрямляемая кривая $L = AB$ без точек самопересечения и участков самоналягания, параметризуемая при помощи уравнений $x = \varphi(t)$, $y = \psi(t)$, $a \leq t \leq b$.

Пусть функция $f(x, y)$ определена и непрерывна вдоль кривой $L = AB$. Разобьем отрезок $[a; b]$ на n частичных отрезков точками $a = t_0 < t_1 < t_2 < \dots < t_n = b$. Каждому значению t_k соответствует точка $M_k(x_k, y_k) \in L$, где $x_k = \varphi(t_k)$, $y_k = \psi(t_k)$. Поэтому указанному разбиению кривой L на частичные дуги $M_0M_1, M_1M_2, \dots, M_{n-1}M_n$. Выберем на каждой частичной дуге любую точку $M_k(\xi_k, \eta_k) \in M_{k-1}M_k$. Тогда существует значение $\tau_k \in [t_{k-1}, t_k]$ такое, что $\xi_k = \varphi(\tau_k)$, $\eta_k = \psi(\tau_k)$. Обозначим $\Delta t_k = t_{k-1} - t_k$, $\Delta x_k = x_{k-1} - x_k$, $\Delta y_k = y_{k-1} - y_k$, Δl_k – длина частичной дуги $M_{k-1}M_k$.

Криволинейным интегралом 1-го рода от функции $f(x, y)$ по дуге $L = AB$ называется предел интегральной суммы σ при стремлении к нулю длины наибольшей частичной дуги Δl_k , где $\sigma = \dots$

- $\sum_{i=1}^n f(\xi_k, \eta_k) \Delta x_k + \sum_{i=1}^n f(\xi_k, \eta_k) \Delta y_k$
- $\sum_{i=1}^n f(\xi_k, \eta_k) \Delta l_k$
- $\sum_{i=1}^n f(\xi_k, \eta_k) \Delta x_k$

$$- \sum_{i=1}^n f(\xi_k, \eta_k) \Delta y_k$$

ЗАДАНИЕ 1.52. Выберите правильный вариант ответа:
Если множество измеримо по Жордану, то оно

- конечно
- **ограничено**
- счетно
- неограниченно

ЗАДАНИЕ 1.53. Выберите правильный вариант ответа:
Если множество ограничено, то его верхняя и нижняя меры

- бесконечны
- **конечны**
- отрицательны
- равны

ЗАДАНИЕ 1.54. Выберите правильный вариант ответа:
Прямоугольник $R = [a \leq x \leq b] \times [c \leq y \leq d]$ разбит на np частичных прямоугольников $R_{kl} = [x_{k-1} \leq x \leq x_k] \times [y_{l-1} \leq y \leq y_l]$, $k = 1; 2; \dots; n$, $l = 1; 2; \dots; p$. Величина равная ... называется диаметром разбиения.

- среднему арифметическому диаметров всех частичных прямоугольников R_{kl}
- сумме диаметров всех частичных прямоугольников R_{kl}
- среднему геометрическому диаметров всех частичных прямоугольников R_{kl}
- наименьшему из диаметров всех частичных прямоугольников R_{kl}
- наибольшему из диаметров всех частичных прямоугольников R_{kl}

ЗАДАНИЕ 1.55. Выберите правильный вариант ответа:
Функция $f(x, y)$ определена на прямоугольнике $R = [a \leq x \leq b] \times [c \leq y \leq d]$, который разбит на np частичных прямоугольников $R_{kl} = [x_{k-1} \leq x \leq x_k] \times [y_{l-1} \leq y \leq y_l]$, $k = 1; 2; \dots; n$, $l = 1; 2; \dots; p$. На каждом частичном прямоугольнике R_{kl} выбрана произвольная точка (ξ_k, η_l) и составлена интегральная сумма $\sigma = \sum_{k=1}^n \sum_{l=1}^p f(\xi_k, \eta_l) \Delta R_{kl}$, где $\Delta R_{kl} = \Delta x_k \cdot \Delta y_l$, $\Delta x_k = x_k - x_{k-1}$, $\Delta y_l = y_l - y_{l-1}$. Функция $f(x, y)$ называется ... на прямоугольнике R , если для этой функции существует на прямоугольнике R конечный предел I ее интегральных сумм σ при стремлении к нулю диаметра разбиения прямоугольника R .

- дифференцируемой
- монотонной
- **интегрируемой**
- непрерывной

ЗАДАНИЕ 1.56. Выберите правильный вариант ответа (знак):
Если обе функции $f(x, y)$ и $g(x, y)$ интегрируемы в области D и всюду в этой области $f(x, y) \leq g(x, y)$, то $\iint_D f(x, y) dx dy \dots \iint_D g(x, y) dx dy$.

- \leq
- \geq
- $=$

ЗАДАНИЕ 1.57. Выберите правильный вариант ответа:
Если функция $f(x, y)$ интегрируема в области D и если область D при помощи кривой Γ площади нуль разбивается на две не имеющие общих внутренних точек области D_1 и D_2 , причем $\iint_D f(x, y) dx dy = \dots$.

- $\iint_{D_1} f(x, y) dx dy \cdot \iint_{D_2} f(x, y) dx dy$

- $\iint_{D_1} f(x, y) dx dy + \iint_{D_2} f(x, y) dx dy$
- $\iint_{D_1} f(x, y) dx dy - \iint_{D_2} f(x, y) dx dy$
- $\iint_{D_1 \cap D_2} f(x, y) dx dy$

ЗАДАНИЕ 1.58. Выберите правильный вариант ответа:

Если преобразование $x = \varphi(\xi, \eta)$, $y = \psi(\xi, \eta)$ переводят область D' в область D и являются взаимно однозначными, и если функции $\varphi(\xi, \eta)$ и $\psi(\xi, \eta)$ имеют в области D' непрерывные частные производные первого порядка и отличный от нуля Вронскиан, то для двойного интеграла $\iint_D f(x, y) dx dy$ справедлива следующая формула замены перемен-

ной $\iint_D f(x, y) dx dy = \dots$

- $\iint_{D'} f(\varphi(\xi, \eta), \psi(\xi, \eta)) \left| \frac{\partial \varphi}{\partial \xi} \cdot \frac{\partial \psi}{\partial \eta} - \frac{\partial \varphi}{\partial \eta} \cdot \frac{\partial \psi}{\partial \xi} \right| d\xi d\eta$
- $\iint_{D'} f(\varphi(\xi, \eta), \psi(\xi, \eta)) \left| \frac{\partial \varphi}{\partial \xi} \cdot \frac{\partial \psi}{\partial \eta} + \frac{\partial \varphi}{\partial \eta} \cdot \frac{\partial \psi}{\partial \xi} \right| d\xi d\eta$
- $\iint_D f(\varphi(\xi, \eta), \psi(\xi, \eta)) \left| \frac{\partial \varphi}{\partial \xi} \cdot \frac{\partial \psi}{\partial \eta} + \frac{\partial \varphi}{\partial \eta} \cdot \frac{\partial \psi}{\partial \xi} \right| d\xi d\eta$
- $\iint_D f(\varphi(\xi, \eta), \psi(\xi, \eta)) \left| \frac{\partial \varphi}{\partial \xi} \cdot \frac{\partial \psi}{\partial \xi} - \frac{\partial \varphi}{\partial \eta} \cdot \frac{\partial \psi}{\partial \eta} \right| d\xi d\eta$

2) открытые задания (тестовые, повышенный уровень сложности):

ЗАДАНИЕ 2.1. Добавьте термин (в соответствующем падеже, строчными буквами):

Если множество не содержит никаких элементов, то оно называется ... множеством и обозначается \emptyset .

Ответ: пустым

ЗАДАНИЕ 2.2. Добавьте термин (в соответствующем падеже, строчными буквами):

Множество А является ... множества В, если каждый элемент множества А является элементом множества В.

Ответ: подмножеством

ЗАДАНИЕ 2.3. Добавьте термин (в соответствующем падеже, строчными буквами):

Множества называются ..., если они состоят из одних и тех же элементов.

Ответ: равными

ЗАДАНИЕ 2.4. Добавьте термин (в соответствующем падеже, строчными буквами):

Множества, не имеющие общих элементов, называются ...

Ответ: непересекающимися

ЗАДАНИЕ 2.5. Добавьте термин (в соответствующем падеже, строчными буквами):

Число, представимое в виде отношения целого и натурального чисел называется ...

Ответ: рациональным

ЗАДАНИЕ 2.6. Добавьте термин (в соответствующем падеже, строчными буквами):

Число, представимое в виде допустимой бесконечной десятичной дроби называется ...

Ответ: вещественным / действительным

ЗАДАНИЕ 2.7. Добавьте термин (в соответствующем падеже, строчными буквами):

Вещественные числа $\pm a_0, a_1 a_2 a_3 \dots$ и $\pm b_0, b_1 b_2 b_3 \dots$ называются ..., если они имеют равные знаки, и справедливы равенства $a_i = b_i, i = 0; 1; 2; \dots$

Ответ: равными

ЗАДАНИЕ 2.8. Добавьте термин (в соответствующем падеже, строчными буквами):
Для любого вещественного числа a число, определяемое по формуле

$$\begin{cases} a, & \text{если } a \geq 0, \\ -a, & \text{если } a < 0, \end{cases}$$

называется ... числа a .

Ответ: модулем / абсолютным значением / абсолютной величиной

ЗАДАНИЕ 2.9. Добавьте термин (в соответствующем падеже, строчными буквами):
Множество A является ... , если существует такое натуральное n , что между элементами множества A и элементами множества $\{1; 2; \dots; n\}$ можно установить взаимно однозначное соответствие.

Ответ: конечным

ЗАДАНИЕ 2.10. Добавьте термин (в соответствующем падеже, строчными буквами):
Два множества, между элементами которых можно установить взаимно однозначное соответствие, называются

Ответ: равносильными / эквивалентными

ЗАДАНИЕ 2.11. Добавьте термин (в соответствующем падеже, строчными буквами):
Если каждому значению n из натурального ряда чисел $1; 2; \dots; n; \dots$ ставится в соответствие по определенному закону некоторое вещественное число x_n , то множество занумерованных вещественных чисел $x_1, x_2, \dots, x_n, \dots$ называется

Ответ: числовой последовательностью / последовательностью

ЗАДАНИЕ 2.12. Вычислите $\lim_{n \rightarrow \infty} \frac{2n^2+3}{n^2+4}$

(в ответе укажите цифрами округленное до целого числа значение)

Ответ: 2

ЗАДАНИЕ 2.13. Вычислите $\lim_{n \rightarrow \infty} \frac{\sin n}{n+2}$

(в ответе укажите цифрами округленное до целого числа значение)

Ответ: 0

ЗАДАНИЕ 2.14. Добавьте термин (в соответствующем падеже, строчными буквами):
Теорема Больцано-Вейерштрасса. Любая ... последовательность имеет хотя бы одну конечную предельную точку.

Ответ: ограниченная

ЗАДАНИЕ 2.15. Вычислите $\lim_{x \rightarrow 4} \frac{6x}{x-2}$

(в ответе укажите цифрами округленное до целого числа значение)

Ответ: 12

ЗАДАНИЕ 2.16. Добавьте термин (в соответствующем падеже, строчными буквами):
Теорема Больцано-Коши. Пусть функция $f(x)$... на отрезке $[a; b]$. Пусть $A = f(a)$, $B = f(b)$, причем $A \neq B$, тогда для любого C , лежащего между A и B , найдет число $c \in [a; b]$ такое, что $f(c) = C$.

Ответ: непрерывна

ЗАДАНИЕ 2.17. Добавьте термин (в соответствующем падеже, строчными буквами):

Пусть функция $y = f(x)$ убывает на $[a; b]$, и пусть $\alpha = f(a)$, $\beta = f(b)$. Тогда для того, чтобы функция $y = f(x)$ являлась ... на отрезке $[a; b]$ необходимо и достаточно, чтобы любое число $\gamma \in [\beta; \alpha]$ являлось значением этой функции в некоторой точке $[a; b]$.

Ответ: непрерывной

ЗАДАНИЕ 2.18. Добавьте термин (в соответствующем падеже, строчными буквами):

Пусть функция $y = f(x)$ убывает на $[a; b]$, и пусть $\alpha = f(a)$, $\beta = f(b)$. Тогда если множеством всех значений функции $y = f(x)$ является отрезок $[\beta; \alpha]$ — это, то на этом множестве определена обратная для $y = f(x)$ функция $x = f^{-1}(y)$, которая ... на отрезке $[\beta; \alpha]$.

Ответ: убывает

ЗАДАНИЕ 2.19. Добавьте термин (в соответствующем падеже, строчными буквами):

Теорема Вейерштрасса. Пусть функция $f(x)$ непрерывна на отрезке $[a; b]$, тогда:

1) $f(x)$... на отрезке $[a; b]$;

2) достигает наибольшего и наименьшего значений на $[a; b]$.

Ответ: ограничена

ЗАДАНИЕ 2.20. Добавьте термин (в соответствующем падеже, строчными буквами):

Предел разностного отношения $\frac{f(x+\Delta x)-f(x)}{\Delta x}$ при $\Delta x \rightarrow 0$ (при условии, что этот предел существует) называется ... функции $f(x)$ в точке x .

Ответ: производной

ЗАДАНИЕ 2.21. Вычислите $f'(1)$ если $f(x) = (2 - x)(x + 1)^2$

(в ответе укажите цифрами округленное до целого числа значение)

Ответ: 0

ЗАДАНИЕ 2.22. Добавьте термин (в соответствующем падеже, строчными буквами):

Пусть функция f определена на некоторой окрестности $U(x_0)$ вещественной точки x_0 , и найдется некоторое вещественное число k такое, что для всех $x \in U(x_0)$ справедливо представление $f(x) - f(x_0) = k(x - x_0) + o(x - x_0)$ при $x \rightarrow x_0$, тогда главная линейная часть этого представления ($k(x - x_0)$) называется ... функции f в точке x_0 .

Ответ: дифференциалом

ЗАДАНИЕ 2.23. Вычислите $-f'''(41)$ если $f(x) = (2 - x)(x + 1)^2$

(в ответе укажите цифрами округленное до целого числа значение)

Ответ: 6

ЗАДАНИЕ 2.24. Добавьте термин (в соответствующем падеже, строчными буквами):

Функция $F(x)$ называется ... функции $f(x)$ на промежутке $X \subset \mathbb{R}$, если F дифференцируема на этом промежутке и

$$\forall(x \in X)[F'(x) = f(x)]$$

Ответ: первообразной

ЗАДАНИЕ 2.25. Добавьте термин (в соответствующем падеже, строчными буквами):

... функцией (дробью) называется функция, равная отношению двух многочленов.

Ответ: рациональной

ЗАДАНИЕ 2.26. Добавьте термин (в соответствующем падеже, строчными буквами):

Рациональная функция (рациональная дробь) называется ... , если степень многочлена, стоящего в числителе, меньше степени многочлена, стоящего в знаменателе.

Ответ: правильной

ЗАДАНИЕ 2.27. Добавьте термин (в соответствующем падеже, строчными буквами): Совокупность $T = \{x_0, x_1, \dots, x_{n-1}, x_n\}$ точек отрезка $[a; b]$ таких, что $a = x_0 < x_1 < \dots < x_{n-1} < x_n = b$ называется ... этого отрезка.

Ответ: разбиением

ЗАДАНИЕ 2.28. Добавьте термин (в соответствующем падеже, строчными буквами):

Пусть $T = \{x_0, x_1, \dots, x_{n-1}, x_n\}$ – разбиение отрезка $[a; b]$ такое, что $a = x_0 < x_1 < \dots < x_{n-1} < x_n = b$. Максимальное из чисел $\Delta x_i = x_i - x_{i-1}$, $i = 1; 2; \dots; n$, называется ... разбиения T и обозначается $d(T)$.

Ответ: диаметром / мелкостью

ЗАДАНИЕ 2.29. Добавьте термин (в соответствующем падеже, строчными буквами):

Пусть функция $f(x)$ определена на отрезке $[a; b]$ ($a < b$). Рассмотрим разбиение (T, ξ) этого отрезка с отмеченными точками ($T = \{x_0, x_1, \dots, x_{n-1}, x_n\}$ такое, что $a = x_0 < x_1 < \dots < x_{n-1} < x_n = b$; $\Delta x_i = x_i - x_{i-1}$, $i = 1; 2; \dots; n$). Выражение вида $S(f, (T, \xi)) = \sum_{i=1}^n f(\xi_i) \Delta x_i$ называется ... функции $f(x)$ по отрезку $[a; b]$ и разбиению (T, ξ) .

Ответ: интегральной суммой / интегральной суммой Римана

ЗАДАНИЕ 2.30. Добавьте термин (в соответствующем падеже, строчными буквами):

Пусть функция $f(x)$ задана и ограничена на некотором множестве E . Величина $\omega(f, E) = \sup_{x, x' \in E} |f(x) - f(x')|$ называется ... функции $f(x)$ на множестве E .

Ответ: колебанием

ЗАДАНИЕ 2.31. Добавьте термин (в соответствующем падеже, строчными буквами):

Функция называется ..., если она непрерывна всюду, за исключением конечного числа точек, являющихся точками разрыва функции 1-го рода.

Ответ: кусочно непрерывной

ЗАДАНИЕ 2.32. Вычислите значение интеграла:

$$\int_a^a f(x) dx$$

(в ответе укажите цифрами округленное до целого числа значение)

Ответ: 0

ЗАДАНИЕ 2.33. Добавьте термин (в соответствующем падеже, строчными буквами):

Пусть функция $f(x)$ интегрируема по Риману на отрезке $[a; b]$, тогда интеграл с переменных верхним пределом $F(x) = \int_a^x f(t) dt$ является ... на $[a; b]$ функцией.

Ответ: непрерывной

ЗАДАНИЕ 2.34. Добавьте термин (в соответствующем падеже, строчными буквами):

Пусть функция $f(x)$ интегрируема на отрезке $[a; b]$ и непрерывна в точке $x_0 \in [a; b]$, тогда $F(x) = \int_a^x f(t) dt$... в точке x_0 и выполняется равенство $F'(x_0) = f(x_0)$.

Ответ: дифференцируема

ЗАДАНИЕ 2.35. Добавьте термин (в соответствующем падеже, строчными буквами):

Если функция $f(x)$ определена, ограничена и ... на отрезке $[a; b]$, то $\int_a^b f(x) dx = F(x)|_a^b = F(b) - F(a)$, где $F(x)$ – любая из обобщенных производных функции $f(x)$ на отрезке $[a; b]$.

Ответ: кусочно непрерывна

ЗАДАНИЕ 2.36. Вычислите значение интеграла:

$$e^{-1} + 2 \int_0^1 x e^{-x^2} dx$$

(в ответе укажите цифрами округленное до целого числа значение)

Ответ: 1

ЗАДАНИЕ 2.37. Добавьте термин (в соответствующем падеже, строчными буквами):

Кривая называется ..., если она непрерывна и имеет в каждой своей точке касательную, непрерывно меняющую свое положение при переходе от точки к точке.

Ответ: гладкой

ЗАДАНИЕ 2.38. Добавьте термин (в соответствующем падеже, строчными буквами):

Дуга кривой называется ..., если существует предел, к которому стремится длина вписанной в эту дугу ломанной линии при стремлении к нулю ее наибольшего звена.

Ответ: спрямляемой

ЗАДАНИЕ 2.39. Добавьте термин (в соответствующем падеже, строчными буквами):

Пусть функция $f(x)$ определена на полупрямой $-\infty < a \leq x < +\infty$ и интегрируема по отрезку $[a; b]$ при любом b из полупрямой $a < b < +\infty$. Если существует конечный $\lim_{b \rightarrow +\infty} \int_a^b f(x) dx$, то несобственный интеграл 1-го рода $\int_a^{+\infty} f(x) dx$ называется

Ответ: сходящимся

ЗАДАНИЕ 2.40. Добавьте термин (в соответствующем падеже, строчными буквами):

Пусть функция $f(x)$ определена на полуинтервале $[a; b)$ и не является ограниченной в окрестности точки b , но при любом достаточно малом $\delta > 0$ является ограниченной и интегрируемой на отрезке $[a; b - \delta]$. Если не существует конечный $\lim_{\delta \rightarrow 0+0} \int_a^{b-\delta} f(x) dx$, то несобственный интеграл 2-го рода $\int_a^b f(x) dx$ называется

Ответ: расходящимся

ЗАДАНИЕ 2.41. Добавьте термин (в соответствующем падеже, строчными буквами):

Если на полуоси $x \geq a$:

1) функция $f(x)$ непрерывна и сходится интеграл $\int_a^{+\infty} f(x) dx$;

2) функция $g(x)$ непрерывно дифференцируема, ограничена и

Тогда интеграл $\int_a^{+\infty} f(x)g(x) dx$ сходится.

Ответ: монотонна

ЗАДАНИЕ 2.42. Добавьте термин (в соответствующем падеже, строчными буквами):

Пусть:

1) функция $f(x)$ непрерывна и имеет ... первообразную при $x \geq a$;

2) функция $g(x)$ непрерывно дифференцируема и убывает при $x \geq a$;

3) $\lim_{x \rightarrow +\infty} g(x) = 0$.

Тогда сходится интеграл $\int_a^{+\infty} f(x)g(x) dx$.

Ответ: ограниченную

ЗАДАНИЕ 2.43. Добавьте термин (в соответствующем падеже, строчными буквами):

Пусть u_1, u_2, u_3, \dots – произвольная числовая последовательность. Выражение вида $u_1 + u_2 + \dots + u_n + \dots = \sum_{k=1}^{\infty} u_k$ называется

Ответ: числовым рядом

ЗАДАНИЕ 2.44. Добавьте термин (в соответствующем падеже, строчными буквами):

Пусть дан числовой ряд $\sum_{k=1}^{\infty} u_k$. Сумма $u_1 + u_2 + \dots + u_n = \sum_{k=1}^n u_k$ называется n -ой ... этого ряда.

Ответ: частичной суммой

ЗАДАНИЕ 2.45. Добавьте термин (в соответствующем падеже, строчными буквами):

Если в ряде $\sum_{k=1}^{\infty} u_k$ отбросить первые m членов, то полученный ряд $u_{m+1} + u_{m+2} + \dots + u_{m+n} = \sum_{k=m+1}^{\infty} u_k$ называется ... исходного ряда после m члена.

Ответ: остатком

ЗАДАНИЕ 2.46. Добавьте термин (в соответствующем падеже, строчными буквами):

Ряд $\sum_{k=1}^{\infty} u_k$ называется ..., если существует конечный предел S последовательности $\{S_n\}$ его частичных сумм.

Ответ: сходящимся

ЗАДАНИЕ 2.47. Добавьте термин (в соответствующем падеже, строчными буквами):

Предел последовательности частичных сумм $\{S_n\}$ числового ряда $\sum_{k=1}^{\infty} u_k$ называется ... этого ряда.

Ответ: суммой

ЗАДАНИЕ 2.48. К какому числу должен стремиться общий член u_k сходящегося ряда $\sum_{k=1}^{\infty} u_k$ при $k \rightarrow \infty$?

(в ответе укажите цифрами округленное до целого числа значение)

Ответ: 0

ЗАДАНИЕ 2.49. Добавьте термин (в соответствующем падеже, строчными буквами):

Для сходимости неотрицательного ряда $\sum_{k=1}^{\infty} u_k$ необходимо и достаточно, чтобы последовательность его частичных сумм являлась ...

Ответ: ограниченной сверху

ЗАДАНИЕ 2.50. Добавьте термин (в соответствующем падеже, строчными буквами):

Ряд $\sum_{k=1}^{\infty} u_k$ называется ..., если этот ряд сходится, а ряд $\sum_{k=1}^{\infty} |u_k|$ расходится.

Ответ: условно сходящимся

ЗАДАНИЕ 2.51. Добавьте термин (в соответствующем падеже, строчными буквами):

Каждую упорядоченную совокупность (x_1, x_2, \dots, x_N) называют ... N -мерного координатного пространства.

Ответ: точкой / вектором

ЗАДАНИЕ 2.52. Добавьте термин (в соответствующем падеже, строчными буквами):

Координатное пространство A^N называется N -мерным ... пространством, если между двумя точками $M'(x'_1, x'_2, \dots, x'_N)$ и $M''(x''_1, x''_2, \dots, x''_N)$ пространства A^N определено расстояние $\rho = \sqrt{(x'_1 - x''_1)^2 + (x'_2 - x''_2)^2 + \dots + (x'_N - x''_N)^2}$.

Ответ: евклидовым

ЗАДАНИЕ 2.53. Добавьте термин (в соответствующем падеже, строчными буквами):

Множество $\{M\}$ всевозможных точек $M \in R^N$, координаты x_1, x_2, \dots, x_N которых удовлетворяют неравенству $(x_1 - x_1^0)^2 + (x_2 - x_2^0)^2 + \dots + (x_N - x_N^0)^2 \leq R^2$, называется ... N -мерным шаром радиуса R с центром в точке $M_0(x_1^0, x_2^0, \dots, x_N^0)$.

Ответ: замкнутым

ЗАДАНИЕ 2.54. Добавьте термин (в соответствующем падеже, строчными буквами):

Точка M множества $\{M\}$ точек пространства R^N называется ... точкой этого множества, если существует некоторая ε -окрестность точки M , все точки которой принадлежат множеству $\{M\}$.

Ответ: внутренней

ЗАДАНИЕ 2.55. Добавьте термин (в соответствующем падеже, строчными буквами): Точка A пространства R^N называется ...точкой множества $\{M\}$, если в любой ε -окрестности точки A содержится хотя бы одна точка множества $\{M\}$, отличная от A .

Ответ: предельной

ЗАДАНИЕ 2.56. Добавьте термин (в соответствующем падеже, строчными буквами): Множество $\{M\}$ называется замкнутым, если оно содержит все свои ... точки.

Ответ: конечные предельные / граничные

ЗАДАНИЕ 2.57. Добавьте термин (в соответствующем падеже, строчными буквами): Множество $\{M\}$ точек пространства R^N называется ..., если найдется N -мерный шар, содержащий все точки этого множества

Ответ: ограниченным

ЗАДАНИЕ 2.58. Добавьте термин (в соответствующем падеже, строчными буквами): Всякое открытое и связное множество в пространстве R^N называется

Ответ: областью

ЗАДАНИЕ 2.59. Добавьте термин (в соответствующем падеже, строчными буквами): Последовательность точек евклидова пространства R^N называется ..., если $\exists(A \in R^N) \forall(\varepsilon > 0) \exists(n_0 \in \mathbb{N}) \forall(n \in \mathbb{N}: n \geq n_0) [\rho(M_n, A) < \varepsilon]$.

Ответ: сходящейся

ЗАДАНИЕ 2.60. Добавьте термин (в соответствующем падеже, строчными буквами): Последовательность $\{M_n\}$ точек N -мерного евклидова пространства R^N является фундаментальной тогда и только тогда, когда является ... каждая из последовательностей $\{x_1^{(n)}\}, \{x_2^{(n)}\}, \dots, \{x_N^{(n)}\}$ соответствующих координат точек $\{M_n\}$.

Ответ: фундаментальной

ЗАДАНИЕ 2.61. Добавьте термин (в соответствующем падеже, строчными буквами): Последовательность $\{M_n\}$ точек N -мерного евклидова пространства называется ..., если $\exists(a > 0) \forall(n \in \mathbb{N}) [\rho(0, M_n) \leq a]$, где $0 = 0(0, 0, \dots, 0)$.

Ответ: ограниченной

ЗАДАНИЕ 2.62. Добавьте термин (в соответствующем падеже, строчными буквами): Если $n_1, n_2, \dots, n_k, \dots$ – произвольная строго возрастающая последовательность целых положительных чисел, то последовательность точек $M_{n_1}, M_{n_2}, \dots, M_{n_k}, \dots$ называется ... последовательности точек $\{M_n\}$.

Ответ: подпоследовательностью

ЗАДАНИЕ 2.63. Добавьте термин (в соответствующем падеже, строчными буквами): Теорема Больцано-Вейерштрасса. Из любой ограниченной последовательности $\{M_n\}$ точек N -мерного евклидова пространства можно выделить ... подпоследовательность.

Ответ: сходящуюся

ЗАДАНИЕ 2.64. Добавьте термин (в соответствующем падеже, строчными буквами):

Пусть на множестве $\{M\}$ задана функция $u = f(M)$. Число b называется ... функции $u = f(M)$ в точке A (при $M \rightarrow A$), если $\forall(\{M_n\}: M_n \neq A, M_n \rightarrow A, n \rightarrow \infty)[\{f(M_n)\}: f(M_n) \rightarrow b, n \rightarrow \infty]$.

Ответ: пределом

ЗАДАНИЕ 2.65. Добавьте термин (в соответствующем падеже, строчными буквами):

Пусть на множестве $\{M\}$ задана функция $u = f(M)$. Число b называется ... функции $u = f(M)$ в точке A (при $M \rightarrow A$), если $\forall(\varepsilon > 0)\exists(\delta = \delta(\varepsilon) > 0)\forall(M \in \{M\}: \rho(M, A) < \delta)[|f(M) - b| < \varepsilon]$.

Ответ: пределом

ЗАДАНИЕ 2.66. Добавьте термин (в соответствующем падеже, строчными буквами):

Пусть на множестве $\{M\}$ задана функция $u = f(M)$. Функция $u = f(M)$ называется ... в точке $M = A$ (при $M \rightarrow \infty$), если $\lim_{M \rightarrow A} f(M) = 0$ ($\lim_{M \rightarrow \infty} f(M) = 0$).

Ответ: бесконечно малой

ЗАДАНИЕ 2.67. Добавьте термин (в соответствующем падеже, строчными буквами):

Пусть на множестве $\{M\}$ задана функция $u = f(M)$ и $A \in \{M\}$ – предельная точка множества $\{M\}$. Функция $u = f(M)$ называется ... в точке $M = A$ (при $M \rightarrow \infty$), если предел этой функции в точке A существует и равен значению $f(A)$.

Ответ: непрерывной

ЗАДАНИЕ 2.68. Добавьте термин (в соответствующем падеже, строчными буквами):

Пусть на множестве $\{M\}$ задана функция $u = f(M)$. Функция $u = f(M)$ называется ... в точке A , если $\forall(\{M_n\}: M_n \rightarrow A, n \rightarrow \infty)[\{f(M_n)\}: f(M_n) \rightarrow f(A), n \rightarrow \infty]$.

Ответ: непрерывной

ЗАДАНИЕ 2.69. Добавьте термин (в соответствующем падеже, строчными буквами):

Пусть на множестве $\{M\}$ задана функция $u = f(M)$. Функция $u = f(M)$ называется ... в точке A , если $\forall(\varepsilon > 0)\exists(\delta = \delta(\varepsilon) > 0)\forall(M \in \{M\}: \rho(M, A) < \delta)[|f(M) - f(A)| < \varepsilon]$.

Ответ: непрерывной

ЗАДАНИЕ 2.70. Добавьте термин (в соответствующем падеже, строчными буквами):

Пусть на множестве $\{M\}$ задана функция $u = f(M)$. Точки пространства R^N , в которых функция $u = f(M)$ не обладает свойством непрерывности, называются точками ... этой функции.

Ответ: разрыва

ЗАДАНИЕ 2.71. Добавьте термин (в соответствующем падеже, строчными буквами):

Пусть на множестве $\{M\}$ евклидова пространства R^N , если $\forall(\varepsilon > 0)\exists(\delta = \delta(\varepsilon) > 0)\forall(M', M'' \in \{M\}: \rho(M', M'') < \delta)[|f(M') - f(M'')| < \varepsilon]$.

Ответ: равномерно непрерывной

ЗАДАНИЕ 2.72. Добавьте термин (в соответствующем падеже, строчными буквами):

Точная верхняя грань чисел $\rho(M', M'')$, где M', M'' – всевозможные точки множества $\{M\}$, а $\rho(M', M'')$ – расстояние между этими точками, называется ... ограниченного множества $\{M\}$.

Ответ: диаметром

ЗАДАНИЕ 2.73. Добавьте термин (в соответствующем падеже, строчными буквами):

Пусть на множестве $\{M\}$ задана функция $u = f(M)$. Разность между точной верхней и точной нижней граними функции $f(M)$ на множестве $\{M\}$ называется ... функции $f(M)$ на этом множестве.

Ответ: колебанием

ЗАДАНИЕ 2.74. Добавьте термин (в соответствующем падеже, строчными буквами): Множество $\{M\}$ N -мерного евклидова пространства R^N называется ..., если оно замкнуто и ограничено.

Ответ: компактом / компактным

ЗАДАНИЕ 2.75. Добавьте термин (в соответствующем падеже, строчными буквами): Функция $u = f(x_1, x_2, \dots, x_N)$ называется ... в данной точке $M(x_1, x_2, \dots, x_N)$, если ее приращение в этой точке может быть представлено в виде $\Delta u = A_1 \Delta x_1 + A_2 \Delta x_2 + \dots + A_N \Delta x_N + \alpha_1 \Delta x_1 + \alpha_2 \Delta x_2 + \dots + \alpha_N \Delta x_N$, где A_1, A_2, \dots, A_N – некоторые, не зависящие от $\Delta x_1, \Delta x_2, \dots, \Delta x_N$ числа, а $\alpha_1, \alpha_2, \dots, \alpha_N$ – бесконечно малые при $\Delta x_1 \rightarrow 0, \Delta x_2 \rightarrow 0, \dots, \Delta x_N \rightarrow 0$ функции, равные нулю при $\Delta x_1 = \Delta x_2 = \dots = \Delta x_N = 0$.

Ответ: дифференцируемой

ЗАДАНИЕ 2.76. Добавьте термин (в соответствующем падеже, строчными буквами): Главная линейная относительно приращения аргументов часть приращения функции $u = f(x_1, x_2, \dots, x_N)$ в точке $M(x_1, x_2, \dots, x_N)$ называется ... дифференцируемой в этой точке функции $u = f(x_1, x_2, \dots, x_N)$.

Ответ: дифференциалом

ЗАДАНИЕ 2.77. Добавьте термин (в соответствующем падеже, строчными буквами): Плоскость Π , проходящая через точку N_0 поверхности, называется ... плоскостью в этой точке, если угол между этой плоскостью и секущей, проходящей через точку N_0 и любую точку N_1 поверхности, стремится к нулю, когда точка N_1 стремится к N_0 .

Ответ: касательной

ЗАДАНИЕ 2.78. Добавьте термин (в соответствующем падеже, строчными буквами):

Если не все индексы i_1, i_2, \dots, i_n совпадают между собой, то частная производная

$\frac{\partial^n u}{\partial x_{i_n} \partial x_{i_{n-1}} \dots \partial x_{i_2} \partial x_{i_1}}$ называется ... частной производной n -го порядка.

Ответ: смешанной

ЗАДАНИЕ 2.79. Вычислите значение частной производной по переменной x функции $u = x^2 y + x e^{x^3 y^2}$ в точке $(0; 35)$.

(в ответе укажите цифрами округленное до целого числа значение)

Ответ: 1

ЗАДАНИЕ 2.80. Добавьте термин (в соответствующем падеже, строчными буквами):

Точки максимума и минимума функции называются точками ...

Ответ: экстремума

ЗАДАНИЕ 2.81. Если функция $u = f(x_1, x_2, \dots, x_N)$ дифференцируема в точке экстремума $M_0(x_1^0, x_2^0, \dots, x_N^0)$, то ее дифференциал в этой точке $df(M_0) = \dots$.

(в ответе укажите цифрами округленное до целого числа значение)

Ответ: 0

ЗАДАНИЕ 2.82. Добавьте термин (в соответствующем падеже, строчными буквами):

Пусть функция $u = f(x_1, x_2, \dots, x_N)$ дифференцируема в точке $M_0(x_1^0, x_2^0, \dots, x_N^0)$ множества $\{M\}$. Если $df(M_0) = 0$, то точка M_0 называется ... точкой функции $u = f(x_1, x_2, \dots, x_N)$.

Ответ: стационарной

ЗАДАНИЕ 2.83. Добавьте термин (в соответствующем падеже, строчными буквами):

Точка $M_0(x_1^0, x_2^0, \dots, x_N^0)$, в которой функция $u = f(x_1, x_2, \dots, x_N)$ дифференцируема, является ... в том и только в том случае, когда $\frac{\partial f(M_0)}{\partial x_i} = 0, i = 1; 2; \dots; N$.

Ответ: стационарной

ЗАДАНИЕ 2.84. Добавьте термин (в соответствующем падеже, строчными буквами):

Пусть на G заданы функции $u = f_0(x_1, x_2, \dots, x_N)$ и $u_i = f_i(x_1, x_2, \dots, x_N), i = 1; 2; \dots; K$. Точка $M_0(x_1^0, x_2^0, \dots, x_N^0) \in H$, где $H = \{M_0(x_1^0, x_2^0, \dots, x_N^0) \in G: u_i = f_i(x_1, x_2, \dots, x_N), i = 1; 2; \dots; K\}$ называется точкой ... экстремума функции $u = f_0(x_1, x_2, \dots, x_N)$ относительно уравнений связи $u_i = f_i(x_1, x_2, \dots, x_N), i = 1; 2; \dots; K$, если она является точкой обычного экстремума этой функции, рассматриваемой только на множестве H .

Ответ: условного

ЗАДАНИЕ 2.85. Найти точки экстремума функции $f(x, y) = xy$, когда точка (x, y) лежит на прямой $x - y = 0$. В ответе укажите сумму координат всех точек-экстремумов (укажите цифрами округленное до целого числа значение).

Ответ: 0

ЗАДАНИЕ 2.86. Добавьте термин (в соответствующем падеже, строчными буквами):

Пусть все функции f_0, f_1, \dots, f_K непрерывно дифференцируемы на открытом множестве $G \subseteq R^N, N > K$. Пусть $M_0(x_1^0, x_2^0, \dots, x_N^0) \in H$ – точка условного экстремума функции $u = f_0(x_1, x_2, \dots, x_N)$ при выполнении уравнений связи $u_i = f_i(x_1, x_2, \dots, x_N), i = 1; 2; \dots; K$, тогда в этой точке градиенты $\text{grad } f_0, \text{grad } f_1, \dots, \text{grad } f_K \dots$.

Ответ: линейно зависимы

ЗАДАНИЕ 2.87. Добавьте термин (в соответствующем падеже, строчными буквами):

Кривая L называется ... , если функции $\varphi(t)$ и $\psi(t)$ из параметризующих ее уравнений $x = \varphi(t), y = \psi(t)$ имеют на отрезке $a \leq t \leq b$ непрерывные производные первого порядка, и при всех $t \in [a; b]$ выполнено неравенство $(\varphi'(t))^2 + (\psi'(t))^2 > 0$.

Ответ: гладкой

ЗАДАНИЕ 2.88. Добавьте термин (в соответствующем падеже, строчными буквами):

Точка кривой L , параметризуемой уравнениями $x = \varphi(t), y = \psi(t), a \leq t \leq b$, отвечающая значениям параметра t , для которого $(\varphi'(t))^2 + (\psi'(t))^2 = 0$, называется

Ответ: особой

ЗАДАНИЕ 2.89. Пусть функции $P(x, y)$ и $Q(x, y)$ непрерывны в некоторой области G и существует некая дифференцируемая функция $U(x, y)$ такая, что $dU(x, y) = P(x, y)dx + Q(x, y)dy$ и путь интегрирования является замкнутым контуром L , тогда криволинейный интеграл $\int P(x, y)dx + Q(x, y)dy = \dots$.

(в ответе укажите цифрами округленное до целого числа значение)

Ответ: 0

ЗАДАНИЕ 2.90. Добавьте термин (в соответствующем падеже, строчными буквами):

Множество точек $x = (x_1, x_2, \dots, x_n) \in \mathbb{R}^n$, координаты которых $x_i, i = 1; 2; \dots; n$, удовлетворяют линейному уравнению вида $a_1x_1 + a_2x_2 + \dots + a_nx_n + a_0 = 0$, где $a_1^2 + a_2^2 + \dots + a_n^2 > 0$ и a_i – фиксированные числа ($i = 1; 2; \dots; n$), называется ... в пространстве \mathbb{R}^n .

Ответ: гиперплоскостью / плоскостью

ЗАДАНИЕ 2.91. Добавьте термин (в соответствующем падеже, строчными буквами):
Функция $f(x, y)$ определена на прямоугольнике $R = [a \leq x \leq b] \times [c \leq y \leq d]$, который разбит на np частичных прямоугольников $R_{kl} = [x_{k-1} \leq x \leq x_k] \times [y_{l-1} \leq y \leq y_l]$, $k = 1; 2; \dots; n, l = 1; 2; \dots; p$. На каждом частичном прямоугольнике R_{kl} выбрана произвольная точка (ξ_k, η_l) . Сумма $\sigma = \sum_{k=1}^n \sum_{l=1}^p f(\xi_k, \eta_l) \Delta R_{kl}$, где $\Delta R_{kl} = \Delta x_k \cdot \Delta y_l$, $\Delta x_k = x_k - x_{k-1}$, $\Delta y_l = y_l - y_{l-1}$, называется ... функции $f(x, y)$ на прямоугольнике R , отвечающему разбиению $R_{kl}, k = 1; 2; \dots; n, l = 1; 2; \dots; p$, и набору точек (ξ_k, η_l) .

Ответ: интегральной / интегральной суммой / суммой Римана

ЗАДАНИЕ 2.92. Добавьте термин (в соответствующем падеже, строчными буквами):
Функция $f(x, y)$ определена на прямоугольнике $R = [a \leq x \leq b] \times [c \leq y \leq d]$, который разбит на np частичных прямоугольников $R_{kl} = [x_{k-1} \leq x \leq x_k] \times [y_{l-1} \leq y \leq y_l]$, $k = 1; 2; \dots; n, l = 1; 2; \dots; p$. На каждом частичном прямоугольнике R_{kl} выбрана произвольная точка (ξ_k, η_l) . Число I называется ... интегральных сумм $\sigma = \sum_{k=1}^n \sum_{l=1}^p f(\xi_k, \eta_l) \Delta R_{kl}$, где $\Delta R_{kl} = \Delta x_k \cdot \Delta y_l$, $\Delta x_k = x_k - x_{k-1}$, $\Delta y_l = y_l - y_{l-1}$, при стремлении к нулю диаметра разбиения, если независимо от выбора точек (ξ_k, η_l) справедливо $\forall (\varepsilon > 0) \exists (\delta = \delta(\varepsilon) > 0) [d < \delta \Rightarrow |\sigma - I| < \varepsilon]$, где d – диаметр разбиения прямоугольника R .

Ответ: пределом

ЗАДАНИЕ 2.93. Вычислите значение двойного интеграла функции $f(x, y) = 1$ по прямоугольнику $[-1; 2] \times [0; 2]$

(в ответе укажите цифрами округленное до целого числа значение)

Ответ: 6

ЗАДАНИЕ 2.94. Вычислите значение двойного интеграла функции $f(x, y) = 2$ по прямоугольнику $[-1; 2] \times [0; 2]$

(в ответе укажите цифрами округленное до целого числа значение)

Ответ: 12

ЗАДАНИЕ 2.95. Вычислите значение тройного интеграла функции $f(x, y, z) = 1$ по параллелепипеду $[-1; 2] \times [0; 2] \times [-2; 1]$

(в ответе укажите цифрами округленное до целого числа значение)

Ответ: 18

ЗАДАНИЕ 2.96. Вычислите значение тройного интеграла функции $f(x, y, z) = 2$ по параллелепипеду $[-1; 2] \times [0; 2] \times [-2; 1]$

(в ответе укажите цифрами округленное до целого числа значение)

Ответ: 36

ЗАДАНИЕ 2.97. Добавьте термин (в соответствующем падеже, строчными буквами):
Если обе функции $f(x, y)$ и $g(x, y)$ интегрируемы в области D , причем функция $f(x, y) \dots$, а функция $g(x, y)$ неотрицательна (неположительна) в области D , то в этой области найдется такая точка (ξ, η) , что $\iint_D f(x, y)g(x, y)dxdy = f(\xi, \eta) \iint_D g(x, y)dxdy$.

Ответ: непрерывна

ЗАДАНИЕ 2.98. Вычислите значение интеграла Стильтьеса функции $f(x) = x$ по функции $g(x) = \operatorname{arctg} x$ по отрезку $[-1; 1]$
(в ответе укажите цифрами округленное до целого числа значение)

Ответ: 0

3) открытые задания (расчетные, средний уровень сложности):

ЗАДАНИЕ 3.1. Методом математической индукции доказать равенство при всех натуральных n :

$$1^2 + 2^2 + 3^2 + \dots + n^2 = \frac{n(n+1)(2n+1)}{6}.$$

Решение.

1) При $n = 1$ имеем $1^2 = \frac{1(1+1)(2 \cdot 1 + 1)}{6}$ – верно.

2) Предположим, что при $n = k$ равенство $1^2 + 2^2 + 3^2 + \dots + k^2 = \frac{k(k+1)(2k+1)}{6}$ справедливо.

Пусть $n = k + 1$, тогда

$$1^2 + 2^2 + 3^2 + \dots + k^2 + (k+1)^2 = \frac{k(k+1)(2k+1)}{6} + (k+1)^2 = (k+1) \left(\frac{k(2k+1)}{6} + (k+1) \right) =$$

$$(k+1) \cdot \frac{2k^2 + 7k + 6}{6} = \frac{(k+1)(k+2)(2k+3)}{6},$$

что и требовалось доказать.

ЗАДАНИЕ 3.2. Решить неравенство $|x| > |x + 1|$ относительно действительных чисел.

Решение.

1 способ: Воспользуемся определением модуля действительного числа: $|x| = \begin{cases} x, & x \geq 0 \\ -x, & x < 0 \end{cases}$

1) $x \geq 0$, тогда, очевидно, $x + 1 \geq 1 > 0$, и неравенство примет вид $x > x + 1$, что является неверным;

2) $x < 0$, тогда неравенство примет вид $-x > |x + 1|$, что эквивалентно двойному неравенству $x < x + 1 < -x$ или системе неравенств $\begin{cases} x + 1 > x \\ x + 1 < -x \end{cases} \Leftrightarrow x < -0,5$ (содержится в рассматриваемом множестве $x < 0$).

Таким образом, решением неравенства является промежуток $(-\infty; -0,5)$.

2 способ: Воспользуемся эквивалентностью неравенств $a \geq b$ и $a^2 \geq b^2$ для неотрицательных a и b . Следовательно, исходное неравенство эквивалентно $|x|^2 > |x + 1|^2$, решим его:

$$\begin{aligned} (x)^2 &> (x + 1)^2, \\ x^2 &> x^2 + 2x + 1, \\ 2x + 1 &< 0, \\ x &< -0,5. \end{aligned}$$

Таким образом, решением неравенства является промежуток $(-\infty; -0,5)$.

ЗАДАНИЕ 3.3. Вычислить предел последовательности $\lim_{n \rightarrow \infty} \frac{2n-5}{n}$.

Решение. $\lim_{n \rightarrow \infty} \frac{2n-5}{n} = \lim_{n \rightarrow \infty} \frac{\frac{2n}{n} - \frac{5}{n}}{1} = \lim_{n \rightarrow \infty} \frac{2 - \frac{5}{n}}{1} = \frac{2-0}{1} = 2.$

ЗАДАНИЕ 3.4. Вычислить предел последовательности $\lim_{n \rightarrow \infty} \frac{(n+1)^3 - (n-1)^3}{n^2 + 1}$.

Решение. $\lim_{n \rightarrow \infty} \frac{(n+1)^3 - (n-1)^3}{n^2 + 1} = \lim_{n \rightarrow \infty} \frac{(n^3 + 3n^2 + 3n + 1) - (n^3 - 3n^2 + 3n - 1)}{n^2 + 1} = \lim_{n \rightarrow \infty} \frac{6n^2 + 2}{n^2 + 1} = \lim_{n \rightarrow \infty} \frac{\frac{6n^2}{n^2} + \frac{2}{n^2}}{\frac{n^2}{n^2} + \frac{1}{n^2}} =$

$$\lim_{n \rightarrow \infty} \frac{6 + \frac{2}{n^2}}{1 + \frac{1}{n^2}} = \frac{6+0}{1+0} = 6.$$

ЗАДАНИЕ 3.5. Вычислить предел последовательности $\lim_{n \rightarrow \infty} \left(1 - \frac{1}{2n}\right)^{\frac{4n}{5}}$.

Решение. $\lim_{n \rightarrow \infty} \left(1 + \frac{1}{2n}\right)^{\frac{4n}{5}} = \left\langle \begin{array}{l} t = 2n \\ n \rightarrow \infty \Rightarrow t \rightarrow \infty \end{array} \right\rangle = \lim_{n \rightarrow \infty} \left(1 + \frac{1}{t}\right)^{\frac{2t}{5}} = \lim_{n \rightarrow \infty} \left(\left(1 + \frac{1}{t}\right)^t\right)^{0,4} = e^{0,4}.$

ЗАДАНИЕ 3.6. Вычислить предел функции $\lim_{x \rightarrow 0} \frac{\operatorname{tg} x \cdot \sin x}{x^2}$.

Решение. $\lim_{x \rightarrow 0} \frac{\operatorname{tg} x \cdot \sin x}{x^2} = \lim_{x \rightarrow 0} \left(\frac{\operatorname{tg} x}{x} \cdot \frac{\sin x}{x}\right) = \left(\lim_{x \rightarrow 0} \frac{\operatorname{tg} x}{x}\right) \cdot \left(\lim_{x \rightarrow 0} \frac{\sin x}{x}\right) = 1 \cdot 1 = 1.$

ЗАДАНИЕ 3.7. Вычислить предел функции $\lim_{x \rightarrow 0} (1 + \operatorname{tg} x)^{\operatorname{ctg} x}$.

Решение. $\lim_{x \rightarrow 0} (1 + \operatorname{tg} x)^{\operatorname{ctg} x} = \left\langle \begin{array}{l} t = \operatorname{ctg} x \\ x \rightarrow 0 \Rightarrow t \rightarrow \infty \end{array} \right\rangle = \lim_{t \rightarrow \infty} \left(1 + \frac{1}{t}\right)^t = e.$

ЗАДАНИЕ 3.8. Вычислить предел функции $\lim_{x \rightarrow 0} \frac{5x^2}{1 + \cos 5x}$.

Решение. $\lim_{x \rightarrow 0} \frac{5x^2}{1 + \cos 5x} = \frac{5 \cdot 0^2}{1 + \cos 5 \cdot 0} = \frac{0}{1 + 1} = 0.$

ЗАДАНИЕ 3.9. Вычислить производную y'_x функции $y = 5x^4 + 6 \operatorname{arctg} x$ при $x = -1$.

Решение. $y'_x = (5x^4 + 6 \operatorname{arctg} x)' = 5 \cdot 4x^3 + 6 \cdot \frac{1}{1+x^2} = 20x^3 + \frac{6}{1+x^2}$, следовательно, $y'_x|_{x=-1} = 20 \cdot (-1)^3 + \frac{6}{1+(-1)^2} = 20 \cdot (-1) + \frac{6}{1+1} = -20 + \frac{6}{2} = -17.$

ЗАДАНИЕ 3.10. Вычислить производную y'_x функции $y = \frac{2x+5}{\sqrt{x^2-2x+2}}$.

Решение. $y'_x = \left(\frac{2x+5}{\sqrt{x^2-2x+2}}\right)' = \frac{(2x+5)' \cdot (\sqrt{x^2-2x+2}) - (2x+5) \cdot (\sqrt{x^2-2x+2})'}{(\sqrt{x^2-2x+2})^2} = \frac{2 \cdot (\sqrt{x^2-2x+2}) - (2x+5) \cdot \frac{2x-2}{2\sqrt{x^2-2x+2}}}{(\sqrt{x^2-2x+2})^2} =$
 $\frac{2 \cdot (\sqrt{x^2-2x+2}) - \frac{(2x+5)(x-1)}{\sqrt{x^2-2x+2}}}{(\sqrt{x^2-2x+2})^2}.$

ЗАДАНИЕ 3.11. Вычислить производную y'_x функции $y = x\sqrt{1+x^2}$.

Решение. $y'_x = (x\sqrt{1+x^2})' = x' \cdot \sqrt{1+x^2} + x \cdot (\sqrt{1+x^2})' = 1 \cdot \sqrt{1+x^2} + x \cdot \frac{2x}{2\sqrt{1+x^2}} =$
 $\sqrt{1+x^2} + \frac{x^2}{\sqrt{1+x^2}} = \frac{1+2x^2}{\sqrt{1+x^2}}.$

ЗАДАНИЕ 3.12. Вычислить производную y'_x функции $y = \sin(\cos^2 x) \cdot \cos(\sin^2 x)$.

Решение. $y'_x = (\sin(\cos^2 x) \cdot \cos(\sin^2 x))' = (\sin(\cos^2 x))' \cdot \cos(\sin^2 x) + \sin(\cos^2 x) \cdot (\cos(\sin^2 x))' = \cos(\cos^2 x) \cdot 2 \cos x \cdot \sin x \cdot \cos(\sin^2 x) + \sin(\cos^2 x) \cdot (-\sin(\sin^2 x)) \cdot 2 \sin x \cdot \cos x = 2 \sin x \cdot \cos x \cdot (\cos(\cos^2 x) \cdot \cos(\sin^2 x) - \sin(\cos^2 x) \cdot \sin(\sin^2 x)) = \sin 2x \cdot \cos(\cos^2 x + \sin^2 x) = \sin 2x \cdot \cos 1.$

ЗАДАНИЕ 3.13. Вычислить производную y'_x функции, заданной параметрически,

$$\begin{cases} x = t + t^2, \\ y = 3t^8 - 6t + 5. \end{cases}$$

Решение. $y'_x = \frac{y'_t}{x'_t} = \frac{(t+t^2)'}{(3t^8-6t+5)'} = \frac{t+1}{24t^7-6}.$

ЗАДАНИЕ 3.14. Вычислить производную y'_x функции, заданной параметрически,

$$\begin{cases} x = \frac{2t^3}{3} + t^2 + t, \\ y = \ln(2t^2 + 2t + 1). \end{cases}$$

Решение. $y'_x = \frac{y'_t}{x'_t} = \frac{\left(\frac{2t^3}{3} + t^2 + t\right)'}{(\ln(2t^2 + 2t + 1))'} = \frac{2t^2 + 2t + 1}{\frac{1}{2t^2 + 2t + 1} \cdot (4t + 2)} = \frac{(2t^2 + 2t + 1)^2}{4t + 2}.$

ЗАДАНИЕ 3.15. Вычислить предел функции $\lim_{x \rightarrow 0} \frac{\cos(\sin x) - \cos x}{\sqrt{x}}$.

$$f(x) = \cos(\sin x) - \cos x \text{ опред. и диф. в } \dot{U}(0)$$

Решение. $\lim_{x \rightarrow 0} \frac{\cos(\sin x) - \cos x}{\sqrt{x}} = \frac{0}{0} = \langle \quad g(x) = \sqrt{x} \text{ опред. и диф. в } \dot{U}(0) \quad \rangle =$
 $g'(x) = \frac{1}{2\sqrt{x}} \neq 0 \text{ в } \dot{U}(0)$

$$\lim_{x \rightarrow 0} \frac{(\cos(\sin x) - \cos x)'}{(\sqrt{x})'} = \lim_{x \rightarrow 0} \frac{-\sin(\sin x) \cdot \cos x - \sin x}{\frac{1}{2\sqrt{x}}} = \lim_{x \rightarrow 0} \left(-2\sqrt{x} \cdot (\sin(\sin x) \cdot \cos x + \sin x) \right) =$$

$$\lim_{x \rightarrow 0} \left(-2 \cdot \sqrt{0} \cdot (\sin(\sin 0) \cdot \cos 0 + \sin 0) \right) = \lim_{x \rightarrow 0} (-2 \cdot 0 \cdot (\sin 0 \cdot 1 + 0)) = 0.$$

ЗАДАНИЕ 3.16 Составить уравнение касательной к функции $y = x^3 + 2x$ в точке с абсциссой $x = 1$.

Решение. Уравнение касательной к графику функции, заданной уравнением $y = y(x)$, в точке x_0 имеет вид $y = y'|_{x=x_0} \cdot (x - x_0) + y_0$.

Вычислим y' :

$$y' = 3x^2 + 2,$$

следовательно, $y'|_{x=x_0=1} = 5$ и искомое уравнение касательной примет вид:

$$y = 5 \cdot (x - 1) + 3,$$

$$y = 5x - 2.$$

ЗАДАНИЕ 3.17. Составить уравнение нормали к функции $y = x^3 + 2x$ в точке с абсциссой $x = 1$.

Решение. Уравнение нормали к графику функции, заданной уравнением $y = y(x)$, в точке x_0 имеет вид $y = -\frac{x-x_0}{y'|_{x=x_0}} + y_0$.

Вычислим y' :

$$y' = 3x^2 + 2,$$

следовательно, $y'|_{x=x_0=1} = 5$ и искомое уравнение касательной примет вид:

$$y = -\frac{x-1}{5} + 3,$$

$$y = -\frac{1}{5}x + 3\frac{1}{5}.$$

ЗАДАНИЕ 3.18. Исследовать на монотонность функцию $y = 3x^2 - x^3$. Указать точки локального экстремума и значения функции в них.

Решение. Вычислим производную функции и определим критические и стационарные точки:

$$y' = 6x - 3x^2,$$

$$6x - 3x^2 = 0 \Leftrightarrow \begin{cases} x = 0, \\ x = 2. \end{cases}$$

С помощью метода интервалов определим промежутки знакопостоянства функции y' и характер монотонности функции y :

-	0	+	2	-	y'
убывает	возрастает	убывает		x	y

Таким образом, функция убывает на множестве $(-\infty; 0] \cup [2; +\infty)$ и возрастает на отрезке $[0; 2]$;

$$x_{min} = 0, y_{min} = 0;$$

$$x_{max} = 2, y_{max} = 4.$$

ЗАДАНИЕ 3.19. Исследовать на монотонность функцию $y = 2x^3 - 6x^2 - 18x + 7$. Указать точку максимума, а также значение функции в этой точке.

Решение. Вычислим производную функции и определим критические и стационарные точки:

$$\begin{aligned} y' &= 6x^2 - 12x - 18, \\ 6x^2 - 12x - 18 &= 0, \\ x^2 - 2x - 3 &= 0 \Leftrightarrow \begin{cases} x = -1, \\ x = 3. \end{cases} \end{aligned}$$

С помощью метода интервалов определим промежутки знакопостоянства функции y' и характер монотонности функции y :

+	-	+	y'
-	-	3	x
возрастает	убывает	возрастает	y

Таким образом, функция возрастает на множестве $(-\infty; -1] \cup [3; +\infty)$ и убывает на отрезке $[-1; 3]$;

$$x_{max} = -1, y_{max} = 17.$$

ЗАДАНИЕ 3.20. Исследовать на выпуклость функцию $y = 3x^2 - x^3$, указать точки перегиба (при наличии).

Решение. Для определения выпуклости вычислим вторую производную функции:

$$\begin{aligned} y' &= 6x - 3x^2, \\ y'' &= 6 - 6x, \\ 6 - 6x &= 0 \Leftrightarrow x = 1. \end{aligned}$$

С помощью метода интервалов определим промежутки знакопостоянства функции y'' и характер выпуклости функции y :

+	-	y''
-	1	x
выпукла вниз	выпукла вверх	y

Таким образом, функция выпукла вниз на множестве $(-\infty; 1]$ и выпукла вверх на множестве $[1; +\infty)$, точка $(1; 2)$ является точкой перегиба.

ЗАДАНИЕ 3.21. Составить уравнение наклонной асимптоты графика функции $y =$

$$\frac{8x^2 - 6x + 5}{3 - 2x}.$$

Решение. Уравнение наклонной асимптоты графика функции, заданной уравнением $y = y(x)$, имеет вид $y = kx + b$, где $k = \lim_{x \rightarrow \infty} \frac{y(x)}{x}$ и $b = \lim_{x \rightarrow \infty} (y(x) - kx)$. В условиях задачи, имеем:

$$k = \lim_{x \rightarrow \infty} \frac{8x^2 - 6x + 5}{3x - 2x^2} = \lim_{x \rightarrow \infty} \frac{\frac{8x^2}{x^2} - \frac{6x}{x^2} + \frac{5}{x^2}}{\frac{3x}{x^2} - \frac{2x^2}{x^2}} = \lim_{x \rightarrow \infty} \frac{8 - \frac{6}{x} + \frac{5}{x^2}}{\frac{3}{x} - 2} = \frac{8 - 0 + 0}{0 - 2} = -4,$$

$$b = \lim_{x \rightarrow \infty} \left(\frac{8x^2 - 6x + 5}{3 - 2x} + 4x \right) = \lim_{x \rightarrow \infty} \frac{8x^2 - 6x + 5 + 12x - 8x^2}{3 - 2x} = \lim_{x \rightarrow \infty} \frac{6x + 5}{3 - 2x} = \lim_{x \rightarrow \infty} \frac{\frac{6x}{x} + \frac{5}{x}}{\frac{3}{x} - 2} = \lim_{x \rightarrow \infty} \frac{6 + \frac{5}{x}}{\frac{3}{x} - 2} = \frac{6 + 0}{0 - 2} = -3.$$

Таким образом, уравнение наклонной асимптоты примет вид $y = -4x - 3$.

ЗАДАНИЕ 3.22. Найти первообразную для функции $f(x) = \frac{x}{1 + \sin^2 x + \cos^2 x}$.

Решение. Сначала преобразуем функцию:

$$f(x) = \frac{x}{1 + \sin^2 x + \cos^2 x} = \frac{x}{1 + 1} = \frac{x}{2}.$$

Первообразной для данной функции является, например, $\frac{x^2}{4}$ (другие первообразные функции $f(x)$ отличаются от указанной лишь постоянным слагаемым).

ЗАДАНИЕ 3.23. Найти первообразную для функции $f(x) = \frac{\sin 2x}{\sqrt{3+\cos^2 x}}$.

Решение. Множество всех первообразных данной функции – это:

$$\int \frac{\sin 2x}{\sqrt{3+\cos^2 x}} dx = \left\langle \begin{array}{l} t = \cos^2 x \\ dt = 2 \cos x \sin x dx = \sin 2x dx \end{array} \right\rangle = \int \frac{dt}{\sqrt{3+t}} = 2\sqrt{3+t} + C = 2\sqrt{3+\cos^2 x} + C,$$

где C – произвольная константа.

ЗАДАНИЕ 3.24. Вычислить неопределенный интеграл $\int \sin^2 x \cdot \cos^5 x dx$.

Решение.
$$\int \sin^2 x \cdot \cos^5 x dx = \left\langle \begin{array}{l} t = \sin x \\ dt = \cos x dx \\ \cos^2 x = 1 - t^2 \end{array} \right\rangle = \int t^2(1-t^2)^2 dt = \int (t^6 - 2t^4 + t^2) dt = \frac{t^7}{7} - \frac{2t^5}{5} + \frac{t^3}{3} + C = \frac{(\sin x)^7}{7} - \frac{2(\sin x)^5}{5} + \frac{(\sin x)^3}{3} + C,$$
 где C – произвольная константа.

ЗАДАНИЕ 3.25. Вычислить неопределенный интеграл $\int \frac{4^{\arcsin 3x}}{\sqrt{1-9x^2}} dx$.

Решение.
$$\int \frac{4^{\arcsin 3x}}{\sqrt{1-9x^2}} dx = \left\langle \begin{array}{l} t = \arcsin 3x \\ dt = \frac{3}{\sqrt{1-9x^2}} dx \\ \frac{dx}{\sqrt{1-9x^2}} = \frac{dt}{3} \end{array} \right\rangle = \int \frac{4^t}{3} dt = \frac{1}{3} \cdot \frac{4^t}{\ln 4} + C = \frac{4^{\arcsin 3x}}{3 \ln 4} + C,$$
 где C – произвольная константа.

ЗАДАНИЕ 3.26. Вычислить определенный интеграл $\int_0^\pi x \cdot \sin x dx$.

Решение.
$$\int_0^\pi x \cdot \sin x dx = \left\langle \begin{array}{l} u = x \Rightarrow du = dx \\ dv = \sin x dx \Rightarrow v = -\cos x \end{array} \right\rangle = (x \cdot (-\cos x)) \Big|_0^\pi - \int_0^\pi (-\cos x) dx = -\pi \cdot \cos \pi + 0 \cdot \cos 0 + \int_0^\pi \cos x dx = \pi + \sin x \Big|_0^\pi = \pi + \sin \pi - \sin 0 = \pi.$$

ЗАДАНИЕ 3.27. Вычислить несобственный интеграл $\int_{-\infty}^{+\infty} \frac{dx}{1+x^2}$ или установить его расходимость.

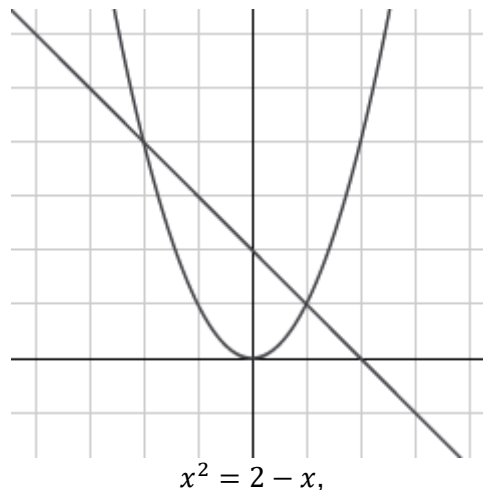
Решение.
$$\int_{-\infty}^{+\infty} \frac{dx}{1+x^2} = \lim_{\substack{a \rightarrow -\infty \\ b \rightarrow +\infty}} \int_a^b \frac{dx}{1+x^2} = \lim_{\substack{a \rightarrow -\infty \\ b \rightarrow +\infty}} \arctg x \Big|_a^b = \lim_{\substack{a \rightarrow -\infty \\ b \rightarrow +\infty}} (\arctg b - \arctg a) = \frac{\pi}{2} - \left(-\frac{\pi}{2}\right) = \pi.$$

ЗАДАНИЕ 3.28. Вычислить несобственный интеграл $\int_1^2 \frac{dx}{\sqrt{4-x^2}}$ или установить его расходимость.

Решение.
$$\int_1^2 \frac{dx}{\sqrt{4-x^2}} = \lim_{b \rightarrow 2+0} \int_1^b \frac{dx}{\sqrt{4-x^2}} = \lim_{b \rightarrow 2+0} \arcsin \frac{x}{2} \Big|_1^b = \lim_{b \rightarrow 2+0} \left(\arcsin \frac{b}{2} - \arcsin \frac{1}{2} \right) = \frac{\pi}{2} - \frac{\pi}{6} = \frac{\pi}{3}.$$

ЗАДАНИЕ 3.29. Найти площадь фигуры, ограниченной графиками функций $y = x^2$ и $x + y = 2$.

Решение. Найдем координаты точек пересечения графиков указанных функций $y = x^2$ и $y = 2 - x$:



$$x^2 + x - 2 = 0 \Leftrightarrow \begin{cases} x = 1, \\ x = -2. \end{cases}$$

На интервале $(-2; 1)$ график функции $y = 2 - x$ лежит выше графика функции $y = x^2$. Следовательно, искомая площадь фигуры вычисляется как:

$$S = \int_{-2}^1 ((2 - x) - x^2) dx = \int_{-2}^1 (2 - x - x^2) dx = \left(2x - \frac{x^2}{2} - \frac{x^3}{3} \right) \Big|_{-2}^1 = 2 \cdot 1 - \frac{1^2}{2} - \frac{1^3}{3} - \left(2 \cdot (-2) - \frac{(-2)^2}{2} - \frac{(-2)^3}{3} \right) = 2 - 0,5 - \frac{1}{3} + 4 + 2 - \frac{8}{3} = 4,5.$$

ЗАДАНИЕ 3.30. Найти площадь фигуры, ограниченной графиками функций $y = \frac{1}{x^2}$, $y = 2x - 1$ и $x = 5$.

Решение. Найдем координаты точек пересечения графиков указанных функций $y = \frac{1}{x^2}$ и $y = 2x - 1$:

$$\begin{aligned} \frac{1}{x^2} &= 2x - 1, \\ \frac{2x^3 - x^2 - 1}{x^2} &= 0, \\ \frac{(x - 1)(2x^2 + x + 1)}{x^2} &= 0 \Leftrightarrow \begin{cases} x = 1, \\ x \neq 0. \end{cases} \end{aligned}$$

На интервале $(1; 5)$ график функции $y = 2x - 1$ лежит выше графика функции $y = \frac{1}{x^2}$. Следовательно, искомая площадь фигуры вычисляется как:

$$S = \int_1^5 \left((2x - 1) - \frac{1}{x^2} \right) dx = \int_1^5 (2x - 1 - x^{-2}) dx = \left(x^2 - x + \frac{1}{3x^3} \right) \Big|_1^5 = 2 \cdot 5^2 - 5 + \frac{1}{3 \cdot 5^3} - \left(2 \cdot 1^2 - 1 + \frac{1}{3 \cdot 1^3} \right) = 50 - 5 - \frac{1}{75} - 2 + 1 - \frac{1}{3} = 43 \frac{49}{75}.$$

ЗАДАНИЕ 3.31. Исследовать сходимость ряда $\sum_{n=1}^{\infty} \frac{1000^n}{n!}$.

Решение. Воспользуемся признаком Дирихле и вычислим $\lim_{n \rightarrow \infty} \frac{a_{n+1}}{a_n} = \lim_{n \rightarrow \infty} \frac{1000^{n+1}}{\frac{(n+1)!}{n!}} = \lim_{n \rightarrow \infty} \left(\frac{1000^{n+1}}{(n+1)!} \cdot \frac{n!}{1000^n} \right) = \lim_{n \rightarrow \infty} \frac{1000}{n+1} = 0 < 1$, что означает, что исследуемый ряд сходится.

ЗАДАНИЕ 3.32. Исследовать сходимость ряда $\sum_{n=1}^{\infty} \frac{n^2}{9^n}$.

Решение. Воспользуемся признаком Дирихле и вычислим $\lim_{n \rightarrow \infty} \frac{a_{n+1}}{a_n} = \lim_{n \rightarrow \infty} \frac{\frac{(n+1)^2}{9^{n+1}}}{\frac{n^2}{9^n}} = \lim_{n \rightarrow \infty} \left(\frac{(n+1)^2}{9^{n+1}} \cdot \frac{9^n}{n^2} \right) = \lim_{n \rightarrow \infty} \left(\frac{1}{9} \cdot \left(\frac{n+1}{n} \right)^2 \right) = \frac{1}{9} < 1$, что означает, что исследуемый ряд сходится.

ЗАДАНИЕ 3.33. Исследовать сходимость ряда $\sum_{n=1}^{\infty} \left(\frac{5n+3}{2n+1} \right)^{2n}$.

Решение. Воспользуемся признаком Коши и вычислим $\lim_{n \rightarrow \infty} \sqrt[n]{a_n} = \lim_{n \rightarrow \infty} \left(\frac{5n+3}{2n+1} \right)^{2n \cdot \frac{1}{n}} = \lim_{n \rightarrow \infty} \left(\frac{5n+3}{2n+1} \right)^2 = \lim_{n \rightarrow \infty} \frac{25n^2 + 15n + 9}{4n^2 + 4n + 1} = \frac{25}{4} > 1$, что означает, что исследуемый ряд расходится.

ЗАДАНИЕ 3.34. Исследовать сходимость ряда $\sum_{n=1}^{\infty} \frac{1}{n}$.

Решение. Воспользуемся интегральным признаком и вычислим $\int_1^{\infty} \frac{1}{x} dx = \lim_{b \rightarrow \infty} \int_1^b \frac{1}{x} dx = \lim_{b \rightarrow \infty} (\ln b - \ln 1) = \infty$, что означает, что исследуемый ряд расходится.

ЗАДАНИЕ 3.35 Исследовать на абсолютную и условную сходимость ряд $\sum_{n=1}^{\infty} \frac{(-1)^{n-1}}{n^3}$.

Решение. Сначала попытаемся показать абсолютную сходимость ряда, то есть рассмотрим ряд $\sum_{n=1}^{\infty} \frac{1}{n^3}$. Воспользуемся интегральным признаком и вычислим $\int_1^{\infty} \frac{1}{x^3} dx = \lim_{b \rightarrow \infty} \int_1^b \frac{1}{x^3} dx =$

$\lim_{b \rightarrow \infty} \left(-\frac{1}{2b^2} + \frac{1}{2}\right) = \frac{1}{2}$, что означает, что исследуемый ряд сходится. То есть исходный ряд является абсолютно сходящимся.

ЗАДАНИЕ 3.36. Определить область сходимости ряда $\sum_{n=1}^{\infty} \left(1 + \frac{1}{n}\right)^{n^2} x^n$.

Решение. Изучается степенной ряд $\sum_{n=1}^{\infty} a_n x^n$, где $a_n = \left(1 + \frac{1}{n}\right)^{n^2}$.

Заметим, что последовательность $\{a_n\}$ является бесконечно большой:

$$\lim_{n \rightarrow \infty} a_n = \lim_{n \rightarrow \infty} \left(1 + \frac{1}{n}\right)^{n^2} = \lim_{n \rightarrow \infty} \left(\left(1 + \frac{1}{n}\right)^n\right)^n = \lim_{n \rightarrow \infty} e^n = \infty,$$

а, следовательно, неограниченной, то согласно теореме Коши-Адамара ряд $\sum_{n=1}^{\infty} \left(1 + \frac{1}{n}\right)^{n^2} x^n$ сходится только при $x = 0$.

ЗАДАНИЕ 3.37. Вычислить частные производные 1-го порядка функции трех переменных $u = \left(\frac{x}{y}\right)^z$.

Решение.

$$\begin{aligned} \frac{\partial u}{\partial x} &= z \left(\frac{x}{y}\right)^{z-1} \cdot \frac{1}{y} = z x^{z-1} y^{-z}; \\ \frac{\partial u}{\partial y} &= z \left(\frac{x}{y}\right)^{z-1} \cdot \left(-\frac{x}{y^2}\right) = -z x^z y^{-z-1}; \\ \frac{\partial u}{\partial z} &= \left(\frac{x}{y}\right)^z \cdot \ln \frac{x}{y}. \end{aligned}$$

ЗАДАНИЕ 3.38. Вычислить значения частных производных 1-го и 2-го порядков функции двух переменных $z = 2x^3 - 4x^4y^3 + 3y^5$.

Решение.

$$\begin{aligned} \frac{\partial z}{\partial x} &= 6x^2 - 16x^3y^3; \\ \frac{\partial z}{\partial y} &= -12x^4y^2 + 15y^4; \\ \frac{\partial^2 z}{\partial x^2} &= \frac{\partial}{\partial x} (6x^2 - 16x^3y^3) = 12x - 48x^2y^3; \\ \frac{\partial^2 z}{\partial y^2} &= \frac{\partial}{\partial y} (-12x^4y^2 + 15y^4) = -24x^4y + 60y^3; \\ \frac{\partial^2 z}{\partial x \partial y} &= \frac{\partial}{\partial y} (6x^2 - 16x^3y^3) = \frac{\partial}{\partial x} (-12x^4y^2 + 15y^4) = -48x^3y^2. \end{aligned}$$

ЗАДАНИЕ 3.39. Вычислить частные производные 1-го и 2-го порядка функции $z = \operatorname{arctg} \frac{x}{y}$.

Решение.

$$\begin{aligned} \frac{\partial z}{\partial x} &= \frac{1}{1 + \left(\frac{x}{y}\right)^2} \cdot \frac{1}{y} = \frac{y}{x^2 + y^2} = y(x^2 + y^2)^{-1}; \\ \frac{\partial z}{\partial y} &= \frac{1}{1 + \left(\frac{x}{y}\right)^2} \cdot \left(-\frac{x}{y^2}\right) = -\frac{x}{x^2 + y^2} = -x(x^2 + y^2)^{-1}; \\ \frac{\partial^2 z}{\partial x^2} &= \frac{\partial}{\partial x} (y(x^2 + y^2)^{-1}) = -y(x^2 + y^2)^{-2} \cdot 2x = -\frac{2xy}{(x^2 + y^2)^2}; \\ \frac{\partial^2 z}{\partial y^2} &= \frac{\partial}{\partial y} (-x(x^2 + y^2)^{-1}) = x(x^2 + y^2)^{-2} \cdot 2y = \frac{2xy}{(x^2 + y^2)^2}; \\ \frac{\partial^2 z}{\partial x \partial y} &= \frac{\partial}{\partial y} (y(x^2 + y^2)^{-1}) = \frac{\partial}{\partial x} (-x(x^2 + y^2)^{-1}) = (x^2 + y^2)^{-1} + y(x^2 + y^2)^{-2} \cdot (-2y) = \frac{x^2 - y^2}{(x^2 + y^2)^2}. \end{aligned}$$

ЗАДАНИЕ 3.40. Построить полные дифференциалы 1-го и 2-го порядков для функции двух переменных $z = e^{y \ln x}$.

Решение. Преобразуем функцию: $z = x^y$. Тогда

$$\frac{\partial z}{\partial x} = yx^{y-1}, \quad \frac{\partial z}{\partial y} = x^y \cdot \ln x,$$

следовательно,

$$dz = yx^{y-1}dx + x^y \cdot \ln x dy;$$

$$\frac{\partial^2 z}{\partial x^2} = y(y-1)x^{y-2}, \frac{\partial^2 z}{\partial y^2} = x^y \cdot \ln^2 x, \frac{\partial^2 z}{\partial x \partial y} = yx^{y-1} \ln x + x^y \cdot \frac{1}{x} = x^{y-1}(y \ln x + 1),$$

следовательно,

$$d^2 z = y(y-1)x^{y-2}dx^2 + 2x^{y-1}(y \ln x + 1) dx dy + x^y \cdot \ln^2 x dy^2.$$

ЗАДАНИЕ 3.41. Найти локальный экстремум $(x_0; y_0)$ функции двух переменных $z = 0,5x^2 + 0,5xy + y^2 + 4x + 2y + 2$.

Решение. Найдем стационарные и критические точки. Для этого решим систему уравнений:

$$\begin{cases} \frac{\partial z}{\partial x} = x + 0,5y + 4 = 0, \\ \frac{\partial z}{\partial y} = 0,5x + 2y + 2 = 0; \end{cases} \Leftrightarrow \begin{cases} x = -0,5y - 4, \\ y = 0; \end{cases} \Leftrightarrow \begin{cases} x = -4, \\ y = 0. \end{cases}$$

Следовательно, точка $(-4; 0)$ является подозрительной на экстремум. Воспользуемся достаточным условием строгого экстремума функции, то есть выявим его и классифицируем (точка максимума / точка минимума) с помощью определения знаков $\frac{\partial^2 z}{\partial x^2}$ и $\frac{\partial^2 z}{\partial x^2} \cdot \frac{\partial^2 z}{\partial y^2} - \left(\frac{\partial^2 z}{\partial x \partial y}\right)^2$ в точке $(-4; 0)$:

$$\frac{\partial^2 z}{\partial x^2} = 1 > 0, \frac{\partial^2 z}{\partial y^2} = 2, \frac{\partial^2 z}{\partial x \partial y} = 0,5;$$

$$\frac{\partial^2 z}{\partial x^2} \cdot \frac{\partial^2 z}{\partial y^2} - \left(\frac{\partial^2 z}{\partial x \partial y}\right)^2 = 1 \cdot 2 - (0,5)^2 = 1,75 > 0.$$

Таким образом, точка $(-4; 0)$ является точкой строгого минимума.

ЗАДАНИЕ 3.42. Найти локальный экстремум $(x_0; y_0)$ функции двух переменных $z = x^2 + 1,5xy + 1,5y^2 + 2x + 4y + 4$.

Решение. Найдем стационарные и критические точки. Для этого решим систему уравнений:

$$\begin{cases} \frac{\partial z}{\partial x} = 2x + 1,5y + 2 = 0, \\ \frac{\partial z}{\partial y} = 1,5x + 3y + 4 = 0; \end{cases} \Leftrightarrow \begin{cases} x = -0,75y - 1, \\ y = -\frac{4}{3}; \end{cases} \Leftrightarrow \begin{cases} x = 0, \\ y = -\frac{4}{3}. \end{cases}$$

Следовательно, точка $(0; -\frac{4}{3})$ является подозрительной на экстремум. Воспользуемся достаточным условием строгого экстремума функции, то есть выявим его и классифицируем (точка максимума / точка минимума) с помощью определения знаков $\frac{\partial^2 z}{\partial x^2}$ и $\frac{\partial^2 z}{\partial x^2} \cdot \frac{\partial^2 z}{\partial y^2} - \left(\frac{\partial^2 z}{\partial x \partial y}\right)^2$ в точке $(0; -\frac{4}{3})$:

$$\frac{\partial^2 z}{\partial x^2} = 2 > 0, \frac{\partial^2 z}{\partial y^2} = 3, \frac{\partial^2 z}{\partial x \partial y} = 1,5;$$

$$\frac{\partial^2 z}{\partial x^2} \cdot \frac{\partial^2 z}{\partial y^2} - \left(\frac{\partial^2 z}{\partial x \partial y}\right)^2 = 2 \cdot 3 - (1,5)^2 = 4,75 > 0.$$

Таким образом, точка $(0; -\frac{4}{3})$ является точкой строгого минимума.

ЗАДАНИЕ 3.43. Найти локальный экстремум $(x_0; y_0)$ функции двух переменных $z = -x^2 - xy - y^2 + 2x - 4y - 5$.

Решение. Найдем стационарные и критические точки. Для этого решим систему уравнений:

$$\begin{cases} \frac{\partial z}{\partial x} = -2x - y + 2 = 0, \\ \frac{\partial z}{\partial y} = -x - 2y - 4 = 0; \end{cases} \Leftrightarrow \begin{cases} y = -2x + 2, \\ x = \frac{8}{3}; \end{cases} \Leftrightarrow \begin{cases} y = -\frac{10}{3}, \\ x = \frac{8}{3}. \end{cases}$$

Следовательно, точка $\left(\frac{8}{3}; -\frac{10}{3}\right)$ является подозрительной на экстремум. Воспользуемся достаточным условием строгого экстремума функции, то есть выявим его и классифицируем (точка максимума / точка минимума) с помощью определения знаков $\frac{\partial^2 z}{\partial x^2}$ и $\frac{\partial^2 z}{\partial x^2} \cdot \frac{\partial^2 z}{\partial y^2} - \left(\frac{\partial^2 z}{\partial x \partial y}\right)^2$ в точке $\left(\frac{8}{3}; -\frac{10}{3}\right)$:

$$\begin{aligned} \frac{\partial^2 z}{\partial x^2} &= -2 < 0, \quad \frac{\partial^2 z}{\partial y^2} = -2, \quad \frac{\partial^2 z}{\partial x \partial y} = -1; \\ \frac{\partial^2 z}{\partial x^2} \cdot \frac{\partial^2 z}{\partial y^2} - \left(\frac{\partial^2 z}{\partial x \partial y}\right)^2 &= -2 \cdot (-2) - (-1)^2 = 3 > 0. \end{aligned}$$

Таким образом, точка $\left(\frac{8}{3}; -\frac{10}{3}\right)$ является точкой строгого максимума.

ЗАДАНИЕ 3.44. Вычислить повторный интеграл $\int_1^5 \left(\int_0^3 (3x - y) dy \right) dx$.

Решение. $\int_1^5 \left(\int_0^3 (3x - y) dy \right) dx = \int_1^5 \left(3xy - \frac{y^2}{2} \right) \Big|_0^3 dx = \int_1^5 \left(3x \cdot 3 - \frac{3^2}{2} - 3x \cdot 0 + \frac{0^2}{2} \right) dx =$
 $9 \int_1^5 \left(x - \frac{1}{2} \right) dx = \frac{9}{2} \cdot (x^2 - x) \Big|_1^5 = \frac{9}{2} \cdot (5^2 - 5 - 1^2 + 1) = 90.$

ЗАДАНИЕ 3.45. Вычислить повторный интеграл $\int_1^2 \left(\int_1^x (x^2 + 2) dy \right) dx$.

Решение. $\int_1^2 \left(\int_1^x (x^2 + 2) dy \right) dx = \int_1^2 (x^2 + 2) \cdot y \Big|_1^x dx = \int_1^2 (x^2 + 2)(x - 1) dx = \int_1^2 (x^3 - x^2 + 2x - 2) dx =$
 $\left(\frac{x^4}{4} - \frac{x^3}{3} + x^2 - 2x \right) \Big|_1^2 = \frac{2^4}{4} - \frac{2^3}{3} + 2^2 - 2 \cdot 2 - \frac{1^4}{4} + \frac{1^3}{3} - 1^2 + 2 \cdot 1 = 3 - \frac{1}{3} - \frac{1}{4} = 2\frac{5}{12}.$

ЗАДАНИЕ 3.46. Найти $F'(\alpha)$, если $F(\alpha) = \int_{3\alpha}^{\alpha^2} e^{\alpha x^2} dx$.

Решение. $F'(\alpha) = e^{\alpha(\alpha^2)^2} (\alpha^2)' - e^{\alpha(3\alpha)^2} (3\alpha)' + \int_{3\alpha}^{\alpha^2} (e^{\alpha x^2})'_{\alpha} dx = 2\alpha e^{\alpha^5} - 3e^{9\alpha^3} +$
 $\int_{3\alpha}^{\alpha^2} x^2 e^{\alpha x^2} dx.$

4) открытые задания (расчетные, повышенный уровень сложности):

ЗАДАНИЕ 4.1. Доказать:

$$\sup(X + Y) = \sup(X) + \sup(Y),$$

где X, Y – некоторые ограниченные сверху числовые множества и $X + Y = \{x + y | x \in X, y \in Y\}$.

Решение. Пусть $M_1 = \sup(X)$, $M_2 = \sup(Y)$, $M = M_1 + M_2$, то есть истинны следующие высказывания:

$$\begin{aligned} \forall (x \in X) [x \leq M_1], \\ \forall (\varepsilon > 0) \exists (x_1 \in X) [x_1 > M_1 - \varepsilon]; \\ \forall (y \in Y) [y \leq M_2], \\ \forall (\varepsilon > 0) \exists (y_1 \in Y) [y_1 > M_2 - \varepsilon]; \end{aligned}$$

следовательно, имеют место и следующие высказывания

$$\begin{aligned} \forall (x \in X, y \in Y) [x + y \leq M_1 + M_2 = M], \\ \forall (\varepsilon > 0) \exists (x_1 \in X, y_1 \in Y) [x_1 + y_1 > M_1 + M_2 - 2\varepsilon = M - 2\varepsilon], \end{aligned}$$

которые, можно записать относительно множества $X + Y$ следующим образом:

$$\begin{aligned} \forall (a \in X + Y) [a \leq M], \\ \forall (\varepsilon > 0) \exists (a_1 \in X + Y) [a_1 > M - 2\varepsilon], \end{aligned}$$

означающие, что $M = \sup(X + Y)$.

ЗАДАНИЕ 4.2. Воспользовавшись определением предела числовой последовательности, доказать, что $\lim_{n \rightarrow \infty} \frac{3n+2}{n+1} = 3$.

Решение. Согласно определению предела числовой последовательности, указанное равенство эквивалентно следующему высказыванию

$$\forall(\varepsilon > 0) \exists(n_0 \in \mathbb{N}) \forall(n \in \mathbb{N} | n \geq n_0) \left[\left| \frac{3n+2}{n+1} - 3 \right| < \varepsilon \right].$$

Таким образом, задача сводится к поиску натурального n_0 , начиная с которого все члены последовательности $\left\{ \frac{3n+2}{n+1} \right\}$ будут находиться в окрестности $U_\varepsilon(3)$ (для произвольного положительного ε).

Преобразуем неравенство (при $n \in \mathbb{N}$)

$$\begin{aligned} \left| \frac{3n+2}{n+1} - 3 \right| < \varepsilon, \\ \left| \frac{-1}{n+1} \right| < \varepsilon, \\ \frac{1}{n+1} < \varepsilon, \\ n > \frac{1-\varepsilon}{\varepsilon} = \frac{1}{\varepsilon} - 1, \end{aligned}$$

то есть, если в качестве n_0 взять ближайшее к $\frac{1}{\varepsilon}$ натуральное число, то указанное высказывание будет верным.

ЗАДАНИЕ 4.3. Вычислить предел последовательности $\lim_{n \rightarrow \infty} \left(\frac{n^2+3n-1}{n^2+4n-2} \right)^n$.

Решение.

$$\lim_{n \rightarrow \infty} \left(\frac{n^2+3n-1}{n^2+4n-2} \right)^n = \lim_{n \rightarrow \infty} \left(1 + \frac{n+1}{n^2+4n-2} \right)^n =$$

$$\left(\begin{aligned} t &= \frac{n^2+4n-2}{n+1} \\ n \rightarrow \infty &\Rightarrow t \rightarrow \infty \\ n = t \cdot \frac{n}{t} &= t \cdot \frac{n(n+1)}{n^2+4n-2} = t \cdot \frac{\frac{n(n+1)}{n}}{\frac{n^2+4n-2}{n^2}} = t \cdot \frac{1+\frac{1}{n}}{1+\frac{4}{n}-\frac{2}{n^2}} \end{aligned} \right) = \lim_{t \rightarrow \infty} \left(\left(1 + \frac{1}{t} \right)^t \right)^{\frac{1+\frac{1}{n}}{1+\frac{4}{n}-\frac{2}{n^2}}} = e^{\frac{1+0}{1+0-0}} = e.$$

ЗАДАНИЕ 4.4. Вычислить предел функции $\lim_{x \rightarrow 4} \frac{\sqrt{1+2x}-3}{\sqrt{x}-2}$.

Решение. $\lim_{x \rightarrow 4} \frac{\sqrt{1+2x}-3}{\sqrt{x}-2} = \lim_{x \rightarrow 4} \left(\frac{(\sqrt{1+2x}-3)(\sqrt{1+2x}+3)}{(\sqrt{x}-2)(\sqrt{x}+2)} \cdot \frac{\sqrt{x}+2}{\sqrt{1+2x}+3} \right) = \lim_{x \rightarrow 4} \left(\frac{1+2x-9}{x-4} \cdot \frac{\sqrt{x}+2}{\sqrt{1+2x}+3} \right) = \lim_{x \rightarrow 4} \left(\frac{2(x-4)}{x-4} \cdot \frac{\sqrt{x}+2}{\sqrt{1+2x}+3} \right) =$

$$\lim_{x \rightarrow 4} \left(2 \cdot \frac{\sqrt{x}+2}{\sqrt{1+2x}+3} \right) = 2 \cdot \frac{\sqrt{4}+2}{\sqrt{1+2 \cdot 4}+3} = 2 \cdot \frac{4}{6} = \frac{4}{3} = 1 \frac{1}{3}.$$

ЗАДАНИЕ 4.5. Вычислить предел функции $\lim_{x \rightarrow +\infty} \left(\sqrt{x + \sqrt{x + \sqrt{x}}} - \sqrt{x} \right)$.

Решение. $\lim_{x \rightarrow +\infty} \left(\sqrt{x + \sqrt{x + \sqrt{x}}} - \sqrt{x} \right) = \lim_{x \rightarrow +\infty} \frac{(\sqrt{x + \sqrt{x + \sqrt{x}}} - \sqrt{x})(\sqrt{x + \sqrt{x + \sqrt{x}}} + \sqrt{x})}{\sqrt{x + \sqrt{x + \sqrt{x}}} + \sqrt{x}} =$

$$\lim_{x \rightarrow +\infty} \frac{x + \sqrt{x + \sqrt{x}} - x}{\sqrt{x + \sqrt{x + \sqrt{x}}} + \sqrt{x}} = \lim_{x \rightarrow +\infty} \frac{\sqrt{x + \sqrt{x}}}{\sqrt{x + \sqrt{x + \sqrt{x}}} + \sqrt{x}} = \lim_{x \rightarrow +\infty} \frac{\sqrt{x + \sqrt{x}}}{\sqrt{x + \sqrt{x + \sqrt{x}}} + \sqrt{x}} = \lim_{x \rightarrow +\infty} \frac{\frac{\sqrt{x + \sqrt{x}}}{x}}{\frac{\sqrt{x + \sqrt{x + \sqrt{x}}}}{x} + \frac{\sqrt{x}}{x}} = \lim_{x \rightarrow +\infty} \frac{\sqrt{1 + \frac{1}{x}}}{1 + \sqrt{1 + \frac{1}{x}} + 1} =$$

$$\frac{\sqrt{1+0}}{\sqrt{1+\sqrt{0+0}}+1} = \frac{1}{2} = 0,5.$$

ЗАДАНИЕ 4.6. Вычислить производную y'_x функции $y = e^{\operatorname{arctg} \frac{x-1}{x+1}}$.

Решение. $y'_x = \left(e^{\operatorname{arctg} \frac{x-1}{x+1}} \right)' = e^{\operatorname{arctg} \frac{x-1}{x+1}} \cdot \left(\operatorname{arctg} \frac{x-1}{x+1} \right)' = e^{\operatorname{arctg} \frac{x-1}{x+1}} \cdot \frac{1}{1 + \left(\frac{x-1}{x+1} \right)^2} \cdot \left(\frac{x-1}{x+1} \right)' = e^{\operatorname{arctg} \frac{x-1}{x+1}} \cdot \frac{(x+1)^2}{2(x^2+1)} \cdot \frac{(x-1)' \cdot (x+1) - (x-1) \cdot (x+1)'}{(x+1)^2} = e^{\operatorname{arctg} \frac{x-1}{x+1}} \cdot \frac{(x+1)^2}{2(x^2+1)} \cdot \frac{1 \cdot (x+1) - (x-1) \cdot 1}{(x+1)^2} = e^{\operatorname{arctg} \frac{x-1}{x+1}} \cdot \frac{(x+1)^2}{2(x^2+1)} \cdot \frac{2}{(x+1)^2} = \frac{e^{\operatorname{arctg} \frac{x-1}{x+1}}}{x^2+1}.$

ЗАДАНИЕ 4.7. Вычислить производную y'_x функции $y = \frac{(2-x^2)(2-x^3)}{(1-x)^2}$.

Решение. $y = \frac{(2-x^2)(2-x^3)}{(1-x)^2}$, следовательно, $\ln y = \ln \frac{(2-x^2)(2-x^3)}{(1-x)^2} = \ln(2-x^2) + \ln(2-x^3) - 2 \ln(1-x)$. Продифференцируем обе части полученного равенства:

$$\frac{y'_x}{y} = \frac{-2x}{2-x^2} + \frac{-3x^2}{2-x^3} - 2 \cdot \frac{-1}{1-x} = -\frac{2x}{2-x^2} - \frac{3x^2}{2-x^3} + \frac{2}{1-x}.$$

Таким образом, $y'_x = \frac{(2-x^2)(2-x^3)}{(1-x)^2} \cdot \left(-\frac{2x}{2-x^2} - \frac{3x^2}{2-x^3} + \frac{2}{1-x} \right)$.

ЗАДАНИЕ 4.8. Вычислить производную y''_x функции, заданной параметрически,

$$\begin{cases} x = t + t^2, \\ y = 3t^8 - 6t + 5. \end{cases}$$

Решение. $y'_x = \frac{y'_t}{x'_t} = \frac{(t+t^2)'}{(3t^8-6t+5)'} = \frac{t+1}{24t^7-6}$.

$$y''_x = (y'_x)' = \frac{(y'_x)'_t}{(x'_t)'} = \frac{\left(\frac{t+1}{24t^7-6} \right)'_t}{(3t^8-6t+5)'} = \frac{\frac{24t^7-6-168t^6(t+1)}{(24t^7-6)^2}}{24t^7-6} = -\frac{144t^7+168t^6+6}{(24t^7-6)^3} = -\frac{144t^7+168t^6+6}{216(4t^7-1)^3} = -\frac{24t^7+28t^6+1}{36(4t^7-1)^3}.$$

ЗАДАНИЕ 4.9. Вычислить производную y'_x функции, заданной в неявном виде уравнением $y = x \ln(xy)$.

Решение. Продифференцируем указанное равенство, получим:

$$\begin{aligned} y' &= (x \ln(xy))', \\ y' &= x' \cdot \ln(xy) + x \cdot (\ln(xy))', \\ y' &= 1 \cdot \ln(xy) + x \cdot \frac{1}{xy} \cdot (xy)', \\ y' &= \ln(xy) + \frac{1}{y} \cdot (x' \cdot y + x \cdot y'), \\ y' &= \ln(xy) + \frac{1}{y} \cdot (1 \cdot y + x \cdot y'), \\ y' &= \ln(xy) + 1 + \frac{x \cdot y'}{y}, \\ (y-x) \cdot y' &= y(\ln(xy) + 1), \\ y' &= \frac{y(\ln(xy)+1)}{y-x}. \end{aligned}$$

ЗАДАНИЕ 4.10. Вычислить производную y'_x функции, заданной в неявном виде уравнением $\sin y = xy^2 + 5$.

Решение. Продифференцируем указанное равенство, получим:

$$\begin{aligned} (\sin y)' &= (xy^2 + 5)', \\ \cos y \cdot y' &= x' \cdot y^2 + x \cdot (y^2)', \\ \cos y \cdot y' &= 1 \cdot y^2 + x \cdot 2y \cdot y', \\ (\cos y - 2xy) \cdot y' &= y^2, \\ y' &= \frac{y^2}{\cos y - 2xy}. \end{aligned}$$

ЗАДАНИЕ 4.11. Пользуясь теорией дифференциала, приближенно вычислить $\sqrt{24}$.

Решение. Воспользуемся формулой $f(x_0 + \Delta x) \approx f(x_0) + f'(x_0) \cdot \Delta x$. В условиях задачи $f(x) = \sqrt{x}$, следовательно, $f'(x) = \frac{1}{2\sqrt{x}}$. Таким образом,

$$\sqrt{24} = \sqrt{25-1} = \left\langle \begin{matrix} x_0 = 25 \\ \Delta x = -1 \end{matrix} \right\rangle \approx \sqrt{25} + \frac{1}{2\sqrt{25}} \cdot (-1) = 5 - \frac{1}{2 \cdot 5} = 4,9.$$

ЗАДАНИЕ 4.12. Разложить в ряд Маклорена с остаточным членом в форме Пеано до x^3 функцию $f(x) = \frac{1+x+x^2}{1-x+x^2}$.

Решение. Необходимо получить представление вида:

$$f(x) = f(0) + \frac{f'(0)}{1!}x + \frac{f''(0)}{2!}x^2 + \frac{f'''(0)}{3!}x^3 + o(x^3),$$

то есть следует вычислить $f'(x)$, $f''(x)$ и $f'''(x)$:

$$f'(x) = \left(\frac{1+x+x^2}{1-x+x^2} \right)' = \frac{(1+2x)(1-x+x^2) - (-1+2x)(1+x+x^2)}{(1-x+x^2)^2} = \frac{(1-x+x^2+1+x+x^2)+2x(1-x+x^2-1-x-x^2)}{(1-x+x^2)^2} = \frac{2(1-x^2)}{(1-x+x^2)^2},$$

$$f''(x) = \left(\frac{2-2x^2}{(1-x+x^2)^2} \right)' = \frac{-4x(1-x+x^2)^2 - 2(1-x+x^2)(-1+2x)(2-2x^2)}{(1-x+x^2)^4} = -4 \cdot \frac{x(1-x+x^2)+(-1+2x)(1-x^2)}{(1-x+x^2)^3} = -4 \cdot \frac{x-x^2+x^3-1+2x+x^2-2x^3}{(1-x+x^2)^3} = \frac{4(1-3x+x^3)}{(1-x+x^2)^3},$$

$$f'''(x) = \left(\frac{4-12x+4x^3}{(1-x+x^2)^3} \right)' = \frac{(-12+8x^2)(1-x+x^2)^3 - 3(1-x+x^2)^2(-1+2x)(4-12x+4x^3)}{(1-x+x^2)^6}.$$

Следовательно, $f(0) = 1$, $f'(0) = 2$, $f''(0) = 4$, $f'''(0) = -12 - 3 \cdot (-1) \cdot 4 = 0$, и разложение функции примет вид:

$$f(x) = 1 + 2x + 2x^2 + 0 \cdot x^3 + o(x^3).$$

ЗАДАНИЕ 4.13. Разложить в ряд Маклорена с остаточным членом в форме Пеано до x^3 функцию $f(x) = \ln(4x+1)$.

Решение. Необходимо получить представление вида:

$$f(x) = f(0) + \frac{f'(0)}{1!}x + \frac{f''(0)}{2!}x^2 + \frac{f'''(0)}{3!}x^3 + o(x^3),$$

то есть следует вычислить $f'(x)$, $f''(x)$ и $f'''(x)$:

$$f'(x) = (\ln(4x+1))' = \frac{4}{4x+1} = 4(4x+1)^{-1},$$

$$f''(x) = (4(4x+1)^{-1})' = 4(4x+1)^{-2} \cdot (-1) \cdot 4 = -16(4x+1)^{-2},$$

$$f'''(x) = (-16(4x+1)^{-2})' = -16(4x+1)^{-3} \cdot (-2) \cdot 4 = 128(4x+1)^{-3}.$$

Следовательно, $f(0) = 0$, $f'(0) = 4$, $f''(0) = -16$, $f'''(0) = 128$, и разложение функции примет вид:

$$f(x) = 0 + 4x - 8x^2 + \frac{64}{3}x^3 + o(x^3).$$

ЗАДАНИЕ 4.14. Указать точки перегиба графика функции $y = \sqrt[3]{1-x^3}$.

Решение. Для определения выпуклости (и точек перегиба) вычислим вторую производную функции:

$$y' = -3x^2(1-x^3)^{-\frac{2}{3}},$$

$$y'' = -3 \left(2x(1-x^3)^{-\frac{2}{3}} + x^2 \cdot \left(-\frac{2}{3}\right)(1-x^3)^{-\frac{5}{3}} \cdot (-3x^2) \right) = -(1-x^3)^{-\frac{5}{3}}(6x(1-x^3) + 6x^4) =$$

$$-6x(1-x^3)^{-\frac{5}{3}} = \frac{-6x}{\sqrt[3]{(1-x^3)^5}},$$

$$\frac{-6x}{\sqrt[3]{(1-x^3)^5}} = 0 \Leftrightarrow \begin{cases} x = 0, \\ x \neq \pm 1. \end{cases}$$

С помощью метода интервалов определим промежутки знакопостоянства функции y'' и характер выпуклости функции y :

-	+	0	-	+	y''
	(\neq) -1	0		(\neq) 1	x

выпукла вверх выпукла вниз выпукла вверх выпукла вниз y

Таким образом, точка $(0; 1)$ является точкой перегиба исходной функции.

ЗАДАНИЕ 4.15. Указать точки перегиба графика функции $y = \frac{(x-4)^2}{(x-1)^2}$.

Решение. Для определения выпуклости (и точек перегиба) вычислим вторую производную функции:

$$y' = \frac{2(x-4)(x-1)^2 - 2(x-1)(x-4)^2}{(x-1)^4} = 2 \cdot \frac{(x-4)(x-1) - (x-4)^2}{(x-1)^3} = 2 \cdot \frac{(x-4)(x-1-x+4)}{(x-1)^3} = \frac{6(x-4)}{(x-1)^3} = \frac{6x-24}{(x-1)^3},$$

$$y'' = \frac{6(x-1)^3 - 3(x-1)^2 \cdot 6(x-4)}{(x-1)^6} = 6 \cdot \frac{x-1-3(x-4)}{(x-1)^4} = \frac{-6(2x-11)}{(x-1)^4},$$

$$\frac{-6(2x-11)}{(x-1)^4} = 0 \Leftrightarrow \begin{cases} x = 5,5, \\ x \neq 1. \end{cases}$$

С помощью метода интервалов определим промежутки знакопостоянства функции y'' и характер выпуклости функции y :

+	+	-	y''
выпукла вниз	выпукла вниз	выпукла вверх	x
	(\neq) 1	5,5	y

Таким образом, точка $(5,5; \frac{1}{9})$ является точкой перегиба исходной функции.

ЗАДАНИЕ 4.16. Исследовать на выпуклость функцию $y = \frac{x^4-3}{x}$, указать точки перегиба (при наличии).

Решение. Для определения выпуклости вычислим вторую производную функции:

$$y' = \frac{4x^3 \cdot x - (x^4-3)}{x^2} = \frac{3x^4+3}{x^2},$$

$$y'' = \frac{12x^3 \cdot x^2 - 2x \cdot (3x^4+3)}{x^4} = \frac{6(x^4-1)}{x^3},$$

$$\frac{6(x^4-1)}{x^3} = 0 \Leftrightarrow \begin{cases} x = \pm 1, \\ x \neq 0. \end{cases}$$

С помощью метода интервалов определим промежутки знакопостоянства функции y'' и характер выпуклости функции y :

-	+	-	+	y''
выпукла вверх	выпукла вниз	выпукла вверх	выпукла вниз	x
	-1	(\neq) 0	1	y

Таким образом, функция выпукла вверх на множестве $(-\infty; -1] \cup (0; 1]$ и выпукла вниз на множестве $[-1; 0) \cup [1; +\infty)$, точки $(-1; 2)$, $(1; -2)$ являются точками перегиба.

ЗАДАНИЕ 4.17. Найти длину дуги, заданной функцией $y = x^{\frac{3}{2}}$ при $0 \leq x \leq 4$.

Решение. Длина искомой дуги вычисляется по формуле:

$$l = \int_0^4 \sqrt{1 + \left(\left(x^{\frac{3}{2}} \right)' \right)^2} dx = \int_0^4 \sqrt{1 + \left(\frac{3}{2} x^{\frac{1}{2}} \right)^2} dx = \int_0^4 \sqrt{1 + \frac{9x}{4}} dx = \left\langle \begin{array}{l} t = 1 + \frac{9x}{4} \\ dt = \frac{9}{4} dx \\ dx = \frac{4}{9} dt \end{array} \right\rangle = \frac{4}{9} \int_1^{10} \sqrt{t} dt =$$

$$\begin{array}{l} x = 0 \Rightarrow t = 1 \\ x = 4 \Rightarrow t = 10 \end{array}$$

$$\frac{4}{9} \cdot \frac{2}{3} \cdot (\sqrt{t^3}) \Big|_1^{10} = \frac{8}{27} \cdot (10\sqrt{10} - 1).$$

ЗАДАНИЕ 4.18. Найти длину дуги, заданной функцией $y = 2(x - 1)^{\frac{3}{2}}$ при $\frac{4}{3} \leq x \leq \frac{11}{3}$.

Решение. Длина искомой дуги вычисляется по формуле:

$$l = \int_{\frac{4}{3}}^{\frac{11}{3}} \sqrt{1 + \left((2(x-1)^{\frac{3}{2}})' \right)^2} dx = \int_{\frac{4}{3}}^{\frac{11}{3}} \sqrt{1 + \left(3(x-1)^{\frac{1}{2}} \right)^2} dx = \int_{\frac{4}{3}}^{\frac{11}{3}} \sqrt{1 + 9(x-1)} dx =$$

$$\int_{\frac{4}{3}}^{\frac{11}{3}} \sqrt{9x - 8} dx = \left(\begin{array}{l} t = 9x - 8 \\ dt = 9dx \\ dx = \frac{1}{9} dt \\ x = \frac{4}{3} \Rightarrow t = 4 \\ x = \frac{11}{3} \Rightarrow t = 16 \end{array} \right) = \frac{1}{9} \int_4^{16} \sqrt{t} dt = \frac{1}{9} \cdot \frac{2}{3} (\sqrt{t^3}) \Big|_4^{16} = \frac{2}{27} \cdot (64 - 8) = \frac{112}{27} = 4 \frac{4}{27}.$$

ЗАДАНИЕ 4.19. Найти объем пространств, ограниченных поверхностями $\frac{x^2}{a^2} + \frac{y^2}{b^2} = 1$, $z = \frac{c}{a}x$, $z = 0$.

Решение. Тело представляет собой часть цилиндра, ограниченного двумя плоскостями. При каждом $y \in [-b; b]$ поперечное сечение тела представляет собой прямоугольный равнобедренный треугольник с катетом $\sqrt{a^2 - a^2 \frac{y^2}{b^2}}$, следовательно, площадь поперечного сечения равна $\frac{a^2}{2} \left(1 - \frac{y^2}{b^2}\right)$. Таким образом, объем тела:

$$V = \int_{-b}^b \frac{a^2}{2} \left(1 - \frac{y^2}{b^2}\right) dy = \frac{a^2}{2} \left(y - \frac{y^3}{3b^2}\right) \Big|_{y=-b}^{y=b} = \frac{a^2}{2} \left(b - \frac{b^3}{3b^2} - (-b) - \frac{(-b)^3}{3b^2}\right) = \frac{2}{3} a^2 b.$$

ЗАДАНИЕ 4.20. Найти объем тела, полученного вращением вокруг оси Oх фигуры, ограниченной линиями $y = \frac{6}{x}$, $y = 7 - x$.

Решение. Найдем точку пересечения графиков функций $y = \frac{6}{x}$, $y = 7 - x$:

$$\frac{6}{x} = 7 - x,$$

$$\frac{x^2 - 7x + 6}{x} = 0 \Leftrightarrow \begin{cases} x = 1, \\ x = 6, \\ x \neq 0. \end{cases}$$

На интервале (1; 6) график функции $y = 7 - x$ лежит выше графика функции $y = \frac{6}{x}$. Искомый объем вычисляется по формуле:

$$V = \pi \int_1^6 \left(7 - x - \frac{6}{x}\right)^2 dx = \pi \int_1^6 \frac{(-x^2 + 7x - 6)^2}{x^2} dx = \pi \int_1^6 \frac{x^4 - 14x^3 + 61x^2 - 84x + 36}{x^2} dx = \pi \int_1^6 (x^2 - 14x + 61 - 84x^{-1} + 36x^{-2}) dx =$$

$$\left(\frac{x^3}{3} - 7x^2 + 61x - 84 \ln x - \frac{36}{x} \right) \Big|_1^6 = \frac{6^3}{3} - 7 \cdot 6^2 + 61 \cdot 6 - 84 \ln 6 - \frac{36}{6} - \frac{1^3}{3} + 7 \cdot 1^2 - 61 \cdot 1 + 84 \ln 1 + \frac{36}{1} = 72 - 252 + 366 - 84 \ln 6 - 6 - \frac{1}{3} + 7 - 61 + 36 = 161 \frac{2}{3} - 84 \ln 6.$$

ЗАДАНИЕ 4.21. Исследовать на абсолютную и условную сходимость ряд $\sum_{n=1}^{\infty} (-1)^n \frac{n}{n^2+1}$.

Решение. Сначала попытаемся показать абсолютную сходимость ряда, то есть рассмотрим ряд $\sum_{n=1}^{\infty} \frac{n}{n^2+1}$. Воспользуемся интегральным признаком и вычислим $\int_1^{\infty} \frac{x}{x^2+1} dx = \lim_{b \rightarrow \infty} \int_1^b \frac{x}{x^2+1} dx =$

$$\left(\begin{array}{l} t = x^2 + 1 \\ dt = 2x dx \\ x = 1 \Rightarrow t = 2 \\ x = b \Rightarrow t = b^2 + 1 \end{array} \right) = \lim_{b \rightarrow \infty} \int_2^{b^2+1} \frac{dt}{2t} = \frac{1}{2} \cdot \lim_{b \rightarrow \infty} (\ln(b^2 + 1) - \ln 2) = \infty, \text{ что означает, что у исходного}$$

ряда отсутствует абсолютная сходимость. То есть исходный ряд является абсолютно сходящимся.

Проверим условную сходимость. Согласно признаку Лейбница последовательность $\left\{\frac{n}{n^2+1}\right\}$ должна быть бесконечно малой (справедливо, так как $\lim_{n \rightarrow \infty} \frac{n}{n^2+1} = \lim_{n \rightarrow \infty} \frac{\frac{n}{n^2}}{\frac{n^2+1}{n^2}} = \lim_{n \rightarrow \infty} \frac{\frac{1}{n}}{1+\frac{1}{n^2}} = \frac{0}{1+0} = 0$) и невозрастающей (для этого изучим монотонность соответствующей функции $f(x) = \frac{x}{x^2+1}$ на множестве $x \geq 1$):

$$f'(x) = \frac{x^2+1-2x \cdot x}{(x^2+1)^2} = \frac{1-x^2}{(x^2+1)^2},$$

$$\frac{1-x^2}{(x^2+1)^2} = 0 \Leftrightarrow x = \pm 1$$

С помощью метода интервалов определим промежутки знакопостоянства функции y' и характер монотонности функции y :

-	+	-	y'
			x
-1	1	1	y
убывает	возрастает	убывает	

Следовательно, на множестве $[1; +\infty)$ функция $f(x) = \frac{x}{x^2+1}$ убывает. Таким образом, ряд $\sum_{n=1}^{\infty} (-1)^n \frac{n}{n^2+1}$ удовлетворяет условиям теоремы Лейбница, что означает, что он является условно сходящимся.

ЗАДАНИЕ 4.22. Исследовать на абсолютную и условную сходимость ряд $\sum_{n=1}^{\infty} \frac{(-1)^n}{\sqrt[3]{5n+4}}$.

Решение. Сначала попытаемся показать абсолютную сходимость ряда, то есть рассмотрим ряд $\sum_{n=1}^{\infty} \frac{1}{\sqrt[3]{5n+4}}$. Воспользуемся интегральным признаком и вычислим $\int_1^{\infty} \frac{1}{\sqrt[3]{5x+4}} dx =$

$$\lim_{b \rightarrow \infty} \int_1^b \frac{1}{\sqrt[3]{5x+4}} dx = \left(\begin{array}{l} t = 5x + 4 \\ dt = 5dx \\ x = 1 \Rightarrow t = 9 \\ x = b \Rightarrow t = 5b + 4 \end{array} \right) = \lim_{b \rightarrow \infty} \int_9^{5b+4} \frac{1}{5 \sqrt[3]{t}} dt = \frac{1}{5} \cdot \frac{3}{2} \lim_{b \rightarrow \infty} \left((5b+4)^{\frac{2}{3}} + 9^{\frac{2}{3}} \right) = \infty, \text{ что озна-}$$

чает, что у исходного ряда отсутствует абсолютная сходимость. То есть исходный ряд является абсолютно сходящимся.

Проверим условную сходимость. Согласно признаку Лейбница последовательность $\left\{\frac{1}{\sqrt[3]{5n+4}}\right\}$

должна быть бесконечно малой (справедливо, так как $\lim_{n \rightarrow \infty} \frac{1}{\sqrt[3]{5n+4}} = \lim_{n \rightarrow \infty} \sqrt[3]{\frac{1}{5n+4}} = \lim_{n \rightarrow \infty} \sqrt[3]{\frac{\frac{1}{n}}{5+\frac{4}{n}}} =$

$\lim_{n \rightarrow \infty} \sqrt[3]{\frac{\frac{1}{n}}{5+\frac{4}{n}}} = \sqrt[3]{\frac{0}{5+0}} = 0$) и невозрастающей (для этого изучим монотонность соответствующей функции $f(x) = \frac{1}{\sqrt[3]{5x+4}}$ на множестве $x \geq 1$):

$$f'(x) = \frac{-5}{3 \sqrt[3]{(5x+4)^4}},$$

С помощью метода интервалов определим промежутки знакопостоянства функции y' и характер монотонности функции y :

-	-	-	y'
			x
1	1	1	y
убывает	убывает	убывает	

Следовательно, на множестве $[1; +\infty)$ функция $f(x) = \frac{1}{\sqrt[3]{5x+4}}$ убывает. Таким образом, ряд $\sum_{n=1}^{\infty} \frac{(-1)^n}{\sqrt[3]{5n+4}}$ удовлетворяет условиям теоремы Лейбница, что означает, что он является условно сходящимся.

ЗАДАНИЕ 4.23. Определить область сходимости ряда $\sum_{n=1}^{\infty} \frac{n}{n+1} \left(\frac{x}{2n+1}\right)^n$.

Решение. Изучается степенной ряд $\sum_{n=1}^{\infty} a_n x^n$, где $a_n = \frac{n}{n+1} \cdot \frac{1}{(2n+1)^n}$. Вычислим

$$\lim_{n \rightarrow \infty} \sqrt[n]{|a_n|} = \lim_{n \rightarrow \infty} \sqrt[n]{\left| \frac{n}{n+1} \cdot \frac{1}{(2n+1)^n} \right|} = \lim_{n \rightarrow \infty} \sqrt[n]{\frac{n}{n+1} \cdot \frac{1}{(2n+1)^n}} = \lim_{n \rightarrow \infty} \left(\frac{1}{2n+1} \cdot \sqrt[n]{\frac{n}{n+1}} \right) = \lim_{n \rightarrow \infty} \left(\frac{\frac{1}{2+\frac{1}{n}}}{2+\frac{1}{n}} \right) = \frac{0}{2+0} \cdot \left(\frac{1}{1+0} \right)^0 = 0.$$

Причем последовательность $\{a_n\}$ является ограниченной:

$$\left| \frac{n}{n+1} \cdot \frac{1}{(2n+1)^n} \right| = \frac{n}{n+1} \cdot \frac{1}{(2n+1)^n} < 1.$$

То есть согласно теореме Коши-Адамара ряд $\sum_{n=1}^{\infty} \frac{n}{n+1} \left(\frac{x}{2n+1}\right)^n$ сходится абсолютно при всех x .

ЗАДАНИЕ 4.24. Определить область сходимости ряда $\sum_{n=1}^{\infty} \left(1 + \frac{1}{n}\right)^n x^n$.

Решение. Изучается степенной ряд $\sum_{n=1}^{\infty} a_n x^n$, где $a_n = \left(1 + \frac{1}{n}\right)^n$

Вычислим

$$\lim_{n \rightarrow \infty} \sqrt[n]{|a_n|} = \lim_{n \rightarrow \infty} \sqrt[n]{\left| \left(1 + \frac{1}{n}\right)^n \right|} = \lim_{n \rightarrow \infty} \sqrt[n]{\left(1 + \frac{1}{n}\right)^n} = \lim_{n \rightarrow \infty} \left(1 + \frac{1}{n}\right) = 1.$$

Причем последовательность $\{a_n\}$ является ограниченной (так как является сходящейся):

$$\lim_{n \rightarrow \infty} a_n = \lim_{n \rightarrow \infty} \left(1 + \frac{1}{n}\right)^n = e.$$

То есть согласно теореме Коши-Адамара ряд $\sum_{n=1}^{\infty} \left(1 + \frac{1}{n}\right)^n x^n$ сходится абсолютно при $x \in (-1; 1)$.

Отдельно изучим поведение ряда в точках $x = 1$ и $x = -1$.

Если $x = 1$, то ряд принимает вид $\sum_{n=1}^{\infty} \left(1 + \frac{1}{n}\right)^n$, который является расходящимся в силу невыполнения необходимого условия сходимости числового ряда ($\lim_{n \rightarrow \infty} \left(1 + \frac{1}{n}\right)^n = e \neq 0$).

Если $x = -1$, то ряд принимает вид $\sum_{n=1}^{\infty} (-1)^n \left(1 + \frac{1}{n}\right)^n$, который, очевидно, не является абсолютно сходящимся ($\sum_{n=1}^{\infty} \left(1 + \frac{1}{n}\right)^n$ расходится) и, согласно признаку Лейбница не является условно сходящимся (последовательность $\left\{\left(1 + \frac{1}{n}\right)^n\right\}$ не является бесконечно малой).

Таким образом, ряд $\sum_{n=1}^{\infty} \left(1 + \frac{1}{n}\right)^n x^n$ сходится только при $x \in (-1; 1)$, причем абсолютно.

ЗАДАНИЕ 4.25. Разложить в ряд Фурье функцию $f(x) = x$ на промежутке $x \in [-\pi; \pi]$.

Решение. Так как функция $f(x)$ нечетная, то ее разложение имеет вид:

$$f(x) = \sum_{n=1}^{\infty} b_n \sin nx,$$

где

$$b_n = \frac{2}{\pi} \int_0^{\pi} x \cdot \sin nx \, dx = \left\langle \begin{array}{l} u = x \Rightarrow du = dx \\ dv = \sin nx \, dx \Rightarrow v = -\frac{1}{n} \cos nx \end{array} \right\rangle = \frac{2}{\pi n} \left(-(x \cdot \cos nx) \Big|_0^{\pi} + \int_0^{\pi} \cos nx \, dx \right) = \frac{2}{\pi n} \left((-1)^{n+1} \pi + \frac{1}{n} \sin nx \Big|_0^{\pi} \right) = (-1)^{n+1} \cdot \frac{2}{n}.$$

То есть на промежутке $x \in [-\pi; \pi]$

$$x = \sum_{n=1}^{\infty} \left((-1)^{n+1} \cdot \frac{2}{n} \right) \sin nx = 2 \sum_{n=1}^{\infty} \frac{(-1)^{n+1}}{n} \cdot \sin nx.$$

ЗАДАНИЕ 4.26. Вычислить частные производные 1-го и 2-го порядка функции $z = z(x, y)$ заданной неявно с помощью равенства $z^3 - 3xyz = 1$.

Решение. Продифференцируем данное выражение по x , получим:

$$3z^2 \frac{\partial z}{\partial x} - 3yz - 3xy \frac{\partial z}{\partial x} = 0,$$

следовательно,

$$\frac{\partial z}{\partial x} = \frac{yz}{z^2 - xy}.$$

Теперь продифференцируем исходное представление по y , получим:

$$3z^2 \frac{\partial z}{\partial y} - 3xz - 3xy \frac{\partial z}{\partial y} = 0,$$

следовательно,

$$\frac{\partial z}{\partial y} = \frac{xz}{z^2 - xy}.$$

Из полученных выражений установим значения частных производных 2-го порядка:

$$\begin{aligned} \frac{\partial^2 z}{\partial x^2} &= y \frac{\frac{\partial z}{\partial x}(z^2 - xy) - z \cdot (2z \frac{\partial z}{\partial x} - y)}{(z^2 - xy)^2} = y \frac{2zy - 2z^2 \cdot \frac{yz}{z^2 - xy}}{(z^2 - xy)^2} = -\frac{2xzy^3}{(z^2 - xy)^3}, \\ \frac{\partial^2 z}{\partial y^2} &= x \frac{\frac{\partial z}{\partial y}(z^2 - xy) - z \cdot (2z \frac{\partial z}{\partial y} - x)}{(z^2 - xy)^2} = x \frac{2zx - 2z^2 \cdot \frac{xz}{z^2 - xy}}{(z^2 - xy)^2} = -\frac{2yzx^3}{(z^2 - xy)^3}, \\ \frac{\partial^2 z}{\partial x \partial y} &= \frac{(z + x \frac{\partial z}{\partial x}) \cdot (z^2 - xy) - xz(2z \frac{\partial z}{\partial x} - y)}{(z^2 - xy)^2} = \frac{z^3 - xyz + xyz - \frac{2xyz^3}{z^2 - xy} + xyz}{(z^2 - xy)^2} = \frac{z^5 - 2xyz^3 + x^2y^2z}{(z^2 - xy)^2}. \end{aligned}$$

ЗАДАНИЕ 4.27. Найти условный экстремум $(x_0; y_0; z_0)$ функции $u = x - 2y + 2z$ с уравнением связи $x^2 + y^2 + z^2 = 1$.

Решение. Воспользуемся методом множителей Лагранжа. Функция Лагранжа имеет вид:

$$L(x, y, z) = x - 2y + 2z + \lambda(x^2 + y^2 + z^2 - 1).$$

Составим систему уравнений:

$$\begin{cases} \frac{\partial L}{\partial x} = 1 + 2\lambda x = 0, \\ \frac{\partial L}{\partial y} = -2 + 2\lambda y = 0, \\ \frac{\partial L}{\partial z} = 2 + 2\lambda z = 0, \\ x^2 + y^2 + z^2 = 1; \end{cases} \Rightarrow \begin{cases} x = -\frac{1}{2\lambda}, \\ y = \frac{1}{\lambda}, \\ z = -\frac{1}{\lambda}, \\ \frac{1}{4\lambda^2} + \frac{1}{\lambda^2} + \frac{1}{\lambda^2} = 1. \end{cases}$$

Получаем, что $\lambda^2 = 2,25$, значит, $\lambda_1 = 1,5$; $\lambda_2 = -1,5$. Таким образом, точки $A\left(-\frac{1}{3}; \frac{2}{3}; -\frac{2}{3}\right)$ и $B\left(\frac{1}{3}; -\frac{2}{3}; \frac{2}{3}\right)$ являются подозрительными на экстремум.

Воспользуемся достаточным условием для условного экстремума функции, позволяющим по знаку $d^2L(x_0; y_0; z_0)$ определить наличие (и тип) условного экстремума. Составим второй дифференциал функции Лагранжа:

$$\frac{\partial^2 L}{\partial x^2} = \frac{\partial^2 L}{\partial y^2} = \frac{\partial^2 L}{\partial z^2} = 2\lambda, \quad \frac{\partial^2 L}{\partial x \partial y} = \frac{\partial^2 L}{\partial x \partial z} = \frac{\partial^2 L}{\partial z \partial y} = 0,$$

следовательно,

$$d^2L(x; y; z) = 2\lambda(dx^2 + dy^2 + dz^2).$$

Так как $d^2L(A) > 0$ и $d^2L(B) < 0$ (при всех dx, dy, dz не равных одновременно нулю), то $A\left(-\frac{1}{3}; \frac{2}{3}; -\frac{2}{3}\right)$ – точка условного минимума, а $B\left(\frac{1}{3}; -\frac{2}{3}; \frac{2}{3}\right)$ – точка условного максимума.

ЗАДАНИЕ 4.28. Вычислить криволинейный интеграл 1-го рода $\int_{\Gamma} (x - y)ds$, где Γ – дуга окружности $x^2 + y^2 = 2x$.

Решение. Представим уравнение, задающее кривую Γ в виде:

$$(x - 1)^2 + y^2 = 1.$$

Тогда ее можно задать параметрически:

$$\begin{cases} x(t) = \cos t + 1, \\ y(t) = \sin t, \end{cases}$$

где $t \in [0; 2\pi]$.

Очевидно, что $x'(t) = -\sin t$, $y'(t) = \cos t$. Тогда

$$\begin{aligned}\int_{\Gamma} (x - y) ds &= \int_0^{2\pi} ((\cos t + 1) - (\sin t)) \cdot \sqrt{(-\sin t)^2 + (\cos t)^2} dt \\ &= \int_0^{2\pi} (\cos t + 1 - \sin t) \cdot \sqrt{\sin^2 t + \cos^2 t} dt = (\sin t + t + \cos t) \Big|_0^{2\pi} = 2\pi.\end{aligned}$$

ЗАДАНИЕ 4.29. Вычислить криволинейный интеграл 1-го рода $\int_{\Gamma} (x^2 + y^2) ds$, где Γ – дуга окружности $x^2 + y^2 = 4$.

Решение. Перейдем к параметрической (полярной) системе координат для задания окружности Γ :

$$\begin{cases} x(t) = 2 \cos t, \\ y(t) = 2 \sin t, \end{cases}$$

где $t \in [0; 2\pi]$.

Очевидно, что $x'(t) = -2 \sin t$, $y'(t) = 2 \cos t$. Тогда

$$\begin{aligned}\int_{\Gamma} (x^2 + y^2) ds &= \int_0^{2\pi} ((2 \cos t)^2 + (2 \sin t)^2) \cdot \sqrt{(-2 \sin t)^2 + (2 \cos t)^2} dt = \\ &= \int_0^{2\pi} (4 \sin^2 t + 4 \cos^2 t) \cdot \sqrt{4 \sin^2 t + 4 \cos^2 t} dt = \int_0^{2\pi} (4 \cdot \sqrt{4}) dt = 8 \int_0^{2\pi} dt = 8 \cdot t \Big|_0^{2\pi} = 16\pi.\end{aligned}$$

ЗАДАНИЕ 4.30. Вычислить криволинейный интеграл 2-го рода $\int_{\Gamma} \sin y dx + \sin x dy$, где Γ – отрезок прямой, соединяющий точки $A(0; \pi)$ и $B(\pi; 0)$ (обход контура происходит от A к B).

Решение. Кривая Γ задана функцией $y = y(x) = kx + b$ на отрезке $[0; \pi]$ (обход кривой от точки $A(0; \pi)$ до точки $B(\pi; 0)$), следовательно, коэффициенты k и b являются решением системы уравнений:

$$\begin{cases} \pi = k \cdot 0 + b, \\ 0 = k \cdot \pi + b; \end{cases} \Leftrightarrow \begin{cases} k = -1, \\ b = \pi. \end{cases}$$

Таким образом, $y = y(x) = -x + \pi$ и $y'(x) = -1$.

Искомый интеграл вычисляется по формуле:

$$\begin{aligned}\int_{\Gamma} \sin y dx + \sin x dy &= \int_0^{\pi} \sin y(x) dx + \int_0^{\pi} \sin x \cdot y'(x) dx = \int_0^{\pi} (\sin y(x) + \sin x \cdot y'(x)) dx = \\ &= \int_0^{\pi} (\sin(-x + \pi) + \sin x \cdot (-1)) dx = \int_0^{\pi} (\sin x - \sin x) dx = 0.\end{aligned}$$

ЗАДАНИЕ 4.31. Вычислить криволинейный интеграл 2-го рода $\int_{\Gamma} y dx - (y + x^2) dy$, где Γ – часть параболы $y = 2x - x^2$ от точки $A(2; 0)$ до точки $B(0; 0)$.

Решение. Кривая Γ задана функцией $y = y(x) = 2x - x^2$ на отрезке $[0; 2]$ (обход кривой от точки $A(2; 0)$ до точки $B(0; 0)$), поэтому искомый интеграл вычисляется по формуле:

$\int_{\Gamma} y dx - (y + x^2) dy = \int_2^0 y(x) dx - \int_2^0 (y(x) + x^2) y'(x) dx = \int_2^0 (y(x) - (y(x) + x^2) y'(x)) dx$.
Так как $y'(x) = 2 - 2x$, то

$$\begin{aligned}\int_{\Gamma} y dx - (y + x^2) dy &= \int_2^0 (2x - x^2 - (2x - x^2 + x^2)(2 - 2x)) dx = - \int_0^2 (3x^2 - 2x) dx = \\ &= -(x^3 - x^2) \Big|_0^2 = -4.\end{aligned}$$

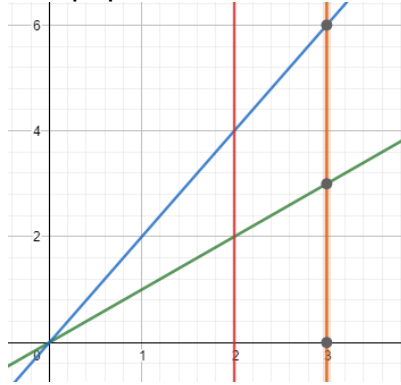
ЗАДАНИЕ 4.32. Вычислить площадь, ограниченную эллипсом $x(t) = a \cos t$, $y(t) = b \sin t$, $t \in [0; 2\pi]$.

Решение. Поскольку $y'(t) = b \cos t$, то

$$\begin{aligned}S &= \oint_{\Gamma} x dy = \int_0^{2\pi} x(t) \cdot y'(t) dt = \int_0^{2\pi} a \cos t b \cos t dt = ab \int_0^{2\pi} \cos^2 t dt = ab \int_0^{2\pi} \frac{1 + \cos 2t}{2} dt = \\ &= \frac{ab}{2} \left(t + \frac{1}{2} \sin 2t \right) \Big|_0^{2\pi} = \pi ab.\end{aligned}$$

ЗАДАНИЕ 4.33. Вычислить двойной интеграл $\iint_D (2x + y) dx dy$, где $D = \begin{cases} y = x, \\ y = 2x, \\ x = 2, \\ x = 3. \end{cases}$

Решение. Изобразим область интегрирования.



Перейдем от двойного интеграла к повторному.

$$\begin{aligned} \iint_D (2x + y) dx dy &= \int_2^3 \left(\int_x^{2x} (2x + y) dy \right) dx = \int_2^3 \left(2xy + \frac{y^2}{2} \right) \Big|_x^{2x} dx = \int_2^3 \left(4x^2 + 2x^2 - 2x^2 - \frac{x^2}{2} \right) dx \\ &= \frac{7}{2} \int_2^3 x^2 dx = \frac{7}{2} \cdot \frac{x^3}{3} \Big|_2^3 = \frac{7}{6} \cdot (27 - 8) = 22 \frac{1}{6}. \end{aligned}$$

ЗАДАНИЕ 4.34. С помощью двойного интеграла вычислить площадь фигуры, ограниченной линиями $y = x^2 - 8x + 12$ и $y = x - 8$.

Решение. Пусть D – область, ограниченная линиями $y = x^2 - 8x + 12$ и $y = x - 8$. Таким образом, задание сводится к вычислению двойного интеграла $\iint_D dx dy$. Вычислим его с помощью перехода к повторным интегралам.

Найдем точки пересечения графиков функций $y = x^2 - 8x + 12$ и $y = x - 8$:

$$\begin{aligned} x^2 - 8x + 12 &= x - 8, \\ x^2 - 9x + 20 &= 0 \Leftrightarrow \begin{cases} x = 4, \\ x = 5. \end{cases} \end{aligned}$$

Таким образом, указанные графики пересекаются в точках $(4; -4)$ и $(5; 3)$ (на отрезке $[4; 5]$ график функции $y = x - 8$ лежит выше графика функции $y = x^2 - 8x + 12$) и

$$\begin{aligned} \iint_D dx dy &= \int_4^5 \left(\int_{x^2 - 8x + 12}^{x - 8} dy \right) dx = \int_4^5 y \Big|_{x^2 - 8x + 12}^{x - 8} dx = \int_4^5 ((x - 8) - (x^2 - 8x + 12)) dx = \\ &= \int_4^5 (-x^2 + 9x - 20) dx = \left(-\frac{x^3}{3} + \frac{9x^2}{2} - 20x \right) \Big|_4^5 = -\frac{5^3}{3} + \frac{9 \cdot 5^2}{2} - 20 \cdot 5 + \frac{4^3}{3} - \frac{9 \cdot 4^2}{2} + 20 \cdot 4 = \frac{1}{6}. \end{aligned}$$

ЗАДАНИЕ 4.35. Найти объем тела, ограниченного поверхностями $x^2 + y^2 = z$ и $z = 1$.

Решение. В сечении тела плоскостью, параллельной плоскости xOy , получается окружность $x^2 + y^2 = z$.

Перейдем к цилиндрическим координатам $x = r \cos \varphi$, $y = r \sin \varphi$, z ($0 \leq r \leq \sqrt{z}$, $0 \leq \varphi \leq 2\pi$, $0 \leq z \leq 1$), тогда

$$\begin{aligned} V &= \iiint dx dy dz = \int_0^1 \left(\int_0^{\sqrt{z}} \left(\int_0^{2\pi} r d\varphi \right) dr \right) dz = \int_0^1 \left(\int_0^{\sqrt{z}} (r \cdot \varphi \Big|_0^{2\pi}) dr \right) dz = \int_0^1 2\pi \left(\int_0^{\sqrt{z}} r dr \right) dz = \\ &= 2\pi \int_0^1 \frac{r^2}{2} \Big|_0^{\sqrt{z}} dz = \pi \int_0^1 z dz = \pi \frac{z^2}{2} \Big|_0^1 = \frac{\pi}{2}. \end{aligned}$$

ЗАДАНИЕ 4.36. Вычислить поверхностный интеграл 1-го рода $\iint_S (x + y + z) dS$, где $S: x^2 + y^2 + z^2 = 1, z \geq 0$.

Решение. Запишем уравнение поверхности в явном виде:

$$z = z(x, y) = \sqrt{1 - x^2 - y^2},$$

тогда

$$\frac{\partial z(x, y)}{\partial x} = -\frac{x}{\sqrt{1 - x^2 - y^2}}, \quad \frac{\partial z(x, y)}{\partial y} = -\frac{y}{\sqrt{1 - x^2 - y^2}},$$

и поверхностный интеграл примет вид

$$\begin{aligned} \iint_S (x+y+z)dS &= \iint_D (x+y+z(x,y))\sqrt{1+\left(\frac{\partial z(x,y)}{\partial x}\right)^2+\left(\frac{\partial z(x,y)}{\partial y}\right)^2} dx dy = \iint_D (x+y+ \\ &\sqrt{1-x^2-y^2})\sqrt{1+\left(-\frac{x}{\sqrt{1-x^2-y^2}}\right)^2+\left(-\frac{y}{\sqrt{1-x^2-y^2}}\right)^2} dx dy = \iint_D (x+y+ \\ &\sqrt{1-x^2-y^2})\sqrt{1+\frac{x^2}{1-x^2-y^2}+\frac{y^2}{1-x^2-y^2}} dx dy = \iint_D \frac{x+y+\sqrt{1-x^2-y^2}}{\sqrt{1-x^2-y^2}} dx dy. \end{aligned}$$

где $D: x^2 + y^2 \leq 1$. Перейдем к полярным координатам $x = r \cos \varphi$, $y = r \sin \varphi$ ($0 \leq r \leq 1$, $0 \leq \varphi \leq 2\pi$), тогда

$$\begin{aligned} \iint_S (x+y+z)dS &= \int_0^1 \left(\int_0^{2\pi} \frac{r \cos \varphi + r \sin \varphi + \sqrt{1-(r \cos \varphi)^2 - (r \sin \varphi)^2}}{\sqrt{1-(r \cos \varphi)^2 - (r \sin \varphi)^2}} \cdot r d\varphi \right) dr = \\ &= \int_0^1 \frac{r}{\sqrt{1-r^2}} \left(\int_0^{2\pi} (r(\cos \varphi + \sin \varphi) + \sqrt{1-r^2}) d\varphi \right) dr = \int_0^1 \left(\frac{r^2}{\sqrt{1-r^2}} (-\sin \varphi + \cos \varphi) + r\varphi \right) \Big|_0^{2\pi} dr = \\ &= 2\pi \int_0^1 r dr = \pi r^2 \Big|_0^1 = \pi. \end{aligned}$$

ЗАДАНИЕ 4.37. Вычислить поверхностный интеграл 2-го рода $\iint_S yz dx dy + zx dy dz + xy dz dx$, где $S: x^2 + y^2 = 1, x \leq 0, y \geq 0, 0 \leq z \leq 1$.

Решение. Перейдем к параметрическому заданию поверхности S на области $D = \{(u; v) | \frac{\pi}{2} \leq u \leq \pi, 0 \leq v \leq 1\}$:

$$x = \cos u, \quad y = \sin u, \quad z = v.$$

Тогда

$$\begin{aligned} \frac{\partial x}{\partial u} &= -\sin u, \quad \frac{\partial x}{\partial v} = 0; \\ \frac{\partial y}{\partial u} &= \cos u, \quad \frac{\partial y}{\partial v} = 0; \\ \frac{\partial z}{\partial u} &= 0, \quad \frac{\partial z}{\partial v} = 1. \end{aligned}$$

$$\begin{aligned} \iint_S yz dx dy + zx dy dz + xy dz dx &= \iint_D \begin{vmatrix} zx & xy & yz \\ \frac{\partial x}{\partial u} & \frac{\partial y}{\partial u} & \frac{\partial z}{\partial u} \\ \frac{\partial x}{\partial v} & \frac{\partial y}{\partial v} & \frac{\partial z}{\partial v} \end{vmatrix} dudv = \\ \iint_D \begin{vmatrix} v \cos u & \sin u \cos u & v \sin u \\ -\sin u & \cos u & 0 \\ 0 & 0 & 1 \end{vmatrix} dudv &= \int_{\frac{\pi}{2}}^{\pi} \left(\int_0^1 (v \cos^2 u + \sin^2 u \cos u) dv \right) du = \\ \int_{\frac{\pi}{2}}^{\pi} \left(\frac{\cos^2 u}{2} + \sin^2 u \cos u \right) du &= \frac{1}{4} \int_{\frac{\pi}{2}}^{\pi} (1 + \cos 2u) du + \int_{\frac{\pi}{2}}^{\pi} \sin^2 u d \sin u = \frac{1}{4} \left(u + \frac{1}{2} \sin 2u \right) \Big|_{\frac{\pi}{2}}^{\pi} + \\ &= \frac{1}{3} \sin^3 u \Big|_{\frac{\pi}{2}}^{\pi} = \frac{\pi}{8} - \frac{1}{3}. \end{aligned}$$

ЗАДАНИЕ 4.38. С помощью формулы Остроградского вычислить поверхностный интеграл $\iint_S x^3 dy dz + y^3 dz dx + z^3 dx dy$, где S – внешняя сторона сферы $x^2 + y^2 + z^2 = 1$.

Решение. Перейдем от поверхностного интеграла 2-го рода к поверхностному интегралу 1-го рода, а затем, согласно формуле Остроградского, к тройному интегралу:

$$\iint_S x^3 dy dz + y^3 dz dx + z^3 dx dy = \iint_S (x^3 \cos \alpha + y^3 \cos \beta + z^3 \cos \gamma) dS = 3 \iiint_D (x^2 + y^2 + z^2) dx dy dz.$$

Теперь введем сферические координаты:

$$\begin{aligned} x &= r \cos \varphi \cos \psi, \quad y = r \sin \varphi \cos \psi, \quad z = r \sin \psi \\ (0 \leq r &\leq 1, \quad 0 \leq \varphi \leq 2\pi, \quad -\frac{\pi}{2} \leq \psi \leq \frac{\pi}{2}). \end{aligned}$$

Последний интеграл примет вид:

$$\begin{aligned}
3 \iiint_D (x^2 + y^2 + z^2) dx dy dz &= 3 \int_0^{2\pi} \left(\int_{-\frac{\pi}{2}}^{\frac{\pi}{2}} \left(\int_0^1 r^4 \cos \psi dr \right) d\psi \right) d\varphi = \\
3 \int_0^{2\pi} \left(\int_{-\frac{\pi}{2}}^{\frac{\pi}{2}} \cos \psi \left(\int_0^1 r^4 dr \right) d\psi \right) d\varphi &= 3 \int_0^{2\pi} \left(\int_{-\frac{\pi}{2}}^{\frac{\pi}{2}} \cos \psi \cdot \frac{r^5}{5} \Big|_0^1 d\psi \right) d\varphi = 3 \int_0^{2\pi} \left(\frac{1}{5} \int_{-\frac{\pi}{2}}^{\frac{\pi}{2}} \cos \psi d\psi \right) d\varphi = \\
\frac{3}{5} \int_0^{2\pi} \sin \psi \Big|_{-\frac{\pi}{2}}^{\frac{\pi}{2}} d\varphi &= \frac{6}{5} \int_0^{2\pi} d\varphi = \frac{12\pi}{5}.
\end{aligned}$$

ЗАДАНИЕ 4.39. Вычислить дивергенцию векторного поля $\vec{a} = \sin(xy)\vec{i} + \ln(y^2 - z^2)\vec{j} + \operatorname{arctg} \frac{x}{z}\vec{k}$ в точке $M(0; 2; 1)$.

Решение. $\operatorname{div} a = \frac{\partial a_x}{\partial x} + \frac{\partial a_y}{\partial y} + \frac{\partial a_z}{\partial z}$, где $a_x = \sin(xy)$, $a_y = \ln(y^2 - z^2)$, $a_z = \operatorname{arctg} \frac{x}{z}$, поэтому сначала вычислим $\frac{\partial a_x}{\partial x}$, $\frac{\partial a_y}{\partial y}$ и $\frac{\partial a_z}{\partial z}$:

$$\begin{aligned}
\frac{\partial a_x}{\partial x} &= y \cdot \cos(xy), \\
\frac{\partial a_y}{\partial y} &= \frac{2y}{y^2 - z^2}, \\
\frac{\partial a_z}{\partial z} &= \frac{-\frac{x}{z^2}}{1 + \left(\frac{x}{z}\right)^2} = -\frac{x}{x^2 + z^2}.
\end{aligned}$$

Таким образом,

$$\operatorname{div} a(M) = \left(y \cdot \cos(xy) + \frac{2y}{y^2 - z^2} - \frac{x}{x^2 + z^2} \right) \Big|_{\substack{x=0 \\ y=2 \\ z=1}} = 2 \cdot \cos(0 \cdot 2) + \frac{2 \cdot 2}{2^2 - 1^2} - \frac{0}{0^2 + 1^2} = 2 + \frac{4}{3} = 3\frac{1}{3}.$$

Критерии и шкалы оценивания:

Для оценивания выполнения заданий используется балльная шкала:

1) тестовые задания:

- средний уровень сложности (в формулировке задания перечислены все варианты ответа):
 - 1 балл – указан верный ответ;
 - 0 баллов – указан неверный ответ, в том числе частично.
- повышенный уровень сложности (в формулировке задания отсутствуют варианты ответа):
 - 2 балла – указан верный ответ;
 - 0 баллов – указан неверный ответ, в том числе частично.

2) расчетные задачи:

- средний уровень сложности:
 - 5 баллов – задача решена верно (получен правильный ответ, обоснован (аргументирован) ход решения);
 - 2 балла – решение задачи содержит незначительные ошибки, но приведен правильный ход рассуждений, или получен верный ответ, но отсутствует обоснование хода ее решения, или задача решена не полностью, но получены промежуточные результаты, отражающие правильность хода решения задачи, или, в случае если задание состоит из решения нескольких подзадач, 50% которых решены верно;
 - 0 баллов – задача не решена или решение неверно (ход решения ошибочен или содержит грубые ошибки, значительно влияющие на дальнейшее изучение задачи).
- повышенный уровень сложности:
 - 10 баллов – задача решена верно (получен правильный ответ, обоснован (аргументирован) ход решения);
 - 5 баллов – решение задачи содержит незначительные ошибки, но приведен правильный ход рассуждений, или получен верный ответ, но отсутствует обоснование хода ее решения, или задача решена не полностью, но получены промежуточные результаты, отражающие правильность хода решения задачи;
 - 0 баллов – задача не решена или решение неверно (ход решения ошибочен или содержит грубые ошибки, значительно влияющие на дальнейшее изучение задачи).

Б1.О.12 Алгебра1) закрытые задания (тестовые, средний уровень сложности):

1. Какой из следующих операторов, рассматриваемых в пространстве геометрических векторов на плоскости, не является линейным?

а) $Ax = 3x$

б) $Ax = \langle x, x \rangle x$

в) $Ax = 0$

г) $Ax = [a, x]$, где a – фиксированный вектор

Ответ: б)

2. Какое из следующих подмножеств геометрических векторов не является подпространством?

а) множество векторов, компланарных данной плоскости

б) множество векторов, ортогональных данному вектору a в) множество векторов, удовлетворяющих условию $|x|=1$

г) множество векторов, параллельных данной прямой

Ответ: в)

3. Характеристическим многочленом матрицы A называют

а) $p(\lambda) = \det(\lambda I - A)$

б) $\text{tr} A = \sum_{i=1}^n a_{ii}$

в) $Ax = \lambda x$

г) $\dim \text{Ran } A - \dim \text{Ker } A$

Ответ: а)

2. Линейное пространство называют евклидовым, если

а) в нем нет нетривиальных подпространств

б) в нем любой вектор отличен от нуля

в) на нем задано скалярное произведение

г) на нем заданы операции сложения и умножения на число

Ответ: в)

2) открытые задания (тестовые, повышенный уровень сложности):

1. Как называют множество векторов, которое линейный оператор переводит в ноль?

Ответ: Ядро

Б1.О.13 Аналитическая геометрия и основы линейной алгебры1) закрытые задания (тестовые, средний уровень сложности):1. Для матрицы $\begin{pmatrix} 2 & 4 \\ 1 & 3 \end{pmatrix}$ найдите обратную матрицу.

а) $\begin{pmatrix} 2 & 1 \\ 4 & 3 \end{pmatrix}$

$$\begin{aligned} \text{б)} & \begin{pmatrix} 1/2 & 1 \\ 1/4 & 1/3 \end{pmatrix} \\ \text{в)} & \begin{pmatrix} 3 & -4 \\ -1 & 2 \end{pmatrix} \\ \text{г)} & \begin{pmatrix} 3/2 & -2 \\ -1/2 & 1 \end{pmatrix} \end{aligned}$$

Ответ: г).

Решение. $A = \begin{pmatrix} 2 & 4 \\ 1 & 3 \end{pmatrix}$. Определитель матрицы $|A| = 6 - 4 = 2 \neq 0$, тогда обратная матрица A^{-1} существует и $A^{-1} = \frac{1}{|A|} \begin{pmatrix} A_{11} & A_{12} \\ A_{21} & A_{22} \end{pmatrix}^T$, где A_{ij} – алгебраическое дополнение к элементу i -ой строки и j -го столбца матрицы. $A_{11} = 3$, $A_{12} = -1$, $A_{21} = -4$, $A_{22} = 2 \rightarrow A^{-1} = \frac{1}{2} \begin{pmatrix} 3 & -1 \\ -4 & 2 \end{pmatrix}^T = \frac{1}{2} \begin{pmatrix} 3 & -4 \\ -1 & 2 \end{pmatrix} = \begin{pmatrix} 3/2 & -2 \\ -1/2 & 1 \end{pmatrix}$.

2. Найдите угол между векторами $\vec{p} = -5\vec{a} - 2\vec{b}$ и $\vec{q} = 3\vec{a} + 7\vec{b}$, если \vec{a} и \vec{b} взаимно перпендикулярные орты.

- а) $\pi/6$
- б) $\pi/4$
- в) $\pi/3$
- г) $3\pi/4$

Ответ: г).

Решение. Косинус угла между \vec{p} и \vec{q} находим по формуле $\cos \varphi = \frac{(\vec{p}, \vec{q})}{|\vec{p}||\vec{q}|} = \frac{(-5) \cdot 3 + (-2) \cdot 7}{\sqrt{(-5)^2 + (-2)^2} \sqrt{3^2 + 7^2}} = \frac{-15 - 14}{\sqrt{25 + 4} \sqrt{9 + 49}} = \frac{-29}{\sqrt{29} \sqrt{58}} = \frac{-1}{\sqrt{2}} = \frac{-\sqrt{2}}{2}$. Тогда $\varphi = 3\pi/4$.

3. В декартовой прямоугольной системе координат на плоскости заданы координаты точки $M(4, 1)$ и уравнение прямой $L: 4x - y + 3 = 0$. Найдите уравнение прямой, проходящей через точку M перпендикулярно прямой L .

- а) $y = x - 3$
- б) $x - 2y + 9 = 0$
- в) $x + 4y - 8 = 0$
- г) $2x - 3y = 0$

Ответ: в).

Решение. Пусть искомая прямая $y = kx + b$. Заданная прямая $L: y = 4x + 3$. Из условия перпендикулярности имеем $4k = -1$ и $k = -1/4$. Тогда искомая прямая имеет уравнение $y = (-1/4)x + b$. Для координат точки $M(4, 1)$ выполнено равенство $1 = -1 + b$, откуда $b = 2$. Уравнение искомой прямой: $y = (-1/4)x + 2$ или $x + 4y - 8 = 0$.

4. Пусть на плоскости задана полярная система координат и выбрана декартова прямоугольная система координат так, что её начало совпадает с полюсом, положительная полуось абсцисс – с полярной осью, положительная полуось ординат получается враще-

нием полярной оси на угол $\pi/2$ против часовой стрелки. Для трёх точек плоскости установите соответствие между их прямоугольными декартовыми координатами 1) $(-2,0)$, 2) $(-2,2)$, 3) $(0,2)$ и полярными координатами а) $(2\sqrt{2}, \frac{3\pi}{4})$, б) $(2, \frac{\pi}{2})$, в) $(2, \pi)$.

Ответ: 1-в, 2-а, 3-б.

Решение. Прямоугольные декартовы координаты (x, y) и полярные координаты (r, φ) связаны равенствами $x = r \cos \varphi$, $y = r \sin \varphi$,

а) при $r = 2\sqrt{2}$, $\varphi = \frac{3\pi}{4}$ имеем $x = 2\sqrt{2} \cos \frac{3\pi}{4} = 2\sqrt{2} \cdot \frac{-\sqrt{2}}{2} = -2$,

$y = 2\sqrt{2} \sin \frac{3\pi}{4} = 2\sqrt{2} \cdot \frac{\sqrt{2}}{2} = 2$, что даёт 2);

б) при $r = 2$, $\varphi = \frac{\pi}{2}$ имеем $x = 2 \cos \frac{\pi}{2} = 0$, $y = 2 \sin \frac{\pi}{2} = 2$, что даёт 3);

в) при $r = 2$, $\varphi = \pi$ имеем $x = 2 \cos \pi = -2$, $y = 2 \sin \pi = 0$, что даёт 1).

2) открытые задания (тестовые, повышенный уровень сложности):

1. Пусть в линейном пространстве заданы вектор x и векторы базиса e_1, e_2, \dots, e_n . Пусть для чисел a_1, a_2, \dots, a_n выполняется равенство $x = a_1 e_1 + a_2 e_2 + \dots + a_n e_n$. Как называются числа a_1, a_2, \dots, a_n для вектора x .

Ответ: координатами; координатами вектора; координатами вектора x ; координаты; координаты вектора; координаты вектора x .

3) открытые задания (расчетные, повышенный уровень сложности):

1. Для матрицы $A = \begin{pmatrix} 2 & 4 & 6 & 8 \\ 0 & 3 & 3 & 4 \\ 0 & 0 & 0 & 5 \\ 0 & 0 & 0 & 0 \end{pmatrix}$ укажите все базы её столбцов и дайте объяснение.

Ответ: три базы образованы столбцами 1,2,4; 1,3,4; 2,3,4.

Решение. Минор 4-го порядка $|A|=0$, т.к. в нём есть нулевая строка, тогда 4 столбца линейно зависимы. Все миноры, содержащие элементы из четвёртой строки нулевые. Из первых трёх

ненулевых строк можно составить 4 минора третьего порядка $\begin{vmatrix} 2 & 4 & 6 \\ 0 & 3 & 3 \\ 0 & 0 & 0 \end{vmatrix} = 0$, $\begin{vmatrix} 2 & 4 & 8 \\ 0 & 3 & 4 \\ 0 & 0 & 5 \end{vmatrix} = 2 \cdot 3 \cdot 5 \neq$

0 , $\begin{vmatrix} 2 & 6 & 8 \\ 0 & 3 & 4 \\ 0 & 0 & 5 \end{vmatrix} \neq 0$, $\begin{vmatrix} 4 & 6 & 8 \\ 3 & 3 & 4 \\ 0 & 0 & 5 \end{vmatrix} = 4 \cdot 3 \cdot 5 - 6 \cdot 3 \cdot 5 \neq 0$. Всего в матрице есть три ненулевых минора тре-

тьего порядка. Тогда ранг матрицы A равен трём и базисные миноры образованы из столбцов 1,2,4; 1,3,4; 2,3,4. Эти тройки столбцов в A линейно независимы, через них линейно выражаются все столбцы, поэтому они образуют базы.

Критерий оценивания	Шкала оценок
Указаны все три базы 1,2,4; 1,3,4; 2,3,4 с объяснением; возможно с небольшими погрешностями в решении.	5 баллов
Правильно указаны одна или две базы; имеются погрешности в решении.	2 балла
Базы не указаны или указаны неверно.	0 баллов

1) закрытые задания (тестовые, средний уровень сложности):

1. Установите соответствие между свойствами бинарных отношений и их типами:

1. рефлексивность, симметричность, транзитивность
2. рефлексивность, антисимметричность, транзитивность
3. антирефлексивность, асимметричность, транзитивность

Ответы:

1. Отношение эквивалентности
2. Отношение частичного (нестроого) порядка
3. Отношение строгого порядка

Ответ: 1-1, 2-2, 3-3

2. На множестве $X = \{1, 2, 3\}$ заданы бинарные отношения:

$$R_1 = \{(1,1), (2,2), (3,3), (1,2)\}, R_2 = \{(1,1), (3,3), (1,2), (2,1)\}, R_3 = \{(1,3), (3,2), (1,2)\}.$$

Какое из этих отношений является рефлексивным? Выберите правильный вариант ответа:

- а) отношение R_1
- б) отношение R_2
- в) отношение R_3

Ответ: а)

3. На множестве $X = \{1, 2, 3\}$ заданы бинарные отношения:

$$R_1 = \{(1,1), (2,2), (3,3), (1,2)\}, R_2 = \{(1,1), (3,3), (1,2), (2,1)\}, R_3 = \{(1,3), (3,2), (1,2)\}.$$

Какое из этих отношений является симметричным? Выберите правильный вариант ответа:

- а) отношение R_1
- б) отношение R_2
- в) отношение R_3

Ответ: б)

4. Дана формула алгебры логики $U = (\bar{x} \wedge \bar{z}) \vee (x \wedge y) \vee (x \wedge \bar{z})$. Определите, какой из формул алгебры логики она равносильна. Выберите правильный ответ.

- а) $x \wedge y \wedge z$
- б) $z \rightarrow (x \wedge y)$
- в) $x \vee y \vee z$

Ответ: б)

Решение. Построим таблицы истинности для формулы U и каждого из вариантов.

x	y	z	$\bar{x} \wedge \bar{z}$	$x \wedge y$	$x \wedge \bar{z}$	U	а	б	в
0	0	0	1	0	0	1	0	1	0
0	0	1	0	0	0	0	0	0	1
0	1	0	1	0	0	1	0	1	1
0	1	1	0	0	0	0	0	0	1
1	0	0	0	0	1	1	0	1	1
1	0	1	0	0	0	0	0	0	1
1	1	0	0	1	1	1	0	1	1
1	1	1	0	1	0	1	1	1	1

Для формул У и б) таблицы истинности совпадают, что говорит об их равносильности.

5. Дана функции алгебры логики $f(x, y, z) = (x \rightarrow y) \wedge z$ найдите ее совершенную дизъюнктивную нормальную форму (СДНФ). Выберите правильный ответ.

а) $(\bar{x} \wedge \bar{y} \wedge z) \vee (\bar{x} \wedge y \wedge z) \vee (x \wedge y \wedge z)$

б) $z \rightarrow (x \wedge y)$

в) $(x \wedge y \wedge z) \vee (\bar{x} \wedge \bar{y} \wedge \bar{z})$

Ответ: а)

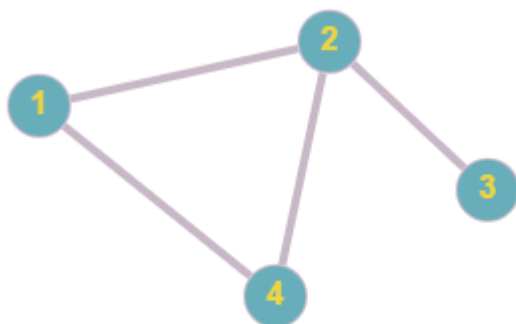
Решение. Построим таблицы истинности для функции

x	y	z	$x \rightarrow y$	$(x \rightarrow y) \wedge z$
0	0	0	1	0
0	0	1	1	1
0	1	0	1	0
0	1	1	1	1
1	0	0	0	0
1	0	1	0	0
1	1	0	1	0
1	1	1	1	1

По таблице истинности определяем СДНФ: $(\bar{x} \wedge \bar{y} \wedge z) \vee (\bar{x} \wedge y \wedge z) \vee (x \wedge y \wedge z)$, что соответствует ответу а)

2) открытые задания (тестовые, повышенный уровень сложности):

1. Определите, какая вершина неориентированного графа, изображенного на рисунке, является **центральной**. В ответе укажите номер вершины.



Ответ: 2

Решение. Построим матрицу расстояний:

$$R = \begin{pmatrix} 0 & 1 & 2 & 1 \\ 1 & 0 & 1 & 1 \\ 2 & 1 & 0 & 2 \\ 1 & 1 & 2 & 0 \end{pmatrix}.$$

Найдем эксцентриситеты вершин: $e(1)=2$, $e(2)=1$, $e(3)=2$, $e(4)=2$. Наименьший эксцентриситет имеет вершина 2, она и является центральной.

2. В НИИ работают 67 человек. Из них 47 человек знают английский язык, 35 – немецкий и 23 – оба языка. Сколько человек в институте не знает ни английского, ни немецкого языка?

Ответ: 8

Решение. Рассмотрим, сколько человек знают английский или немецкий язык: $35+47-23=59$.

Найдем число тех, кто не знает ни английского, ни немецкий: $67-59=8$ чел.

3. Сколько в десятичной системе счисления существует двузначных чисел, не содержащих цифру 8?

Ответ: 72

Решение. Пусть a – цифра десятков $a \in \{1, 2, 3, 4, 5, 6, 7, 9\}$, b – цифра единиц, $b \in \{0, 1, 2, 3, 4, 5, 6, 7, 9\}$. Выбор a – 8 способов, выбор b – 9 способов. Выбор числа 72 способа (72 числа).

4. Определите, сколько перестановок можно составить из букв слова «перешеек».

Ответ: 1680

Решение.

В данном слове имеются следующие буквы:

1 буква «п»; 4 буквы «е»; 1 буква «р», одна буква «ш» и 1 буква «к».

Тогда число перестановок букв слова «перешеек» равно:

$$P(1, 4, 1, 1, 1) = \frac{8!}{4!} = 1680.$$

5. Сколькими способами можно поставить в ряд 6 человек для фотоснимка?

Ответ: 720

Решение. Выбираем из 6 элементов (человек), $n = 6$; необходимо выбрать 6 элементов (человек), $k = 6$; порядок, в котором располагаются люди на фото, важен, при этом $n = k$, значит, выбираем перестановки. Повторный выбор невозможен. Следовательно, для подсчета числа способов необходимо воспользоваться формулой числа перестановок без повторений:

$$P(6) = 6! = 720.$$

Б1.О.15 Теория вероятностей1) закрытые задания (тестовые, средний уровень сложности):

1. Когда применяется классический способ задания вероятности:

- а) пространство элементарных событий бесконечно, все события равновозможны и независимые;
- б) пространство элементарных событий замкнуто, все события независимы;
- в) пространство элементарных событий конечно, все события равновозможны;
- г) пространство элементарных событий конечно, все элементарные события независимы.

Ответ: в)

2. Законы распределения случайной дискретной величины представляются в виде

- а) Функции распределения $F(x)$ и совокупностью значений X
- б) функции распределения $F(x)$ и рядом распределения (x_i, p_i)
- в) функции распределения $F(x)$ и совокупностью значений p_i
- г) функции распределения $F(x)$ и $\int p(x)dx$

Ответ: б)

3. Сущность предельных теорем и закона больших чисел заключается в

- а) Определении числовых характеристик случайных величин при большом числе наблюдаемых данных;
- б) Поведении числовых характеристик и законов распределения наблюдаемых значений случайных величин;
- в) Определении области применения нормального закона распределения случайных величин при сложении большого количества случайных величин;
- г) Определении суммарных значений основных характеристик законов распределения.

Ответ: а)

2) открытые задания (тестовые, повышенный уровень сложности):

1. Что такое числовые характеристики случайной величины. Перечислите наиболее известные числовые характеристики.

Ответ. Числа, в сжатой форме выражающие наиболее существенные черты распределения, называются числовыми характеристиками. Самые известные: математическое ожидание, мода, медиана, дисперсия, среднеквадратическое отклонение, коэффициент эксцесса, асимметрии.

Б1.О.16 Математическая статистика1) закрытые задания (тестовые, средний уровень сложности):

1. К оценкам генеральной совокупности предъявляются следующие требования:

- а) Оценка должна быть стационарной, эргодичной и эффективной;
- б) Оценка должна быть состоятельной, эргодичной и эффективной;
- в) Оценка должна быть несмещенной, стационарной и эффективной;
- г) Оценка должна быть состоятельной, эффективной и несмещенной;

Ответ: г)

2. Статистической гипотезой называют:

- а) Предположение относительно параметров и вида закона распределения генеральной совокупности;
- б) Предположение относительно объема генеральной совокупности;
- в) Предположение относительно параметров и вида закона распределения выборки;
- г) Предположение относительно объема выборочной совокупности;

Ответ: в)

3. При проверки статистической гипотезы ошибка первого рода это:

- а) Принятие в действительности неверной гипотезы;
- б) Отвержение в действительности правильной гипотезы;
- в) Принятие в действительности правильной гипотезы;
- г) Отвержение в действительности неправильной гипотезы;

Ответ: в)

4. В критерии Колмогорова за меру качества согласия эмпирического и теоретического распределения принимается:

- а) Максимальное расхождение модуля разности между эмпирической и теоретической функциями распределения;
- б) Максимальное расхождение по модулю между теоретической и эмпирической частотами попадания случайной величины в интервал;
- в) Среднее квадратичное отклонение между теоретической и эмпирической частотами попадания случайной величины в интервал;
- г) Максимальное расхождение модуля разности между эмпирической и теоретической функциями плотности распределения;

Ответ: а)

2) открытые задания (тестовые, повышенный уровень сложности):

1. В чем заключается метод максимального правдоподобия оценки неизвестных параметров.

Ответ. Метод максимального правдоподобия нахождения неизвестных параметров заключается в максимизации функции правдоподобия.

Б1.О.17 Комплексный анализ1) закрытые задания (тестовые, средний уровень сложности):1. Вычислить значение: $\left(\frac{1-i}{1+i}\right)^3$

- а) i ;
- б) 1 ;
- в) 0 ;
- г) $(1-i)^6$.

2. С помощью формулы Муавра найти все значения комплексного корня:
 $\sqrt[3]{-27i}$

- а) $3i, -3i, 0$;
- б) $-3i$;
- в) $\frac{3}{2}(\sqrt{3}-i), 3i, -\frac{3}{2}(\sqrt{3}+i)$;
- г) $3(i+1), -3i, 3(1-i)$.

3. Вычислить интеграл

$$\oint_{|z|=1} \bar{z} dz$$

- а) $-\pi i$
- б) 0
- в) $2\pi i$

4. Для функции $\frac{1}{1+e^{\frac{1}{z}}}$ определить характер особой точки $z_0 = 0$:

- а) устранимая особая точка;
- б) полюс;
- в) существенно особая точка;
- г) нет правильного ответа

2) открытые задания (тестовые, повышенный уровень сложности):

1. Вычислить интеграл с помощью вычетов, считая, что обход замкнутого контура происходит в положительном направлении:

$$\oint_C \frac{e^z}{z(z^2-9)} dz, \text{ где } C \text{ - окружность } |z| = 1.$$

Ответ: $-\frac{2\pi i}{9}$.**Б1.О.18 Функциональный анализ**1) закрытые задания (тестовые, средний уровень сложности):1. Множество A называют счетным, если

- а) существует биективное соответствие между ним и множеством натуральных чисел
- б) на нем задана метрика
- в) все его подмножества являются компактными

г) каждая фундаментальная последовательность в нем имеет предел

Ответ: а)

2. Подмножество A метрического пространства называют открытым, если

а) оно содержит каждую свою точку вместе с некоторой ϵ -окрестностью

б) оно содержит все свои точки прикосновения

в) оно содержит все свои граничные точки

г) каждая фундаментальная последовательность в нем имеет предел

Ответ: а)

3. Как называют оператор вида $(Kx)(t) = \int_a^b k(t, s)x(s) ds$?

а) интегральным

б) оператором композиции

в) оператором умножения

г) сжимающим оператором

Ответ: а)

2) открытые задания (тестовые, повышенный уровень сложности):

1. Как называют множество, всякое покрытие которого открытыми множествами содержит конечное подпокрытие?

Ответ: Компактным

2. Как называют функцию, для которой прообраз любого промежутка вида $(-\infty, b)$ является измеримым множеством?

Ответ: Измеримой

Б1.О.19 Дифференциальные уравнения

1) закрытые задания (тестовые, средний уровень сложности):

1. Общим решением некоторого дифференциального уравнения является функция $y = cx^3$, тогда частным решением этого дифференциального уравнения, удовлетворяющее начальному условию $y(1) = 3$, является

а) $y = 2x$

б) $y = cx^3$

в) $y = x + c$

г) $y = 3x^3$

д) $y = x^3$

Ответ: г)

2. Укажите частное решение дифференциального уравнения $xy' = 1$

а) $y = \ln|x| + c$

б) $y = \ln|x + c|$

в) $y = \ln|x|$

г) $y = ce^x$

- д) $y = 2\ln|x|$
 е) $y = \ln|x + 1|$

Ответ: в)

3. Уравнение $\lambda^2 - 2\lambda + 1 = 0$ является характеристическим уравнением дифференциального уравнения

- а) $y'' - 2y' + 1 = 0$,
 б) $y'' - 2y' + y = 0$,
 в) $y'' - 2y' = 0$,
 г) $y''' - 2y'' - y = x$.

Ответ: б)

4. Установите соответствие между линейным однородным дифференциальным уравнением и общим решением

1. $y'' + 2y' + y = 0$
 2. $y'' - 2y' = 0$
 3. $y'' - 2y = 0$

Общие решения

1. $y_{00} = e^{-x}(c_1 + c_2x)$
 2. $y_{00} = c_1 \sin \sqrt{2}x + c_2 \cos \sqrt{2}x$
 3. $y_{00} = c_1 + c_2e^{2x}$

Ответ: 1-1, 2-3, 3-2

2) открытые задания (тестовые, повышенный уровень сложности):

1. При каком значении параметра n функция $y = e^{nx}(c_1 + c_2x)$ является общим решением дифференциального уравнения $y'' - 6y' + 9y = 0$.

Ответ: 3

Б1.О.22 Численные методы

1) закрытые задания (тестовые, средний уровень сложности):

1. Числом обусловленности M_A матрицы \mathbf{A} называется:

- а) $M_A = \det(A)$;
 б) $M_A = \|A\| \|x\|$;
 в) $M_A = \|A^{-1}\| \|A\|$;
 г) $M_A = \|A^{-1}\|$.

Ответ: в)

2. Система линейных алгебраических уравнений $\mathbf{Ax}=\mathbf{b}$ плохо обусловлена, если у матрицы \mathbf{A} этой системы

- а) число обусловленности много больше единицы;
 б) число обусловленности близко к единице;

в) $\det A \approx 0$;

г) $\det A \neq 0$.

Ответ: б)

3. Решается система линейных алгебраических уравнений $Ax=b$. В результате найдено приближенное решение \tilde{x} (x^* – точное решение системы). Невязкой называется величина:

а) $R = x^* - \tilde{x}$;

б) $R = A\tilde{x} - b$;

в) $R = A\tilde{x} - x^*$.

Ответ: б)

2) открытые задания (тестовые, повышенный уровень сложности):

1. Для таблично заданной функции $f(x)$ вычислено, что разделенная разность $f(x_0, x_1, x_2) = 3$. Чему равна разделенная разность $f(2x_0, 2x_1, 2x_2)$, если значения функции при этом остались неизменными?

Ответ: 0,75

1. Для таблично заданной функции $f(x)$ вычислено, что разделенная разность $f(x_0, x_1, x_2) = 5$. Чему равна разделенная разность $f(x_0 + 3, x_1 + 3, x_2 + 3)$, если значения функции при этом остались неизменными?

Ответ: 5

Б1.О.23 Методы оптимизации

1) закрытые задания (тестовые, средний уровень сложности):

1. Укажите тип точки с координатами (0,0) для функции $I = 3x^2 + y^2 - 1$

а) Точка максимума

б) точка перегиба

в) точка минимума

г) Седловая точка

Ответ: в)

2. Укажите тип точки с координатами (0,0) для функции $I = 3x^2 - y^2 + 2$

а) Точка максимума

б) точка перегиба

в) точка минимума

г) Седловая точка

Ответ: г)

3. Дано множество $U = \{(x, y) \in R_2 | x + y = -1\}$

Точка с координатами (1,-2) для множества U

а) является крайней (угловой)?

б) не является крайней (угловой)?

в) не является граничной?

г) является внутренней?

Ответ: б)

4. Укажите тип точки с координатами (0,0) для функции $I = -2x^2 - y^2 + 9$

- а) Точка локального минимума
- б) Точка глобального максимума
- в) Точка перегиба
- г) Седловая точка

Ответ: б)

5. Метод наискорейшего спуска решения оптимизационных задач предназначен для решения прикладных задач:

а. Безусловной оптимизации.

- б. Задач с ограничениями равенствами.
- в. Задач с ограничениями неравенствами.
- с. Задач со смешанными ограничениями.

6. Численный метод решения задач безусловной оптимизации является методом первого порядка, если:

а. использует в процессе решения производные первого порядка, но не использует производные второго и более высоких порядков;

б. не использует в процессе решения вычисление производных;

в. использует производные первого и более высоких порядков.

г. алгоритм содержит разветвления, при которых могут использоваться как производные первого порядка, так и производные более высоких порядков.

2) открытые задания (тестовые, повышенный уровень сложности):

1. Сформулируйте одно из необходимых условий минимума в задаче нахождения точки минимума функционала вида $I = \int_a^b f\left(t, x(t), \frac{dx(t)}{dt}\right) dt$?

- а) Условие Слейтера.
- б) Функция f должна быть выпуклой.
- в) Функция f не должна зависеть от $x(t)$.

г) Уравнение Эйлера $f'_x - \frac{d}{dt}f_{x'} = 0$

Ответ: г) Уравнение Эйлера $f'_x - \frac{d}{dt}f_{x'} = 0$

2. Если допустимой областью в прикладной задаче линейного программирования в R^2 является квадрат с вершинами (1,2), (8,2), (1,7), (8,7), а градиент целевой функции равен $\nabla f = (4,1)$, то какая точка является решением задачи на максимум (запишите в круглых скобках координаты точки)?

Ответ: **(8,7)**

3. В процессе решения задачи линейного программирования при максимизации целевой функции симплексным методом на некоторой итерации получена симплексная таблица:

B	C _B	\bar{x}	2	-1	5	-2	1	Θ
			A ₁	A ₂	A ₃	A ₄	A ₅	
x ₃	5	1	-1	1	1	0	0	
x ₄	-2	1	1	-1	0	1	0	
x ₅	1	2	1	1	0	0	1	

Δ_j							
------------	--	--	--	--	--	--	--

Чему равно значение наименьшей оценки (написать значение оценки, если оно отрицательное, то без пробела между числом и знаком минус)?

Ответ: -8

Б1.О.24 Информатика и программирование

1) закрытые задания (тестовые, средний уровень сложности):

Тело любого цикла выполняется до тех пор, пока его условие...

Тело любого цикла выполняется до тех пор, пока его условие...			MC
#	Ответы	Отзыв	Оценка
A.	истинно		100
B.	ложно		0
C.	или ложно, или истинно		0
D.	у цикла нет условия		0

Чему равна переменная после выполнения выражения...

Чему равна переменная result после выполнения выражения...			MC
<code>int result = 1000/10%7/2</code>			
#	Ответы	Отзыв	Оценка
A.	35		0
B.	30		0
C.	1		0
D.	1,5		100

Чему равная переменная после выполнения кода...

Чему равная переменная после выполнения кода...			MC
<code>int k; for(a=0; a<10; a++) std::cin>>k;</code>			
#	Ответы	Отзыв	Оценка
A.	ошибка компиляции		100
B.	10		0
C.	9		0
D.	11		0

2) открытые задания (тестовые, повышенный уровень сложности):

Дан текстовый файл. Найти менее используемый символ и...

<p>Дан текстовый файл file. Записать в новый файл newfile все строки, в которых содержится самый менее используемый символ исходного файла file.</p> <p>Напишите те строчки кода, которые вам помогут считать строки из исходного file. Задачу целиком решать не нужно</p>	ES
--	----

Дан файл чисел. Рекурсия. Составить все подмножества...

<p>Дан файл, содержащий множество натуральных чисел. Составите все подмножества, сумма элементов которых равна числу X. Сначала вводится кол-во элементов множества, потом все элементы, затем число X. Использовать рекурсию.</p> <p>Пример:</p> <p>Файл:</p> <p>12</p> <p>1 5 7 3 10 8 9 2 4 6 11 13</p> <p>15</p> <p>Вывод:</p> <p>4 11</p> <p>2 13</p> <p>9 6</p> <p>9 2 4</p> <p>и тд</p> <p>Объявите функцию с необходимыми параметрами и объясните их необходимость. Задачу целиком решать не нужно</p>	ES
--	----

Б1.О.33 Физика

1) закрытые задания (тестовые, средний уровень сложности):

1. Центр тяжести твердого тела. Укажите соотношения для вычисления координаты центра тяжести твердого тела.

$$\text{а. } x_c = \frac{1}{R} \sum F_k x_k, \quad y_c = \frac{1}{R} \sum F_k y_k, \quad z_c = \frac{1}{R} \sum F_k z_k.$$

$$\text{б. } x_c = \frac{1}{P} \sum p_k x_k, \quad y_c = \frac{1}{P} \sum p_k y_k, \quad z_c = \frac{1}{P} \sum p_k z_k. (*)$$

$$\text{в. } x_c = \frac{1}{M} \sum m_k x_k, \quad y_c = \frac{1}{M} \sum m_k y_k, \quad z_c = \frac{1}{M} \sum m_k z_k.$$

2. Сколько соотношений описывают условия равновесия пространственной произвольной системы сил в общем случае?

- а. три,
- б. четыре,
- в. пять,
- г. шесть, (*)
- е. семь.

3. Соотношения кого закона динамики определяют дифференциальные уравнения движения точки?

- а. Первого закона,
- б. Второго закона, (*)
- в. Третьего закона.

2) открытые задания (тестовые, повышенный уровень сложности):

1. Произвольная плоская система сил. Приведите три формы записи условий равновесия плоской системы сил.

Ответ:

Основная форма: $\sum F_{kx} = 0, \sum F_{ky} = 0, \sum m_O(\vec{F}_k) = 0;$

Вторая форма: $\sum F_{kx} = 0, \sum m_A(\vec{F}_k) = 0, \sum m_B(\vec{F}_k) = 0;$

Ось OX не перпендикулярная прямой АВ.

Третья форма: $\sum m_A(\vec{F}_k) = 0, \sum m_B(\vec{F}_k) = 0, \sum m_C(\vec{F}_k) = 0 ;$

Точки А, В, С не лежат на одной прямой.

Б2.О.01(У) Учебная практика (ознакомительная)

- 1) закрытые задания (тестовые, средний уровень сложности):

Алгебра. Основы

Матрица, имеющая одинаковое число строк и столбцов, называется _____.			МС
#	Ответы	Отзыв	Оценка
А.	симметричной;		0
В.	квадратной.		100

Матрица, имеющая одинаковое число строк и столбцов, называется _____.

Матрица, имеющая одинаковое число строк и столбцов, называется _____.			МС
#	Ответы	Отзыв	Оценка
А.	симметричной;		0
В.	квадратной.		100

При _____ структура функции заранее известна.

При _____ структура функции заранее известна.			МС
#	Ответы	Отзыв	Оценка
А.	интерполировании		0
В.	аппроксимации		100

Укажите самый точный метод численного дифференцирования:

Укажите самый точный метод численного дифференцирования:			МС
#	Ответы	Отзыв	Оценка
A.	Эйлера;		0
B.	Модифицированный Эйлера;		0
C.	Эйлера-Коши;		0
D.	Рунге-Кутта.		100

1. Какое устройство в ИТ может оказать вредное воздействие на здоровье?

- а) монитор
- б) принтер
- в) модем
- г) системный блок

Ответ: а)

2. Доступ к интернету в ИТ можно получить через:

- а) шлюз
- б) модемное соединение
- в) почту
- г) маршрутизатор

Ответ: б)

3. Где можно использовать компьютерные сети?

- а) дома
- б) в учебных заведениях
- в) на работе
- г) во всех перечисленных случаях

Ответ: г)

4. В какой программе можно создать текстовый документ (отчет по научной работе)?

- а) Windows Word
- б) Microsoft Word
- в) Microsoft Excel
- г) Microsoft Power Point

Ответ: б)

5. Основные этапы обработки в ИТ информации:

- а) устройство ввода, обработка, вывод информации
- б) исходная информация, конечная информация

- в) обработка и выход информации
- г) ввод информации

Ответ: а)

6. Технические средства информационных технологий:

- а) ЭВМ, принтер, мультимедийные средства
- б) принтер, мышь, сканер
- в) монитор, системный блок
- г) клавиатура

Ответ: а)

7. Программные средства информационных технологий:

- а) драйвера
- б) системные программы, прикладные программные средства
- в) программы
- г) утилиты

Ответ: б)

8. Специалисты, занимающиеся проникновением и заражением программ:

- а) хакеры
- б) технокрысы
- в) кракеры
- г) квакеры

9. Где хранится удаленная информация в ИТ?

- а) в корзине
- б) в программе
- в) в файле
- г) везде

Ответ: а)

10. Какой программой надо воспользоваться для защиты информации от вирусов:

- а) архивная
- б) антивирусная
- в) прикладная
- г) все, что перечислено

Ответ: б)

11. Как называется основное окно Windows, которое появляется на экране после полной загрузки операционной среды?

- а) Окно загрузки
- б) Стол с ярлыками
- в) Рабочий стол
- г) Изображение монитора





Ответ: в)

12. Для запуска любой программы надо на рабочем столе Windows нажать на?

- а) Ссылку на программу
- б) Ярлык программы
- в) Кнопку запуска программы
- г) Рабочий стол

Ответ: б)

13. Какое из изображений соответствует логотипу программы Microsoft Word?

- а) 
- б) 
- в) 
- г) 

Ответ: а)

2) открытые задания (тестовые, повышенный уровень сложности):

1. _____ - свойство модели, согласно которому модель должна достаточно точно (в рамках допустимой погрешности) отражать характерные черты явления.

Ответ: адекватность

2. _____ – это прямоугольная таблица, заполненная некоторыми математическими объектами.

Ответ: матрица

ОПК-2. Способен использовать и адаптировать существующие математические методы и системы программирования для разработки и реализации алгоритмов решения прикладных задач

Период окончания формирования компетенции: 7 семестр

Перечень дисциплин (модулей), практик, участвующих в формировании компетенции:

Дисциплины (модули):

Б1.О.21 Уравнения математической физики (6 семестр)

Б1.О.22 Численные методы (5, 6 семестры)

Б1.О.23 Методы оптимизации (5, 6 семестры)

Б1.О.24 Информатика и программирование (1, 2 семестры)

Б2.О.01(У) Учебная практика (ознакомительная) (2 семестр)

Б2.О.03(П) Производственная практика (научно-исследовательская работа) (7, 8 семестры)

Б1.О.21 Уравнения математической физики

1) закрытые задания (тестовые, средний уровень сложности):

1. Какой из многочленов является символом линейного дифференциального оператора

$$a_1 \frac{\partial^2}{\partial x^2} + a_2 \frac{\partial^2}{\partial x \partial y} + a_3 \frac{\partial^2}{\partial y^2} + b_1 \frac{\partial}{\partial x} + b_2 \frac{\partial}{\partial y} + c:$$

а) $a_1 \xi_1^2 + a_2 \xi_1 \xi_2 + a_3 \xi_2^2 + b_1 \xi_1 + b_2 \xi_2 + c;$

б) $a_1 \xi_1^2 + a_2 \xi_2^2 + a_3 \xi_3^2;$

в) $a_1 \frac{\partial^2}{\partial x^2} + b_1 \frac{\partial}{\partial x} + c;$

г) $a_1 \xi_1^2 + b_1 \xi_2 + c.$

2. Какой из многочленов является символом линейного дифференциального оператора

$$a_1 \frac{\partial^2}{\partial x^2} + a_2 \frac{\partial^2}{\partial y^2} + a_3 \frac{\partial^2}{\partial z^2};$$

а) $a_1 \xi_1^2 + a_2 \xi_2^2 + a_3 \xi_3^2 + b_1 \xi_1 + b_2 \xi_2 + a_3;$

б) $a_1 \xi_1^2 + a_2 \xi_2^2 + a_3 \xi_3^2;$

в) $a_1 \xi_1^2 + b_1 \xi + c;$

г) $a_1 \frac{\partial^2}{\partial x^2} + a_2 \frac{\partial^2}{\partial x \partial y} + a_3 \frac{\partial^2}{\partial y^2} + b_1 \frac{\partial}{\partial x} + b_2 \frac{\partial}{\partial y} + a_3.$

3. Какой из дифференциальных операторов является эллиптическим

($a_1, a_2, a_3, b_1, b_2, b_3, c$ – положительные константы):

а) $a_1 \frac{\partial^2}{\partial x^2} - a_2 \frac{\partial^2}{\partial y^2} + a_3 \frac{\partial^2}{\partial z^2} + b_1 \frac{\partial}{\partial x} + b_2 \frac{\partial}{\partial y} + c;$

б) $a_1 \frac{\partial^2}{\partial x^2} + a_2 \frac{\partial^2}{\partial y^2} - a_3 \frac{\partial^2}{\partial z^2} - b_1 \frac{\partial}{\partial x} - b_2 \frac{\partial}{\partial y} - c;$

в) $a_1 \frac{\partial^2}{\partial x^2} + a_2 \frac{\partial^2}{\partial y^2} + a_3 \frac{\partial^2}{\partial z^2} + b_1 \frac{\partial}{\partial x} + b_2 \frac{\partial}{\partial y} + \frac{\partial}{\partial z} - c;$

г) $a_1 \frac{\partial^2}{\partial x^2} + a_2 \frac{\partial^2}{\partial y^2} + b_1 \frac{\partial}{\partial x} + b_2 \frac{\partial}{\partial y} + b_3 \frac{\partial}{\partial z} + c.$

4. Найти области, в которых дифференциальный оператор $y \frac{\partial^2}{\partial x^2} + \frac{\partial^2}{\partial y^2}$ является эллиптическим:

а) $x > 0;$

б) $y > 0;$

в) $x < 0, y < 0;$

г) $x > 0, y > 0.$

Правильные ответы

1. а
2. б
3. в
4. б

2) открытые задания (тестовые, повышенный уровень сложности):

1. Найти область, в которой дифференциальный оператор $y \frac{\partial^2}{\partial x^2} + \frac{\partial^2}{\partial y^2}$ является гиперболическим.

Ответ: $y < 0$.

Б1.О.22 Численные методы1) закрытые задания (тестовые, средний уровень сложности):

1. Функция $f(x)$ задана таблицей из шести значений. Необходимо построить таблицу четвертых производных этой функции. Укажите, с помощью какого интерполяционного многочлена могут быть получены формулы численного дифференцирования:

- а) Интерполяционный многочлен Лагранжа 4 степени
- б) Интерполяционный многочлен Ньютона 3 степени
- в) Интерполяционный многочлен Лагранжа 2 степени
- г) Интерполяционный многочлен Ньютона 6 степени

Ответ: а)

2. Функция $f(x)$ задана таблицей из трех значений. Необходимо построить таблицу вторых производных этой функции. Укажите, с помощью какого интерполяционного многочлена могут быть получены формулы численного дифференцирования:

- а) интерполяционный многочлен Лагранжа 3 степени;
- б) интерполяционный многочлен Лагранжа 2 степени;
- в) интерполяционный многочлен Ньютона 3 степени;
- г) интерполяционный многочлен Лагранжа 1 степени.

Ответ: б)

3. Функция $f(x)$ задана таблицей из четырех значений. Необходимо построить таблицу третьих производных этой функции. Укажите, с помощью какого интерполяционного многочлена могут быть получены формулы численного дифференцирования:

- а) интерполяционный многочлен Лагранжа 4 степени;
- б) интерполяционный многочлен Лагранжа 3 степени;
- в) интерполяционный многочлен Ньютона 2 степени;
- г) интерполяционный многочлен Ньютона 5 степени

Ответ: б)

4. Выберите правильное утверждение:

- а) Области сходимости метода простой итерации (МПИ) и метода Зейделя всегда одинаковы;

- б) Если МПИ сходится, то метод Зейделя расходится;
 в) Если метод Зейделя сходится, то МПИ расходится;
 г) Области сходимости МПИ и метода Зейделя в общем случае различны.
 Ответ: г)

5. Выберите правильное утверждение: для таблично заданной функции можно построить единственный интерполяционный многочлен степени n , если
- а) таблица содержит ровно n узлов интерполяции, которые расположены в порядке возрастания;
 б) таблица содержит ровно $n+1$ узел интерполяции, и среди узлов интерполяции нет совпадающих;
 в) таблица содержит ровно $n+1$ узел интерполяции, и среди узлов интерполяции есть совпадающие;
 г) таблица содержит ровно n узлов интерполяции, и среди узлов интерполяции нет совпадающих.
 Ответ: б)

6. Выберите правильное утверждение: для таблично заданной функции можно построить интерполяционный кубический сплайн **только в том случае**, если
- а) таблица содержит четное число узлов интерполяции, и среди узлов интерполяции есть совпадающие;
 б) таблица содержит нечетное число узлов интерполяции, и среди узлов интерполяции нет совпадающих;
 в) таблица содержит не менее трех узлов интерполяции, которые расположены в порядке строгого возрастания;
 г) таблица содержит четное число узлов интерполяции, и среди узлов интерполяции нет совпадающих.
 Ответ: в)

7. Выберите правильное утверждение: погрешность интерполяции можно минимизировать, если
- а) узлы интерполяции расположить в порядке возрастания;
 б) если в качестве узлов интерполяции взять нули исходной заданной таблично функции;
 в) если в качестве узлов интерполяции взять нули полинома Чебышева;
 г) узлы интерполяции расположить в порядке убывания.
 Ответ: в)

8. Выберите правильное утверждение: метод Гаусса-Зейделя, примененный к системе линейных алгебраических уравнений $Ax=f$, (A – невырожденная матрица) будет сходиться при любом начальном приближении, если:
- а) хотя бы одно собственное значение матрицы A по модулю больше единицы;
 б) матрица A – матрица с диагональным преобладанием;
 в) если хотя бы одно собственное значение матрицы A по модулю меньше единицы;
 г) матрица A вещественная.
 Ответ: б)

9. Функция $f(x)$ задана таблицей из пяти значений. Необходимо построить таблицу четвертых производных этой функции. Укажите, с помощью какого интерполяционного многочлена могут быть получены формулы численного дифференцирования:

- а) Интерполяционный многочлен Ньютона 4 степени

- б) Интерполяционный многочлен Лагранжа 3 степени
 - в) Интерполяционный многочлен Лагранжа 2 степени
 - г) Интерполяционный многочлен Ньютона 5 степени
- Ответ: а)

10. Система линейных алгебраических уравнений $\bar{x} = B\bar{x} + f$ решается методом простых итераций. Найдено, что все собственные значения λ_B матрицы B удовлетворяют условию $\lambda_B \in (a; b)$. Укажите, при каких a и b метод будет сходиться при любом начальном приближении:

- а) $a=2; b=7$;
- б) $a=-1; b=3$;
- в) $a=-1; b=1$;
- г) $a=1; b=4$;

Ответ: в)

11. Выберите правильное утверждение: метод Якоби, примененный к системе линейных алгебраических уравнений $Ax=f$, (A – невырожденная матрица) будет сходиться при любом начальном приближении, если:

- а) если хотя бы одно собственное значение матрицы A по модулю больше единицы;
- б) матрица A – матрица с диагональным преобладанием;
- в) если хотя бы одно собственное значение матрицы A по модулю меньше единицы;
- г) матрица A вещественная.

Ответ: б)

12. Для таблично заданной на отрезке $[a, b]$ функции строится интерполяционный кубический сплайн $s(x)$. Выберите правильные утверждения:

- а) $s(x)$ в узлах таблицы совпадает со значениями функции $f(x)$;
- б) $s(x)$ непрерывен вместе с первой и второй производной на $[a, b]$;
- в) $s(x)$ возрастает на $[a, b]$;
- г) $s(x)$ убывает на $[a, b]$.

Ответ: а), б)

13. Система линейных алгебраических уравнений $\bar{x} = B\bar{x} + f$ решается методом простых итераций. Найдено, что все собственные значения λ_B матрицы B удовлетворяют условию $\lambda_B \in (a; b)$. Укажите, при каких a и b метод будет расходиться при любом начальном приближении:

- а) $a=2; b=5$;
- б) $a=-1; b=0,5$;
- в) $a=-0,5; b=1$;

г) $a=0,5; b=0,9$.

Ответ: а)

2) открытые задания (тестовые, повышенный уровень сложности):

1. Решение системы линейных алгебраических уравнений определяется по методу простой итерации

$$\bar{x}_{n+1} = B\bar{x}_n + \bar{b}, \quad \text{где } B = \begin{pmatrix} \alpha & 0,8 \\ -0,8 & \alpha \end{pmatrix}, \quad \alpha \in R.$$

Укажите промежуток (промежутки) значений для α , для которых процесс будет расходящимся?

Ответ: $(-\infty; -0,6] \cup [0,6; +\infty)$

2. Решение системы линейных алгебраических уравнений определяется по методу простой итерации

$$\bar{x}_{n+1} = B\bar{x}_n + \bar{b}, \quad \text{где } B = \begin{pmatrix} \alpha & 0,8 \\ -0,8 & \alpha \end{pmatrix}, \quad \alpha \in R.$$

Укажите промежуток (промежутки) значений для α , для которых процесс будет сходящимся?

Ответ: $(-0,6; 0,6)$

3. Решение системы линейных алгебраических уравнений определяется по методу простой итерации

$$\bar{x}_{n+1} = B\bar{x}_n + \bar{b}, \quad \text{где } B = \begin{pmatrix} \alpha & 0,6 \\ -0,6 & \alpha \end{pmatrix}, \quad \alpha \in R.$$

При каких α процесс будет расходящимся?

Укажите промежуток (промежутки) значений для α , для которых процесс будет расходящимся?

Ответ: $(-\infty; -0,8] \cup [0,8; +\infty)$

4. Решение системы линейных алгебраических уравнений определяется по методу простой итерации

$$\bar{x}_{n+1} = B\bar{x}_n + \bar{b}, \quad \text{где } B = \begin{pmatrix} \alpha & 0,6 \\ -0,6 & \alpha \end{pmatrix}, \quad \alpha \in R.$$

Укажите промежуток (промежутки) значений для α , для которых процесс будет сходящимся?

Ответ: $(-0,8; 0,8)$

Б1.О.23 Методы оптимизации

- 1) закрытые задания (тестовые, средний уровень сложности):

1. Задача линейного программирования по минимизации функции $F(x) = -x_1 - 3x_2 + 5$ при условиях $x_1 \geq 0, x_2 \geq 0, x_1 + 3x_2 \geq 0$ имеет решение, которому соответствует:

- а. единственная точка, где достигается минимум;
 б. только две точки, где достигается минимум;
в. бесконечное множество точек, где достигается минимум.
 с. только три точки, в которых достигается минимум.

2. Для некоторой функции двух переменных уравнениями двух разных линий уровня могут быть уравнения:

- а. $3x_1 + 5x_2 = 2$, $-3x_1 + 5x_2 = 2$;
 б. $-5x_1 + 3x_2 = 2$, $-15x_1 + 9x_2 = 6$;
в. $3x_1 - 5x_2 = 2$, $-6x_1 + 10x_2 = 7$;
 с. $3x_1 - 5x_2 = 0$, $-6x_1 + 10x_2 = 0$;

3. При минимизации симплекс-методом, в задаче линейного программирования, начальный базисный план имел вид:

$$(x_1, x_2, x_3, x_4) = (3, 0, 0, 1),$$

Причем выяснилось, что эта задача на поиск минимума не имеет решения. Причиной отсутствия решения является:

- а. противоречивость условий задачи;
б. неограниченность снизу целевой функции на допустимом множестве;
 в. неограниченность сверху целевой функции на допустимом множестве;
 с. пустота допустимого множества задачи.

4. В процессе решения симплексным методом с искусственными переменными задачи линейного программирования на максимум целевой функции на некоторой итерации получена симплексная таблица:

B	C _B	\bar{x}	1	0	3	-1	-M	-M	Θ
			A ₁	A ₂	A ₃	A ₄	Z ₁	Z ₂	
Z ₁	-M	4	1	0	2	1	1	0	
Z ₂	-M	7/5	-17/5	0	-2/5	11/5	0	1	
x ₂	0	4/5	1/5	1	1/5	2/5	0	0	
α		0	-1	0	-3	1	0	0	
β		-36/5	11/5	0	6/5	2/5	0	0	

Что можно сказать о решении исходной задачи?

- а. В задаче допустимое множество пусто;**
 б. На данной итерации получено оптимальное решение;
 с. Задача не имеет решения из-за неограниченности целевой функции.
 д. Задача имеет бесчисленное множество решений

5. Рассмотрим пару двойственных задач:

$$\begin{array}{ll}
 x_1 + 3x_2 \rightarrow \max & -4y_1 + y_2 \rightarrow \min \\
 -3x_1 - x_2 = -4 & -3y_1 + y_2 = 1 \\
 x_1 + x_2 = 1 & -y_1 + y_2 \geq 3 \\
 x_1 - \forall, \quad x_2 \geq 0 & y_1 - \forall, \quad y_2 - \forall
 \end{array}$$

Что можно сказать о решении данных задач?

- а. в исходной задаче допустимое множество пусто, в двойственной задаче нет решения из-за неограниченности целевой функции;**
 б. в исходной задаче единственное решение и в двойственной задаче единственное решение;

в. в исходной задаче допустимое множество пусто, в двойственной задаче допустимое множество пусто;
 с. и в исходной, и в двойственной задаче нет решения из-за неограниченности целевой функции.

6. Дана задача линейного программирования:

$$x_1 + 3x_2 + 2x_3 \rightarrow \max$$

$$3x_1 - 2x_2 + x_3 \geq 5$$

$$x_1 \geq 0, x_2 \geq 0, x_3 \geq 0$$

Что можно сказать о решении исходной и двойственной задач?

а. в исходной задаче допустимое множество пусто, в двойственной задаче нет решения из-за неограниченности целевой функции;

б. в исходной задаче единственное решение и в двойственной задаче единственное решение;

в. в исходной задаче нет решения из-за неограниченности целевой функции, в двойственной задаче допустимое множество пусто;

с. в исходной задаче допустимое множество пусто, в двойственной задаче допустимое множество пусто.

7. Дана сбалансированная транспортная задача:

b_j	30	36	36	22	56
a_i					
45	3	6	2	4	5
70, 34	3	1	4	4	4
15	4	3	5	3	6
50	1	4	3	6	8

Какую ячейку можно выбрать на следующей итерации в метода нахождения минимального элемента:

а. (4,1);

б. (1,3);

в. (2,1);

с. (4,5).

8. Дана сбалансированная транспортная задача:

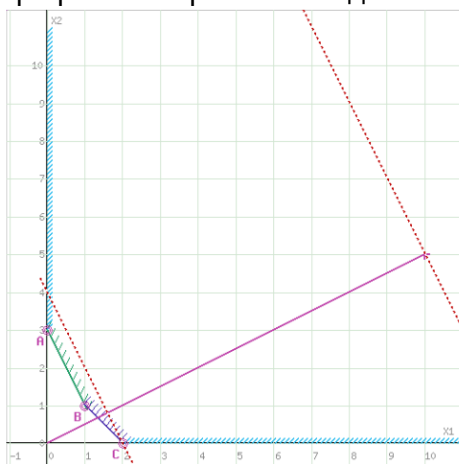
b_j	30	36	36	22	56	
a_i						
45, 15	30	3	6	2	4	5
70	3	1	4	4	4	

15	4	3	5	3	6
50	1	4	3	6	8

Какую ячейку можно выбрать на следующей итерации в метода северо-западного угла:

- а. (4,1);
- б. (1,2);**
- в. (2,1);
- с. (3,3).

9. Графическое решение задачи линейного программирования имеет вид:



Что является решением задачи на максимум и на минимум?

а. на максимум нет решения из-за неограниченности целевой функции, на минимум точка А;

- б. на максимум нет решения из-за неограниченности целевой функции, на минимум точка В;
- в. на максимум точка С, на минимум точка А;
- с. на максимум точка А, на минимум точка С.

10. В методе деления отрезка пополам на каждой итерации текущий отрезок неопределенности:

- а. сокращается в два раза;**
- б. сокращается более чем в два раза;
- в. сокращается в четыре раза;
- с. или не сокращается, или сокращается в два раза.

11. При решении задач безусловной оптимизации на минимум методом наискорейшего спуска движение на каждой итерации осуществляется:

- а. по градиенту в текущей точке;
- б. по антиградиенту в текущей точке;**
- в. по сопряженным направлениям;
- с. по координатным направлениям.

12. Для применения метода деления отрезка пополам в задаче нахождения точки минимума функции на отрезке требуется

- а) чтобы функция была выпуклой
- б) чтобы функция была дважды дифференцируемой
- в) чтобы функция была вогнутой
- г) чтобы функция была задана на отрезке

Ответ: г)

13. Для применения метода золотого сечения в задаче нахождения точки минимума функции на отрезке требуется

- а) чтобы функция была выпуклой
- б) чтобы функция была задана на отрезке
- в) чтобы функция была дважды дифференцируемой
- г) чтобы функция была вогнутой

Ответ: б)

14. Градиент функции указывает направление

- А) наибольшей скорости возрастания функции
- Б) наибольшей скорости убывания функции
- В) к точке минимума функции
- Г) к точке максимума функции

Ответ: А)

15. Антиградиент функции указывает направление

- А) наибольшей скорости возрастания функции
- Б) к точке минимума функции
- В) к точке максимума функции
- Г) наибольшей скорости убывания функции

Ответ: Г)

16. Для применения метода Ньютона в задаче минимизации функции требуется, чтобы

- А) функция была выпуклой
- Б) функция была дважды непрерывно дифференцируема
- В) функция была вогнутой
- Г) функция была линейной

Ответ: Б)

17. Градиент функции $I = x^2 - 2y^2 - 3x + 4y$ в точке (0,0) равен

- А) вектору с компонентами -3, -4
- Б) вектору с компонентами -3, 4
- В) вектору с компонентами 2, -4
- Г) вектору с компонентами 2, 4

Ответ: Б)

18. Антиградиент функции $I = 3x^2 - y^2 - 3x + 4y$ в точке (0,0) равен

- А) вектору с компонентами 3, -4
- Б) вектору с компонентами -3, 4
- В) вектору с компонентами 2, -4
- Г) вектору с компонентами 2, 4

Ответ: А)

19. Точка локального минимума выпуклой функции на выпуклом замкнутом множестве является

- А) седловой точкой этой функции
 Б) граничной точкой этого множества
 В) внутренней точкой этого множества
 Г) точкой глобального минимума функции на этом множестве

Ответ: Г)

2) открытые задания (тестовые, повышенный уровень сложности):

1. При решении задачи нахождения оптимального (дающего максимум целевой функции) варианта действий симплексным методом на некоторой итерации получена симплексная таблица:

В	C _В	\bar{x}	1	1	5	2	1	Θ
			A ₁	A ₂	A ₃	A ₄	A ₅	
x ₃	5	1	1	-5	1	0	0	
x ₄	2	1	4	-1	0	1	0	
x ₅	1	2	1	1	0	0	1	
Δ _j								

Текущая точка не является оптимальной, какой вектор нужно ввести в базис на следующей итерации (введите номер данного вектора)?

а. 2

2. При использовании теории двойственности в процессе решения прикладных задач была получена следующая пара двойственных задач:

$$2x_1 + 5x_2 \rightarrow \max$$

$$-3x_1 - x_2 = -4$$

$$x_1 + x_2 = 1$$

$$x_1 - \forall, \quad x_2 \geq 0$$

$$-4y_1 + y_2 \rightarrow \min$$

$$-3y_1 + y_2 = 2$$

$$-y_1 + y_2 \geq 5$$

$$y_1 - \forall, \quad y_2 - \forall$$

Чему равно оптимальное значение целевой функции во второй задаче (укажите или конкретное значение или, если решения нет из-за неограниченности целевой функции, то напишите *неограничена*)

а. неограничена

3. При решении транспортной задачи на очередной итерации получена таблица:

$a_i \backslash b_j$	12	8	7	7	6	
6	7	4	3	2	5	U1=0
8	3	4	3	5	1	U2=-3
12	0	4	2	3	6	U3=
14	12	7	1	8	4	U4=2
	7	8	5	1	5	
	V1=6	V2=-1	V3=6	V4=2	V5=	

Найдите, чему равны потенциалы u_3, V_5 (напишите значения через запятую и пробел, сначала u_3 , затем V_5)?

а. -6, 4

4. При решении транспортной задачи на очередной итерации получена таблица:

b_j	12	8	7	7	6	
a_i						
6	7	4	3	2	5	$U_1=0$
8	3	4	3	5	1	$U_2=-3$
12	0	4	2	3	6	$U_3=-6$
14	7	1	8	4	5	$U_4=2$
	12	8	5	1	6	
	$V_1=6$	$V_2=-1$	$V_3=6$	$V_4=2$	$V_5=4$	

Вычислите оценку x_{11} .

А. -1

5. Пусть задана следующая транспортная задача:

						A_i
	5	4	3	1	2	20
	3	6	2	4	3	8
	2	4	5	3	1	7
	1	2	3	4	5	10
B_j	12	9	8	5	6	

Является ли задача сбалансированной. Укажите да или нет.

а. нет

6. Какое из уравнений является Уравнением Эйлера для функционала

$$I = \int_0^1 (x(t) - x'^2(t)) dt?$$

А) $1 + 2x'' = 0$

Б) $1 - 2x'' = 0$

В) $-1 + 2x'' = 0$

Г) $-2 + x'' = 0$

Ответ: А) $1 + 2x'' = 0$

7. Метод динамического программирования применяется для

А) создания алгоритмов оптимизации функций одной переменной

Б) создания алгоритмов градиентного спуска

В) создания алгоритмов решения задач оптимального управления

Г) проверки оптимальности полученного решения задачи

Ответ: В) создания алгоритмов решения задач оптимального управления

8. Какая из функций является выпуклой при всех $x \in R, y \in R$

А) $I = -x^2 - 2y^2 + 10\lambda$

Б) $I = x^2 + 2y^2 + 10$

В) $x^2 - 2y^2 + 10$

Г) $-x^2 + 2y^2 + 10$

Ответ: Б) $I = x^2 + 2y^2 + 10$

9. Дана задача на отыскание точки минимума функции $I = x^4 - y^2 - 1$ при условии, что выполняется равенство $\sin x - y = 1$. (Задача на условный экстремум). Укажите функцию Лагранжа для этой задачи

А) $L = \sin x - y - 1 + \lambda(x^4 - y^2 - 1)$

Б) $L = (x^4 - y^2 - 1) - \lambda(\sin x - y - 1)$

В) $L = \lambda_0(x^4 - y^2 - 1) - \lambda^2(\sin x - y - 1)$

Г) $L = \lambda_0(x^4 - y^2 - 1) + \lambda(\sin x - y - 1)$

Ответ: Г) $L = \lambda_0(x^4 - y^2 - 1) + \lambda(\sin x - y - 1)$

Б1.О.24 Информатика и программирование

1) закрытые задания (тестовые, средний уровень сложности):

Сколько аргументов можно передать в функцию?

Сколько аргументов можно передать в функцию?			МС
#	Ответы	Отзыв	Оценка
А.	до 10		0
В.	до 30		0
С.	неограниченное кол-во		100
Д.	до 5		0

Чему будет равна переменная после выполнения кода...

Чему будет равна переменная после выполнения кода...			MC
<pre>int x, n = 10; for(x = n; x > 0; x--) { std::cin>>n; std::cout<<n; }</pre>			
#	Ответы	Отзыв	Оценка
A.	1		0
B.	ошибка компиляции		0
C.	0		100
D.	n		0

Чему равна переменная после выполнения следующего кода...

Чему равна переменная result после выполнения следующего кода...			MC
<pre>int result = 3210%100/2*7</pre>			
#	Ответы	Отзыв	Оценка
A.	0,7		0
B.	35		100
C.	0		0
D.	6		0

Чему равна переменная после выполнения следующего кода...

Чему равна переменная result после выполнения следующего кода...			MC
<pre>int result = 1410/100/(2*7)</pre>			
#	Ответы	Отзыв	Оценка
A.	1		100
B.	201,4		0
C.	0		0
D.	49		0

Что будет выведено после выполнения программы...

Что будет выведено после выполнения программы... <pre> void func1 (int value) { value = value * 10; } void func2 (int& value) { value = value * 10; } void func3 (int* value) { *value = *value * 10; } int main() { int x = 10; int &y = x; func1(y); func2(y); func2(x) stp::cout << x; return 0; } </pre>			<i>MC</i>
#	Ответы	Отзыв	Оценка
A.	1000		<i>100</i>
B.	ошибка компиляции		<i>0</i>
C.	10		<i>0</i>

Что будет выведено после выполнения программы...

Что будет выведено после выполнения программы... <pre> void func1 (int value) { value = value * 10; } void func2 (int& value) { value = value * 10; } void func3 (int* value) { *value = *value * 10; } int main() { int x = 10; func2(x); func2(x); func3(&x) stp::cout << x; return 0; } </pre>			<i>MC</i>
#	Ответы	Отзыв	Оценка
A.	10000		<i>100</i>
B.	1000		<i>0</i>
C.	ошибка компиляции		<i>0</i>
D.	10		<i>0</i>

Что будет выведено после выполнения программы...

Что будет выведено после выполнения программы... <pre> void func1 (int value) { value = value * 10; } void func2 (int& value) { value = value * 10; } void func3 (int* value) { *value = *value * 10; } int main() { int x = 10; func1(x); func2(x); func3(&x) stp::cout << x; return 0; } </pre>			<i>MC</i>
#	Ответы	Отзыв	Оценка
A.	10		0
B.	10000		0
C.	ошибка компиляции		0
D.	1000		100

Что будет выведено после выполнения программы...

Что будет выведено после выполнения программы... <pre> void func1 (int value) { value = value * 10; } void func2 (int& value) { value = value * 10; } void func3 (int* &value) { value = new int(10); } int main() { int *x = 10; int &y = x; func3(x); func1(*x); func2(*x) stp::cout << x; return 0; } </pre>			<i>MC</i>
#	Ответы	Отзыв	Оценка
A.	10		0
B.	0		0
C.	ошибка компиляции		0
D.	100		100

2) открытые задания (тестовые, повышенный уровень сложности):

Используя структуру, найти в файле самый дешевый товар

<p>Дан файл, содержащий информацию о магазинах и продуктах в них. Найти магазин, в котором дешевле всего стоит товар, введенный пользователем.</p> <p><i>Файл: (Наименование гипермаркета,Наименование магазина,Граммы,Рубли;)</i></p> <p><i>Арена,Перекресток,Сыр Российский,100,250;</i> <i>Галерея Чижова,Лента,Сыр Новогодний,100,200;</i> <i>Галерея Чижова,Окей,Сыр Российский,1000,300;</i></p> <p><i>Пользователь вводит: Сыр Российский</i></p> <p><i>Вывод: В Галерея Чижова,Окей - сыр дешевле всего за 1грамм</i></p> <p>Объявите структуру, которая поможет решить данную задачу. Задачу целиком решать не нужно</p>	ES
---	----

Написать рекурсивную функцию, вычисляющую среднюю длину слов в тексте...

<p>Дан текст, записанный в переменную типа string. Слова в тексте отделяются друг от друга одним пробелом. Написать функцию, вычисляющую среднюю длину слов в тексте. Использовать рекурсию.</p> <p>Объявите функцию с необходимыми параметрами и объясните необходимость каждого. Задачу целиком решать не нужно</p>	ES
---	----

Написать функцию...

<p>Объявить функцию с тремя целыми параметрами m, n, d, изображающую в текстовом окне терминала при помощи символов * рамку размером m на n толщиной d.</p> <p>Внутри функции запишите лишь нужный цикл. Задачу целиком решать не нужно</p> <pre>***** ***** ** ** ** ** ***** *****</pre>	ES
--	----

Сколько существует 2-значных натуральных чисел...

<p>Дано натуральное s. Определите, сколько существует 2-значных натуральных чисел, сумма цифр которых равна s. Запись натурального числа не может начинаться с цифры 0. Использовать рекурсию.</p> <p>Например, s=5: 14, 23, 32, 41, 50, итого = 5.</p> <p>Объявите функцию с необходимыми параметрами и опишите для чего они будут использоваться. Задачу целиком решать не нужно</p>	ES
--	----

Б2.О.01(У) Учебная практика (ознакомительная)1) закрытые задания (тестовые, средний уровень сложности):

1_1. Какую последовательность действий надо выполнить для запуска калькулятора в Windows?

- а) Стандартные → Калькулятор
- б) Пуск → Программы → Стандартные → Калькулятор
- в) Пуск → Стандартные → Калькулятор
- г) Пуск → Калькулятор

Ответ: б)

1_2. Информационные технологии – это:

- а) система программных средств
- б) комплекс технических средств
- в) система методов сбора, накопления, хранения, поиска и обработки информации
- г) ничто из перечисленного

Ответ: в)

1. Метод Ньютона для нахождения точек минимума функции применим

- А) для задач линейного программирования
- Б) для дважды непрерывно дифференцируемых функций
- В) для задач с ограничениями типа равенств
- Г) для задач с ограничениями типа неравенств

Ответ: Б)

2. Задача линейного программирования в нормальной форме является и

- А) задачей нахождения минимума функционала
- Б) задачей нахождения максимума функционала
- В) задачей выпуклого программирования
- Г) задачей вариационного исчисления

Ответ: В)

Вычисление площади и периметра квадрата является:

Вычисление площади и периметра квадрата является:			МС
#	Ответы	Отзыв	Оценка
А.	Линейным алгоритмом		100
В.	Циклическим алгоритмом		0
С.	Ветвящимся алгоритмом		0
Д.	Это вообще не алгоритм		0

Задачу Коши для дифференциального уравнения можно решить

Задачу Коши для дифференциального уравнения можно решить			МС
#	Ответы	Отзыв	Оценка
A.	методом Эйлера		100
B.	по формулам Ньютона		0
C.	методом Гаусса		0
D.	по формулам Лагранжа		0

Методы решения дифференциальных уравнений, дающие приближенное решение в виде таблицы, называются:

Методы решения дифференциальных уравнений, дающие приближенное решение в виде таблицы, называются:			МС
#	Ответы	Отзыв	Оценка
A.	аналитическими		0
B.	интерполяционными		0
C.	итерационными		0
D.	численными		100

Определитель матрицы n-го порядка можно вычислить:

Определитель матрицы n-го порядка можно вычислить:			МС
#	Ответы	Отзыв	Оценка
A.	методом Эйлера		0
B.	по формулам Ньютона		0
C.	методом Гаусса		100
D.	по формулам Лагранжа		0

Программа — это:

Программа — это:			MC
#	Ответы	Отзыв	Оценка
A.	система правил, описывающая последовательность действий, которые необходимо выполнить для решения задачи		0
B.	указание на выполнение действий из заданного набора		0
C.	область внешней памяти для хранения текстовых, числовых данных и другой информации		0
D.	последовательность команд, реализующая алгоритм решения задачи		100

Укажите операторы цикла:

Укажите операторы цикла:			MA
#	Ответы	Отзыв	Оценка
A.	for		50
B.	switch		-33.3
C.	while		50
D.	if		-33.3
E.	return		-33.3

Укажите самый простой метод численного дифференцирования:

Укажите самый простой метод численного дифференцирования:			MC
#	Ответы	Отзыв	Оценка
A.	Эйлера;		100
B.	Модифицированный Эйлера;		0
C.	Эйлера-Коши;		0
D.	Рунге-Кутта.		0

Функция mod(a,b) находит

Функция mod(a,b) находит			МС
#	Ответы	Отзыв	Оценка
A.	НОК(a,b)		0
B.	НОД(a,b)		0
C.	остаток от деления a на b		100
D.	a^b		0

2) открытые задания (тестовые, повышенный уровень сложности):

1. _____ корней – это нахождение такого интервала, в котором существует единственный корень.

Ответ: отделение

2. _____ методы – методы, которые, даже в предположении точности всех промежуточных вычислений, дают решение с любой заранее заданной степенью точности.

Ответ: приближенные

3. _____ методы – это такие методы, в которых в принципе можно получить конечный результат, предполагая, что все коэффициенты и все промежуточные вычисления с ними выполняются точно.

Ответ: точные

4. Получить решение с заданной _____ точности – значит найти такое значение, которое попало бы в окрестность точного решения.

Ответ: степенью

ОПК-3. Способен применять и модифицировать математические модели для решения задач в области профессиональной деятельности

Период окончания формирования компетенции: 8 семестр

Перечень дисциплин (модулей), практик, участвующих в формировании компетенции:

Дисциплины (модули):

Б1.О.15 Теория вероятностей (3 семестр)

Б1.О.18 Функциональный анализ (4 семестр)

Б1.О.19 Дифференциальные уравнения (3, 4 семестры)

Б1.О.20 Математическое и компьютерное моделирование (6 семестр)

Б1.О.21 Уравнения математической физики (5 семестр)

Б1.О.32 Компьютерная графика (5 семестр)

Б1.О.33 Физика (7 семестр)

Б2.О.02(У) Учебная практика (проектная) (4 семестр)**Б2.О.03(П) Производственная практика (научно-исследовательская работа) (7, 8 семестры)****Б1.О.15 Теория вероятностей**1) закрытые задания (тестовые, средний уровень сложности):

1. Что показывает математическое ожидание

- а) среднее, вокруг которого разбросаны значения случайной величины
- б) величину разброса значений случайной величины вокруг среднего значения
- в) наиболее вероятное значений случайной величины
- г) величину скошенности распределения

Ответ: а)

2. Коэффициент корреляции случайных величин характеризует:

- а) Степень независимости между случайными величинами;
- б) Степень нелинейной зависимости между случайными величинами;
- в) Степень линейной зависимости между случайными величинами;
- г) Степень разброса двух величин относительно математического ожидания.

Ответ: в)

3. Основные числовые характеристики дискретных случайных величин это:

- а) Математическое ожидание, мода, медиана, дисперсия, среднее квадратичное отклонение, центральные и начальные моменты k -того порядка, эксцесс, асимметрия
- б) Дисперсия, центральные и начальные моменты k -того порядка, среднее геометрическое, мода и медиана;
- в) Математическое ожидание, мода, медиана, дисперсия, среднее квадратичное отклонение, центральные и начальные моменты k -того порядка.
- г) Математическое ожидание, среднее арифметическое, дисперсия, среднее квадратичное отклонение, мода, медиана, центральные и начальные моменты k -того порядка.

Ответ: а)

4. Функция распределения случайной величины это

- а) вероятность того, что $P(X=x)$

б) Вероятность того, что $P(X < x)$

в) Вероятность того, что $P(X > x)$

г) Вероятность того, что $P(X \leq x)$

Ответ: б)

5. Когда применяется геометрический способ задания вероятности:

а) пространство элементарных событий бесконечно, все события равновозможные и независимые;

б) пространство элементарных событий замкнуто, все события независимы;

в) пространство элементарных событий конечно, все события равновозможные;

г) пространство элементарных событий конечно, все элементарные события независимы.

Ответ: а)

6. Законы распределения непрерывной случайной величины представляются в виде:

а) функции распределения $F(x)$ и совокупностью значений X

б) функции распределения $F(x)$ и рядом распределения (x_i, p_i)

в) функции распределения $F(x)$ и совокупностью значений p_i

г) функции распределения $F(x)$ и плотностью вероятности $f(x)$

Ответ: г)

2) открытые задания (тестовые, повышенный уровень сложности):

1. Дайте определение теоремы Чебышева.

Ответ. Теорема Чебышева утверждает, что, при достаточно большом числе независимых опытов среднее арифметическое наблюдаемых значений случайной величины сходится по вероятности к ее математическому ожиданию.

2. Перечислите аксиомы вероятности (аксиомы Колмогорова)

Ответ. 1. Аксиома неотрицательности ($P(A) \geq 0$). 2. Аксиома нормировки ($P(\Omega) = 1$). 3. Аксиома аддитивности. Вероятность суммы несовместных событий равна сумме вероятностей.

Б1.О.18 Функциональный анализ

1) закрытые задания (тестовые, средний уровень сложности):

1. Какую из следующих формул называют неравенством треугольника?

а) $||x + y|| \leq ||x|| + ||y||$

б) $\langle x, y \rangle \leq ||x|| ||y||$

в) $\sum_{k=1}^n |c_k| \leq ||x||$

г) $||fg||_{L^1} \leq ||f||_{L^p} ||g||_{L^q}$

Ответ: а)

2. Из чего состоит сопряженное к нормированному пространству?

- а) из всевозможных линейных ограниченных функционалов, определенных на этом пространстве
- б) из операторов, действующих в этом пространстве
- в) из всевозможных подмножеств этого пространства
- г) из всевозможных подпространств этого пространства

Ответ: а)

3. Подмножество \mathbb{R}^n является компактным, если

- а) оно замкнуто и ограничено
- б) оно совпадает со всем \mathbb{R}^n
- в) на нем задано скалярное произведение
- г) оно непрерывно

Ответ: а)

4. Точку x_* называют неподвижной точкой отображения F , если

- а) $F(x_*) = x_*$
- б) $F(x_*) = 0$
- в) $\rho(F(x), F(y)) \leq q\rho(x, y)$
- г) $x_{n+1} = F(x_n)$

Ответ: а)

5. Что называют мерой Лебега ограниченного множества на прямой?

- а) общее значение его внешней и внутренней мер
- б) длину наименьшего отрезка, содержащего это множество
- в) наибольшую длину содержащегося в нем интервала
- г) число содержащихся в нем точек

Ответ: а)

6. Каким из перечисленных ниже свойств не обладает функция Дирихле

$D(x) = \begin{cases} 1, & \text{если } x \text{ рационально,} \\ 0, & \text{если } x \text{ иррационально} \end{cases}$, рассматриваемая на множестве определения $[-1, 1]$?

- а) непрерывность
- б) измеримость
- в) суммируемость
- г) ограниченность

Ответ: а)

2) открытые задания (тестовые, повышенный уровень сложности):

1. Как называют линейное пространство, на котором задана норма?

Ответ: Нормированным

2. Как называют нормированное пространство, в котором каждая фундаментальная последовательность имеет предел?

Ответ: Полным или банаховым

Б1.О.19 Дифференциальные уравнения

1) закрытые задания (тестовые, средний уровень сложности):

1. Среди перечисленных дифференциальных уравнений укажите уравнение с разделяющимися переменными

- а) $2xyy' - y^2 + x = 0$,
- б) $y' + y \cos x = 0$,
- в) $(1 - x)(y' + y) = e^{-x}$,
- г) $xy' = y(1 + \ln x - \ln y)$
- д) $xy'' = y'$

Ответ: б)

2. Укажите тип дифференциального уравнения $(2x + 1)y' + y = x$

- а) с разделяющимися переменными
- б) линейное
- в) однородное
- г) Бернулли
- д) в полных дифференциалах
- е) другой тип

Ответ: б)

3. Укажите общее решение дифференциального уравнения $xy' = 1$

- а) $y = \ln|x| + c$
- б) $y = \ln|x + c|$
- в) $y = \ln|x|$
- г) $y = ce^x$
- д) $y = 2\ln|x|$
- е) $y = \ln|x + 1|$

Ответ: а)

4. Укажите общее решение дифференциального уравнения

$$y'' - 4y' + 4y = 0$$

- а) $y = c_1 e^{2x} + c_2 x e^{2x}$
- б) $y = c_1 e^{-2x} + c_2 x e^{-2x}$
- в) $y = c_1 e^{2x} + c_2 e^{-2x}$
- г) $y = c_1 \cos 2x + c_2 \sin 2x$
- д) $y = c_1 e^{2x}$
- е) другой вариант

Ответ: а)

5. Среди приведенных дифференциальных уравнений укажите ВСЕ, порядок которых можно понизить подстановкой $y' = z(x)$

- а) $y'' = y' + x$
- б) $y'' = y' + y$
- в) $y'' y' y = y^2 + 1$

- г) $y''y'x = x^2 + 1$
 д) $y'y = 2$

Ответ: а), г)

6. Для линейного неоднородного дифференциального уравнения $y'' - 4y = 10$ укажите вид его частного решения с неопределенными коэффициентами

- а) $\bar{y} = Ax + B$
 б) $\bar{y} = Ax^2 + Bx + C$
 в) $\bar{y} = 10x$
 г) $\bar{y} = A$
 д) $\bar{y} = x + 10$
 е) $\bar{y} = Ax$
 ж) другой вариант

Ответ: г)

2) открытые задания (тестовые, повышенный уровень сложности):

1. При каком значении параметра a уравнение $\lambda^2 + a\lambda = 0$ является характеристическим уравнением дифференциального уравнения $y'' + 7y' = 0$.

Ответ: 7

2. Задача отыскания решения дифференциального уравнения первого порядка, удовлетворяющего начальному условию, называется

Ответ: задачей Коши / задача Коши

Б1.О.21 Уравнения математической физики

1) закрытые задания (тестовые, средний уровень сложности):

1. Найти область, в которой дифференциальный оператор

$$y \frac{\partial^2}{\partial x^2} + x \frac{\partial^2}{\partial y^2} - \frac{\partial}{\partial z}$$
 является параболоэллиптическим:

- а) $x > 0, y > 0$;
 б) $x > 0, y > 0, z > 0$;
 в) $x < 0, y < 0$;
 г) $x = 0, y > 0$.

2. Какое из дифференциальных уравнений является линейным:

- а) $\frac{\partial u}{\partial x} \frac{\partial^2 u}{\partial x^2} + \frac{\partial u}{\partial y} \frac{\partial^2 u}{\partial y^2} + cu = 0$;
 б) $\frac{\partial^2 u}{\partial x^2} + \frac{\partial^2 u}{\partial y^2} + cu = 0$;
 в) $\left(\frac{\partial u}{\partial x}\right)^2 + \left(\frac{\partial u}{\partial y}\right)^2 + cu = 0$;

3. Пусть $u_1(x, y)$ и $u_2(x, y)$ являются решением линейного однородного дифференциального уравнения $Lu = 0$. Какая из функций является решением дифференциального уравнения $Lu = 0$:

а) $u = u_1 + u_2$;

б) $u = u_1 \cdot u_2$;

в) $u = \frac{u_1}{u_2}$;

г) $u = \frac{u_1 + u_2}{u_1 u_2}$.

4. Какая из функций является решением уравнения

$$x \frac{\partial u}{\partial x} + y \frac{\partial u}{\partial y} + z \frac{\partial u}{\partial z} = 3xyz;$$

а) $u = \frac{x^2}{y^2} + \frac{y^2}{z^2}$;

б) $u = xyz$;

в) $u = x + yz$;

г) $u = x + y + z$.

5. Пусть $r = \sqrt{x^2 + y^2}$. Какая из функций является решением уравнения Лапласа $\Delta u = \frac{\partial^2 u}{\partial x^2} + \frac{\partial^2 u}{\partial y^2} = 0$ в области $x > 0, y > 0$:

а) $u = \ln \frac{1}{r}$;

б) $u = r^2$;

в) $u = r$;

г) $u = \frac{1}{r}$.

6. Пусть f и $g \in C^2(R_1)$. Какая из функций является решением дифференциального уравнения $\frac{\partial^2 u}{\partial x \partial y} = 0$:

а) $u = f(x) + g(y)$;

б) $u = f(x)g(y)$;

в) $u = \frac{f(x)}{g(y)}$;

г) $u = \frac{f(x) + g(y)}{f(x)g(y)}$.

7. К какому типу принадлежит дифференциальное уравнение

$$\frac{\partial^2 u}{\partial x^2} - 2 \frac{\partial^2 u}{\partial x \partial y} + \frac{\partial^2 u}{\partial y^2} + 3 \frac{\partial u}{\partial x} - 4 \frac{\partial u}{\partial y} = 0:$$

а) эллиптическому;

б) гиперболическому;

в) параболическому;

г) смешанному.

8. К какому типу принадлежит дифференциальное уравнение

$$u_{xx} - 4u_{xy} + 9u_{yy} + \frac{1}{3}u_x u_y + u = 0:$$

- а) эллиптическому;
- б) гиперболическому;
- в) параболическому;
- г) смешанному.

9. К какому типу принадлежит дифференциальное уравнение

$$u_{xx} - 10u_{xy} + 9u_{yy} + u_x + u = 0:$$

- а) эллиптическое;
- б) гиперболическое;
- в) параболическое;
- г) смешанное.

Правильные ответы

- 1. а,в
- 2. б
- 3. а
- 4. б
- 5. а
- 6. а
- 7. в
- 8. а
- 9. б

2) открытые задания (тестовые, повышенный уровень сложности):

1. Указать область, в которых дифференциальный оператор

$$y \frac{\partial^2}{\partial x^2} + \frac{\partial^2}{\partial y^2}$$
 является эллиптическим.

2. Указать область, в которой дифференциальный оператор

$$y \frac{\partial^2}{\partial x^2} + \frac{\partial^2}{\partial y^2}$$
 является гиперболическим.

3. Указать область, в которых дифференциальный оператор

$$y \frac{\partial^2}{\partial x^2} + \frac{\partial^2}{\partial y^2}$$
 является эллиптическим.

Ответы:

- 1. $y > 0$
- 2. $y < 0$
- 3. $y > 0$

Правильные ответы

Вопросы с коротким ответом

Критерии и шкалы оценивания:

Для оценивания выполнения заданий используется балльная шкала:

- 2 балла – указан верный ответ;
- 0 баллов – указан неверный ответ, в том числе частично.

Б1.О.32 Компьютерная графика

1) закрытые задания (тестовые, средний уровень сложности):

1. Какому аффинному преобразованию соответствует матрица с коэффициентами

$$A[1,1] = 1; A[1,2] = 0; A[1,3] = 0;$$

$$A[2,1] = 0; A[2,2] = 1; A[2,3] = 0;$$

$$A[3,1] = 0; A[3,2] = 0; A[3,3] = 1?$$

Предполагается, что при умножении данной матрицы на вектор-столбец однородных координат исходной точки получается вектор-столбец однородных координат преобразованной точки.

- а) параллельный перенос на вектор с координатами (1; 0);
- б) параллельный перенос на вектор с координатами (0; 1);
- в) поворот вокруг начала координат на прямой угол против часовой стрелки;
- г) поворот вокруг начала координат на прямой угол по часовой стрелке;
- д) тождественное аффинное преобразование.

Ответ: д)

2. Какому аффинному преобразованию соответствует матрица с коэффициентами

$$A[1,1] = 1; A[1,2] = 0; A[1,3] = 1;$$

$$A[2,1] = 0; A[2,2] = 1; A[2,3] = 0;$$

$$A[3,1] = 0; A[3,2] = 0; A[3,3] = 1?$$

Предполагается, что при умножении данной матрицы на вектор-столбец однородных координат исходной точки получается вектор-столбец однородных координат преобразованной точки.

- а) параллельный перенос на вектор с координатами (1; 0);
- б) параллельный перенос на вектор с координатами (0; 1);
- в) поворот вокруг начала координат на прямой угол против часовой стрелки;
- г) поворот вокруг начала координат на прямой угол по часовой стрелке;
- д) тождественное аффинное преобразование.

Ответ: а)

3. Какому аффинному преобразованию соответствует матрица с коэффициентами

$$A[1,1] = 1; A[1,2] = 0; A[1,3] = 0;$$

$$A[2,1] = 0; A[2,2] = 1; A[2,3] = 1;$$

$$A[3,1] = 0; A[3,2] = 0; A[3,3] = 1?$$

Предполагается, что при умножении данной матрицы на вектор-столбец однородных координат исходной точки получается вектор-столбец однородных координат преобразованной точки.

- а) параллельный перенос на вектор с координатами (1; 0);
- б) параллельный перенос на вектор с координатами (0; 1);
- в) поворот вокруг начала координат на прямой угол против часовой стрелки;
- г) поворот вокруг начала координат на прямой угол по часовой стрелке;
- д) тождественное аффинное преобразование.

Ответ: б)

4. Какому аффинному преобразованию соответствует матрица с коэффициентами
 $A[1,1] = 0$; $A[1,2] = -1$; $A[1,3] = 0$;
 $A[2,1] = 1$; $A[2,2] = 0$; $A[2,3] = 0$;
 $A[3,1] = 0$; $A[3,2] = 0$; $A[3,3] = 1$?

Предполагается, что при умножении данной матрицы на вектор-столбец однородных координат исходной точки получается вектор-столбец однородных координат преобразованной точки.

- а) параллельный перенос на вектор с координатами $(1; 0)$;
- б) параллельный перенос на вектор с координатами $(0; 1)$;
- в) поворот вокруг начала координат на прямой угол против часовой стрелки;
- г) поворот вокруг начала координат на прямой угол по часовой стрелке;
- д) тождественное аффинное преобразование.

Ответ: в)

5. Какому аффинному преобразованию соответствует матрица с коэффициентами
 $A[1,1] = 0$; $A[1,2] = 1$; $A[1,3] = 0$;
 $A[2,1] = -1$; $A[2,2] = 0$; $A[2,3] = 0$;
 $A[3,1] = 0$; $A[3,2] = 0$; $A[3,3] = 1$?

Предполагается, что при умножении данной матрицы на вектор-столбец однородных координат исходной точки получается вектор-столбец однородных координат преобразованной точки.

- а) параллельный перенос на вектор с координатами $(1; 0)$;
- б) параллельный перенос на вектор с координатами $(0; 1)$;
- в) поворот вокруг начала координат на прямой угол против часовой стрелки;
- г) поворот вокруг начала координат на прямой угол по часовой стрелке;
- д) тождественное аффинное преобразование.

Ответ: г)

6. Какому аффинному преобразованию соответствует матрица с коэффициентами
 $A[1,1] = -1$; $A[1,2] = 0$; $A[1,3] = 0$;
 $A[2,1] = 0$; $A[2,2] = 1$; $A[2,3] = 0$;
 $A[3,1] = 0$; $A[3,2] = 0$; $A[3,3] = 1$?

Предполагается, что при умножении данной матрицы на вектор-столбец однородных координат исходной точки получается вектор-столбец однородных координат преобразованной точки.

- а) отражение относительно оси абсцисс;
- б) отражение относительно оси ординат;
- в) отражение относительно начала координат;
- г) поворот вокруг начала координат на прямой угол против часовой стрелки;
- д) поворот вокруг начала координат на прямой угол по часовой стрелке;
- е) тождественное аффинное преобразование.

Ответ: б)

7. Какому аффинному преобразованию соответствует матрица с коэффициентами

$$A[1,1] = 1; A[1,2] = 0; A[1,3] = 0;$$

$$A[2,1] = 0; A[2,2] = -1; A[2,3] = 0;$$

$$A[3,1] = 0; A[3,2] = 0; A[3,3] = 1?$$

Предполагается, что при умножении данной матрицы на вектор-столбец однородных координат исходной точки получается вектор-столбец однородных координат преобразованной точки.

- а) отражение относительно оси абсцисс;
- б) отражение относительно оси ординат;
- в) отражение относительно начала координат;
- г) поворот вокруг начала координат на прямой угол против часовой стрелки;
- д) поворот вокруг начала координат на прямой угол по часовой стрелке;
- е) тождественное аффинное преобразование.

Ответ: а)

8. Какому аффинному преобразованию соответствует матрица с коэффициентами

$$A[1,1] = -1; A[1,2] = 0; A[1,3] = 0;$$

$$A[2,1] = 0; A[2,2] = -1; A[2,3] = 0;$$

$$A[3,1] = 0; A[3,2] = 0; A[3,3] = 1?$$

Предполагается, что при умножении данной матрицы на вектор-столбец однородных координат исходной точки получается вектор-столбец однородных координат преобразованной точки.

- а) отражение относительно оси абсцисс;
- б) отражение относительно оси ординат;
- в) отражение относительно начала координат;
- г) поворот вокруг начала координат на прямой угол против часовой стрелки;
- д) поворот вокруг начала координат на прямой угол по часовой стрелке;
- е) тождественное аффинное преобразование.

Ответ: в)

9. Какому аффинному преобразованию соответствует матрица с коэффициентами

$$A[1,1] = 1; A[1,2] = 0; A[1,3] = 0; A[1,4] = 0;$$

$$A[2,1] = 0; A[2,2] = 1; A[2,3] = 0; A[2,4] = 0;$$

$$A[3,1] = 0; A[3,2] = 0; A[3,3] = 1; A[3,4] = 0;$$

$$A[4,1] = 0; A[4,2] = 0; A[4,3] = 0; A[4,4] = 1?$$

Предполагается, что при умножении данной матрицы на вектор-столбец однородных координат исходной точки получается вектор-столбец однородных координат преобразованной точки.

- а) параллельный перенос на вектор с координатами (1; 0; 0);
- б) параллельный перенос на вектор с координатами (0; 1; 0);
- в) параллельный перенос на вектор с координатами (0; 0; 1);
- г) поворот вокруг оси абсцисс на прямой угол против часовой стрелки;
- д) поворот вокруг оси ординат на прямой угол против часовой стрелки;
- е) поворот вокруг оси аппликата на прямой угол против часовой стрелки;
- ж) тождественное аффинное преобразование.

Ответ: ж)

10. Какому аффинному преобразованию соответствует матрица с коэффициентами
 $A[1,1] = 1; A[1,2] = 0; A[1,3] = 0; A[1,4] = 1;$
 $A[2,1] = 0; A[2,2] = 1; A[2,3] = 0; A[2,4] = 0;$
 $A[3,1] = 0; A[3,2] = 0; A[3,3] = 1; A[3,4] = 0;$
 $A[4,1] = 0; A[4,2] = 0; A[4,3] = 0; A[4,4] = 1?$

Предполагается, что при умножении данной матрицы на вектор-столбец однородных координат исходной точки получается вектор-столбец однородных координат преобразованной точки.

- а) параллельный перенос на вектор с координатами $(1; 0; 0)$;
- б) параллельный перенос на вектор с координатами $(0; 1; 0)$;
- в) параллельный перенос на вектор с координатами $(0; 0; 1)$;
- г) поворот вокруг оси абсцисс на прямой угол против часовой стрелки;
- д) поворот вокруг оси ординат на прямой угол против часовой стрелки;
- е) поворот вокруг оси аппликат на прямой угол против часовой стрелки;
- ж) тождественное аффинное преобразование.

Ответ: а)

11. Какому аффинному преобразованию соответствует матрица с коэффициентами
 $A[1,1] = 1; A[1,2] = 0; A[1,3] = 0; A[1,4] = 0;$
 $A[2,1] = 0; A[2,2] = 1; A[2,3] = 0; A[2,4] = 1;$
 $A[3,1] = 0; A[3,2] = 0; A[3,3] = 1; A[3,4] = 0;$
 $A[4,1] = 0; A[4,2] = 0; A[4,3] = 0; A[4,4] = 1?$

Предполагается, что при умножении данной матрицы на вектор-столбец однородных координат исходной точки получается вектор-столбец однородных координат преобразованной точки.

- а) параллельный перенос на вектор с координатами $(1; 0; 0)$;
- б) параллельный перенос на вектор с координатами $(0; 1; 0)$;
- в) параллельный перенос на вектор с координатами $(0; 0; 1)$;
- г) поворот вокруг оси абсцисс на прямой угол против часовой стрелки;
- д) поворот вокруг оси ординат на прямой угол против часовой стрелки;
- е) поворот вокруг оси аппликат на прямой угол против часовой стрелки;
- ж) тождественное аффинное преобразование.

Ответ: б)

11. Какому аффинному преобразованию соответствует матрица с коэффициентами
 $A[1,1] = 1; A[1,2] = 0; A[1,3] = 0; A[1,4] = 0;$
 $A[2,1] = 0; A[2,2] = 1; A[2,3] = 0; A[2,4] = 0;$
 $A[3,1] = 0; A[3,2] = 0; A[3,3] = 1; A[3,4] = 1;$
 $A[4,1] = 0; A[4,2] = 0; A[4,3] = 0; A[4,4] = 1?$

Предполагается, что при умножении данной матрицы на вектор-столбец однородных координат исходной точки получается вектор-столбец однородных координат преобразованной точки.

- а) параллельный перенос на вектор с координатами $(1; 0; 0)$;
- б) параллельный перенос на вектор с координатами $(0; 1; 0)$;

- в) параллельный перенос на вектор с координатами $(0; 0; 1)$;
- г) поворот вокруг оси абсцисс на прямой угол против часовой стрелки;
- д) поворот вокруг оси ординат на прямой угол против часовой стрелки;
- е) поворот вокруг оси аппликат на прямой угол против часовой стрелки;
- ж) тождественное аффинное преобразование.

Ответ: в)

12. Какому аффинному преобразованию соответствует матрица с коэффициентами
 $A[1,1] = 0; A[1,2] = -1; A[1,3] = 0; A[1,4] = 0;$
 $A[2,1] = 1; A[2,2] = 0; A[2,3] = 0; A[2,4] = 0;$
 $A[3,1] = 0; A[3,2] = 0; A[3,3] = 1; A[3,4] = 0;$
 $A[4,1] = 0; A[4,2] = 0; A[4,3] = 0; A[4,4] = 1?$

Предполагается, что при умножении данной матрицы на вектор-столбец однородных координат исходной точки получается вектор-столбец однородных координат преобразованной точки.

- а) параллельный перенос на вектор с координатами $(1; 0; 0)$;
- б) параллельный перенос на вектор с координатами $(0; 1; 0)$;
- в) параллельный перенос на вектор с координатами $(0; 0; 1)$;
- г) поворот вокруг оси абсцисс на прямой угол против часовой стрелки;
- д) поворот вокруг оси ординат на прямой угол против часовой стрелки;
- е) поворот вокруг оси аппликат на прямой угол против часовой стрелки;
- ж) тождественное аффинное преобразование.

Ответ: е)

13. Какому аффинному преобразованию соответствует матрица с коэффициентами
 $A[1,1] = 1; A[1,2] = 0; A[1,3] = 0; A[1,4] = 0;$
 $A[2,1] = 0; A[2,2] = 0; A[2,3] = -1; A[2,4] = 0;$
 $A[3,1] = 0; A[3,2] = 1; A[3,3] = 0; A[3,4] = 0;$
 $A[4,1] = 0; A[4,2] = 0; A[4,3] = 0; A[4,4] = 1?$

Предполагается, что при умножении данной матрицы на вектор-столбец однородных координат исходной точки получается вектор-столбец однородных координат преобразованной точки.

- а) параллельный перенос на вектор с координатами $(1; 0; 0)$;
- б) параллельный перенос на вектор с координатами $(0; 1; 0)$;
- в) параллельный перенос на вектор с координатами $(0; 0; 1)$;
- г) поворот вокруг оси абсцисс на прямой угол против часовой стрелки;
- д) поворот вокруг оси ординат на прямой угол против часовой стрелки;
- е) поворот вокруг оси аппликат на прямой угол против часовой стрелки;
- ж) тождественное аффинное преобразование.

Ответ: г)

14. Какому аффинному преобразованию соответствует матрица с коэффициентами
 $A[1,1] = 0; A[1,2] = 0; A[1,3] = 1; A[1,4] = 0;$
 $A[2,1] = 0; A[2,2] = 1; A[2,3] = 0; A[2,4] = 0;$
 $A[3,1] = -1; A[3,2] = 0; A[3,3] = 0; A[3,4] = 0;$

$$A[4,1] = 0; A[4,2] = 0; A[4,3] = 0; A[4,4] = 1?$$

Предполагается, что при умножении данной матрицы на вектор-столбец однородных координат исходной точки получается вектор-столбец однородных координат преобразованной точки.

- а) параллельный перенос на вектор с координатами (1; 0; 0);
- б) параллельный перенос на вектор с координатами (0; 1; 0);
- в) параллельный перенос на вектор с координатами (0; 0; 1);
- г) поворот вокруг оси абсцисс на прямой угол против часовой стрелки;
- д) поворот вокруг оси ординат на прямой угол против часовой стрелки;
- е) поворот вокруг оси аппликата на прямой угол против часовой стрелки;
- ж) тождественное аффинное преобразование.

Ответ: д)

15. Какому аффинному преобразованию соответствует матрица с коэффициентами

$$A[1,1] = -1; A[1,2] = 0; A[1,3] = 0; A[1,4] = 0;$$

$$A[2,1] = 0; A[2,2] = 1; A[2,3] = 0; A[2,4] = 0;$$

$$A[3,1] = 0; A[3,2] = 0; A[3,3] = 1; A[3,4] = 0;$$

$$A[4,1] = 0; A[4,2] = 0; A[4,3] = 0; A[4,4] = 1?$$

Предполагается, что при умножении данной матрицы на вектор-столбец однородных координат исходной точки получается вектор-столбец однородных координат преобразованной точки.

- а) отражение относительно координатной плоскости OXY;
- б) отражение относительно координатной плоскости OYZ;
- в) отражение относительно координатной плоскости OZX;
- г) отражение относительно оси абсцисс;
- д) отражение относительно оси ординат;
- е) отражение относительно оси аппликата;
- ж) отражение относительно начала координат;
- з) тождественное аффинное преобразование.

Ответ: б)

2) открытые задания (тестовые, повышенный уровень сложности):

1. Какой критерий является ключевым при разработке алгоритмов компьютерной графики?

Ответ: быстродействие; скорость выполнения.

Критерии: за ответ «сложность алгоритма» даётся 1 балл, поскольку оптимизация алгоритмов компьютерной графики не ограничивается снижением их сложности.

2. Укажите главное достоинство однородных координат для выполнения аффинных преобразований.

Ответ: представление аффинного преобразования в виде умножения матрицы на вектор.

3. Какой тип координат позволяет представлять аффинные преобразования в виде умножения матрицы на вектор?

Ответ: однородные координаты.

Б1.О.33 Физика

1) закрытые задания (тестовые, средний уровень сложности):

1. Отметьте соотношения для вычисления
элементарной работы силы, (в)
элементарного импульса силы, (б)
кинетической энергии материальной точки. (а)

а. $T = \frac{mv^2}{2},$

б. $d\bar{S} = \bar{F}dt,$

в. $dA = F_t ds.$

2. Укажите соотношение из списка ниже, которое определяет свободные колебания точки при вязком сопротивлении.

а. $m\bar{a} = \sum \bar{F}_k + \bar{J}_{\text{пер}} + \bar{J}_{\text{кор}},$

б. $\ddot{x} + k^2x = 0,$

в. $\ddot{x} + 2b\dot{x} + k^2x = 0, (*)$

г. $\ddot{x} + k^2x = P_0 \sin(pt).$

3. Укажите соотношение из списка ниже, которое определяет момент инерции однородного стержня массой M и длиной l относительно оси, проходящей через его конец и перпендикулярной стержню.

а. $J_c = Ml^2,$

б. $J_c = M \frac{l^2}{2},$

в. $J_c = \frac{Ml^3}{3}, (*)$

г. $J_c = \frac{Ml^3}{12}.$

4. Реактивный момент воздушного винта вертолета является примером закона

а. Сохранения движения центра масс,

б. Сохранения количества движения,

в. Сохранения главного момента количества движения, (*)

г. Сохранения механической энергии.

2) открытые задания (тестовые, повышенный уровень сложности):

1. Кинематика точки. Приведите соотношения для определения скорости и ускорения точки при координатном (декартовой системе координат), а также при естественном способах задания движения.

Ответ:

$$v_x = \frac{dx}{dt} = \dot{x}, v_y = \frac{dy}{dt} = \dot{y}, v_z = \frac{dz}{dt} = \dot{z},$$

$$a_x = \frac{d^2x}{dt^2} = \ddot{x}, a_y = \frac{d^2y}{dt^2} = \ddot{y}, a_z = \frac{d^2z}{dt^2} = \ddot{z},$$

$$v_\tau = \frac{d\sigma}{dt} = \dot{\sigma}, a_\tau = \frac{dv}{dt}, a_n = \frac{v^2}{\rho}, a_b = 0.$$

2. Плоскопараллельное движение твердого тела. Приведите соотношения для определения скорости и ускорения точки плоской фигуры.

Ответ:

$$\vec{v}_M = \vec{v}_A + \vec{v}_{MA}, v_{MA} = \omega \cdot MA,$$

$$\vec{a}_M = \vec{a}_A + \vec{a}_{MA}^{\tau} + \vec{a}_{MA}^n, a_{MA}^{\tau} = MA \cdot \varepsilon, a_{MA}^n = MA \cdot \omega^2.$$

Б2.О.02(У) Учебная практика (проектная)

- 1) закрытые задания (тестовые, средний уровень сложности):

1_1. Необходимость изучения дисциплины ИТ в своей профессиональной деятельности:

- а) просто иметь представление
- б) знать и уметь использовать полученные знания в профессиональной деятельности
- в) применять телекоммуникационные средства

Ответ: б)

1_2. Видеоконференция предназначена для...(несколько вариантов ответа)

- а) обмена мультимедийными данными
- б) общения и совместной обработки данных
- в) проведения телеконференций
- г) организации групповой работы
- д) автоматизации деловых процессов

Ответ: а), в)

1. Базис в гильбертовом пространстве называют ортонормированным, если

- а) входящие с него векторы попарно ортогональны и имеют единичную норму
- б) входящие с него векторы попарно ортогональны
- в) входящие с него векторы имеют единичную норму
- г) входящие с него векторы линейно независимы

Ответ: а)

_____ модели, которые построены с учетом основных закономерностей процессов, протекающих в моделируемом объекте, качественно более правильно характеризуют его даже при наличии недостаточно точных в количественном отношении параметров модели.			МС
#	Ответы	Отзыв	Оценка
А.	детерминированные;		100
В.	экспериментально-статистические.		0

Для _____ моделей характерна узкая область применимости – параметры могут меняться в узких пределах, близких к области экспериментальных исследований.			MC
#	Ответы	Отзыв	Оценка
A.	детерминированных;		0
B.	экспериментально-статистических.		100

Математическая модель может быть записана в виде:			MA
#	Ответы	Отзыв	Оценка
A.	системы уравнений;		20
B.	неравенств;		20
C.	слов;		-100
D.	алгоритмов;		20
E.	графиков;		20
F.	таблиц.		20

При _____ моделировании модель (макет) воспроизводит изучаемую систему (оригинал) с сохранением ее физической природы.			MC
#	Ответы	Отзыв	Оценка
A.	физическом;		100
B.	математическом.		0

Процесс создания модели, её исследования и распространения результатов на оригинал называют _____.			MC
#	Ответы	Отзыв	Оценка
A.	интерполированием;		0
B.	моделированием;		100
C.	конструированием;		0
D.	проектированием.		0

2) открытые задания (тестовые, повышенный уровень сложности):

1. При решении линейного однородного дифференциального уравнения второго порядка с постоянными коэффициентами $y'' + py' + qy = 0$ составляется _____ уравнение $\lambda^2 + p\lambda + q = 0$.

Ответ: характеристическое

2. _____ - свойство модели, согласно которому должно быть известно, как по результатам испытания модели количественно определить интересующие нас параметры оригинала.

Ответ: Традуктивность

3. _____ модель – это концепция наших знаний, представлений и гипотез об оригинале, записанная с помощью математических отношений.

Ответ: Математическая

4. Исследование модели должно быть _____ экономичным, чем непосредственно использование оригинала (экономия средств, времени, безопасность).

Ответ: более

ОПК-4. Способен понимать принципы работы современных информационных технологий и использовать их для решения задач профессиональной деятельности

Период окончания формирования компетенции: 6 семестр

Перечень дисциплин (модулей), практик, участвующих в формировании компетенции:

Дисциплины (модули):

Б1.О.25 Структуры данных и алгоритмы (3, 4 семестры)

Б1.О.26 Объектно-ориентированное программирование (3 семестр)

Б1.О.27 Архитектура компьютеров (3 семестр)

Б1.О.28 Базы данных (5, 6 семестры)

Б1.О.29 Операционные системы (4 семестр)

Б1.О.30 Компьютерные сети (6 семестр)

Б2.О.02(У) Учебная практика (проектная) (4 семестр)

Б1.О.25 Структуры данных и алгоритмы

1) закрытые задания (тестовые, средний уровень сложности):

1. Коллекция, в которой доступен только последний добавленный элемент. Добавление новых элементов и удаление существующих производится с одного конца.

- стек
- очередь
- хэш-таблица

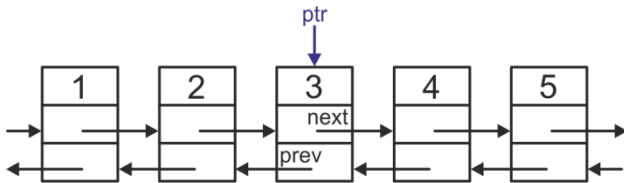
2. Коллекция, в которой доступен только первый элемент. Добавление новых элементов производится в конец коллекции, а извлечение из начала.

- стек
- очередь
- хэш-таблица

3. Коллекция, в которой элементы размещаются по заранее вычисленному ключу. Обеспечивает быстрый поиск элементов.

- стек
- очередь
- хэш-таблица

4. Дан фрагмент двунаправленного списка:



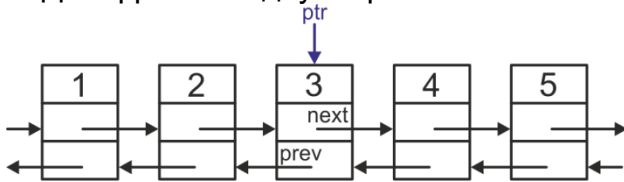
Какой элемент будет удален в результате вызова следующей функции:

```
void Delete(ptrNODE &ptr)
```

```
{
    ptrNODE p = ptr;
    ptr = ptr->next;
    p->next->prev = p->prev;
    p->prev->next = p->next;
    delete p;
}
```

- 2
- 3
- 4

5. Дан фрагмент двунаправленного списка:



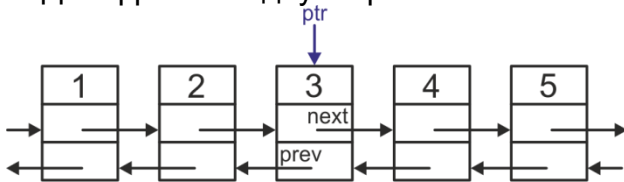
Какой элемент будет удален в результате вызова следующей функции:

```
void Delete(const ptrNODE & ptr)
```

```
{
    ptrNODE p = ptr->next;
    p->next->prev = p->prev;
    p->prev->next = p->next;
    delete p;
}
```

- 2
- 3
- 4

6. Дан фрагмент двунаправленного списка:



Какой элемент будет удален в результате вызова следующей функции:

```
void Delete(const ptrNODE & ptr)
```

```
{
    ptrNODE p = ptr->prev;
    p->next->prev = p->prev;
    p->prev->next = p->next;
    delete p;
}
```

- 2
- 3
- 4

7. Какой из перечисленных методов может быть конструктором для класса String в языке C++?

- String * String ();
- void String ();
- String (String & s);
- const String (int a);

8. В программе описаны класс A и объект obj

```
class A
{
public: int a, b, c;
};
A * obj;
```

Как обратиться к атрибуту c?

- obj.c
- obj->c
- obj A ->->c
- obj->A.c

9. Вызовет ли данный код ошибку компиляции?

```
class Figure
{
public:
    int a, b;
    int sum();
    int square();
    ~fig();
};
```

- Ошибки нет, все верно.
- Ошибка: имя деструктора должно совпадать с именем класса.
- Ошибка: имя деструктора не может начинаться с маленькой буквы.
- Ошибка: никакой идентификатор в C++ не может начинаться со знака «~».

10. Укажите правильное объявление виртуального метода, который принимает одно целочисленное значение и возвращает void.

- virtual void SomeFunction(int x);
- void SomeFunction(int x) virtual;
- virtual SomeFunction(int x);
- virtual void SomeFunction(int * x);

11. Укажите правильное использование спецификатора friend, где B – некоторый класс.

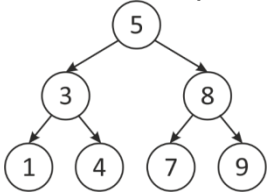
- class A { int_friend Count(); private: short i; };
- class A { public: friend int B::Count(); private: short i; };
- class A { public: int B::Count(); friend: short i; };
- class A { public: friend int B::x; short i; };

12. В программе описаны абстрактный класс A и производный от этого класса класс B. Какая из записей является неверной?

- A * a = new A;
- B b;
- B b; A & a = b;

2) открытые задания (тестовые, повышенный уровень сложности):

1. Дано бинарное дерево:



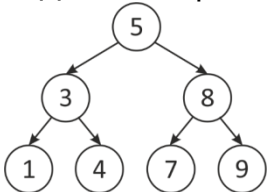
Запишите последовательность, которая будет получена в результате вызова функции (NODE – структура, описывающая узел дерева):

```

void Print(NODE* root)
{
    if (root)
    {
        Print(root->right);
        std::cout << root->info;
        Print(root->left);
    }
}
  
```

Ответ: 9875431

2. Дано бинарное дерево:



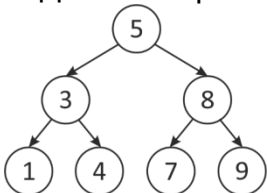
Запишите последовательность, которая будет получена в результате вызова функции (NODE – структура, описывающая узел дерева):

```

void Print(NODE* root)
{
    if (root)
    {
        std::cout << root->info;
        Print(root->left);
        Print(root->right);
    }
}
  
```

Ответ: 5314879

3. Дано бинарное дерево:



Запишите последовательность, которая будет получена в результате вызова функции (NODE – структура, описывающая узел дерева):

```

void Print(NODE* root)
{
  
```



```
if (root)
{
    std::cout << root->info;
    Print(root->left);
    Print(root->right);
}
}
```

Ответ: 1437985

4. Служебное слово, с помощью которого описывается секция для объявления компонентов, доступных только компонентным функциям того же класса и функциям, объявленным дружественными.

Ответ: `private`

5. Служебное слово, с помощью которого описывается секция для объявления компонентов, доступных компонентным функциям не только данного класса, но и его потомков.

Ответ: `protected`

6. Служебное слово, с помощью которого описывается секция для объявления компонентов, доступных за пределами класса в любом месте программы.

Ответ: `public`

Б1.О.26 Объектно-ориентированное программирование

1) закрытые задания (тестовые, средний уровень сложности):

2

Что будет выведено на экран в результате выполнения данного фрагмента кода? В случае ошибки укажите слово «ошибка».

```
class MyClass
{
protected:
    int b;
    int a;
public:
    MyClass(int _a = 1, int _b = 2) : a(_a), b(_b){}
    void show()
    {
        cout << a - b << " ";
    }
};

class MyChildClass : public MyClass
{
public:
    MyChildClass() : MyClass(){}
    MyChildClass(int _c, int _d) : MyClass(_c, _d){}
    void show()
    {
        cout << a << " " << b << " ";
    }
};

void main()
{
    MyClass* p = new MyChildClass(20, 30);
    p->show();
}
```

MC

Балл по умолчанию: 1

Случайный порядок ответов: Да

Нумеровать варианты ответов? 0

Штраф за каждую неправильную попытку: 33.3

ID-номер:

#	Ответы	Отзыв	Оценка
A.	-10		100
B.	50		-100
C.	20 30		0
D.	ошибка		0
	Общий отзыв к вопросу:		
	Для любого правильного ответа:	Ваш ответ верный.	
	Для любого неправильного ответа:	Ваш ответ неправильный.	
	Подсказка 1:		
	Показать количество правильных ответов (Подсказка 1):	Нет	
	Удалить некорректные ответы (Подсказка 1):	Нет	
	Теги:		
<p>Позволяет выбирать один или несколько правильных ответов из заданного списка. (MC/MA)</p>			

Что будет выведено на экран в результате выполнения данного фрагмента кода? В случае ошибки укажите слово «ошибка».

```

class MyClass
{
protected:
    int b;
    int a;
public:
    MyClass(int _a = 1, int _b = 2) : a(_a), b(_b){}
    virtual void show()
    {
        cout << a + b << " ";
    }
};

class MyChildClass : public MyClass
{
public:
    MyChildClass() : MyClass(){}
    MyChildClass(int _c, int _d) : MyClass(_c, _d){}
    void show()
    {
        cout << a << " " << b << " ";
    }
};

void main()
{
    MyClass* p = new MyChildClass();
    p->show();
}

```

MC

Балл по умолчанию: 1

Случайный порядок ответов: Да

Нумеровать варианты ответов? 0

Штраф за каждую неправильную попытку: 33.3

ID-номер:

#	Ответы	Отзыв	Оценка
A.	1 2		100
B.	-10		0
C.	50		0
D.	20 30		0
E.	ошибка		0
	Общий отзыв к вопросу:		
	Для любого правильного ответа:	Ваш ответ верный.	
	Для любого неправильного ответа:	Ваш ответ неправильный.	
	Подсказка 1:		
	Показать количество правильных ответов (Подсказка 1):	Нет	
	Удалить некорректные ответы (Подсказка 1):	Нет	
	Теги:		
<p>Позволяет выбирать один или несколько правильных ответов из заданного списка. (MC/MA)</p>			

4

<p>Что будет выведено на экран в результате выполнения данного фрагмента кода? В случае ошибки укажите слово «ошибка».</p> <pre> class MyClass { protected: int b; int a; public: MyClass(int _a = 1, int _b = 2) : a(_a), b(_b){} virtual void show() = 0; }; class MyChildClass : public MyClass { public: MyChildClass() : MyClass({}) MyChildClass(int _c, int _d) : MyClass(_c, _d){} void SHOW() { cout << a << " " << b << " "; } }; void main() { MyClass* p = new MyClass(); p->show(); } </pre>				MC
Балл по умолчанию:			1	
Случайный порядок ответов			Да	
Нумеровать варианты ответов?			0	
Штраф за каждую неправильную попытку:			33.3	
ID-номер:				
#	Ответы	Отзыв	Оценка	
A.	-10		0	
B.	50		0	
C.	20 30		0	
D.	ошибка: неверно переопределен метод show()		0	
E.	ошибка: попытка создать объект абстрактного класса		100	
Общий отзыв к вопросу:				
Для любого правильного ответа:		Ваш ответ верный.		
Для любого неправильного ответа:		Ваш ответ неправильный.		
Подсказка 1:				
Показать количество правильных ответов (Подсказка 1):		Нет		
Удалить некорректные ответы (Подсказка 1):		Нет		
Теги:				
<p><i>Позволяет выбирать один или несколько правильных ответов из заданного списка. (MC/MA)</i></p>				

Ошибка компиляции

Что может быть выведено на экран в результате выполнения следующего кода? <pre> class A { int* a; public: A(int _a) : a(_a) {} void show() { cout << "a = " << a; } }; void main() { A obj(3); obj.show(); } </pre>		MC	
Балл по умолчанию:		1	
Случайный порядок ответов		Да	
Нумеровать варианты ответов?		0	
Штраф за каждую неправильную попытку:		33.3	
ID-номер:			
#	Ответы	Отзыв	Оценка
A.	a = 3		0
B.	a = 00FD2578		0
C.	ошибка компиляции		100
Общий отзыв к вопросу:			
Для любого правильного ответа:		Ваш ответ верный.	
Для любого неправильного ответа:		Ваш ответ неправильный.	
Подсказка 1:			
Показать количество правильных ответов (Подсказка 1):		Нет	
Удалить некорректные ответы (Подсказка 1):		Нет	
Теги:			
<i>Позволяет выбрать один или несколько правильных ответов из заданного списка. (MC/MA)</i>			

Абстрактные классы

<p>Что будет выведено на экран в результате выполнения данного фрагмента кода? В случае ошибки напишите слово «ошибка» и поясните причину.</p> <pre> class A { protected: int x, y; public: A(int _x = 10, int _y = 20): x(_x), y(_y) {} virtual void plus() { x += 10; } virtual void print() = 0; }; class B : public A { public: B(int _x = 1) : A(_x) {} void print() { cout << x << " " << y; } }; int main() { A* p = new A(); p->plus(); p->print(); } </pre>		SA	
Балл по умолчанию:		1	
Чувствительность к регистру:		Нет	
Штраф за каждую неправильную попытку:		33.3	
ID-номер:			
	Ответы	Отзыв	Оценка
	ошибка: попытка создать объект абстрактного класса		100
	Общий отзыв к вопросу:		
	Подсказка 1:		
	Теги:		
<p><i>Вам необходимо указать хотя бы один возможный ответ. Пустые ответы не будут использоваться. Символ «*» можно использовать в качестве шаблона, соответствующего любым символам. Первый подходящий ответ будет использоваться для определения оценки и отзыва.</i></p>			

Виртуальные методы 1

<p>Что будет выведено на экран в результате выполнения данного кода?</p> <pre> class A { protected: int x; public: A(): x(5){} A(int _x) { x = _x; } virtual void plus() { x += 2; } void print() { cout << x << " "; } }; class B : public A { public: B(int _x) : A(_x) {} void plus() { x += 20; } }; void main() { A* p = new A(2); A* q = new B(20); p->plus(); p->print(); q->plus(); q->print(); } </pre>		SA	
Балл по умолчанию:		1	
Чувствительность к регистру:		Нет	
Штраф за каждую неправильную попытку:		33.3	
ID-номер:			
	Ответы	Отзыв	Оценка
	4 40		100
	Общий отзыв к вопросу:		
	Подсказка 1:		
	Теги:		
<p><i>Вам необходимо указать хотя бы один возможный ответ. Пустые ответы не будут использоваться. Символ «*» можно использовать в качестве шаблона, соответствующего любым символам. Первый подходящий ответ будет использоваться для определения оценки и отзыва.</i></p>			

Виртуальные методы 21

<p>Что будет выведено на экран в результате выполнения данного кода?</p> <pre> class A { protected: int x; public: A(int _x = 10) { x = _x; } virtual void plus() { x += 10; } void print() { cout << x << " "; } }; class B : public A { public: B(int _x = 1) : A(_x) {} void plus() { x += 500; } }; int main() { A a; B b(5); a.print(); b.print(); A* p = &b; p->plus(); p->print(); } </pre>		SA	
Балл по умолчанию:		1	
Чувствительность к регистру:		Нет	
Штраф за каждую неправильную попытку:		33.3	
ID-номер:			
	Ответы	Отзыв	Оценка
	10 5 505		100
	Общий отзыв к вопросу:		
	Подсказка 1:		
	Теги:		
<p><i>Вам необходимо указать хотя бы один возможный ответ. Пустые ответы не будут использоваться. Символ «*» можно использовать в качестве шаблона, соответствующего любым символам. Первый подходящий ответ будет использоваться для определения оценки и отзыва.</i></p>			

2) открытые задания (тестовые, повышенный уровень сложности):

Алфавит, префиксный --

Класс содержит одно поле целого типа от 1 до 26, обозначающее номер буквы латинского алфавита: <pre>class Number { private: int number; public: Number(int _number=1) : number(_number){} };</pre>		ES
Необходимо перегрузить префиксный оператор «--», с помощью которого текущее значение уменьшается на 1, если оно больше 1, а значение 1 преобразуется в 26.		
Балл по умолчанию:		7
Формат ответа:		Обычный текст
Требовать текст:		Да
Размер поля:		15
Разрешить вложения:		0
Требуемое число вложений:		0
Разрешенные типы файлов:		
ID-номер:		
	Шаблон ответа	Информация для оценивающих
	Общий отзыв к вопросу:	
	Теги:	
<i>Допускает в ответе загрузить файл и/или ввести текст. Ответ должен быть оценен преподавателем вручную.</i>		

1

<p>Что будет выведено на экран в результате выполнения данного фрагмента кода?</p> <pre> class MyClass { static int b; int a; public: MyClass(int _a) : a(_a) { b = - a; } void show() { cout << a << " " << b << " "; } }; int MyClass::b = 0; void main() { MyClass obj1(20); MyClass obj2(30); obj1.show(); obj2.show(); } </pre>		SA	
Балл по умолчанию:		1	
Чувствительность к регистру:		Нет	
Штраф за каждую неправильную попытку:		33.3	
ID-номер:			
	Ответы	Отзыв	Оценка
	20 -30 30 -30		100
	Общий отзыв к вопросу:		
	Подсказка 1:		
	Теги:		
<p><i>Вам необходимо указать хотя бы один возможный ответ. Пустые ответы не будут использоваться. Символ «*» можно использовать в качестве шаблона, соответствующего любым символам. Первый подходящий ответ будет использоваться для определения оценки и отзыва.</i></p>			

8

<p>Дана система классов. Укажите созданные объекты с полным набором полей. Например, obj1(5), obj2(-5).</p> <pre> class A { int n; public: A(int x): n(x) {} }; class B : public A { int m; public: B() : A(0), m(-5) {} B(int x): A(x + 10), m(x) {} }; int main() { A a(6); B b(1); } </pre>		SA	
Балл по умолчанию:		1	
Чувствительность к регистру:		Нет	
Штраф за каждую неправильную попытку:		33.3	
ID-номер:			
	Ответы	Отзыв	Оценка
	a(6), b(11, 1)		100
	Общий отзыв к вопросу:		
	Подсказка 1:		
	Теги:		
<p><i>Вам необходимо указать хотя бы один возможный ответ. Пустые ответы не будут использоваться. Символ «*» можно использовать в качестве шаблона, соответствующего любым символам. Первый подходящий ответ будет использоваться для определения оценки и отзыва.</i></p>			

Б1.О.27 Архитектура компьютеров

1) закрытые задания (тестовые, средний уровень сложности):

1. Согласно зонной теории электропроводимости веществ, отличие изоляторов, проводников и полупроводников характеризуется
 - a. Шириной зоны запрещённых уровней, (*)
 - b. Количеством валентных электронов,
 - c. Наличием зарядов положительного знака.
2. Что определяют валентные электроны?
 - a. Физико-химические свойства вещества, (*)
 - b. Тип проводимости,
3. Полупроводниковый диод обладает свойством
 - a. Односторонней проводимости, (*)
 - b. Усиления тока,
 - c. Повышенным сопротивлением.
4. Основой работы полупроводникового диода является
 - a. p-n переход и его свойства, (*)
 - b. накопление зарядов,

в. перераспределение зарядов.

5. Напряжение прямого смещения для полупроводникового диода возникает, когда произошло
 - а. Подключение положительного полюса батареи к зоне p, отрицательного полюса батареи к зоне n. (*)
 - б. Подключение положительного полюса батареи к зоне n, отрицательного полюса батареи к зоне p.
6. Напряжение прямого смещения для полупроводникового диода приводит
 - а. к уменьшению сопротивления прибора, (*)
 - б. к увеличению сопротивления прибора,
 - в. не сказывается на сопротивлении прибора.
7. Сколько выводов имеет биполярный сплавной транзистор?
 - а. 2 вывода,
 - б. 3 вывода, (*)
 - в. 4 вывода.
8. Биполярный сплавной транзистор. Укажите условное назначение электродов: эмиттер (а), коллектор (б), база (в).
 - а. вход в прибор,
 - б. выход из прибора,
 - в. управляющий электрод.
9. Работа биполярного сплавного транзистора. Когда на переход эмиттер-база подано напряжение положительного смещения (небольшое сопротивление перехода), а на переход база-коллектор существенно большее отрицательное смещение (большое сопротивление перехода), то прибор переходит
 - а. в активное состояние, (*)
 - б. состояние прибора не меняется,
 - в. прибор блокируется.
10. Основной режим работы биполярного транзистора – режим усиления электрических сигналов, второй режим это
 - а. переключение, (*)
 - б. выключения,
 - в. включения.

2) открытые задания (тестовые, повышенный уровень сложности):

1. Перечислите преимущества полевого транзистора над биполярным.

Ответ: Входное сопротивление полевого транзистора велико (запертый p-n-переход). Это обстоятельство во многих случаях позволяет снизить необходимую для управления прибором мощность и упрощает согласование последовательных каскадов электрических схем. В канале транзистора движение носителей заряда происходит под действием электрического поля, возникающего при приложении к промежутку исток-сток напряжения. Таким образом, в полевом транзисторе исключено сравнительно медленное диффузионное движение носителей заряда, что значительно повышает быстродействие прибора.

Б1.О.28 Базы данных

1) закрытые задания (тестовые, средний уровень сложности):

Вторая нормальная форма

Какие зависимости между атрибутами отношений необходимо устранить для достижения второй нормальной формы?			MC
Балл по умолчанию:			1
Случайный порядок ответов			Да
Нумеровать варианты ответов?			0
Штраф за каждую неправильную попытку:			33.3
ID-номер:			
#	Ответы	Отзыв	Оценка
A.	Неминимальные		100
B.	Транзитивные		0
C.	Многозначные		0
	Общий отзыв к вопросу:		
	Для любого правильного ответа:	Ваш ответ верный.	
	Для любого неправильного ответа:	Ваш ответ неправильный.	
	Подсказка 1:		
	Показать количество правильных ответов (Подсказка 1):	Нет	
	Удалить некорректные ответы (Подсказка 1):	Нет	
	Теги:		
<i>Позволяет выбирать один или несколько правильных ответов из заданного списка. (MC/MA)</i>			

Отражение связи 1:N в реляционной модели

В ER-модели между сущностями А и В есть связь один-ко-многим (один экземпляр А может быть связан с несколькими экземплярами В). Каким образом эта связь отражается в реляционной модели?			MC
Балл по умолчанию:			1
Случайный порядок ответов			Да
Нумеровать варианты ответов?			0
Штраф за каждую неправильную попытку:			33.3
ID-номер:			
#	Ответы	Отзыв	Оценка
A.	Внешний ключ в отношении А ссылается на первичный ключ отношения В		0
B.	Внешний ключ в отношении В ссылается на первичный ключ отношения А		100
C.	Создается дополнительное отношение из двух атрибутов, которые являются внешними ключами, ссылающимися на первичные ключи отношений А и В		0
Общий отзыв к вопросу:			
Для любого правильного ответа:		Ваш ответ верный.	
Для любого неправильного ответа:		Ваш ответ неправильный.	
Подсказка 1:			
Показать количество правильных ответов (Подсказка 1):		Нет	
Удалить некорректные ответы (Подсказка 1):		Нет	
Теги:			
Позволяет выбирать один или несколько правильных ответов из заданного списка. (MC/MA)			

Отражение связи M:N в реляционной модели

В ER-модели между сущностями А и В есть связь многие-ко-многим. Каким образом эта связь отражается в реляционной модели?			MC
Балл по умолчанию:			1
Случайный порядок ответов			Да
Нумеровать варианты ответов?			0
Штраф за каждую неправильную попытку:			33.3
ID-номер:			
#	Ответы	Отзыв	Оценка
A.	Внешний ключ в отношении А ссылается на первичный ключ отношения В, а внешний ключ в отношении В - на первичный ключ отношения А		0
B.	Создается дополнительное отношение из двух атрибутов, которые являются внешними ключами, ссылающимися на первичные ключи отношений А и В		100
C.	Такая связь не может быть отражена в реляционной модели		0
Общий отзыв к вопросу:			
Для любого правильного ответа:		Ваш ответ верный.	
Для любого неправильного ответа:		Ваш ответ неправильный.	
Подсказка 1:			
Показать количество правильных ответов (Подсказка 1):		Нет	
Удалить некорректные ответы (Подсказка 1):		Нет	
Теги:			
Позволяет выбирать один или несколько правильных ответов из заданного списка. (MC/MA)			

Третья нормальная форма

Какие зависимости между атрибутами отношений, находящихся во второй нормальной форме, необходимо устранить для достижения третьей нормальной формы?			MC
Балл по умолчанию:			1
Случайный порядок ответов			Да
Нумеровать варианты ответов?			0
Штраф за каждую неправильную попытку:			33.3
ID-номер:			
#	Ответы	Отзыв	Оценка
A.	Неминимальные		0
B.	Транзитивные		100
C.	Многозначные		0
Общий отзыв к вопросу:			
Для любого правильного ответа:		Ваш ответ верный.	
Для любого неправильного ответа:		Ваш ответ неправильный.	
Подсказка 1:			
Показать количество правильных ответов (Подсказка 1):		Нет	
Удалить некорректные ответы (Подсказка 1):		Нет	
Теги:			
<i>Позволяет выбирать один или несколько правильных ответов из заданного списка. (MC/MA)</i>			

Что соответствует атрибуту в языке SQL

Какое понятие в терминологии языка SQL соответствует понятию атрибута в терминологии реляционной модели данных?			MC
Балл по умолчанию:			1
Случайный порядок ответов			Да
Нумеровать варианты ответов?			0
Штраф за каждую неправильную попытку:			33.3
ID-номер:			
#	Ответы	Отзыв	Оценка
A.	Таблица		0
B.	Столбец		100
C.	Строка		0
	Общий отзыв к вопросу:		
	Для любого правильного ответа:	Ваш ответ верный.	
	Для любого неправильного ответа:	Ваш ответ неправильный.	
	Подсказка 1:		
	Показать количество правильных ответов (Подсказка 1):	Нет	
	Удалить некорректные ответы (Подсказка 1):	Нет	
	Теги:		
<i>Позволяет выбирать один или несколько правильных ответов из заданного списка. (MC/MA)</i>			

Что соответствует кортежу в языке SQL

Какое понятие в терминологии языка SQL соответствует понятию кортежа в терминологии реляционной модели данных?			MC
Балл по умолчанию:			1
Случайный порядок ответов			Да
Нумеровать варианты ответов?			0
Штраф за каждую неправильную попытку:			33.3
ID-номер:			
#	Ответы	Отзыв	Оценка
A.	Таблица		0
B.	Столбец		0
C.	Строка		100
	Общий отзыв к вопросу:		
	Для любого правильного ответа:	Ваш ответ верный.	
	Для любого неправильного ответа:	Ваш ответ неправильный.	
	Подсказка 1:		
	Показать количество правильных ответов (Подсказка 1):	Нет	
	Удалить некорректные ответы (Подсказка 1):	Нет	
	Теги:		
<i>Позволяет выбирать один или несколько правильных ответов из заданного списка. (MC/MA)</i>			

Что соответствует отношению в языке SQL

Какое понятие в терминологии языка SQL соответствует понятию отношения в терминологии реляционной модели данных?			MC
Балл по умолчанию:			1
Случайный порядок ответов			Да
Нумеровать варианты ответов?			0
Штраф за каждую неправильную попытку:			33.3
ID-номер:			
#	Ответы	Отзыв	Оценка
A.	Таблица		100
B.	Столбец		0
C.	Строка		0
	Общий отзыв к вопросу:		
	Для любого правильного ответа:	Ваш ответ верный.	
	Для любого неправильного ответа:	Ваш ответ неправильный.	
	Подсказка 1:		
	Показать количество правильных ответов (Подсказка 1):	Нет	
	Удалить некорректные ответы (Подсказка 1):	Нет	
	Теги:		
<i>Позволяет выбирать один или несколько правильных ответов из заданного списка. (MC/MA)</i>			

2) открытые задания (тестовые, повышенный уровень сложности):

Выбор части атрибутов отношения

Как называется реляционная операция, операндами которой являются отношение и некоторое подмножество его заголовка, а результатом - отношение, которое имеет заголовком указанное подмножество, а его тело содержит столько же кортежей, что и у отношения-операнда?			SA
Балл по умолчанию:			1
Чувствительность к регистру:			Нет
Штраф за каждую неправильную попытку:			33.3
ID-номер:			
	Ответы	Отзыв	Оценка
	проекция		100
	PROJECT		100
	Общий отзыв к вопросу:		
	Подсказка 1:		
	Теги:		
<i>Вам необходимо указать хотя бы один возможный ответ. Пустые ответы не будут использоваться. Символ «*» можно использовать в качестве шаблона, соответствующего любым символам. Первый подходящий ответ будет использоваться для определения оценки и отзыва.</i>			

Выбор части кортежей отношения

Как называется реляционная операция, операндами которой являются отношение и условие, накладываемое на его кортежи, а результатом - отношение, имеющее тот же заголовок, что и отношение-операнд, и тело, содержащее те и только те кортежи отношения-операнда, которые удовлетворяют условию?			SA
Балл по умолчанию:			1
Чувствительность к регистру:			Нет
Штраф за каждую неправильную попытку:			33.3
ID-номер:			
	Ответы	Отзыв	Оценка
	Селекция		100
	Ограничение		100
	WHERE		100
	Общий отзыв к вопросу:		
	Подсказка 1:		
	Теги:		
<i>Вам необходимо указать хотя бы один возможный ответ. Пустые ответы не будут использоваться. Символ «*» можно использовать в качестве шаблона, соответствующего любым символам. Первый подходящий ответ будет использоваться для определения оценки и отзыва.</i>			

Соответствие значений одноименных атрибутов

Как называется реляционная операция, операндами которой являются два отношения с непустым пересечением их заголовков, а результатом - отношение, заголовок которого является объединением заголовков отношений-операндов, а тело - множеством объединений пар кортежей отношений-операндов, у которых значения одноименных атрибутов совпадают?		SA
Балл по умолчанию:		1
Чувствительность к регистру:		Нет
Штраф за каждую неправильную попытку:		33.3
ID-номер:		
	Ответы	Отзыв
	естественное соединение	
	NATURAL JOIN	
	Общий отзыв к вопросу:	
	Подсказка 1:	
	Теги:	
Вам необходимо указать хотя бы один возможный ответ. Пустые ответы не будут использоваться. Символ «*» можно использовать в качестве шаблона, соответствующего любым символам. Первый подходящий ответ будет использоваться для определения оценки и отзыва.		

Б1.О.29 Операционные системы

- 1) закрытые задания (тестовые, средний уровень сложности):

1

Какое устройство определяет базовую частоту компьютера?			MC
Балл по умолчанию:			1
Случайный порядок ответов			Да
Нумеровать варианты ответов?			0
Штраф за каждую неправильную попытку:			33.3
ID-номер:			
#	Ответы	Отзыв	Оценка
A.	Процессор		0
B.	Материнская плата		0
C.	Системная шина		100
Общий отзыв к вопросу:			
Для любого правильного ответа:		Ваш ответ верный.	
Для любого неправильного ответа:		Ваш ответ неправильный.	
Подсказка 1:			
Показать количество правильных ответов (Подсказка 1):		Нет	
Удалить некорректные ответы (Подсказка 1):		Нет	
Теги:			
Позволяет выбирать один или несколько правильных ответов из заданного списка. (MC/MA)			

2

Какой режим работы процессора предоставляет полный доступ к его ресурсам?			MC
Балл по умолчанию:			1
Случайный порядок ответов:			Да
Нумеровать варианты ответов?			0
Штраф за каждую неправильную попытку:			33.3
ID-номер:			
#	Ответы	Отзыв	Оценка
A.	Режим пользователя		0
B.	Режим ядра		100
	Общий отзыв к вопросу:		
	Для любого правильного ответа:	Ваш ответ верный.	
	Для любого неправильного ответа:	Ваш ответ неправильный.	
	Подсказка 1:		
	Показать количество правильных ответов (Подсказка 1):	Нет	
	Удалить некорректные ответы (Подсказка 1):	Нет	
	Теги:		
<i>Позволяет выбирать один или несколько правильных ответов из заданного списка. (MC/MA)</i>			

3

Как происходит опрос устройств ввода-вывода в современных операционных системах?			MC
Балл по умолчанию:			1
Случайный порядок ответов:			Да
Нумеровать варианты ответов?			0
Штраф за каждую неправильную попытку:			33.3
ID-номер:			
#	Ответы	Отзыв	Оценка
A.	Последовательно		0
B.	С помощью механизма прерываний		100
	Общий отзыв к вопросу:		
	Для любого правильного ответа:	Ваш ответ верный.	
	Для любого неправильного ответа:	Ваш ответ неправильный.	
	Подсказка 1:		
	Показать количество правильных ответов (Подсказка 1):	Нет	
	Удалить некорректные ответы (Подсказка 1):	Нет	
	Теги:		
<i>Позволяет выбирать один или несколько правильных ответов из заданного списка. (MC/MA)</i>			

4

Какое устройство осуществляет начальную загрузку операционной системы?			MC
Балл по умолчанию:			1
Случайный порядок ответов			Да
Нумеровать варианты ответов?			0
Штраф за каждую неправильную попытку:			33.3
ID-номер:			
#	Ответы	Отзыв	Оценка
A.	Системный таймер		0
B.	Базовая система ввода-вывода		100
C.	Системная шина		0
Общий отзыв к вопросу:			
Для любого правильного ответа:		Ваш ответ верный.	
Для любого неправильного ответа:		Ваш ответ неправильный.	
Подсказка 1:			
Показать количество правильных ответов (Подсказка 1):		Нет	
Удалить некорректные ответы (Подсказка 1):		Нет	
Теги:			
<i>Позволяет выбирать один или несколько правильных ответов из заданного списка. (MC/MA)</i>			

5

В каком состоянии процесс ожидает окончания выполнения операции ввода-вывода?			MC
Балл по умолчанию:			1
Случайный порядок ответов:			Да
Нумеровать варианты ответов?			0
Штраф за каждую неправильную попытку:			33.3
ID-номер:			
#	Ответы	Отзыв	Оценка
A.	Выполнение		0
B.	Блокировка		100
C.	Готовность		0
Общий отзыв к вопросу:			
Для любого правильного ответа:		Ваш ответ верный.	
Для любого неправильного ответа:		Ваш ответ неправильный.	
Подсказка 1:			
Показать количество правильных ответов (Подсказка 1):		Нет	
Удалить некорректные ответы (Подсказка 1):		Нет	
Теги:			
<i>Позволяет выбирать один или несколько правильных ответов из заданного списка. (MC/MA)</i>			

6

Какой класс прерываний предназначен для обработки ошибок?			MC
Балл по умолчанию:			1
Случайный порядок ответов			Да
Нумеровать варианты ответов?			0
Штраф за каждую неправильную попытку:			33.3
ID-номер:			
#	Ответы	Отзыв	Оценка
A.	Исключения		100
B.	Сигналы		0
C.	Сообщения		0
	Общий отзыв к вопросу:		
	Для любого правильного ответа:	Ваш ответ верный.	
	Для любого неправильного ответа:	Ваш ответ неправильный.	
	Подсказка 1:		
	Показать количество правильных ответов (Подсказка 1):	Нет	
	Удалить некорректные ответы (Подсказка 1):	Нет	
	Теги:		
<i>Позволяет выбирать один или несколько правильных ответов из заданного списка. (MC/MA)</i>			

7

Где физически располагаются процессы во время их выполнения операционной системой?			MC
Балл по умолчанию:			1
Случайный порядок ответов:			Да
Нумеровать варианты ответов?			0
Штраф за каждую неправильную попытку:			33.3
ID-номер:			
#	Ответы	Отзыв	Оценка
A.	Виртуальная память		0
B.	Жесткий диск		0
C.	Оперативная память		100
Общий отзыв к вопросу:			
Для любого правильного ответа:		Ваш ответ верный.	
Для любого неправильного ответа:		Ваш ответ неправильный.	
Подсказка 1:			
Показать количество правильных ответов (Подсказка 1):		Нет	
Удалить некорректные ответы (Подсказка 1):		Нет	
Теги:			
<i>Позволяет выбирать один или несколько правильных ответов из заданного списка. (MC/MA)</i>			

2) открытые задания (тестовые, повышенный уровень сложности):

1

Что такое процесс?		ES
Балл по умолчанию:		1
Формат ответа:		HTML-редактор
Требовать текст:		Да
Размер поля:		5
Разрешить вложения:		0
Требуемое число вложений:		0
Разрешенные типы файлов:		
ID-номер:		
	Шаблон ответа	Информация для оценивающих
		Процесс - это программа в стадии выполнения (упрощ.)
	Общий отзыв к вопросу:	
	Теги:	
<i>Допускает в ответе загрузить файл и/или ввести текст. Ответ должен быть оценен преподавателем вручную.</i>		

2

Какие модели потоков Вы знаете?		ES
Балл по умолчанию:		1
Формат ответа:		HTML-редактор
Требовать текст:		Да
Размер поля:		5
Разрешить вложения:		0
Требуемое число вложений:		0
Разрешенные типы файлов:		
ID-номер:		
	Шаблон ответа	Информация для оценивающих
		потоки уровня пользователя, потоки уровня ядра, гибридная модель
	Общий отзыв к вопросу:	
	Теги:	
<i>Допускает в ответе загрузить файл и/или ввести текст. Ответ должен быть оценен преподавателем вручную.</i>		

3

Приведите простейший пример выполнения операции монтирования файловых систем.		ES
Балл по умолчанию:		1
Формат ответа:		HTML-редактор
Требовать текст:		Да
Размер поля:		5
Разрешить вложения:		0
Требуемое число вложений:		0
Разрешенные типы файлов:		
ID-номер:		
	Шаблон ответа	Информация для оценивающих
		вставка компакт-диска в устройство, подключение внешнего накопителя данных
	Общий отзыв к вопросу:	
	Теги:	
<i>Допускает в ответе загрузить файл и/или ввести текст. Ответ должен быть оценен преподавателем вручную.</i>		

Б1.О.30 Компьютерные сети

1) закрытые задания (тестовые, средний уровень сложности):

1. Универсальная ... сеть, способная предоставлять услуги как компьютерных, так и телекоммуникационных сетей.

- 1 Любая компьютерная сеть
- 2 Телекоммуникационная сеть
- 3 Мультисервисная сеть

2. ... - это конфигурация графа, вершинам которого соответствуют конечные узлы сети (например, компьютеры) и коммуникационное оборудование (например, маршрутизаторы), а ребрам – физические или информационные связи между вершинами.

- 1 Топология сети
- 2 Сетевая технология
- 3 Логическая модель сети

3. ... представляют собой маршруты передачи пакетов данных между элементами сети.

- 1 Топология сети
- 2 Сетевая технология
- 3 Логические связи

4. ... это топология, при которой все компьютеры сети подключаются отдельными

кабелями к общему устройству, называемому концентратором или коммутатором.

- 1 Топология «звезда»
- 2 Полносвязная топология
- 3 Общая шина

5. ... - это последовательность узлов, лежащих на пути от отправителя к получателю.

- 1 Коммутация
- 2 Маршрут
- 3 Продвижение потоков

6. ... - это непрерывная последовательность данных, объединенных набором общих признаков, выделяющих эти данные из общего сетевого трафика.

- 1 Продвижения потоков
- 2 Поток данных
- 3 Коммутации

7. ... ставит в соответствие локальному или глобальному признаку потока номер интерфейса, на который устройство должно передавать данные, относящиеся к этому потоку.

- 1 Таблица маршрутизации
- 2 Маршрут
- 3 Маршрутизация

8. ... - это процесс, в ходе которого данные выставляются на тот интерфейс, с которого начинается маршрут, а все транзитные узлы должны соответствующим образом вы-полнить переброску данных с одного своего интерфейса на другой.

- 1 Продвижение данных
- 2 Коммутация интерфейсов
- 3 Маршрутизация

9. ... - это определение маршрута и оповещение сети о выбранном маршруте.

- 1 Таблица маршрутизации
- 2 Маршрут
- 3 Маршрутизация

10. Эталонная модель взаимодействия открытых систем создана для того, чтобы:

- 1 взаимодействие открытых систем было описано в общем виде
- 2 разработчики программно-аппаратных средств могли, наконец, договориться между собой
- 3 любые взаимодействующие системы имели одинаковые протоколы взаимодействия
- 4 к открытой системе могли присоединиться любые системы с собственными правилами взаимодействия

11. У эталонной модели взаимодействия открытых систем имеется ### уровней

- 1 5 уровней
- 2 7 уровней
- 3 10 уровней

12. Топология, соответствующая сети, в которой каждый компьютер непосредственно связан со всеми остальными, носит название:

- 1 Полносвязная топология
- 2 Ячеистая топология

3 Общая шина

4 Кольцо

2) открытые задания (тестовые, повышенный уровень сложности):

1. Протокол сеансового уровня выполняет функции инициации сеанса взаимодействия между объектами ... уровня

Ответ: прикладного

2. Транспортный уровень обеспечивает транспортировку информации между объектами сеансового и ... уровней

Ответ: сетевого

3. Определите последовательность движения информации от прикладного процесса к передающей среде по уровням эталонной модели взаимодействия открытых систем

1: прикладной

2: представительный

3: сеансовый

4: транспортный

5: сетевой

6: канальный

7: физический

Ответ: 1-2-3-4-5-6-7

4. Какая топология формирует сеть, в которой каждый компьютер связан со всеми остальными компьютерами сети

Ответ: Полносвязная топология

Б2.О.02(У) Учебная практика (проектная)

1) закрытые задания (тестовые, средний уровень сложности):

1. Когда вирус не может появиться в технических средствах?

а) при работе с дискетой и компакт-дисками

б) при просмотре информации в интернете

в) при выключенном питании ЭВМ

г) при работе с электронной почтой

Ответ: в)

2. Приемы для работы с числовой информацией в ИТ:

а) заполнение таблиц, программирование, обработка запросов

б) вычисления, обработка, диаграммы, таблицы, прогнозирование

в) сводки, калькуляции, анимации, видеоизображения

г) гипертекст, сортировка, базы данных

Ответ: б)

3. Признаки проявления вируса:

- а) гаснет экран монитора
- б) высокая скорость размножения
- в) прекращение или неправильная работа компьютера
- г) сходны с естественными вирусами

Ответ: в)

2) открытые задания (тестовые, повышенный уровень сложности):

Информационная _____ - это совокупность методов, производственных и программно-технологических средств, объединенных в технологическую цепочку, обеспечивающую сбор, хранение, обработку, вывод и распространение информации.

Информационная _____ это совокупность методов, производственных и программно-технологических средств, объединенных в технологическую цепочку, обеспечивающую сбор, хранение, обработку, вывод и распространение информации.			SA
Балл по умолчанию:			1
Чувствительность к регистру:			Нет
Штраф за каждую неправильную попытку:			10
ID-номер:			
	Ответы	Отзыв	Оценка
	технология		100
	Общий отзыв к вопросу:		
	Подсказка 1:		
	Теги:		
<i>Вам необходимо указать хотя бы один возможный ответ. Пустые ответы не будут использоваться. Символ «*» можно использовать в качестве шаблона, соответствующего любым символам. Первый подходящий ответ будет использоваться для определения оценки и отзыва.</i>			

Информационная _____ – это набор механизмов, методов и алгоритмов, направленных на поддержание жизненного цикла информации и

включающих 3 основных процесса: обработку данных; управление информацией; управление знаниями.

Информационная _____ – это набор механизмов, методов и алгоритмов, направленных на поддержание жизненного цикла информации и включающих 3 основных процесса: обработку данных; управление информацией; управление знаниями.		SA
Балл по умолчанию:		1
Чувствительность к регистру:		Нет
Штраф за каждую неправильную попытку:		10
ID-номер:		
	Ответы	Отзыв
	система	
	Общий отзыв к вопросу:	
	Подсказка 1:	
	Теги:	
<i>Вам необходимо указать хотя бы один возможный ответ. Пустые ответы не будут использоваться. Символ «*» можно использовать в качестве шаблона, соответствующего любым символам. Первый подходящий ответ будет использоваться для определения оценки и отзыва.</i>		

ОПК-5. Способен разрабатывать алгоритмы и компьютерные программы, пригодные для практического применения

Период окончания формирования компетенции: 6 семестр

Перечень дисциплин (модулей), практик, участвующих в формировании компетенции:

Дисциплины (модули):

Б1.О.22 Численные методы (5, 6 семестры)

Б1.О.23 Методы оптимизации (5, 6 семестры)

Б1.О.25 Структуры данных и алгоритмы (3, 4 семестры)

Б1.О.26 Объектно-ориентированное программирование (3 семестр)

Б1.О.27 Архитектура компьютеров (3 семестр)

Б1.О.28 Базы данных (5, 6 семестры)

Б1.О.29 Операционные системы (4 семестр)

Б1.О.30 Компьютерные сети (6 семестр)

Б1.О.31 Информационная безопасность и защита информации (7 семестр)

Б1.О.32 Компьютерная графика (5 семестр)

Б1.О.22 Численные методы

1) закрытые задания (тестовые, средний уровень сложности):

1. При составлении разностных схем для уравнения с частными производными регулярными называются:

а) узлы сетки, в которых разностная схема записана на шаблоне;

- б) узлы сетки, лежащие внутри рассматриваемой области;
- в) узлы сетки, принадлежащие границам рассматриваемой области;
- г) узлы сетки, принадлежащие одному слою.

Ответ: а)

2. Дана дифференциальная задача $Lu = f$ и аппроксимирующая ее разностная схема $L_h y = f_h$. Решение разностной схемы сходится к решению дифференциальной задачи с порядком p , если:

а) $\|L_h u - f_h\|_h = O(h^p), h \rightarrow 0$

б) $\|Ly - f\|_h = O(h^p), h \rightarrow 0$

в) $\|u - y\|_h = O(h^p), h \rightarrow 0$

Ответ: в)

3. Дана дифференциальная задача $Lu = f$ и аппроксимирующая ее разностная схема $L_h y = f_h$. Порядок аппроксимации равен p , если

а) $\|L_h u - f_h\|_h = O(h^p), h \rightarrow 0$

б) $\|Ly - f\|_h = O(h^p), h \rightarrow 0$

в) $\|u - y\|_h = O(h^p), h \rightarrow 0$

Ответ: а)

4. Дана дифференциальная задача $Lu = f$ и аппроксимирующая ее разностная схема $L_h y = f_h$. Аппроксимация называется безусловной, если:

а) $\|L_h u - f_h\|_h \rightarrow 0$ при определенном соотношении шагов сетки по различным переменным;

б) $\|Ly - f\|_h \rightarrow 0$ при любом соотношении шагов сетки по различным переменным;

в) $\|L_h u - f_h\|_h \rightarrow 0$ при любом соотношении шагов сетки по различным переменным;

г) $\|Ly - f\|_h \rightarrow 0$ при определенном соотношении шагов сетки по различным переменным.

Ответ: в)

5. Метод Адамса $\frac{1}{\tau}(y_n - y_{n-1}) = \sum_{k=0}^m b_k f_{n-k}$ называется явным, если:

а) $b_0 = 0$;

б) $b_0 \neq 0$;

в) функция f_{n-k} является линейной относительно функции y .

Ответ: а)

2) открытые задания (тестовые, повышенный уровень сложности):

1. Функция $f(x)$ задана своими значениями в узлах x_{i-1}, x_i, x_{i+1} ($x_{i\pm 1} = x_i \pm h$).

$$f(x_{i-1}) = f_{i-1}; f(x_i) = f_i; f(x_{i+1}) = f_{i+1}.$$

Первая производная функции в точке x_i вычисляется по формуле

$$f'(x_i) \approx \frac{f_{i+1} - f_{i-1}}{2h}.$$

Определите порядок точности относительно h указанной формулы.

Ответ: второй порядок точности, (второй, 2)

2. Функция $f(x)$ задана своими значениями в узлах x_{i-1}, x_i, x_{i+1} ($x_{i\pm 1} = x_i \pm h$).

$$f(x_{i-1}) = f_{i-1}; f(x_i) = f_i; f(x_{i+1}) = f_{i+1}.$$

Вторая производная функции вычисляется по формуле

$$f''(x) \approx \frac{f_{i+1} - 2f_i + f_{i-1}}{h^2}.$$

Укажите, в каких из перечисленных точек приведенная формула будет иметь первый порядок точности (относительно h).

Ответ: x_{i-1}, x_{i+1}

Б1.О.23 Методы оптимизации

1) закрытые задания (тестовые, средний уровень сложности):

1. Алгоритм строит последовательные приближения по формуле $u_{k+1} = u_k - \beta_k \text{grad } I(u_k)$, где $\beta_k > 0$ — число, I — функция. Алгоритм предназначен

- А) Для нахождения точек максимума функции
- Б) Для нахождения точек минимума функции
- В) Для нахождения точек перегиба функции
- Г) Для нахождения точек разрыва функции

Ответ: Б)

2. Алгоритм строит последовательные приближения по формуле $u_{k+1} = u_k - \beta_k \text{grad } I(u_k)$, где $\beta_k > 0$ – число, I -- функция. Алгоритм предназначен

- А) Для нахождения корней функции I
- Б) Для нахождения числа корней функции I
- В) Для нахождения точек минимума функции I
- Г) Для нахождения точек максимума функции I

Ответ: В)

3. Алгоритм строит последовательные приближения по формуле $u_{k+1} = u_k - \beta_k \text{grad } I(u_k)$, где $\beta_k > 0$ – число, I -- функция. Для применимости алгоритма требуется

- А) непрерывность функции
- Б) выпуклость функции
- В) дифференцируемость функции
- Г) монотонность функции

Ответ: В)

4. Алгоритм строит последовательные приближения по формуле $u_{k+1} = u_k - \beta_k \text{grad } I(u_k)$, где $\beta_k > 0$ – число, I -- функция. Алгоритм называется

- А) симплексный алгоритм
- Б) метод Слейтера
- В) алгоритм парабол
- Г) алгоритм градиентного спуска

Ответ: Г)

5. Какой метод использует крайние (угловые) точки допустимого множества

- А) Симплексный метод
- Б) Градиентный метод
- В) Метод деления отрезка пополам
- Г) Метод золотого сечения

Ответ: А)

2) открытые задания (тестовые, повышенный уровень сложности):

6. Уравнение Эйлера для функционала $I = \int_a^b f(t, x(t), x'(t)) dt$ является

- А) достаточным условием слабого минимума
- Б) достаточным условием сильного минимума
- В) необходимым условием слабого минимума
- Г) необходимым условием отсутствия точки минимума

Ответ: В) необходимым условием слабого минимума

7. Алгоритм $\frac{I(u+h) - I(u)}{h}$ приближенно вычисляет

- А) корень функции I

- Б) кратность корня функции I
- В) производную функции I
- Г) крайнюю точку в симплексном методе

Ответ: В) производную функции I

Б1.О.25 Структуры данных и алгоритмы

1) закрытые задания (тестовые, средний уровень сложности):

1. Укажите правильный вариант доступа к членам объектов, описанных следующим образом:

```
class A
{
    char ch;
public:
    double x;
    int f(int y, int z)
    {
        return y + x;
    };
} obj1, obj2;
```

- obj1.x = 2.5;
- obj2->f(5, 7);
- obj1.ch = '*';
- A.obj1->ch = '+';

2. Какая функция, не будучи компонентом класса, имеет доступ к его защищенным и внутренним компонентам:

- Статическая
- Дружественная
- Шаблонная
- Полиморфная

3. Выберите правильное утверждение для абстрактного класса для языка C++:

- Класс, у которого все методы чисто виртуальные.
- Невозможно создать объект абстрактного класса
- В абстрактном классе нельзя описывать методы

4. С помощью чего реализуется принцип полиморфизма в C++?

- Наличие множественного наследования.
- Наличие виртуальных методов.
- Использование виртуального наследования.
- наличия абстрактных классов.

5. Принцип объектно-ориентированного программирования, заключающийся в объединении атрибутов и методов объекта с целью обеспечения сохранности данных:

- Наследование.
- Сочетание.
- Инициализация.
- Инкапсуляция

6. Выберите верное утверждение о деструктор класса в C ++.

- Деструктор принимает в качестве параметра адрес того объекта, который нужно уничтожить.
- Деструктор принимает в качестве параметра указатель this.
- **Деструктор не содержит параметров.**
- Деструктор принимает в качестве параметра тот объект, который нужно уничтожить.

7. Какой из вариантов записи абстрактного класса в C ++ является правильным?

- `abstract class A { virtual int f() = 0; };`
- `class A { virtual int f() = 0; };`
- `class A { virtual int f() = 0; } abstract;`
- `class A { virtual int f(); };`

8. Выберите правильное объявление производного класса

- `class Triangle::Figures;`
- `class Triangle : public class Figures;`
- `class Triangle : public Figures;`
- `class Triangle : class(Figures);`

9. Действие спецификаторов доступа на дружественные функции

- **не распространяется**
- распространяется только для спецификатора public
- распространяется только для спецификатора private

распространяется только для спецификатора protected

2) открытые задания (тестовые, повышенный уровень сложности):

1. Отношение между классами, обеспечивающее возможность конструирования новых более сложных классов из уже имеющихся посредством добавления полей и определения новых методов.

Ответ: Наследование

2. Отношение между классами, при котором объекты одного класса являются неотъемлемой частью другого.

Ответ: Композиция

3. Отношение между классами, при котором количество объектов некоторого класса, включаемых в другой класс, не ограничено и может меняться от нуля до достаточно больших значений.

Ответ: Наполнение

4. Метод класса, который автоматически вызывается при выделении памяти под объект.

Ответ: Конструктор

5. Метод класса, который автоматически вызывается при освобождении объектом памяти.

Ответ: Деструктор

- 1) закрытые задания (тестовые, средний уровень сложности):

7 (копия)

Дана система классов. В каком порядке будут вызываться конструкторы классов при выполнении следующего кода? Все имена классов перечислить последовательно без пробелов. Например, если сначала будет вызван конструктор класса А, а потом – класса В, то написать АВ.

```
class A
{
    int a;
public:
    A(int x) : a(x){}
};

class B : public A
{
    int b;
public:
    B(int x, int y) : A(x), b(y){}
};

class C : public B
{
    int c;
public:
    C(int z) : B(1, 3), c(z){}
};

void main()
{
    C obj2(5);
    B obj1(4, 8);
}
```

MC

Балл по умолчанию: 1

Случайный порядок ответов Да

Нумеровать варианты ответов? 0

Штраф за каждую неправильную попытку: 33.3

ID-номер:

#	Ответы	Отзыв	Оценка
A.	АВABC		-100
B.	ABCAB		100
C.	CB		-100
D.	ВАСВА		0
E.	СВАВА		0
	Общий отзыв к вопросу:		
	Для любого правильного ответа:	Ваш ответ верный.	
	Для любого неправильного ответа:	Ваш ответ неправильный.	
	Подсказка 1:		
	Показать количество правильных ответов (Подсказка 1):	Нет	
	Удалить некорректные ответы (Подсказка 1):	Нет	
	Теги:		
Позволяет выбирать один или несколько правильных ответов из заданного списка. (MC/MA)			

Наследование + композиция (копия)

<p>В каком порядке будут вызываться конструкторы при выполнении следующего кода?</p> <pre> class A { int a; public: A(int _a = 0) : a(_a) {} }; class B { int b; public: B(int _b = 0) : b(_b) {} }; class C { int c; A a; public: C(int _c) : c(_c), a(_c) {} }; class D : public C { int d; B b; public: D(int _d) : C(_d), b(_d), d(_d) {} }; void main() { D obj(10); } </pre>		MC	
Балл по умолчанию:		4	
Случайный порядок ответов		Да	
Нумеровать варианты ответов?		0	
Штраф за каждую неправильную попытку:		33.3	
ID-номер:			
#	Ответы	Отзыв	Оценка
A.	A B C D		0
B.	C B D A		0
C.	C A B D		0
D.	C A D B		0
E.	A C B D		100
F.	объект не будет создан		0
G.	нет правильного ответа		0
Общий отзыв к вопросу:			
Для любого правильного ответа:		Ваш ответ верный.	
Для любого неправильного ответа:		Ваш ответ неправильный.	

<p>В каком порядке будут вызываться конструкторы при выполнении следующего кода?</p> <pre> class A { int a; public: A(int _a = 0) : a(_a) {} }; class B { int b; public: B(int _b = 0) : b(_b) {} }; class C { int c; A a; public: C(int _c) : c(_c), a(_c) {} }; class D : public C { int d; B b; public: D(int _d) : C(_d), b(_d), d(_d) {} }; void main() { D obj(10); } </pre>		MC	
Балл по умолчанию:		4	
Случайный порядок ответов		Да	
Нумеровать варианты ответов?		0	
Штраф за каждую неправильную попытку:		33.3	
ID-номер:			
#	Ответы	Отзыв	Оценка
	Подсказка 1:		
	Показать количество правильных ответов (Подсказка 1):	Нет	
	Удалить некорректные ответы (Подсказка 1):	Нет	
	Теги:		
<p><i>Позволяет выбирать один или несколько правильных ответов из заданного списка. (MC/MA)</i></p>			

Присваивание объектов

Дана система классов. Какие операторы присваивания допустимы?			
<pre>class A { int a; public: A(int x) : a(x){} }; class B : public A { int b; public: B(int x, int y) : A(x), b(y){} };</pre>		MA	
		Балл по умолчанию:	1
		Случайный порядок ответов:	Да
		Нумеровать варианты ответов?	0
		Показать количество правильных ответов после окончания:	Да
		Штраф за каждую неправильную попытку:	33.3
		ID-номер:	
#	Ответы	Отзыв	Оценка
A.	A* p1 = new B(2, 3)		50
B.	A p1 = new B(2, 3)		0
C.	B* p1 = new B(2, 3)		50
D.	B* p1 = new A(2, 3)		0
E.	B* p1 = new A(2)		0
F.	B p1 = new A(2)		0
	Общий отзыв к вопросу:		
	Для любого правильного ответа:	Ваш ответ верный.	
	Для любого неправильного ответа:	Ваш ответ неправильный.	
	Для любого частично правильного ответа:	Ваш ответ частично правильный.	
	Подсказка 1:		
	Показать количество правильных ответов (Подсказка 1):	Нет	
	Удалить некорректные ответы (Подсказка 1):	Нет	
	Теги:		
<i>Позволяет выбирать один или несколько правильных ответов из заданного списка. (MC/MA)</i>			

Ссылки на объекты 1

Дана система классов. Какие операторы допустимы? Выберите один или несколько ответов.			МА
<pre> class A { int a; public: A(int x) : a(x) {} }; class B : public A { int b; public: B(int x, int y) : A(x), b(y) {} }; class C : public B { int c; public: C(int x, int y, int z): B(x, y) { c = z; } }; </pre>			
Балл по умолчанию:			1
Случайный порядок ответов:			Да
Нумеровать варианты ответов?			0
Показать количество правильных ответов после окончания:			Да
Штраф за каждую неправильную попытку:			33.3
ID-номер:			
#	Ответы	Отзыв	Оценка
A.	A* objA = new A(5)		20
B.	B* objB = new A(6, 8)		-10
C.	C* objC = new A(7)		-10
D.	A* objA = new B(5)		0
E.	B* objB = new B(6, 8)		20
F.	C* objC = new B(7)		-10
G.	A* objA = new B(5, 10)		20
H.	B* objB = new B(6, 8)		20
I.	A* objC = new C(7, 9, 8)		20
	Общий отзыв к вопросу:		
	Для любого правильного ответа:	Ваш ответ верный.	
	Для любого неправильного ответа:	Ваш ответ неправильный.	
	Для любого частично правильного ответа:	Ваш ответ частично правильный.	
	Подсказка 1:		
	Показать количество правильных ответов (Подсказка 1):	Нет	
	Удалить некорректные ответы (Подсказка 1):	Нет	

<p>Дана система классов. Какие операторы допустимы? Выберите один или несколько ответов.</p> <pre> class A { int a; public: A(int x) : a(x) {} }; class B : public A { int b; public: B(int x, int y) : A(x), b(y) {} }; class C : public B { int c; public: C(int x, int y, int z): B(x, y) { c = z; } }; </pre>			МА
Балл по умолчанию:			1
Случайный порядок ответов			Да
Нумеровать варианты ответов?			0
Показать количество правильных ответов после окончания:			Да
Штраф за каждую неправильную попытку:			33.3
ID-номер:			
#	Ответы	Отзыв	Оценка
	Теги:		
<p><i>Позволяет выбирать один или несколько правильных ответов из заданного списка. (MC/MA)</i></p>			

2) открытые задания (тестовые, повышенный уровень сложности):

Конструкторы

Дан класс. Написать для него конструктор копирования. <pre> class A { int x, *y; public: A(int _x, int _y) { x = _x; y = new int(x); } }; </pre>		ES
Балл по умолчанию:		1
Формат ответа:		Обыч- ный текст
Требовать текст:		Да
Размер поля:		10
Разрешить вложения:		0
Требуемое число вложений:		0
Разрешенные типы файлов:		
ID-номер:		
Шаблон ответа	Информация для оценивающих	
Общий отзыв к вопросу:		
Теги:		
<i>Допускает в ответе загрузить файл и/или ввести текст. Ответ должен быть оценен преподавателем вручную.</i>		

Написать конструктор копирования

Дан класс с полями: <pre>int n; int *arr;</pre> где <i>arr</i> - одномерный массив из <i>n</i> элементов. Написать для него конструктор копирования.		ES
Балл по умолчанию:		1
Формат ответа:		Обыч- ный текст
Требовать текст:		Да
Размер поля:		15
Разрешить вложения:		0
Требуемое число вложений:		0
Разрешенные типы файлов:		
ID-номер:		
	Шаблон ответа	Информация для оценивающих
	Общий отзыв к вопросу:	
	Теги:	
<i>Допускает в ответе загрузить файл и/или ввести текст. Ответ должен быть оценен преподавателем вручную.</i>		

Написать конструктор копирования

Дан класс с полями: int n; int *a; где a - указатель на целое. Написать для него конструктор копирования.		ES
Балл по умолчанию:		1
Формат ответа:		HTML-редактор
Требовать текст:		Да
Размер поля:		15
Разрешить вложения:		0
Требуемое число вложений:		0
Разрешенные типы файлов:		
ID-номер:		
	Шаблон ответа	Информация для оценивающих
	Общий отзыв к вопросу:	
	Теги:	
<i>Допускает в ответе загрузить файл и/или ввести текст. Ответ должен быть оценен преподавателем вручную.</i>		

Б1.О.27 Архитектура компьютеров

1) закрытые задания (тестовые, средний уровень сложности):

1. Действие полевого транзистора основано на движении зарядов
 - а. обоих знаков,
 - б. одного знака. (*)
2. Полевые транзисторы с изолированным затвором обозначаются как
 - а. МДП или МОП, (*)
 - б. ПЭТ КТ,
 - в. КТ,
 - г. КТ А.
3. В зависимости от знака и величины внешнего напряжения поверхностная проводимость МДП структуры может
 - а. уменьшаться, увеличиваться, менять знак носителей заряда, (*)
 - б. уменьшаться,
 - в. увеличиваться,
 - г. менять знак носителей заряда.
4. Отметьте варианты применения ПЗС (приборы с зарядовой связью)
 - а. регистр сдвига, (*)
 - б. модуль управления,
 - в. силовая линия,
 - г. оптическая матрица. (*)

5. Укажите соответствующую функциональную зависимость, которая определяет Цифровой автомат (а) и комбинационную схему (б).

$$K_t = \psi(Q_t, M_t),$$

а. $Q_{t+1} = \varphi(Q_t, M_t).$

б. $K_t = \psi(M_t).$

6. Какую логическую функцию реализует транзисторный ключ?

а. НЕ, (*)

б. И,

в. ИЛИ,

г. ИЛИ-НЕ,

д. И-НЕ.

7. Укажите примеры элементов ЭВМ

а. Логическая схема реализующая функцию И, (*)

б. Т-триггер, (*)

в. Мультиплексор, (*)

г. АЛУ.

8. Операция умножения, производимая арифметическим устройством процессора, представляет собой

а. Операции сдвига вправо и сложения, (*)

б. Операции сдвига влево и вычитание.

2) открытые задания (тестовые, повышенный уровень сложности):

1. Асинхронный RS триггер, назначение выводов R (б) и S (а)?

а. Перевод в 1 состояние, режим хранения 1.

б. Перевод в состояние хранения 0.

Б1.О.28 Базы данных

1) закрытые задания (тестовые, средний уровень сложности):

Агрегированная и неагрегированная информация

Какой из приведенных запросов содержит ошибку?			MC
Балл по умолчанию:			1
Случайный порядок ответов			Да
Нумеровать варианты ответов?			0
Штраф за каждую неправильную попытку:			33.3
ID-номер:			
#	Ответы	Отзыв	Оценка
A.	SELECT MAX(T1.C1), MIN(T1.C1), COUNT(*) FROM T1;		0
B.	SELECT T1.C1, COUNT(*) FROM T1;		100
C.	SELECT T1.C1, COUNT(*) FROM T1 GROUP BY T1.C1;		0
Общий отзыв к вопросу:			
Для любого правильного ответа:		Ваш ответ верный.	
Для любого неправильного ответа:		Ваш ответ неправильный.	
Подсказка 1:			
Показать количество правильных ответов (Подсказка 1):		Нет	
Удалить некорректные ответы (Подсказка 1):		Нет	
Теги:			
<i>Позволяет выбирать один или несколько правильных ответов из заданного списка. (MC/MA)</i>			

Запрос с агрегацией

Сколько строк может вернуть запрос типа SELECT COUNT(*) FROM T WHERE <условие>, если таблица T содержит X строк?			MC
Балл по умолчанию:			1
Случайный порядок ответов			Да
Нумеровать варианты ответов?			0
Штраф за каждую неправильную попытку:			33.3
ID-номер:			
#	Ответы	Отзыв	Оценка
A.	Всегда одну		100
B.	От 0 до X		0
C.	0 или одну		0
	Общий отзыв к вопросу:		
	Для любого правильного ответа:	Ваш ответ верный.	
	Для любого неправильного ответа:	Ваш ответ неправильный.	
	Подсказка 1:		
	Показать количество правильных ответов (Подсказка 1):	Нет	
	Удалить некорректные ответы (Подсказка 1):	Нет	
	Теги:		
<i>Позволяет выбирать один или несколько правильных ответов из заданного списка. (MC/MA)</i>			

Коррелированный подзапрос

Какой из приведенных запросов содержит коррелированный подзапрос?			MC
Балл по умолчанию:			1
Случайный порядок ответов			Да
Нумеровать варианты ответов?			0
Штраф за каждую неправильную попытку:			33.3
ID-номер:			
#	Ответы	Отзыв	Оценка
A.	SELECT T1.ID FROM T1 WHERE T1.C1 IN (SELECT T2.C2 FROM T2);		0
B.	SELECT T1.ID FROM T1 WHERE EXISTS (SELECT * FROM T2 WHERE T1.C1 = T2.C2);		100
C.	SELECT ID FROM (SELECT ID, C1 FROM T1), (SELECT C2 FROM T2) WHERE C1=C2;		0
Общий отзыв к вопросу:			
Для любого правильного ответа:		Ваш ответ верный.	
Для любого неправильного ответа:		Ваш ответ неправильный.	
Подсказка 1:			
Показать количество правильных ответов (Подсказка 1):		Нет	
Удалить некорректные ответы (Подсказка 1):		Нет	
Теги:			
Позволяет выбирать один или несколько правильных ответов из заданного списка. (MC/MA)			

Псевдонимы для таблиц

В таблице T есть столбец C типа INT. Какой из приведенных запросов содержит ошибку?			MC
Балл по умолчанию:			1
Случайный порядок ответов			Да
Нумеровать варианты ответов?			0
Штраф за каждую неправильную попытку:			33.3
ID-номер:			
#	Ответы	Отзыв	Оценка
A.	SELECT C FROM T AS T1 WHERE C > 0;		0
B.	SELECT T1.C FROM T AS T1 WHERE T1.C > 0;		0
C.	SELECT T.C FROM T AS T1 WHERE T.C > 0;		100
Общий отзыв к вопросу:			
Для любого правильного ответа:		Ваш ответ верный.	
Для любого неправильного ответа:		Ваш ответ неправильный.	
Подсказка 1:			
Показать количество правильных ответов (Подсказка 1):		Нет	
Удалить некорректные ответы (Подсказка 1):		Нет	
Теги:			
<i>Позволяет выбирать один или несколько правильных ответов из заданного списка. (MC/MA)</i>			

2) открытые задания (тестовые, повышенный уровень сложности):

Добавление строк

С какого ключевого слова начинаются в языке SQL команды добавления строк в таблицу?			SA
Балл по умолчанию:			1
Чувствительность к регистру:			Нет
Штраф за каждую неправильную попытку:			33.3
ID-номер:			
	Ответы	Отзыв	Оценка
	INSERT		100
	Общий отзыв к вопросу:		
	Подсказка 1:		
	Теги:		
<p><i>Вам необходимо указать хотя бы один возможный ответ. Пустые ответы не будут использоваться. Символ «*» можно использовать в качестве шаблона, соответствующего любым символам. Первый подходящий ответ будет использоваться для определения оценки и отзыва.</i></p>			

Изменение полей строк

С какого ключевого слова начинаются в языке SQL команды изменения значений полей строк таблицы?			SA
Балл по умолчанию:			1
Чувствительность к регистру:			Нет
Штраф за каждую неправильную попытку:			33.3
ID-номер:			
	Ответы	Отзыв	Оценка
	UPDATE		100
	Общий отзыв к вопросу:		
	Подсказка 1:		
	Теги:		
<p><i>Вам необходимо указать хотя бы один возможный ответ. Пустые ответы не будут использоваться. Символ «*» можно использовать в качестве шаблона, соответствующего любым символам. Первый подходящий ответ будет использоваться для определения оценки и отзыва.</i></p>			

Удаление строк

С какого ключевого слова начинаются в языке SQL команды удаления строк из таблицы?			SA
Балл по умолчанию:			1
Чувствительность к регистру:			Нет
Штраф за каждую неправильную попытку:			33.3
ID-номер:			
	Ответы	Отзыв	Оценка
	DELETE		100
	Общий отзыв к вопросу:		
	Подсказка 1:		
	Теги:		
<p><i>Вам необходимо указать хотя бы один возможный ответ. Пустые ответы не будут использоваться. Символ «*» можно использовать в качестве шаблона, соответствующего любым символам. Первый подходящий ответ будет использоваться для определения оценки и отзыва.</i></p>			

Б1.О.29 Операционные системы

- 1) закрытые задания (тестовые, средний уровень сложности):

1

Как называется файл, содержащий список имен файлов и информацию об их размещении в системе?			MC
Балл по умолчанию:			1
Случайный порядок ответов:			Да
Нумеровать варианты ответов?			0
Штраф за каждую неправильную попытку:			33.3
ID-номер:			
#	Ответы	Отзыв	Оценка
A.	Ссылка		0
B.	База данных		0
C.	Директория		100
Общий отзыв к вопросу:			
Для любого правильного ответа:		Ваш ответ верный.	
Для любого неправильного ответа:		Ваш ответ неправильный.	
Подсказка 1:			
Показать количество правильных ответов (Подсказка 1):		Нет	
Удалить некорректные ответы (Подсказка 1):		Нет	
Теги:			
<i>Позволяет выбирать один или несколько правильных ответов из заданного списка. (MC/MA)</i>			

2

Могут ли два файла, содержащие один и тот же набор данных, физически занимать разное количество места на носителе информации?			MC
Балл по умолчанию:			1
Случайный порядок ответов:			Да
Нумеровать варианты ответов?			0
Штраф за каждую неправильную попытку:			33.3
ID-номер:			
#	Ответы	Отзыв	Оценка
A.	Нет		0
B.	Да		100
	Общий отзыв к вопросу:		
	Для любого правильного ответа:	Ваш ответ верный.	
	Для любого неправильного ответа:	Ваш ответ неправильный.	
	Подсказка 1:		
	Показать количество правильных ответов (Подсказка 1):	Нет	
	Удалить некорректные ответы (Подсказка 1):	Нет	
	Теги:		
<i>Позволяет выбирать один или несколько правильных ответов из заданного списка. (MC/MA)</i>			

3

Запись в директории, содержащая путь к некоторому файлу, является для этого файла его			MC
Балл по умолчанию:			1
Случайный порядок ответов			Да
Нумеровать варианты ответов?			0
Штраф за каждую неправильную попытку:			33.3
ID-номер:			
#	Ответы	Отзыв	Оценка
A.	жесткой ссылкой		0
B.	символической ссылкой		100
	Общий отзыв к вопросу:		
	Для любого правильного ответа:	Ваш ответ верный.	
	Для любого неправильного ответа:	Ваш ответ неправильный.	
	Подсказка 1:		
	Показать количество правильных ответов (Подсказка 1):	Нет	
	Удалить некорректные ответы (Подсказка 1):	Нет	
	Теги:		
<i>Позволяет выбирать один или несколько правильных ответов из заданного списка. (MC/MA)</i>			

4

Ярлык на каталог в операционной системе MS Windows представляет собой			MC
Балл по умолчанию:			1
Случайный порядок ответов			Да
Нумеровать варианты ответов?			0
Штраф за каждую неправильную попытку:			33.3
ID-номер:			
#	Ответы	Отзыв	Оценка
A.	жесткую ссылку на исходный каталог		0
B.	логический диск		0
C.	символическую ссылку на исходный каталог		100
Общий отзыв к вопросу:			
Для любого правильного ответа:		Ваш ответ верный.	
Для любого неправильного ответа:		Ваш ответ неправильный.	
Подсказка 1:			
Показать количество правильных ответов (Подсказка 1):		Нет	
Удалить некорректные ответы (Подсказка 1):		Нет	
Теги:			
Позволяет выбирать один или несколько правильных ответов из заданного списка. (MC/MA)			

2) открытые задания (тестовые, повышенный уровень сложности):

1

Чему равен размеров регистров процессора?		ES
Балл по умолчанию:		1
Формат ответа:		HTML-редактор
Требовать текст:		Да
Размер поля:		5
Разрешить вложения:		0
Требуемое число вложений:		0
Разрешенные типы файлов:		
ID-номер:		
	Шаблон ответа	Информация для оценивающих
		размер (объем) регистра равен разрядности процессора - количеству бит, которое может одновременно обрабатывать процессор
	Общий отзыв к вопросу:	
	Теги:	
<i>Допускает в ответе загрузить файл и/или ввести текст. Ответ должен быть оценен преподавателем вручную.</i>		

2

Для чего используется механизм кэширования при обмене информацией между процессором и оперативной памятью?		ES
Балл по умолчанию:		1
Формат ответа:		HTML-редактор
Требовать текст:		Да
Размер поля:		5
Разрешить вложения:		0
Требуемое число вложений:		0
Разрешенные типы файлов:		
ID-номер:		
	Шаблон ответа	Информация для оценивающих
		для того, чтобы минимизировать задержки в работе как процессора, так и оперативной памяти, работающих с различными (отличающимися на порядки) скоростями
	Общий отзыв к вопросу:	
	Теги:	
<i>Допускает в ответе загрузить файл и/или ввести текст. Ответ должен быть оценен преподавателем вручную.</i>		

3

Чем отличаются аббревиатуры PID и PPID в операционных системах семейства UNIX/Linux?		ES
Балл по умолчанию:		1
Формат ответа:		HTML-редактор
Требовать текст:		Да
Размер поля:		5
Разрешить вложения:		0
Требуемое число вложений:		0
Разрешенные типы файлов:		
ID-номер:		
	Шаблон ответа	Информация для оценивающих
		PID (идентификатор текущего процесса), PPID (идентификатор родительского процесса для текущего процесса)
	Общий отзыв к вопросу:	
	Теги:	
<i>Допускает в ответе загрузить файл и/или ввести текст. Ответ должен быть оценен преподавателем вручную.</i>		

Б1.О.30 Компьютерные сети

1) закрытые задания (тестовые, средний уровень сложности):

1. Модуль, предназначенный для формирования и передачи сообщений-запросов к ресурсам удаленного компьютера от разных приложений с последующим приемом результатов из сети и передачей их соответствующим приложениям носит название:

- 1 Сервер
- 2 Драйвер
- 3 Клиент
- 4 Сокет

2. Компьютер с установленной на нем серверной ОС, занимающийся исключительно обслуживанием запросов других компьютеров, носит название:

- 1 Выделенный сервер
- 2 Выделенный клиент
- 3 Клиент-сервер
- 4 Кластер

3. Сетевое приложение, состоящее из нескольких взаимодействующих частей, каждая из которых выполняет какую-то определенную законченную работу по решению прикладной задачи, причем каждая часть может выполняться на отдельном компьютере сети, носит название:

- 1 Удаленное приложение
- 2 Распределенное приложение
- 3 Выделенное приложение
- 4 Клиентское приложение

4. Поток данных, поступающий от пользователя на вход сети, носит название:

- 1 Полоса пропускания
- 2 Пропускная способность
- 3 Емкость канала связи
- 4 Предложенная нагрузка

5. Канал данных, обеспечивающий передачу данных в двух направлениях одновременно, носит название:

- 1 Дуплексный канал
- 2 Симплексный канал
- 3 Полудуплексный канал
- 4 Мультиплексный канал

6. Множество всех адресов, которые являются допустимыми в рамках некоторой схемы адресации, носит название:

- 1 Список адресов
- 2 Пространство маршрутизации
- 3 Адресное пространство
- 4 Список идентификаторов

7. Процедура согласования двумя конечными узлами сети некоторых параметров процесса обмена пакетами, носит название:

- 1 Установление логического соединения
- 2 Коммутация
- 3 Создание элементарного канала
- 4 Маршрутизация

8. Укажите способы мультиплексирования.

- 1 Демультимплексирование
- 2 Разделение времени, частотное разделение канала
- 3 Маршрутизация

9. Стандартная форма записи MAC-адреса имеет следующий вид:

- 1 6 пар шестнадцатеричных цифр, разделенных дефисами или двоеточиями
- 2 4 пары значений от 0 до 255, разделенных точками
- 3 В виде нескольких символьных имен, разделенными точками, слева направо по возрастанию уровня иерархии
- 4 4 пары шестнадцатеричных цифр, разделенных точками

10. IP-адрес согласно протоколу IPv4 записывается в следующей форме:

- 1 6 пар шестнадцатеричных цифр, разделенных дефисами или двоеточиями
- 2 4 пары десятичных чисел от 0 до 255, разделенных точками
- 3 В виде нескольких символьных имен, разделенными точками, слева направо по возрастанию уровня иерархии
- 4 4 пары десятичных чисел от 0 до 65535, разделенных точками

2) открытые задания (тестовые, повышенный уровень сложности):

1. Протокол UDP стека TCP/IP работает на ... уровне сетевой модели:

Ответ: Транспортном

2. Как называется разделение суммарного потока на несколько составляющих его потоков.

Ответ: Демультимплексирование

3. Как называется образование из нескольких отдельных потоков общего агрегированного потока, который передается по одному физическому каналу связи.

Ответ: Мультимплексирование/агрегирование.

Б1.О.31 Информационная безопасность и защита информации

1) закрытые задания (тестовые, средний уровень сложности):

1. Укажите правильный вариант

... – получение защищаемой информации заинтересованным субъектом с нарушением правил доступа к ней.

– Распространение

+ Несанкционированный доступ

– Получение информации разведками

– Незаконное подключение

2. Установите соответствие

1. свойство информации, характеризующееся способностью обеспечивать беспрепятственный доступ к информации субъектов, имеющих на это надлежащие полномочия.

2. свойство информации, характеризующееся способностью противостоять несанкционированному или непреднамеренному уничтожению и искажению информации.

3. свойство информации, характеризующееся способностью информации сохраняться в тайне от субъектов, у которых нет полномочий на право ознакомления с ней.

Ответы

1. Доступность

2. Конфиденциальность

3. Целостность

Ответ: 1-1, 2-3, 3-2

3. ... защиты информации – это инструменты, устройства, программы, законы и др., реализующие защиту данных определенным методом.

+ Средства

– Процедуры

– Методы

4. ... средства – средства защиты, непосредственно входящие в состав аппаратуры компьютерной системы.

+ Аппаратные

– Физические

– Криптографические

5. Существует ... классов защищенности автоматизированных систем от несанкционированного доступа.

- + 9
- 7
- 3

6. ... сообщение – сообщение, текст которого необходимо сделать непонятным для посторонних.

- + Исходное
- Переданное
- Входящее

7. Совокупность обратимых преобразований множества возможных открытых данных во множество возможных шифротекстов, осуществляемых по определенным правилам с применением ключей.

- + Шифр
- Шифрование
- Криптограмма

2) открытые задания (тестовые, повышенный уровень сложности):

1. Дополните

Все субъекты и объекты КС однозначно идентифицированы; любой объект КС имеет пользователя-владельца; владелец объекта обладает правом определения прав доступа к объекту со стороны любых субъектов КС; в КС должен существовать привилегированный пользователь – администратор. Это ... управление доступом.

+ дискреционное

2. Дополните

... - потенциальная возможность несанкционированного доступа, которая обусловлена архитектурой, технологической схемой функционирования компьютерной системы, а также существующей организацией работы с данными.

+ Каналы утечки

Б1.О.32 Компьютерная графика

1) закрытые задания (тестовые, средний уровень сложности):

1. Какому аффинному преобразованию соответствует матрица с коэффициентами

$$A[1,1] = 1; A[1,2] = 0; A[1,3] = 0; A[1,4] = 0;$$

$$A[2,1] = 0; A[2,2] = -1; A[2,3] = 0; A[2,4] = 0;$$

$$A[3,1] = 0; A[3,2] = 0; A[3,3] = 1; A[3,4] = 0;$$

$$A[4,1] = 0; A[4,2] = 0; A[4,3] = 0; A[4,4] = 1?$$

Предполагается, что при умножении данной матрицы на вектор-столбец однородных координат исходной точки получается вектор-столбец однородных координат преобразованной точки.

- а) отражение относительно координатной плоскости ОХУ;
- б) отражение относительно координатной плоскости ОУZ;
- в) отражение относительно координатной плоскости ОZХ;
- г) отражение относительно оси абсцисс;

- д) отражение относительно оси ординат;
- е) отражение относительно оси аппликат;
- ж) отражение относительно начала координат;
- з) тождественное аффинное преобразование.

Ответ: в)

2. Какому аффинному преобразованию соответствует матрица с коэффициентами

$$A[1,1] = 1; A[1,2] = 0; A[1,3] = 0; A[1,4] = 0;$$

$$A[2,1] = 0; A[2,2] = 1; A[2,3] = 0; A[2,4] = 0;$$

$$A[3,1] = 0; A[3,2] = 0; A[3,3] = -1; A[3,4] = 0;$$

$$A[4,1] = 0; A[4,2] = 0; A[4,3] = 0; A[4,4] = 1?$$

Предполагается, что при умножении данной матрицы на вектор-столбец однородных координат исходной точки получается вектор-столбец однородных координат преобразованной точки.

- а) отражение относительно координатной плоскости OXY;
- б) отражение относительно координатной плоскости OYZ;
- в) отражение относительно координатной плоскости OZX;
- г) отражение относительно оси абсцисс;
- д) отражение относительно оси ординат;
- е) отражение относительно оси аппликат;
- ж) отражение относительно начала координат;
- з) тождественное аффинное преобразование.

Ответ: а)

3. Какому аффинному преобразованию соответствует матрица с коэффициентами

$$A[1,1] = 1; A[1,2] = 0; A[1,3] = 0; A[1,4] = 0;$$

$$A[2,1] = 0; A[2,2] = -1; A[2,3] = 0; A[2,4] = 0;$$

$$A[3,1] = 0; A[3,2] = 0; A[3,3] = -1; A[3,4] = 0;$$

$$A[4,1] = 0; A[4,2] = 0; A[4,3] = 0; A[4,4] = 1?$$

Предполагается, что при умножении данной матрицы на вектор-столбец однородных координат исходной точки получается вектор-столбец однородных координат преобразованной точки.

- а) отражение относительно координатной плоскости OXY;
- б) отражение относительно координатной плоскости OYZ;
- в) отражение относительно координатной плоскости OZX;
- г) отражение относительно оси абсцисс;
- д) отражение относительно оси ординат;
- е) отражение относительно оси аппликат;
- ж) отражение относительно начала координат;
- з) тождественное аффинное преобразование.

Ответ: г)

4. Какому аффинному преобразованию соответствует матрица с коэффициентами

$$A[1,1] = -1; A[1,2] = 0; A[1,3] = 0; A[1,4] = 0;$$

$$A[2,1] = 0; A[2,2] = 1; A[2,3] = 0; A[2,4] = 0;$$

$$A[3,1] = 0; A[3,2] = 0; A[3,3] = -1; A[3,4] = 0;$$

$$A[4,1] = 0; A[4,2] = 0; A[4,3] = 0; A[4,4] = 1?$$

Предполагается, что при умножении данной матрицы на вектор-столбец однородных координат исходной точки получается вектор-столбец однородных координат преобразованной точки.

- а) отражение относительно координатной плоскости OXY ;
- б) отражение относительно координатной плоскости OYZ ;
- в) отражение относительно координатной плоскости OZX ;
- г) отражение относительно оси абсцисс;
- д) отражение относительно оси ординат;
- е) отражение относительно оси аппликат;
- ж) отражение относительно начала координат;
- з) тождественное аффинное преобразование.

Ответ: д)

5. Какому аффинному преобразованию соответствует матрица с коэффициентами

$$A[1,1] = -1; A[1,2] = 0; A[1,3] = 0; A[1,4] = 0;$$

$$A[2,1] = 0; A[2,2] = -1; A[2,3] = 0; A[2,4] = 0;$$

$$A[3,1] = 0; A[3,2] = 0; A[3,3] = 1; A[3,4] = 0;$$

$$A[4,1] = 0; A[4,2] = 0; A[4,3] = 0; A[4,4] = 1?$$

Предполагается, что при умножении данной матрицы на вектор-столбец однородных координат исходной точки получается вектор-столбец однородных координат преобразованной точки.

- а) отражение относительно координатной плоскости OXY ;
- б) отражение относительно координатной плоскости OYZ ;
- в) отражение относительно координатной плоскости OZX ;
- г) отражение относительно оси абсцисс;
- д) отражение относительно оси ординат;
- е) отражение относительно оси аппликат;
- ж) отражение относительно начала координат;
- з) тождественное аффинное преобразование.

Ответ: е)

6. Какому аффинному преобразованию соответствует матрица с коэффициентами

$$A[1,1] = -1; A[1,2] = 0; A[1,3] = 0; A[1,4] = 0;$$

$$A[2,1] = 0; A[2,2] = -1; A[2,3] = 0; A[2,4] = 0;$$

$$A[3,1] = 0; A[3,2] = 0; A[3,3] = -1; A[3,4] = 0;$$

$$A[4,1] = 0; A[4,2] = 0; A[4,3] = 0; A[4,4] = 1?$$

Предполагается, что при умножении данной матрицы на вектор-столбец однородных координат исходной точки получается вектор-столбец однородных координат преобразованной точки.

- а) отражение относительно координатной плоскости OXY ;
- б) отражение относительно координатной плоскости OYZ ;
- в) отражение относительно координатной плоскости OZX ;
- г) отражение относительно оси абсцисс;
- д) отражение относительно оси ординат;

- е) отражение относительно оси аппликат;
- ж) отражение относительно начала координат;
- з) тождественное аффинное преобразование.

Ответ: ж)

7. При перспективном проецировании объекты сцены, которые находятся ближе к наблюдателю, кажутся

- а) более крупными;
- б) более мелкими;
- в) объекты не изменяют видимый размер в зависимости от расстояния.

Ответ: а)

8. При ортогональном проецировании объекты сцены, которые находятся ближе к наблюдателю, кажутся

- а) более крупными;
- б) более мелкими;
- в) объекты не изменяют видимый размер в зависимости от расстояния.

Ответ: в)

9. Чтобы задать трёхмерную каркасную модель, необходимо определить:

- а) матрицу (либо список) вершин;
- б) матрицу (либо список) рёбер;
- в) матрицу (либо список) вершин и матрицу (либо список) рёбер;
- г) матрицу (либо список) вершин и матрицу (либо список) граней;

Ответ: в)

10. Чтобы задать трёхмерную полигональную модель, необходимо определить:

- а) матрицу (либо список) вершин;
- б) матрицу (либо список) рёбер;
- в) матрицу (либо список) вершин и матрицу (либо список) рёбер;
- г) матрицу (либо список) вершин и матрицу (либо список) граней;

Ответ: г)

11. К числу недостатков полигональных моделей относятся:

- а) значительная погрешность при моделировании поверхностей сложной формы;
- б) слишком большой объем данных для описания простых поверхностей;
- в) полное отсутствие аппаратной поддержки операций.

Ответ: а)

12. Какой из перечисленных примитивов не входит в число примитивов полигональных моделей?

- а) вершина;

- б) полигональная поверхность;
- в) гладкая кривая.

Ответ: в)

13. С помощью чего аппроксимируются сложные поверхности в полигональных моделях?

- а) с помощью многогранников с плоскими гранями;
- б) с помощью фрагментов сфер;
- в) с помощью фрагментов цилиндров.

Ответ: а)

14. К числу задач трёхмерного моделирования не относится:

- а) описание объектов сцены (трёхмерных моделей, материалов, источников света и камер);
- б) размещение всех созданных объектов в сцене с помощью геометрических преобразований в соответствии с требованиями к будущему изображению;
- в) визуализация (рендеринг) сцены в соответствии с выбранной физической моделью;
- г) все перечисленные выше пункты относятся к задачам трёхмерного моделирования.

Ответ: г)

2) открытые задания (тестовые, повышенный уровень сложности):

1. Алгоритм Брезенхэма планировался и разрабатывался с целью устранения недостатков алгоритма цифрового дифференциального анализатора. В чём является ключевое отличие алгоритма Брезенхэма от алгоритма цифрового дифференциального анализатора

Ответ: использование целочисленной арифметики.

2. Как называется трёхмерная модель, представляющая собой конструкцию, заданную матрицами (либо списками) вершин и рёбер?

Ответ: каркасная модель.

3. Как называется трёхмерная модель, представляющая собой многогранник, заданный матрицами (либо списками) вершин и граней?

Ответ: полигональная модель.

ПК-1. Способен проводить работы по обработке и анализу научно-технической информации и результатов исследований

Период окончания формирования компетенции: 8 семестр

Перечень дисциплин (модулей), практик, участвующих в формировании компетенции:

Дисциплины (модули):

Б1.В.02 Анализ данных (5 семестр)

Б1.В.03 Машинное обучение (6 семестр)

Б2.О.03(П) Производственная практика (научно-исследовательская работа) (7, 8 семестры)

Б1.В.02 Анализ данных

1) закрытые задания (тестовые, средний уровень сложности):

1. Основная гипотеза t-теста для зависимых выборок при обработке информации о значениях некоторого показателя до и после воздействия на анализируемые объекты формулируется как:

A. Нет эффекта воздействия - средние значения генеральных совокупностей, из которых получены две анализируемые зависимые выборки, равны.

B. Нет эффекта воздействия - дисперсии генеральных совокупностей, из которых получены две анализируемые зависимые выборки, равны.

C. Есть эффект воздействия - средние значения генеральных совокупностей, из которых получены две анализируемые зависимые выборки, не равны.

D. Есть эффект воздействия - дисперсии генеральных совокупностей, из которых получены две анализируемые зависимые выборки, не равны.

2. Таблицы сопряженности применяются для анализа информации, представленной в:

a. Интервальной шкале.

b. Категорированной (номинальной) шкале.

c. Шкале отношений.

d. Интервальной шкале и шкале отношений.

3. Регрессионный анализ в процессе обработки информации применяется для:

a. Выявления зависимости некоторого количественного показателя (отклика) от одного или нескольких показателей (предикторов).

b. Выявления зависимости между качественными показателями.

c. Выявления причинно-следственных связей между качественными показателями.

d. Сокращения размерности пространства исследуемых показателей.

4. Коэффициент корреляции Спирмена в процессе обработки информации используется для:
- a. **Выявления меры зависимости между двумя показателями, выборки значений которых предварительно проранжированы.**
 - b. Выявления зависимости между двумя номинальными показателями.
 - c. Выявления меры нелинейной зависимости между двумя показателями.
 - d. Оценки качества нелинейного уравнения регрессии.
5. Под статистической гипотезой в процессе обработки информации понимается:
- a. **Предположение, связанное с вероятностным распределением некоторого показателя или показателей, которое исследователь собирается проверить в результате эксперимента.**
 - b. Предположение, которое исследователь собирается проверить в результате эксперимента.
 - c. Предположение о сценариях развития событий в будущем.
 - d. Предположение о значениях некоторой ненаблюдаемой переменной в прошлом.
6. Ошибкой первого рода при работе со статистической гипотезой в процессе обработки информации считается:
- a. Ошибка принять гипотезу, если на самом деле она не верна.
 - b. **Ошибка отвергнуть гипотезу, если на самом деле она верна.**
 - c. Ошибка использовать конкретный статистический критерий для проверки данной гипотезы.
 - d. Вычислительная ошибка при расчете статистики критерия.
7. Альтернативной гипотезой при проверке статистических гипотез в процессе обработки информации считается:
- a. **Предположение, которое принимается, если отклоняется гипотеза H_0 .**
 - b. Предположение, которое оказывается однозначно истинным, если отвергается гипотеза H_0 .
 - c. Предположение, при котором вероятность попадания статистики критерия в критическую область равна 1.

- d. Предположение, при котором вероятность попадания статистики критерия в критическую область больше 0,9.

- 8. Ранговый дисперсионный анализ Краскела-Уоллиса в процессе анализа информации используется для:
 - a. Проверки влияния некоторого категоризованного показателя на некоторый признак, заданный в шкале отношений.**
 - b. Проверки влияния некоторого показателя, заданного в шкале отношений, на некоторый номинальный показатель.
 - c. Построение функции, описывающей влияния некоторого категоризованного показателя на некоторый признак, заданный в шкале отношений.
 - d. Построение функции, описывающей влияния некоторого показателя, заданного в шкале отношений, на некоторый номинальный показатель.

- 9. Дисперсионный анализ ANOVA в процессе анализа информации используется для оценки равенства:
 - a. Средних значений для двух или более выборок, полученных из нормальных генеральных совокупностей.**
 - b. Дисперсий для двух или более выборок, полученных из нормальных генеральных совокупностей.
 - c. Средних значений только для двух выборок, полученных из нормальных генеральных совокупностей.
 - d. Средних значений для двух или более выборок, полученных из произвольных генеральных совокупностей.

- 10. Дисперсионный анализ ANOVA в процессе анализа информации можно использовать для сравнения:
 - a. Двух или более независимых выборок.**
 - b. Двух или более зависимых выборок.
 - c. Только двух зависимых выборок.
 - d. Только двух независимых выборок.

- 11. Факторный анализ в процессе анализа информации позволяет:
 - a. Находить обобщенные, непосредственно не измеряемые показатели, которые определяют значения исходных измеряемых показателей.**

- b. Среди исходных показателей выделять показатели, имеющие высокую корреляцию с со всеми другими показателями.
- c. Находить обобщенные показатели, такие, что все исходные показатели выражаются в виде конкретных функций от данных обобщенных показателей.
- d. Находить один обобщенный, непосредственно не измеряемый показатель, который определяет значения исходных измеряемых показателей.

12. Под временным рядом в процессе анализа информации понимается:

- a. Ряд значений некоторого статистического показателя, взятых в хронологическом порядке времени.**
- b. Ряд значений некоторого показателя для совокупности объектов для одного момента времени.
- c. Функция от времени, описывающая значения некоторого детерминированного показателя.
- d. Функция от времени, описывающая значения некоторого стохастического показателя.

13. Модель экспоненциального сглаживания для временных рядов в процессе анализа информации используется для:

- a. Прогнозирования будущих значений временного ряда.**
- b. Выделения сезонной компоненты временного ряда.
- c. Выделения тренда временного ряда.
- d. Нахождения периода временного ряда.

2) открытые задания (тестовые, повышенный уровень сложности):

1. Компонента временного ряда, описывающая долговременную тенденцию его развития называется:

a. трендом.

2. При анализе информации о временных параметрах игроков некоторой игры за 2015-2016 годы выдвигается гипотеза:

H_0 : Среднее время игроков не изменилось.

H_1 : Среднее время игроков изменилось.

/Результаты t-теста для зависимых выборок приведены в таблице:
Определите, отвергается гипотеза H_0 (да или нет):

а. Да.

3. Применение факторного анализа при обработке многомерной информации направлено на *увеличение* или *сокращение* размерности признакового пространства (укажите: увеличение или сокращение)

а Сокращение

4. В методах кластеризации многомерных данных в качестве меры близости объектов используется метрика или коэффициент корреляции (укажите: метрика или коэффициент корреляции)

а. метрика

Б1.В.03 Машинное обучение

- 1) закрытые задания (тестовые, средний уровень сложности):

1. Что такое токенизация в машинном обучении?

- а) разбиение анализируемого текста на отдельные слова (или устойчивые сочетания слов)**
 б) формирование словаря на основе текстового корпуса
 в) алгоритм кодирования текстовых данных
 д) выделение основы слов

2. Что такое категориальный признак?

- а) любой числовой признак
 б) нечисловой признак, значения которого можно упорядочить
с) признак, значения которого берутся из некоторого конечного фиксированного набора
 д) текстовый признак

3. Выделяют такие этапы построения модели “мешок слов” (Выберите все подходящие ответы из списка)

- а) токенизация**
б) построение словаря
 в) моделирование тем
д) формирование разреженной матрицы
 е) лемматизация

4. Что такое лемматизация?

- а) мера оценки важности слова в контексте документа, являющегося частью текстового корпуса
б) процесс приведения слова к нормальной словарной форме
 в) процесс выделения основы слова
 д) числовое кодирование слов

5. К какому типу задач относится задача определения рейтинга фильма по текстам отзывов?

- а) задача регрессии**
 б) задача классификации
 в) задача анализа тональности

d) задача кластеризации

6. Из каких этапов состоит алгоритм построения дерева решений (Выберите все подходящие ответы из списка)?

- a) **Выбор критерия точности прогноза**
- b) **Выбор критерия ветвления**
- c) **Выбор критерия прекращения ветвлений (останова)**
- d) **Определение "подходящих" размеров дерева (обрезка)**
- e) Выбор структуры дерева

7. Что такое бэггинг?

- a) один из методов регуляризации в задачах машинного обучения
- b) процедура последовательного построения композиции алгоритмов машинного обучения, когда каждый следующий алгоритм стремится компенсировать недостатки композиции всех предыдущих алгоритмов.
- c) **процедура независимого построения композиции алгоритмов машинного обучения.**
- d) метод получения векторного представления текстовых данных

8. С помощью метода деревьев решений возможно решение задач:

- a) только регрессии
- b) **классификации и регрессии**
- c) только классификации
- d) только кластеризации

9. Что такое AUC-ROC (Выберите все подходящие ответы из списка)?

- a) **агрегированная характеристика качества бинарной классификации**
- b) **площадь под ROC-кривой**
- c) дисперсия ошибки регрессионной модели
- d) критерий ветвления в алгоритме построения дерева решений
- e) **метрика точности в задачах машинного обучения**

10. Обучающая выборка — это...

- a) группировка объектов на основе данных, описывающих свойства объектов
- b) **набор данных, каждая запись которого представляет собой учебный пример, содержащий заданное входное влияние, и соответствующий ему правильный выходной результат**
- c) выявление в сырых данных ранее неизвестных, нетривиальных, практически полезных и доступных интерпретации знаний, необходимых для принятия решений в различных сферах человеческой деятельности
- d) набор данных для тестирования модели

11. Классификация – это ..

- a) **отнесение объектов к одному из заранее известных классов**
- b) процесс формирования классов и отнесения объектов к одному из них
- c) отнесение объектов к одному из заранее неизвестных классов
- d) поиск кластеров в данных

12. При решении задачи регрессии ищут..

- a) правила или набор правил в соответствии с которыми любой новый объект можно отнести к одному из классов;
- b) **функциональные зависимости, которые позволяют прогнозировать изменения непрерывных числовых параметров;**

- с) соотношения между зависимыми и независимыми показателями и переменными в наглядной и понятной человеку форме;

группы, на которые можно разделить объекты, данные о которых подвергаются анализу.

- 2) открытые задания (тестовые, повышенный уровень сложности):

1. Дана таблица, содержащая истинное значение целевого признака Y и предсказанное значение Y' . Значение ошибки MAE равно ...

Объект	Нецелевые признаки	Y	Y'
A	...	1	0
B	...	2	2
C	...	3	2
D	...	4	5
E	...	5	3

Ответ: 1

2. Чему равно значение функционала ошибки MAE для для обучающей выборки из трех примеров, если реальные выходы модели $Y = (0.1, 0.6, 0.8)$, а целевые (требуемые) выходы $D = (0, 0.5, 0.4)$? В ответе укажите $10 * MAE$.

Ответ: 2

3. Укажите максимально возможное значение метрики R^2

Ответ: 1

4. Чему равно значение ошибки MSE для выборки из двух обучающих векторов, если реальные выходы модели $Z = (z_1, z_2) = (0.27, 0.43)$, а целевые (правильные) выходы $Y = (y_1, y_2) = (0.29, 0.23)$? В ответе укажите $10000 * MSE$

Ответ: 202

5. Чему равно значение функционала ошибки MAE для для обучающей выборки из трех примеров, если реальные выходы модели $Y = (0.2, 0.5, 0.8)$, а целевые (требуемые) выходы $D = (0, 0.5, 0.7)$? В ответе укажите $10 * MAE$.

Ответ: 1

ПК-2. Способен подготовить элементы документации, проекты планов и программы проведения отдельных этапов работ

Период окончания формирования компетенции: 6 семестр

Перечень дисциплин (модулей), практик, участвующих в формировании компетенции:

Дисциплины (модули):

Б1.О.24 Информатика и программирование (1, 2 семестры)

Б1.В.03 Машинное обучение (6 семестр)

Б1.В.04 Теория игр и исследование операций (6 семестр)

Б1.В.06 Мягкие вычисления (6 семестр)

Б2.В.01(У) Учебная практика (технологическая) (6 семестр)**Б2.В.01(У) Учебная практика (технологическая)**

1) закрытые задания (тестовые, средний уровень сложности):

1. Word – это

- а) записная книжка
- б) табличный редактор
- в) текстовый редактор
- г) все, что перечислено

Ответ: в)

2. Как включить на клавиатуре все заглавные буквы?

- а) Alt + Ctrl
- б) Caps Lock
- в) Shift + Ctrl
- г) Shift + Ctrl + Alt

Ответ: б)

3. Сколько документов можно одновременно открыть в редакторе Word?

- а) Только один
- б) Не более трех
- в) Сколько необходимо
- г) Зависит от задач пользователя и ресурсов компьютера

Ответ: г)

Б1.О.24 Информатика и программирование

1) закрытые задания (тестовые, средний уровень сложности):

ПК-2 Б1.В.06 Вопрос 1

Укажите сформировавшиеся в практике программирования модели жизненного цикла программного продукта.			МА
Балл по умолчанию:			1
Случайный порядок ответов			Да
Нумеровать варианты ответов?			0
Показать количество правильных ответов после окончания:			Да
Штраф за каждую неправильную попытку:			33.3
ID-номер:			
#	Ответы	Отзыв	Оценка
A.	Каскадная модель		20
B.	Модифицированная водопадная модель		20
C.	V-образная модель		20
D.	Итеративная модель		20
E.	Инкрементная модель		20
F.	Декрементная модель		0
Общий отзыв к вопросу:			
Для любого правильного ответа:		Ваш ответ верный.	
Для любого неправильного ответа:		Ваш ответ неправильный.	
Для любого частично правильного ответа:		Ваш ответ частично правильный.	
Подсказка 1:			
Показать количество правильных ответов (Подсказка 1):		Нет	
Удалить некорректные ответы (Подсказка 1):		Нет	
Теги:			
<i>Позволяет выбирать один или несколько правильных ответов из заданного списка. (MC/MA)</i>			

ПК-2 Б1.В.06 Вопрос 2

Укажите, какие ресурсы при изучении научно-технических публикаций относятся к электронным формам?			МА
Балл по умолчанию:			1
Случайный порядок ответов			Да
Нумеровать варианты ответов?			0
Показать количество правильных ответов после окончания:			Да
Штраф за каждую неправильную попытку:			33.3
ID-номер:			
#	Ответы	Отзыв	Оценка
A.	Фактографические базы данных		33.3
B.	Библиографические базы данных		33.3
C.	Информационные сети		33.3
D.	Печатные периодические издания		0
E.	Монографии		0
Общий отзыв к вопросу:			
Для любого правильного ответа:		Ваш ответ верный.	
Для любого неправильного ответа:		Ваш ответ неправильный.	
Для любого частично правильного ответа:		Ваш ответ частично правильный.	
Подсказка 1:			
Показать количество правильных ответов (Подсказка 1):		Нет	
Удалить некорректные ответы (Подсказка 1):		Нет	
Теги:			
<i>Позволяет выбирать один или несколько правильных ответов из заданного списка. (МС/МА)</i>			

ПК-2 Б1.В.06 Вопрос 3

Назовите элементы модульного тестирования программного продукта (<i>выберите правильные ответы</i>):			МА
Балл по умолчанию:			1
Случайный порядок ответов			Да
Нумеровать варианты ответов?			0
Показать количество правильных ответов после окончания:			Да
Штраф за каждую неправильную попытку:			33.3
ID-номер:			
#	Ответы	Отзыв	Оценка
A.	синтаксическая проверка — проверка с использованием некоторого инструментального средства для выявления синтаксических ошибок в программном коде		33.3
B.	семантическая проверка – проверка алгоритмической правильности		0
C.	проверка соответствия стандартам кодирования — проверка кода на соответствие стандартам кодирования компании		33.3
D.	технический обзор программного кода		33.3
	Общий отзыв к вопросу:		
	Для любого правильного ответа:	Ваш ответ верный.	
	Для любого неправильного ответа:	Ваш ответ неправильный.	
	Для любого частично правильного ответа:	Ваш ответ частично правильный.	
	Подсказка 1:		
	Показать количество правильных ответов (Подсказка 1):	Нет	
	Удалить некорректные ответы (Подсказка 1):	Нет	
	Теги:		
<i>Позволяет выбирать один или несколько правильных ответов из заданного списка. (МС/МА)</i>			

ПК-2 Б1.В.06 Вопрос 4

Системное тестирование предназначено для проверки программной системы в целом, ее организации и функционирования на соответствие спецификациям требований заказчика. Назовите элементы системного тестирования (<i>выберите правильные ответы</i>):			МА
Балл по умолчанию:			1
Случайный порядок ответов			Да
Нумеровать варианты ответов?			0
Показать количество правильных ответов после окончания:			Да
Штраф за каждую неправильную попытку:			33.3
ID-номер:			
#	Ответы	Отзыв	Оценка
A.	граничное тестирование — тестирование в граничных условиях		25
B.	прогночное тестирование — тестирование всех функциональных характеристик реальной работы системы		25
C.	целевое тестирование — тестирование на целевой платформе (по возможности)		25
D.	проверка документации — проверка пользовательской документации на корректность		25
E.	другие тесты, определяемые тестировщиком		0
Общий отзыв к вопросу:			
Для любого правильного ответа:		Ваш ответ верный.	
Для любого неправильного ответа:		Ваш ответ неправильный.	
Для любого частично правильного ответа:		Ваш ответ частично правильный.	
Подсказка 1:			
Показать количество правильных ответов (Подсказка 1):		Нет	
Удалить некорректные ответы (Подсказка 1):		Нет	
Теги:			
Позволяет выбирать один или несколько правильных ответов из заданного списка. (МС/МА)			

ПК-2 Б1.В.06 Вопрос 5

Календарный план выполнения проекта включает следующие части:			МА
Балл по умолчанию:			1
Случайный порядок ответов			Да
Нумеровать варианты ответов?			0
Показать количество правильных ответов после окончания:			Да
Штраф за каждую неправильную попытку:			33.3
ID-номер:			
#	Ответы	Отзыв	Оценка
A.	этапы и сроки выполнения работ		25
B.	объем ресурсов, необходимых для выполнения работ		25
C.	объемы и сроки привлечения внешних ресурсов		25
D.	ключевые результаты каждого этапа выполнения работ		25
E.	список литературы		0
	Общий отзыв к вопросу:		
	Для любого правильного ответа:	Ваш ответ верный.	
	Для любого неправильного ответа:	Ваш ответ неправильный.	
	Для любого частично правильного ответа:	Ваш ответ частично правильный.	
	Подсказка 1:		
	Показать количество правильных ответов (Подсказка 1):	Нет	
	Удалить некорректные ответы (Подсказка 1):	Нет	
	Теги:		
<i>Позволяет выбирать один или несколько правильных ответов из заданного списка. (МС/МА)</i>			

ПК-2 Б1.В.06 Вопрос 7

Какие сервисы позволяют осуществлять проверку текстов на уникальность? <i>Укажите все правильные ответы.</i>			МА
Балл по умолчанию:			1
Случайный порядок ответов:			Да
Нумеровать варианты ответов?			0
Показать количество правильных ответов после окончания:			Да
Штраф за каждую неправильную попытку:			33.3
ID-номер:			
#	Ответы	Отзыв	Оценка
A.	Антиплагиат.Ру		25
B.	etreniki.ru		0
C.	Текст.Ру		25
D.	Плагиата.НЕТ		25
E.	Advego Plagiatus		25
F.	Rambler.ru		0
Общий отзыв к вопросу:			
Для любого правильного ответа:		Ваш ответ верный.	
Для любого неправильного ответа:		Ваш ответ неправильный.	
Для любого частично правильного ответа:		Ваш ответ частично правильный.	
Подсказка 1:			
Показать количество правильных ответов (Подсказка 1):		Нет	
Удалить некорректные ответы (Подсказка 1):		Нет	
Теги:			
<i>Позволяет выбирать один или несколько правильных ответов из заданного списка. (МС/МА)</i>			

ПК-2 Б1.В.06 Вопрос 8

Какие разделы может включать документ «Руководство пользователя» (выберите правильные ответы):			МА
Балл по умолчанию:			1
Случайный порядок ответов:			Да
Нумеровать варианты ответов?			0
Показать количество правильных ответов после окончания:			Да
Штраф за каждую неправильную попытку:			33.3
ID-номер:			
#	Ответы	Отзыв	Оценка
A.	Назначение программы		25
B.	Условия выполнения программы		25
C.	Выполнение программы		25
D.	Сообщения системному администратору		0
E.	Сообщения пользователю		25
Общий отзыв к вопросу:			
Для любого правильного ответа:		Ваш ответ верный.	
Для любого неправильного ответа:		Ваш ответ неправильный.	
Для любого частично правильного ответа:		Ваш ответ частично правильный.	
Подсказка 1:			
Показать количество правильных ответов (Подсказка 1):		Нет	
Удалить некорректные ответы (Подсказка 1):		Нет	
Теги:			
<i>Позволяет выбирать один или несколько правильных ответов из заданного списка. (МС/МА)</i>			

2) открытые задания (тестовые, повышенный уровень сложности):

Опишите только переменные и функции, что нужны для решения текущей задачи

<p>Дана строка из нескольких слов. Слова отделяются друг от друга пробелами или запятыми. Подсчитать количество слов начинающихся и заканчивающихся одной и той же буквой.</p> <p><i>Опишите только переменные и функции, что нужны для решения текущей задачи.</i></p>		ES
Балл по умолчанию:		1
Формат ответа:		Обычный текст
Требовать текст:		Нет
Размер поля:		15
Разрешить вложения:		0
Требуемое число вложений:		0
Разрешенные типы файлов:		
ID-номер:		
	Шаблон ответа	Информация для оценивающих
	Общий отзыв к вопросу:	
	Теги:	
<p><i>Допускает в ответе загрузить файл и/или ввести текст. Ответ должен быть оценен преподавателем вручную.</i></p>		

Опишите только переменные и функции, что нужны для решения текущей задачи

Дана матрица, размера N на M. Заполнить ее случайными значениями. Вывести ее на экран. В новый массив положить суммы элементов матрицы по столбцам, которые являются четными (2, 4...). Все суммы вывести на экран.		ES
Опишите только переменные и функции, что нужны для решения текущей задачи.		
Балл по умолчанию:		1
Формат ответа:		Обычный текст
Требовать текст:		Нет
Размер поля:		15
Разрешить вложения:		0
Требуемое число вложений:		0
Разрешенные типы файлов:		
ID-номер:		
	Шаблон ответа	Информация для оценивающих
	Общий отзыв к вопросу:	
	Теги:	
<i>Допускает в ответе загрузить файл и/или ввести текст. Ответ должен быть оценен преподавателем вручную.</i>		

Опишите только переменные и функции, что нужны для решения текущей задачи

Заполнить массив случайными положительными и отрицательными целыми числами. Вывести его на экран. В новый массив перенести значения из исходного, удалив из него все элементы, величина которых находится в интервале $[a, b]$. Снова вывести обновленный массив на экран.		ES
Опишите только переменные и функции, что нужны для решения текущей задачи.		
Балл по умолчанию:		1
Формат ответа:		Обычный текст
Требовать текст:		Нет
Размер поля:		15
Разрешить вложения:		0
Требуемое число вложений:		0
Разрешенные типы файлов:		
ID-номер:		
	Шаблон ответа	Информация для оценивающих
	Общий отзыв к вопросу:	
	Теги:	
<i>Допускает в ответе загрузить файл и/или ввести текст. Ответ должен быть оценен преподавателем вручную.</i>		

Опишите только переменные и функции, что нужны для решения текущей задачи

Символы вводятся до точки. Слова в строке отделяются друг от друга одним пробелом. Вывести кол-во символов в самом длинном слове. Использовать рекурсию. Опишите только переменные и функции, что нужны для решения текущей задачи.		ES
Балл по умолчанию:		1
Формат ответа:		Обычный текст
Требовать текст:		Нет
Размер поля:		15
Разрешить вложения:		0
Требуемое число вложений:		0
Разрешенные типы файлов:		
ID-номер:		
	Шаблон ответа	Информация для оценивающих
	Общий отзыв к вопросу:	
	Теги:	
<i>Допускает в ответе загрузить файл и/или ввести текст. Ответ должен быть оценен преподавателем вручную.</i>		

Опишите только переменные и функции, что нужны для решения текущей задачи

Символы вводятся до точки. Слова в строке отделяются одним пробелом. Посчитать кол-во символов в самом длинном слове, которое содержит наибольшее кол-во гласных, и самом коротком слове, которое содержит наибольшее кол-во 's'-символов.		ES
Опишите только переменные и функции, что нужны для решения текущей задачи.		
Балл по умолчанию:		1
Формат ответа:		Обычный текст
Требовать текст:		Нет
Размер поля:		15
Разрешить вложения:		0
Требуемое число вложений:		0
Разрешенные типы файлов:		
ID-номер:		
	Шаблон ответа	Информация для оценивающих
	Общий отзыв к вопросу:	
	Теги:	
<i>Допускает в ответе загрузить файл и/или ввести текст. Ответ должен быть оценен преподавателем вручную.</i>		

Б1.В.03 Машинное обучение

1) закрытые задания (тестовые, средний уровень сложности):

1. Для чего нужна регуляризация в задачах машинного обучения ((Выберите все подходящие ответы из списка)?

- a) чтобы предотвратить переобучение модели
- b) чтобы обнулить коэффициенты при незначимых признаках
- c) чтобы добавить в целевую функцию штраф, который бы наказывал модель за слишком большими коэффициентами
- d) чтобы составить план проведения исследования
- e) для формирования документации о ходе исследования

2. Что такое Эластичная сеть?

- a) **Метод регуляризации, сочетающий использование Гребневой регрессии и Лассо**
- b) метод нормализации данных
- c) метод разделения выборки на обучающую и тестовую
- d) метод поиска параметров регрессии путем перебора
- e) метод формирования плана исследования

3. Как называется задача, направленная на предсказание значения той или иной непрерывной числовой величины для входных данных?

- a) **Регрессия**
- b) Классификация
- c) Кластеризация
- d) Токенизация

4. Какое из перечисленных значений НЕ может принимать метрика R^2

- a) 0
- b) 1
- c) **1.1**
- d) -0.1

5. Множество примеров, используемое для конструирования модели, называется...

- a) **обучающим множеством**
- b) тестовым множеством
- c) валидационным множеством
- d) конструктивным множеством

6. Множество примеров, используемое для проверки работы сконструированной модели, называется...

- a) обучающей выборкой
- b) **тестовой выборкой**
- c) синтетической выборкой
- d) проверочной выборкой

7. Переобучение - это ...

- a) **когда построенная модель хорошо объясняет примеры из обучающей выборки, но плохо работает на новых данных**
- b) излишнее обучение модели, не дающее прироста точности
- c) повторное обучение модели для проверки ее корректности
- d) дообучение модели на новых данных

8. Что из перечисленного является признаком переобучения модели

- a) **когда ошибка на обучающей выборке низкая, а на тестовой высокая**
- b) когда ошибка на обучающей выборке высокая, а на тестовой низкая
- c) когда ошибка на обучающей и на тестовой выборке низкая
- d) когда ошибка на обучающей и на тестовой выборке высокая

9. Решение задачи регрессии ...

- a) Является решением задачи "обучения без учителя"
- b) Возможно без обучающей выборки данных
- c) **Требует некоторой обучающей выборки данных**
- d) Не требует предварительной подготовки обучающих данных

10. С помощью какого метода определяют коэффициенты уравнения линейной регрессии:

- a) **метода наименьших квадратов**

- b) симплекс-метода
- c) метода Кронекера
- d) метода включений и исключений

11. Согласно методу наименьших квадратов, в качестве оценок коэффициентов регрессии следует использовать величины, которые минимизируют сумму квадратов отклонений:

- a) фактических значений зависимой переменной от ее среднего значения
- b) расчетных значений зависимой переменной от ее среднего значения
- c) фактических значений зависимой переменной от ее расчетных значений**
- d) максимального значения зависимой переменной от ее среднего значения

12. Что такое линейная регрессия?

- a) это произвольная функциональная зависимость, которая позволяет прогнозировать изменения непрерывных числовых параметров;
- b) модель зависимости непрерывной переменной y от объясняющих ее факторов, в которой функция зависимости является линейной**
- c) модель зависимости категориальной переменной y от объясняющих ее факторов, в которой функция зависимости является линейной

один из методов классификации

- 2) открытые задания (тестовые, повышенный уровень сложности):

1. Дана матрица ошибок алгоритма классификации. Вычислите precision (используйте в качестве разделителя целой и дробной части точку)

		Истинный класс	
		1	-1
Предсказанный класс	1	30	10
	-1	20	20

Ответ: 0.75

2. Дана матрица ошибок алгоритма классификации. Вычислите recall (используйте в качестве разделителя целой и дробной части точку)

		Истинный класс	
		1	-1
Предсказанный класс	1	30	10
	-1	20	20

Ответ: 0.6

3. Дана матрица ошибок алгоритма классификации. Вычислите ассигасу (используйте в качестве разделителя целой и дробной части точку)

		Истинный класс	
		1	-1
Предсказанный класс	1	30	10

-1 20 20

Ответ: 0.625

4. Дана матрица ошибок, построенная по результатам работы некоторого алгоритма классификации. Общая точность (ассигасу) равна... (используйте в качестве разделителя целой и дробной части точку)

		Истинный класс	
		1	-1
Предсказанный класс	1	25	20
	-1	20	15

Ответ: 0.5

5. Дана матрица ошибок, построенная по результатам работы некоторого алгоритма классификации. Общая точность (ассигасу) равна... (используйте в качестве разделителя целой и дробной части точку)

		Истинный класс	
		1	-1
Предсказанный класс	1	50	20
	-1	5	50

Ответ: 0.8

Б1.В.04 Теория игр и исследование операций

1) закрытые задания (тестовые, средний уровень сложности):

14. Выберите правильное определение модели:

Е. материально или мысленно представляемый объект, который в процессе исследования замещает объект – оригинал, при этом отражает его наиболее существенные свойства и позволяет получить новую информацию о нем

Ф. Изображение объекта в виде картинки.

Г. Объект, который похож на оригинал.

Н. Объект сохраняющий некоторое свойство оригинала.

15. В зависимости от учета фактора времени выделяют модели:

А. Статические и динамические.

В. Стохастические и детерминированные.

С. Статистические и динамические.

D. Стохастические и динамические.

16. Описывают экономическую систему в развитии модели:

A. Динамические.

B. Статические.

C. Оптимизационные.

D. Стохастические.

17. Описывают экономическую систему в развитии модели:

A. Динамические.

B. Статические.

C. Оптимизационные.

D. Стохастические.

18. Экзогенные параметры экономико-математических моделей – это такие параметры:

A. Значения, которых определяются вне модели и включаются в нее в известном виде.

B. Значения, которых определяются только после решения модели.

C. Значения, которых являются случайными величинами.

D. Значения, которых являются детерминированными величинами.

E. Значения, которых являются вероятностными величинами.

19. Какие из нижеприведенных операций нельзя считать этапом процесса моделирования?

A. Построение модели

B. Проведение модельных экспериментов

C. Перенос знаний с модели на объект

D. Проверка полученных с помощью модели знаний и их использование

E. Постановка задачи управления и выбор цели

20. Критерий оптимальности модели – это:

A. Математическое отображение эндогенных параметров

B. Математическое отображение экзогенных параметров

C. Математическое отображение поставленной цели

D. Математическое отображение алгоритма решения модели

E. Математическое отображение этапов построения модели

21. Многокритериальная модель – это:

A. Отыскание экстремумов одной целевой функции при различных ограничениях
B. Отыскание экстремумов различных целевых функций при одних и тех же ограничениях

C. Реализация различных моделей на основе одного и того же метода решения
 D. Реализация одной модели на основе различных методов решения

9. С какими экономико-математическими моделями связано понятие компромиссные решения?

- A. балансовые модели
- B. Многокритериальные модели**
- C. Динамические модели
- D. Модели массового обслуживания
- E. транспортные модели

10. Однокритериальная модель – это:

- A. Оптимизационная модель только с одним критерием оптимальности**
- B. Оптимизационная модель с линейным критерием оптимальности
- C. Оптимизационная модель с нелинейным критерием оптимальности
- D. Оптимизационная модель без ограничений.

11. Какая из нижеприведенных формулировок верна:

- A. В задаче о максимальной прибыли отыскивается такая производственная программа для предприятия, которая обеспечит ей максимальную суммарную прибыль при ограниченных ресурсах.**
- B. В задаче о максимальной прибыли отыскивается план доставки продукции пунктам потребления с минимальными затратами
- C. В задаче о максимальной прибыли отыскиваются такие цены для производственных ресурсов, при которых производственные затраты будут минимальными.
- D. В задаче о максимальной прибыли отыскиваются такие цены для производственных ресурсов, при которых суммарная цена всех использованных ресурсов будет минимальной
- E. В задаче о максимальной прибыли отыскивается вариант максимальной загрузки оборудования.

12. Когнитивная модель:

- A. Отражает математические зависимости между параметрами модели.
- B. Отражает мысленный субъективный образ объекта, сложившийся в голове исследователя в ходе решения задачи.**
- C. Отражает потоки информации между процессами исследуемого объекта.
- D. Отражает регрессионные зависимости между процессами исследуемого объекта.

13. В теории исследования операций моделируются:

- A. Слабоструктурированные проблемы.
- B. Проблемы, для которых можно описать количественные зависимости между параметрами.**
- C. Проблемы, для которых можно только на качественном уровне описать зависимости между параметрами.
- D. Проблемы, которые описываются математическими формулами или графическими структурами.

2) открытые задания (тестовые, повышенный уровень сложности):

1. Термин операция в теории исследования операций отражает целенаправленное действие или нецеленаправленное (укажите: целенаправленное или нецеленаправленное)

Целенаправленное.

2. Сколько этапов содержит процесс моделирования по Черчмену, Акофу, Арнофу

А. 6

3. Концептуальная и содержательные модели эквивалентны друг другу (укажите: да или нет)

А. нет

4. Структурно-функциональная модель базируется на декомпозиции процессов (укажите: да или нет).

А. да

Б1.В.06 Мягкие вычисления

1) закрытые задания (тестовые, средний уровень сложности):

1. Предположим, что при проектировании процедуры формирования обобщенной оценки выбран принцип «*обобщенная оценка не может быть лучше самой плохой из частных оценок*». Какая из перечисленных стратегий будет использоваться при выборе операции агрегирования

- а) компромиссная;
- б) дизъюнктивная;
- в) конъюнктивная?

Ответ: в)

2. Предположим, что для выбора стратегии агрегирования при проектировании процедуры формирования обобщенной оценки привлечен эксперт, для которого характерна, как выяснилось при тестировании, позиция пессимизма. Укажите в наибольшей степени соответствующую ему стратегию агрегирования

- а) компромиссная;
- б) дизъюнктивная;
- в) конъюнктивная.

Ответ: в)

3. Пусть $\mathbf{x} = (x_1, \dots, x_n)$ – векторная оценка объекта, $W = (w_1, \dots, w_n)$ – вектор весовых коэффициентов. Для формирования обобщенной оценки объекта предполагается

использовать взвешенное среднее $S(\mathbf{x}, W) = \sum_{i=1}^n w_i x_i$. Можно ли для нахождения ве-

сов использовать функции квантификации?

- а) да;
- б) нет.

Ответ: б)

4. Для вектора весов $(1, 0, \dots, 0)$ оператор порядкового взвешенного агрегирования *OWA* превращается в

а) \max ;

б) \min .

Ответ: а)

5. Для вектора весов $(0, \dots, 0, 1)$ оператор порядкового взвешенного агрегирования *OWA* превращается в

а) \max ;

б) \min .

Ответ: б)

6. Среди перечисленных правил укажите реляционную модель

а) R_i : **если** x есть A_i , **то** y есть B_i ;

б) R_{ij} : **если** x есть A_i , **то** y есть B_j со степенью r_{ij} ;

в) R_i : **если** x есть A_i , **то** $y = f_i(x)$.

Ответ: б)

7. Данная схема правильных рассуждений

<i>посылка</i>	<i>если p, то q</i>
<i>факт</i>	<i>p</i>
<i>заключение</i>	<i>q</i>

соответствует

а) *modus ponens*;

б) *modus tollens*.

Ответ: а)

8. Какое действие из перечисленных непосредственно предшествует формированию базы правил при проектировании нечеткой системы:

а) выбор метода фазификации;

б) выбор механизма нечеткого логического вывода;

в) построение лингвистических шкал входной и/или выходной переменных;

г) выбор метода дефазификации.

Ответ: в)

9. Выберите из списка истинные высказывания

а) на выходе блока фазификации имеем лингвистическое значение входной переменной;

б) на входе блока дефазификации имеем лингвистическое значение выходной переменной;

в) на выходе блока дефазификации имеем числовое значение входной переменной;

г) на входе блока фазификации имеем числовое значение выходной переменной.
Ответ: а,б

10. В нечеткой системе в базу знаний входит

- а) только база данных;
- б) только база правил;
- в) база правил и база данных

Ответ: в)

11. Предположим, что Вы участвуете в проекте, который представляет собой комплекс взаимосвязанных работ, и его математической моделью является *сеть* – граф, в котором вершины соответствуют событиям (моментам начала или окончания каких-то работ), а дуги – работам, причем вес дуги – это время выполнения работы. В сети можно выделить *начальное событие*, которое связано с открытием проекта, и *конечное событие* – с его завершением. Тогда время, необходимое для реализации проекта – это

- а) длина кратчайшего пути из начального события в конечное;
- б) длина максимального пути из начального события в конечное;
- в) длина пути, который проходит через все вершины сети.

Ответ: б)

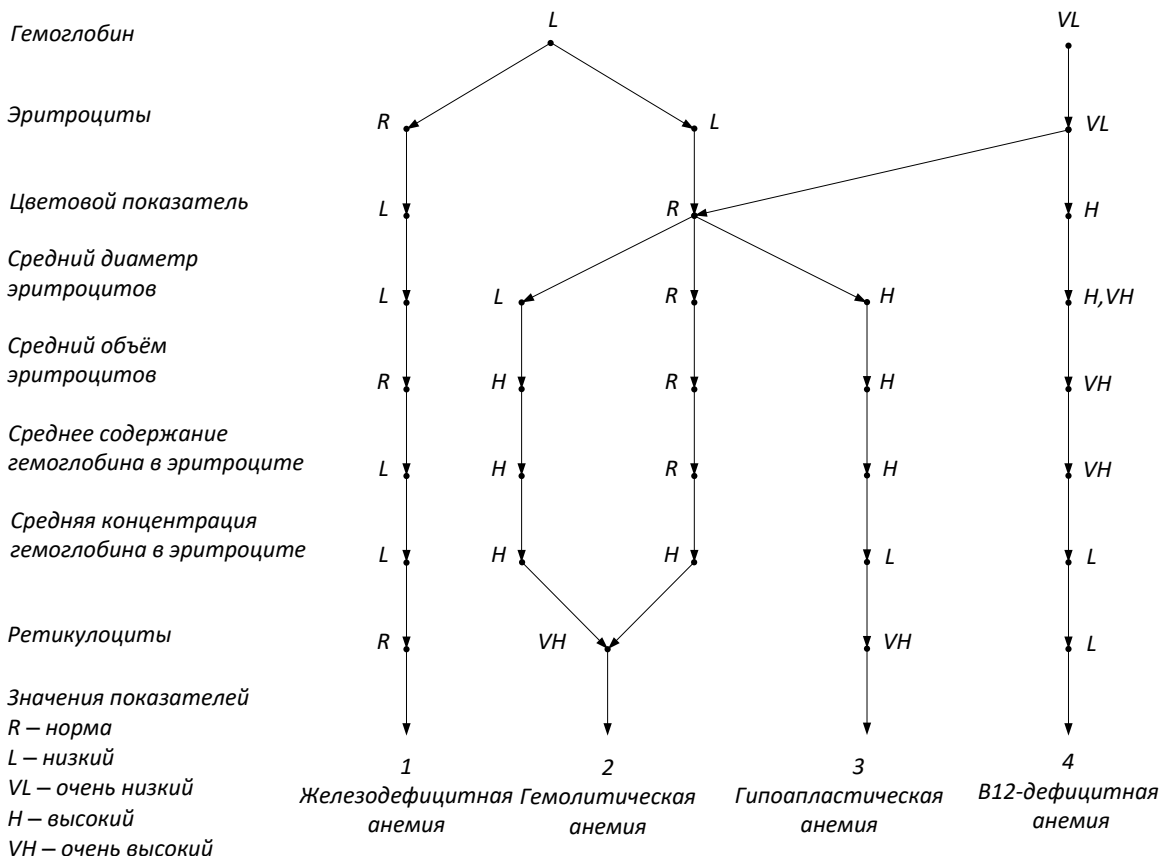
12. Под *критическим* путем в сети подразумевается

- а) путь максимальной длины из начального события в конечное;
- б) путь минимальной длины из начального события в конечное;
- в) простой путь, проходящий через все вершины сети.

Ответ: а)

2) открытые задания (тестовые, повышенный уровень сложности):

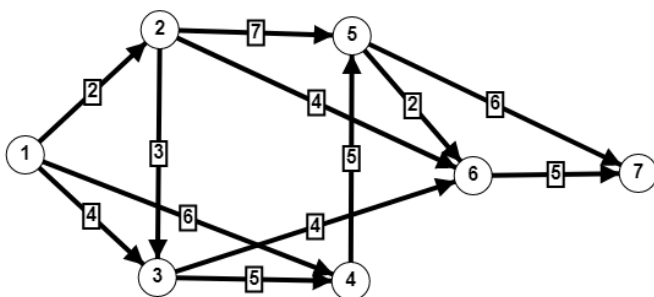
1. Предположим, что при построении базы знаний нечеткой системы медицинской диагностики анемии используется диагностическое дерево следующего вида.



Каждое правило соответствует маршруту в этом дереве из какой-нибудь вершины верхнего уровня в какую-нибудь вершину нижнего уровня. Определите количество правил в базе знаний.

Ответ: 8

2. Предположим, что сетевая модель проекта имеет вид (1 – начальное событие, 7 – конечное), изображенный на рисунке. Определите время, необходимое для реализации проекта.

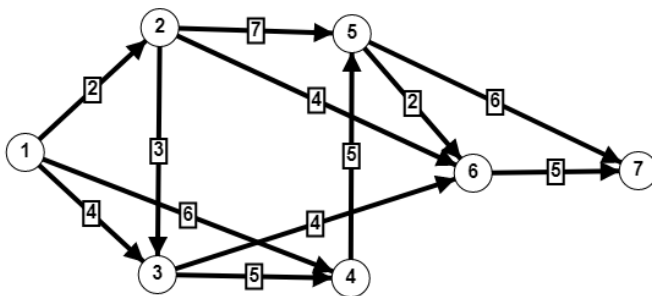


Ответ: 22

3. Предположим, что сетевая модель проекта имеет вид (1 – начальное событие, 7 – конечное), изображенный на рисунке. В процессе реализации проекта оказалось, что продолжительность работы (5,6) уменьшилась на 1 ед. Определите, уменьшится ли время, необходимое для реализации проекта.

- а) да;
- б) нет.

Ответ: б)

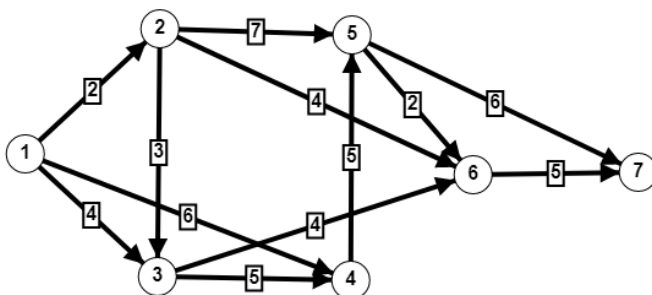


Ответ: 22

4. Предположим, что сетевая модель проекта имеет вид (1 – начальное событие, 7 – конечное), изображенный на рисунке. В процессе реализации проекта оказалось, что продолжительность работы (3,6) увеличилась на 2 ед. Определите, увеличится ли время, необходимое для реализации проекта.

- а) да;
- б) нет.

Ответ: б)



Ответ: 22

5. Перечислите в правильном порядке основные этапы формирования обобщенной оценки для ранжирования объектов при условии, что для каждого объекта задана его числовая векторная оценка:

- а) формирование вектора весов на основе функции квантификации;
- б) выбор вида функции агрегирования;
- в) формирование вектора весов методом парных сравнений;
- г) выбор квантора;
- д) нормирование исходных данных;
- е) анализ результатов и получение ранжирования.
- ж) вычисление обобщенных оценок.

Решение.

При решении данной задачи можно использовать два подхода к формированию весов, поэтому возможны следующие варианты:

- 1) д-б-г-а-ж-е;
- 2) д-б-в-ж-е.

ПК-3. Способен осуществить выполнение экспериментов и оформить результаты исследований и разработок

Период окончания формирования компетенции: 7 семестр

Перечень дисциплин (модулей), практик, участвующих в формировании компетенции:

Дисциплины (модули):

Б1.В.10 Основы параллельного программирования (5 семестр)

Б1.В.02 Анализ данных (5 семестр)

Б1.В.03 Машинное обучение (6 семестр)

Б1.В.04 Теория игр и исследование операций (7 семестр)

Б1.В.06 Мягкие вычисления (6 семестр)

Б1.В.10 Основы параллельного программирования

1) закрытые задания (тестовые, средний уровень сложности):

1. Синхронизация потоков заключается:

- В согласованном выполнении системных вызовов этими потоками
- **В согласовании их скоростей путем приостановки потоков**
- В согласованном доступе к аппаратным средствам

2. До прерывания выполнения потока ОС запоминает его:

- Коды
- Описатель
- **[*] Контекст**
- Образ
- Данные

3. При создании потока ОС сразу переводит его в состояние:

- **Готовности**
- Выполнения
- Ожидания

4. В критические секции:

- **потоки входят последовательно в произвольном порядке**
- потоки входят последовательно в соответствии с порядковым номером потока
- все потоки входят одновременно

5. Термин race condition (условие гонки) описывает ситуацию, когда:

- **несколько потоков работают с разделяемыми данными, и конечный результат зависит от соотношения скоростей потоков**
- несколько потоков работают с данными, локализованными для каждого из потоков, и конечный результат собирается в одну переменную
- не хватает памяти для размещения данных

6. Термин deadlock (тупик) описывает ситуацию, когда:

- все потоки завершили свою работу

- возникла взаимная блокировка потоков, ожидающих наступления некоторого события для продолжения работы
- недостаточно ресурсов для запуска всех потоков

7. Какая директива OpenMP может быть использована для синхронизации потоков:

- `#pragma omp barrier`
- `#pragma omp waitall`
- `#pragma omp wait`

8. Может ли в OpenMP программе случиться ситуация, когда один поток закончит выполнение двух параллельных регионов, в то время как другой поток все еще выполняет первый параллельный регион, при условии что все потоки запущены средствами OpenMP?

- нет, после окончания каждого параллельного региона все потоки должны закончить его выполнение
- нет, в программе может быть только один параллельный регион
- да, каждый поток работает независимо

9. Может ли в OpenMP программе случиться ситуация, когда один поток закончит выполнение двух параллельных циклов, в то время как другой поток все еще выполняет первый параллельный цикл, при условии что все потоки запущены средствами OpenMP?

- нет, после окончания каждого параллельного цикла все потоки должны закончить его выполнение
- нет, в программе может быть только один параллельный цикл
- да, каждый поток работает независимо
- да, но только если первый цикл объявлен с условием `nowait` и оба цикла принадлежат одному параллельному региону

10. Можно ли в OpenMP параллельном цикле выделить часть кода, которую потоки будут выполнять в определенном порядке, в то время как остальной код цикла будет выполняться параллельно?

- нет, в параллельном цикле код выполняется потоками в неопределенном порядке
- нет, можно только выделять части кода для последовательного выполнения с помощью критических секций, но неопределенно, в каком порядке потоки будут выполнять выделенный код
- да, одну из секций кода можно выделить для последовательного выполнения потоками в порядке следования итераций с помощью директивы `ordered`

11. В технологии MPI отдельная среда для общения группы процессов называется

- адресным пространством
- коммутатором
- процессорным модулем

12. Какой коммутатор служит для взаимодействия всех запущенных процессов MPI-программы

- `MPI_COMM_SELF`
- `MPI_COMM_NULL`
- `MPI_COMM_WORLD`

2) открытые задания (тестовые, повышенный уровень сложности):

1. Процедура определения в какой момент необходимо прервать выполнение текущего активного потока и какому потоку предоставить возможность выполняться

Ответ: Планирование

2. Процедура переключения процессора с одного потока на другой

Ответ: Диспетчеризация

3. Поток, сделавший синхронный (блокирующий) вызов, переводится планировщиком ОС в состояние ожидания, а после завершения обработки вызова – в состояние

Ответ: Готовности

4. На какой параметр следует заменить параметр `private`, чтобы локальные копии переменной `x` в каждом потоке имели то же значение, что и исходная переменная `x`?

Ответ: `firstprivate`

5. Какое условие следует использовать в OpenMP в ситуации, когда необходимо, чтобы основной поток не ждал завершения остальных потоков

Ответ: `nowait`

6. Какую директиву в OpenMP следует использовать в параллельных циклах, чтобы указать, что блок должен исполняться в строго фиксированной последовательности

Ответ: `ordered`

Б1.В.02 Анализ данных

1) закрытые задания (тестовые, средний уровень сложности):

1. Решение задачи дискриминации в рамках дискриминантного анализа при проведении прикладных исследований можно применять для:

A. Определения по каким показателям существенно различаются выделенные в рамках исследования классы.

B. Разбиения исследуемых объектов на кластеры, близкие по своим характеристикам.

C. Классификации принадлежности объекта к определенным в рамках исследования классам.

D. Прогнозирования значений важных с точки зрения исследования показателей в рамках выделенных классов

2. Решение задачи кластеризации в рамках исследования выделенной совокупности объектов можно применять для:

A. Определения наиболее важных показателей с точки зрения поиска различий между объектами.

B. Разбиения совокупности объектов на кластеры, близкие по своим характеристикам.

C. Классификации принадлежности объектов к выделенным классам.

D. Прогнозирования изменения кластеров во времени.

3. Для исследования зависимости между двумя категоризованными показателями можно использовать:

- A. Т-тест для зависимых выборок.
- B. Т-тест для независимых выборок.
- C. Метод «таблицы сопряженности».**
- D. Регрессионный анализ.

4. Для анализа зависимости между порядковыми показателями можно использовать:

- A. Т-тест для зависимых выборок.
- B. Т-тест для независимых выборок.
- C. Ранговый коэффициент корреляции Спирмена.**
- D. Регрессионный анализ.

5. Для снижения размерности признакового пространства можно использовать:

- A. Регрессионный анализ.
- B. Кластерный анализ.
- C. Факторный анализ.**
- D. Дисперсионный анализ

6. Автокорреляционная функция временного ряда для каждого значения аргумента, равного натуральному числу g , показывает:

- A. Как коррелируют наблюдения временного ряда, расположенные через g лагов**
- B. Как коррелируют соседние наблюдения g и $g+1$.
- C. Чему равна дисперсия g -го значения ряда.
- D. Чему равно математическое ожидание g -го значения ряда.

7. Для исследования значимых изменений в поведении некоторого показателя после воздействия на анализируемые объекты можно использовать:

- A. Т-тест для зависимых выборок.**
- B. Т-тест для независимых выборок.

- C. Ранговый коэффициент корреляции Спирмена.
- D. Регрессионный анализ.
8. Для графического анализа гипотезы о нормальном распределении некоторого показателя можно использовать:
- A. Нормальную вероятностную бумагу.**
- B. Граф к-средних.
- C. Граф «ящички с усами».
- D. Граф рассеивания.
9. Граф к-средних в кластерном анализе отражает:
- A. Центроиды кластеров.**
- B. Расстояние между центроидами кластеров.
- C. Разброс вокруг центроидов кластеров.
- D. Расстояние между ближайшими соседями кластеров.
10. Метод древовидной кластеризации используется:
- A. Для анализа близости между объектами.**
- B. Для определения центроидов кластеров.
- C. Для вычисления матрицы расстояний между кластерами.

Для определения показателей, которые нужно использовать при кластеризации.

2) открытые задания (тестовые, повышенный уровень сложности):

1. Т-тест для зависимых выборок, одна из которых отражает значения некоторого показателя до реализации стратегии управления, а другая – после реализации стратегии управления, используется для оценки равенства *средних* значений или *медиан* данных выборок (укажите: средних или медиан):

A. Средних

2. Метод сглаживания скользящими средними в анализе временных рядов динамики развития некоторого показателя используется для *выделения тренда* или *стандартизации ряда* (укажите: выделения тренда или стандартизации ряда)

A. Выделения тренда

3. Метод сезонной декомпозиции в анализе временных рядов динамики развития некоторого показателя используется для *исследования структуры* или *прогнозирования* (укажите: исследования структуры или прогнозирования)

A. Исследования структуры

4. Метод дискриминантного анализа предполагает, что объекты уже разбиты на классы (укажите: да или нет)

Да

Б1.В.03 Машинное обучение

- 1) закрытые задания (тестовые, средний уровень сложности):

1. Ассигасу - это...

- a) **доля правильных ответов алгоритма классификации**
- b) величина ошибки алгоритма регрессии
- c) доля неправильных ответов алгоритма классификации
- d) метрика в задаче кластеризации

2. Выберите все подходящие ответы из списка

- a) **Высокая ассигасу не всегда говорит о качестве модели в случае неравномерного распределения классов.**
- b) Precision и recall не могут быть равны
- c) **Precision может быть равен нулю**
- d) **Precision, recall и ассигасу могут быть равны 1 в случае безошибочной классификации**
- e) Precision всегда больше recall

3. В задаче медицинской диагностики класс "1" -это больные пациенты, класс "-1"- здоровые. Тогда precision - это...

- a) **доля больных среди пациентов, распознанных алгоритмом как больные**
- b) доля здоровых среди пациентов, распознанных алгоритмом как больные
- c) доля пациентов, распознанных алгоритмом как больные, среди больных
- d) доля пациентов, распознанных алгоритмом как здоровые, среди больных

4. В задаче медицинской диагностики класс "1" -это больные пациенты, класс "-1"- здоровые. Тогда recall - это...

- a) доля больных среди пациентов, распознанных алгоритмом как больные
- b) доля здоровых среди пациентов, распознанных алгоритмом как больные
- c) **доля пациентов, распознанных алгоритмом как больные, среди действительно больных**
- d) доля пациентов, распознанных алгоритмом как здоровые, среди больных

5. Задача классификации сводится к ...

- a) нахождению частых зависимостей между объектами или событиями;

- b) **определению класса объекта по его характеристикам;**
- c) определению по известным характеристикам объекта значения некоторого его непрерывного параметра
- d) поиску независимых групп и их характеристик в всем множестве анализируемых данных

6. Допустим, установили сканер отпечатков пальцев на вход в ВГУ, теперь любой студент может приложить палец и попасть внутрь. Однако сканер иногда допускает ошибки. Служба охраны переживает и очень не хочет, чтобы посторонние люди были распознаны, как студенты. Какую метрику необходимо максимизировать в таком случае? (Будем считать, что класс 1- студенты ВГУ, класс "-1" - не студенты)

- a) accuracy
- b) Recall
- c) **Precision**
- d) R^2

7. Классификация относится к стратегии:

- a) обучения без учителя
- b) **обучения с учителем**
- c) оба ответа неверны
- d) оба ответа верны

8. Что такое логистическая регрессия?

- a) **метод классификации, предсказывающий целевой класс на базе количественных признаков**
- b) метод регрессии, предсказывающий значение вещественной целевой переменной
- c) метод построения ансамбля моделей машинного обучения
- d) метод кластеризации

9. Что такое ROC-кривая (выберите все верные ответы)?

- a) кривая, показывающая сходимость метода в зависимости от номера итерации
- b) график функции потерь (ошибок)
- c) **график, позволяющий оценить качество бинарной классификации**
- d) **зависимость количества верно классифицированных примеров положительного класса от количества неверно классифицированных примеров отрицательного класса**
- e) график изменения параметра регуляризации

10. Какие метрики используются в задачах оценки качества классификации (выберите все верные ответы)?

- a) **accuracy**
- b) **Recall**
- c) **Precision**
- d) MSE

R^2

- 2) открытые задания (тестовые, повышенный уровень сложности):

1. Некоторый классификатор относит все объекты к классу 1. Допустим, что выборка состоит из 50 объектов: 20 из них принадлежат классу -1, а 30 из них действительно

принадлежат классу 1. Общая точность (ассигасу) равна... (используйте в качестве разделителя целой и дробной части точку)

Ответ: 0.6

2. Некоторый классификатор относит все объекты к классу 1. Допустим, что выборка состоит из 50 объектов: 20 из них принадлежат классу -1, а 30 из них действительно принадлежат классу 1. Метрика precision равна... (используйте в качестве разделителя целой и дробной части точку)

Ответ: 0.6

3. Некоторый классификатор относит все объекты к классу 1. Допустим, что выборка состоит из 50 объектов: 20 из них принадлежат классу -1, а 30 из них действительно принадлежат классу 1. Метрика recall равна... (используйте в качестве разделителя целой и дробной части точку)

Ответ: 1

4. Некоторый классификатор относит все объекты к классу -1. Допустим, что выборка состоит из 50 объектов: 20 из них действительно принадлежат классу -1, а 30 из них принадлежат классу 1. Общая точность (ассигасу) равна... (используйте в качестве разделителя целой и дробной части точку)

Ответ: 0.4

Б1.В.04 Теория игр и исследование операций

1) закрытые задания (тестовые, средний уровень сложности):

11. Вербальная модель изучаемого объекта или предмета - это:

E. Описание на языке предметной области основных свойств и зависимостей изучаемого объекта или процесса.

F. Описание на языке математических формул основных свойств и зависимостей изучаемого объекта или процесса.

G. Описание на языке теории графов основных свойств и зависимостей изучаемого объекта или процесса.

H. Описание на языке эконометрических зависимостей основных свойств и зависимостей изучаемого объекта или процесса.

12. Метод ветвей и границ используется в решении оптимизационных задач для отсечения:

A. Перспективных вариантов решения.

B. Неперспективных вариантов решения.

- C. Вариантов решения, не удовлетворяющих ограничениям.
- D. Вариантов решения, не отвечающих предпочтениям лица принимающего решение.

13. Венгерский метод можно использовать в решении:

- A. Транспортной задачи.
- B. Задачи о назначениях.**
- C. Задачи о построении оптимального раскроя материала.
- D. Планирования оптимального ассортимента продукции.

14. В задачах управления запасами:

- A. Спрос может быть как детерминированной величиной, так и случайной.**
- B. Спрос может быть только детерминированной величиной.
- C. Спрос может быть только дискретной случайной величиной.
- D. Спрос может только непрерывной случайной величиной.

15. В задачах теории массового обслуживания:

- A. Анализируется функционирование объектов или процессов, в которых происходит многократное выполнение однотипных операций.**
- B. Анализируется функционирование стохастических процессов.
- C. Анализируется функционирование слабоструктурированных процессов.
- D. Анализируется функционирование детерминированных процессов.

16. В моделях оптимального раскроя материалов в качестве искомым переменных выступает:

- A. количество исходного сырья, которое требуется раскрыть по каждому варианту раскроя.**
- B. количество готовых изделий, которое необходимо получить в результате раскроя.
- C. отходы сырья, получаемые в результате раскроя.
- B. количество исходного сырья, которое требуется раскрыть по оптимальному варианту раскроя.

17. Модели теории игр применяются для описания:

A. Конфликтных ситуаций.

- B. Ситуаций, когда цель носит многокритериальный характер.
- C. Ситуаций с наличием двух или более целей лица принимающего решение.
- D. Ситуаций со случайным исходом.

18. Платежной матрицей в теории игр называется матрица, элементами которой являются:

- A. Годовые прибыли отраслевых предприятий
- B. Выигрыши, соответствующие стратегиям игроков**
- C. Налоговые платежи предприятий
- D. Элементы межотраслевого баланса.

19. Матричная игра – это игра, в которой:

- A. Два игрока, причем выигрыши одного игрока являются проигрышами другого.**
- B. Два игрока и каждый имеет свою матрицу выигрышей.
- C. Два игрока, имеющих одинаковый набор стратегий.
- D. Два игрока, и существует равновесная ситуация в чистых стратегиях.

20. Кооперативная игра – это игра, в которой:

- A. Два игрока, причем выигрыши одного игрока являются проигрышами другого.
- B. Два игрока и каждый имеет свою матрицу выигрышей.
- C. Игроки могут объединяться в коалиции.**
- D. Игрокам не разрешается объединяться в коалиции.

2) открытые задания (тестовые, повышенный уровень сложности):

1. Игра моделирует ситуацию конфликтную или неконфликтную или неконфликтную (укажите: конфликтную или неконфликтную)

B. Конфликтную

2. Решением задачи о назначениях является матрица назначений или матрица стоимости назначений (укажите: матрица назначений или матрица стоимости назначений)

A. матрица назначений

3. Дуги знакового графа когнитивной модели отражают только непосредственное влияние или непосредственное или опосредованное влияние одного концепта на другой или (укажите: «непосредственное» или «непосредственное или опосредованное»)

А. непосредственное

4. В теории массового обслуживания ограничиваются только анализом Марковских случайных процессов (укажите: да или нет)

А. Нет

Б1.В.06 Мягкие вычисления

1) закрытые задания (тестовые, средний уровень сложности):

1. Определите мощность треугольного нечеткого числа $A = (a, l, r) = (4, 2, 4)$

Ответ: 3

2. Укажите верхнюю и нижнюю границы (через запятую без пробела) α -среза нечеткого числа $A = (a, l, r) = (4, 2, 4)$ при $\alpha = 0.3$.

Ответ: 2,6,6,1

3. Пусть нечеткое множество A задано на универсальном множестве $U = \{a, b, c, d, e, f, g\}$ и имеет вид

$$A = \{(a / 0.5), (b / 0.2), (c / 0.9), (d / 0.1), (e / 0.8), (f / 1), (g / 0.7)\}.$$

Выберите подходящий тип соотношения между обычным множеством, ближайшем к данному нечеткому, и α -срезом при $\alpha = 0.7$.

а) $\underline{A} \cap A_{0.7} = \emptyset$;

б) $\underline{A} = A_{0.7}$;

в) $\underline{A} \subset A_{0.7}$;

г) $A_{0.7} \subset \underline{A}$.

Ответ: г)

4. Пусть задано нечеткое число *приблизительно 5* в форме нечеткого множества

$$A = \{(1 / 0.1), (2 / 0.2), (3 / 0.4), (4 / 0.8), (5 / 1), (6 / 0.9), (7 / 0.6), (8 / 0.1)\}.$$

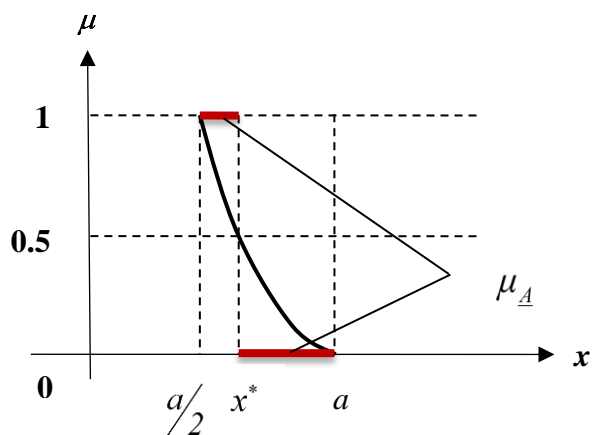
Определите для него дефазифицированное значение методом центра тяжести.

Ответ: 4.95

5. Пусть нечеткое множество задано функцией принадлежности

$$\mu_A(x) = \frac{4(x-a)^2}{a^2} \quad \left(\frac{a}{2} \leq x \leq a \right).$$

Характеристическая функция обычного множества \underline{A} , ближайшего к данному нечеткому, представлена на рисунке.



Укажите подходящее значение для x^* .

а) $a - \frac{a}{2\sqrt{2}}$;

б) $a + \frac{a}{2\sqrt{2}}$;

в) $\frac{a}{2\sqrt{2}}$.

Ответ: б)

6. Пусть нечеткие множества $A_1 =$ множество чисел, близких к 10, и $A_2 =$ множество чисел, почти близких к 10, заданы следующим образом:

$$A_1 = \{(7/0.1), (8/0.5), (9/0.8), (10/1), (11/0.8), (12/0.5), (13/0.1)\},$$

$$A_2 = \{(6/0.1), (7/0.3), (8/0.4), (9/0.7), (10/1),$$

$$(11/0.8), (12/0.5), (13/0.3), (14/0.1)\}.$$

Определите линейный индекс нечеткости каждого нечеткого множества и укажите, какое из множеств а) A_1 или б) A_2 является более нечетким.

Ответ: б)

7. Пусть $U = \{1, 2, 3, 4, 5\}$, A – нечеткое подмножество малая величина $A = \{(1/1), (2/1), (3/0.8), (4/0.6), (5/0.4)\}$. Из приведенного списка выберите нечеткое множество, которое соответствует высказыванию *очень малая величина*.

а) $A_1 = \{(1/1), (2/1), (3/0.64), (4/0.36), (5/0.16)\}$;

б) $A_2 = \{(1/1), (2/0.9), (3/0.6), (4/0.4), (5/0.1)\}$;

в) $A_3 = \{(1/1), (2/0), (3/0), (4/0), (5/0)\}$.

Ответ: а)

8. Укажите интерпретацию вектора весов для порядкового оператора взвешенного агрегирования (OWA)

- а) каждый весовой коэффициент отражает значимость, важность соответствующего показателя или критерия;
 б) вектор весов соответствует принципу *нечеткого большинства*, согласно которому в обобщенной оценке учитывается большинство частных оценок;
 в) вектор весов есть собственный вектор матрицы парных сравнений, который отвечает максимальному собственному числу.

Ответ: б)

9. Установите соответствие между модификаторами

- а) *очень*, б) *более или менее*, в) *достаточно*, г) *почти*

и значениями степени

- 1) 1.25, 2) 0.5, 3) 0.75, 4) 2,

в которую возводится функция принадлежности исходного терма.

Ответ: 1-4, б-2, в-1, г-3.

2) открытые задания (мини-кейсы, средний уровень сложности):

1. Исследуйте, к какому типу генераторов относится композиция двух убывающих

генераторов $\varphi_{\downarrow}(x) = \frac{-2(x-1)}{-x+3}$ и $\psi_{\downarrow}(x) = \frac{-4(x-1)}{-3x+4}$.

Решение. Рассмотрим определения.

Строго возрастающая непрерывная функция $\varphi_{\uparrow}: [0,1] \rightarrow [0,\infty)$, такая что $\varphi_{\uparrow}(0) = 0$, называется *возрастающим генератором*. Строго убывающая непрерывная функция $\varphi_{\downarrow}: [0,1] \rightarrow [0,\infty)$, такая что $\varphi_{\downarrow}(1) = 0$, называется *убывающим генератором*.

Найдем композицию заданных генераторов, подставляя ψ_{\downarrow} в φ_{\downarrow} . Получим

$g(x) = (\varphi_{\downarrow} \circ \psi_{\downarrow})(x) = \frac{2x}{-5x+8}$. Так как $g(0) = 0$, то данная функция может быть

только возрастающим генератором. Проверим, является ли функция g возрастаю-

щей. Найдем $g'(x) = \left(\frac{2x}{-5x+8} \right)' = \frac{16}{(-5x+8)^2} > 0$, поэтому g является возрастающим

генератором.

Ответ: Так как композиция является возрастающей функцией, и в 0 принимает значение 0, то она является возрастающим генератором.

Критерий оценивания	Шкала оценок
Обучающийся построил композицию и полностью ее исследовал, не допустив ошибок.	5 балла
Обучающийся построил композицию, но не провел ее исследование.	2 балла
Обучающийся даже не построил композицию.	0 баллов

2. На рисунке представлены графики нечетких операций – треугольных норм и конорм. Укажите, какие операции моделируют объединение нечетких множеств (или задают дизъюнкцию) и обоснуйте свой ответ.

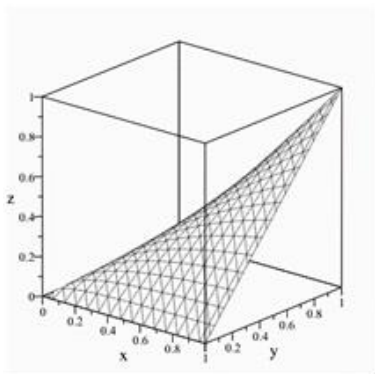
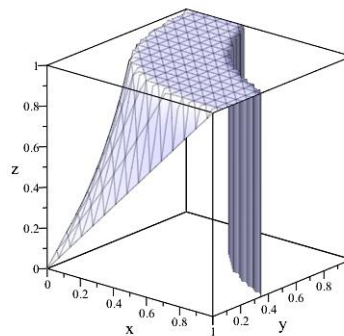
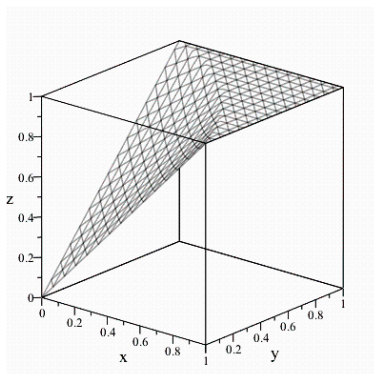
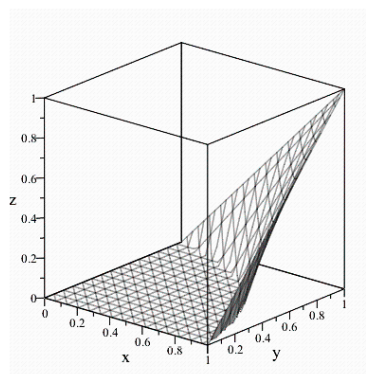
а) $F_1(x, y)$ б) $F_2(x, y)$ в) $F_3(x, y)$ г) $F_4(x, y)$

Рисунок – Графики нечетких операций

Решение. Нечеткие операции являются обобщениями обычных операций над множествами, и в точках $(0,0)$, $(0,1)$, $(1,0)$ и $(1,1)$ должны выполняться свойства операций над обычными множествами. Заметим, что $F_1(0,0) = F_1(0,1) = F_1(1,0) = 0$ и $F_1(1,1) = 1$, поэтому F_1 – конъюнкция. Аналогичные рассуждения имеют место для функции F_4 . Для F_3 выполняются свойства $F_3(0,0) = F_3(0,1) = F_3(1,0) = 1$ и $F_3(1,1) = 0$, поэтому F_3 – дизъюнкция. Анализируя функцию F_2 , видим, что в точке $(1,1)$ она не определена, поэтому F_2 не является ни конъюнкцией, ни дизъюнкцией.

Ответ: F_3 – дизъюнкция, так как $F_3(0,0) = F_3(0,1) = F_3(1,0) = 1$ и $F_3(1,1) = 0$.

Критерий оценивания	Шкала оценок
Обучающийся проанализировал представленные графики и сделал правильные выводы.	5 балла
Обучающийся смог проанализировать только часть графиков.	2 балла
Обучающийся в своих выводах сделал грубые ошибки.	0 баллов

3. Пусть нечеткие отношения R_1 и R_2 заданы матрицами:

R_1	y_1	y_2	y_3	y_4
x_1	0.3	0	0.7	0.3
x_2	0	1	0.2	0

R_2	z_1	z_2	z_3
y_1	1	0	1
y_2	0	0.5	0.4
y_3	0.7	0.9	0.6
y_4	0	0	0

Определите возможные композиции этих отношений.

Решение. Пусть $X = \{x_1, x_2\}$, $Y = \{y_1, y_2, y_3, y_4\}$, $Z = \{z_1, z_2, z_3\}$. В соответствии с определением композиции существует $R_1 \circ R_2 \subseteq X \times Z$, но композиция $R_2 \circ R_1$ не существует. Найдем максиминную композицию \circ

$$\begin{pmatrix} 0.3 & 0 & 0.7 & 0.3 \\ 0 & 1 & 0.2 & 0 \end{pmatrix} \circ \begin{pmatrix} 1 & 0 & 1 \\ 0 & 0.5 & 0.4 \\ 0.7 & 0.9 & 0.6 \\ 0 & 0 & 0 \end{pmatrix} = \begin{pmatrix} 0.7 & 0.7 & 0.6 \\ 0.2 & 0.5 & 0.4 \end{pmatrix}.$$

Ответ: Композиция $R_2 \circ R_1$ не существует в силу определения исходных множеств.

$$R_1 \circ R_2 = \begin{pmatrix} 0.7 & 0.7 & 0.6 \\ 0.2 & 0.5 & 0.4 \end{pmatrix}.$$

Критерий оценивания	Шкала оценок
Обучающийся построил композицию и сделал вывод о том, что другая композиция не существует.	5 балла
Обучающийся построил композицию, но не упомянул, что другая композиция не существует.	2 балла
Обучающийся не построил композицию.	0 баллов

4. Пусть функция квантификации имеет вид $Q(x) = x^2$. Определить вектор весовых коэффициентов для $n = 5$ (перечислите веса через запятую, каждый вес представьте в виде десятичной дроби).

Решение.

Если задана известна функция квантификации $Q(x)$, то при заданном значении n весовые коэффициенты определяются по формулам

$$w_1 = Q\left(\frac{1}{n}\right), w_i = Q\left(\frac{i}{n}\right) - Q\left(\frac{i-1}{n}\right).$$

В нашем случае $Q(x) = x^2$, тогда

$$\begin{aligned} w_1 &= Q\left(\frac{1}{5}\right) = \left(\frac{1}{5}\right)^2 = \frac{1}{25} = 0.04, \\ w_2 &= Q\left(\frac{2}{5}\right) - Q\left(\frac{1}{5}\right) = \left(\frac{2}{5}\right)^2 - \left(\frac{1}{5}\right)^2 = \frac{4}{25} - \frac{1}{25} = \frac{3}{25} = 0.12, \\ w_3 &= Q\left(\frac{3}{5}\right) - Q\left(\frac{2}{5}\right) = \left(\frac{3}{5}\right)^2 - \left(\frac{2}{5}\right)^2 = \frac{9}{25} - \frac{4}{25} = \frac{5}{25} = 0.20, \\ w_4 &= Q\left(\frac{4}{5}\right) - Q\left(\frac{3}{5}\right) = \left(\frac{4}{5}\right)^2 - \left(\frac{3}{5}\right)^2 = \frac{16}{25} - \frac{9}{25} = \frac{7}{25} = 0.28, \\ w_5 &= Q\left(\frac{5}{5}\right) - Q\left(\frac{4}{5}\right) = (1)^2 - \left(\frac{4}{5}\right)^2 = 1 - \frac{16}{25} = \frac{9}{25} = 0.36. \end{aligned}$$

Ответ: 0.04,0.12,0.20,0.28,0.36

Критерий оценивания	Шкала оценок
Обучающийся использовал нужную формулу и провел правильные расчеты.	5 балла
Обучающийся использовал нужную формулу, но в расчетах были сделаны ошибки.	2 балла
Обучающийся не знает способ вычисления весов.	0 баллов

5. Пусть вектор весовых коэффициентов для OWA имеет вид $W = (0.04, 0.12, 0.2, 0.28, 0.36)$. Определите стратегию OWA-оператора.

Решение. Вычислим

$$orness(W) = \frac{1}{n-1} \sum_{i=1}^n (n-i) w_i = \frac{1}{4} \left(4 \cdot \frac{1}{25} + 3 \cdot \frac{3}{25} + 2 \cdot \frac{5}{25} + 1 \cdot \frac{7}{25} \right) = 0.3.$$

Найдем $andness(W) = 1 - orness(W) = 1 - 0.3 = 0.7$. Так как $andness(W) > 0.5$, то OWA с вектором весов W реализует конъюнктивную стратегию и является квази-конъюнкцией.

Ответ: Так как $andness(W) = 0.7 > 0.5$, то стратегия конъюнктивная.

Критерий оценивания	Шкала оценок
Обучающийся использовал нужную формулу, не ошибся в расчетах и сделал правильный вывод.	5 балла

Обучающийся использовал нужную формулу, но в расчетах были сделаны ошибки и/или не сделал правильного вывода.	2 балла
Обучающийся не знает способ определения стратегии.	0 баллов

6. Пусть имеются два проекта P_1 и P_2 . Лучший из проектов выбирается на основе обобщенной оценки, для определения которой используется OWA с вектором весовых коэффициентов $W = (0.04, 0.12, 0.2, 0.28, 0.36)$. Обобщенная оценка проекта P_1 равна 0.4. Укажите, какой из двух проектов является лучшим, если векторная оценка проекта P_2 имеет вид $a = (0.4, 0.1, 0.8, 0.3, 0.5)$ а) P_1 ;

б) P_2 .

Решение. Обобщенная оценка, вычисленная на основе OWA-оператора, есть результат скалярного произведения вектора весов W на вектор, полученный из вектора a упорядочением элементов по невозрастанию, т.е. $\Phi(W, a) = \sum_{i=1}^n w_i b_i$, где $b = a \downarrow$.

Найдем обобщенную оценку проекта P_2 . В нашем случае $b = a \downarrow = (0.8, 0.5, 0.4, 0.3, 0.1)$, тогда обобщенная оценка проекта P_2 равна $\Phi(W, a) = 0.04 \cdot 0.8 + 0.12 \cdot 0.5 + 0.2 \cdot 0.4 + 0.28 \cdot 0.3 + 0.36 \cdot 0.1 = 0.292$. Таким образом, проекту P_1 соответствует большее значение обобщенной оценки ($0.4 > 0.292$), следовательно проект P_1 лучший.

Ответ: а)

Критерий оценивания	Шкала оценок
Обучающийся использовал нужную формулу, провел правильные расчеты и знает принцип сравнения полученных результатов.	5 балла
Обучающийся использовал нужную формулу, но в расчетах были сделаны ошибки и/или не знает, каким образом сравнить полученные результаты.	2 балла
Обучающийся не знает способ вычисления обобщенной оценки.	0 баллов

7. Пусть α -срез нечеткого отношения P имеет вид

$P_{0.9}$	a	b	c	d	e
a	1	0	0	1	1
b	0	1	0	0	0
c	0	0	1	0	0
d	1	0	0	1	1
e	1	0	0	1	1

Покажите, что данное отношение является эквивалентностью и определите класс эквивалентности, имеющий максимальную мощность.

Решение. Заметим, что матрица симметричная и содержит единицы на главной диагонали, поэтому $P_{0,9}$ – симметричное и рефлексивное отношение. Легко проверить, что $P_{0,9} \circ P_{0,9} = P_{0,9}$, а, следовательно, данное отношение является транзитивным. Таким образом, $P_{0,9}$ – эквивалентность, и поэтому матрицу можно привести к блочно-диагональному виду, группируя одинаковые строки, и беря в том же порядке столбцы. Получим

$P_{0,9}$	a	d	e	b	c
a	1	1	1	0	0
d	1	1	1	0	0
e	1	1	1	0	0
b	0	0	0	1	0
c	0	0	0	0	1

Блоки из 1 соответствуют классам эквивалентности. Таким образом, имеем

$$K_1 = \{a, d, e\}, K_2 = \{b\}, K_3 = \{c\}.$$

Ответ: 3

Критерий оценивания	Шкала оценок
Если обучающийся доказал, что отношение является эквивалентностью, нашел классы и указал мощность максимального класса.	5 балла
Обучающийся доказал, что отношение является эквивалентностью, но не нашел классы эквивалентности.	2 балла
Обучающийся не доказал, что отношение является эквивалентностью.	0 баллов

ПК-4. Способен осуществить выполнение экспериментов и оформить результаты исследований и разработок

Период окончания формирования компетенции: 8 семестр

Перечень дисциплин (модулей), практик, участвующих в формировании компетенции:

Дисциплины (модули):

Б1.В.05 Математические основы компьютерных вычислений (5 семестр)

Б1.В.07 Структурное моделирование вычислительных систем (7 семестр)

Б1.В.08 Вычислительные алгоритмы решения прикладных задач (8 семестр)

Б1.В.09 Планирование и оптимизация вычислительных процессов (8 семестр)

Б2.В.02(П) Производственная практика (проектно-технологическая) (8 семестр)

Б1.В.05 Математические основы компьютерных вычислений1) закрытые задания (тестовые, средний уровень сложности):

1. На хранение чисел в некоторой машинной системе счисления отводится 2 байта: 1 бит на знак, 5 битов на показатель и 10 битов на мантиссу. Чему равно смещение показателя степени для чисел, представимых в данной системе счисления?

- а) 0
- б) 1
- в) 15
- г) 31
- д) 127

Ответ: в)

2. Укажите верное представление числа -273.15 в системе счисления с плавающей точкой, заданной следующими параметрами: основание равно 10, количество разрядов дробной части мантиссы равно 3, границы диапазона значений показателя: $-10, 10$.

- а) $(-1)^1 \cdot 2.7315 \cdot 10^2$;
- б) $(-1)^1 \cdot 2.731 \cdot 10^2$;
- в) $(-1)^1 \cdot 2.732 \cdot 10^2$;
- г) $(-1)^1 \cdot 2.73 \cdot 10^2$.

Ответ: в)

3. Укажите верное представление числа 4.625 в системе счисления с плавающей точкой, заданной следующими параметрами: основание равно 2, количество разрядов дробной части мантиссы равно 4, границы диапазона значений показателя: $-10, 10$.

- а) $(-1)^0 \cdot 1.001 \cdot 2^2$;
- б) $(-1)^0 \cdot 1.010 \cdot 2^2$;
- в) $(-1)^0 \cdot 1.0011 \cdot 2^2$;
- г) $(-1)^0 \cdot 1.0010 \cdot 2^2$.

Ответ: г)

4. Укажите количество положительных нормализованных чисел в системе счисления с плавающей точкой, заданной следующими параметрами: основание равно 2, количество разрядов дробной части мантиссы равно 2, границы диапазона значений показателя: $-1, 2$.

- а) 8;
- б) 12;
- в) 16;
- г) 24.

Ответ: в)

5. Укажите, чему равна машинная точность для нормализованной системы счисления с плавающей точкой, заданной следующими параметрами: основание равно 10, количество разрядов дробной части мантииссы равно 3, границы диапазона значений показателя: $-10, 10$.

- а) 0.05;
- б) 0.01;
- в) 0.005;
- г) 0.001.

Ответ: г)

6. Укажите, чему равна машинная точность для нормализованной системы счисления с плавающей точкой, заданной следующими параметрами: основание равно 2, количество разрядов дробной части мантииссы равно 3, границы диапазона значений показателя: $-10, 10$.

- а) 0.5;
- б) 0.25;
- в) 0.125;
- г) 0.0625.

Ответ: в)

7. Сколько байтов отводится на хранение чисел одинарной точности, согласно стандарту IEEE 754?

- а) 1;
- б) 2;
- в) 4;
- г) 8.

Ответ: в)

8. Сколько байтов отводится на хранение чисел двойной точности, согласно стандарту IEEE 754?

- а) 2;
- б) 4;
- в) 8;
- г) 16.

Ответ: в)

9. На хранение чисел в некоторой машинной системе счисления отводится 2 байта: 1 бит на знак, 5 битов на показатель и 10 битов на мантиссу. Чему равна верхняя граница значений показателя степени для чисел, представимых в данной системе счисления?

- а) 7
- б) 15
- в) 31
- г) 127

Ответ: б)

10. На хранение чисел в некоторой машинной системе счисления отводится 2 байта: 1 бит на знак, 5 битов на показатель и 10 битов на мантиссу. Укажите побитовое представление показателя степени для числа $(-1)^1 \cdot 1.1000110101 \cdot 2^3$.

- а) 10000
- б) 10001
- в) 10010
- г) 10011

Ответ: в)

11. На хранение чисел в некоторой машинной системе счисления отводится 2 байта: 1 бит на знак, 5 битов на показатель и 10 битов на мантиссу. Укажите представление мантиссы для числа $(-1)^1 \cdot 1.1000110101 \cdot 2^3$.

- а) 11000110101
- б) 1000110101
- в) 10001
- г) 10010

Ответ: б)

12. На хранение чисел в некоторой машинной системе счисления отводится 2 байта: 1 бит на знак, 5 битов на показатель и 10 битов на мантиссу. Укажите побитовое представление показателя степени для специальных чисел (таких, как бесконечность, NaN).

- а) 00000
- б) 00001
- в) 11110
- г) 11111

Ответ: г)

13. На хранение чисел в некоторой машинной системе счисления отводится 2 байта: 1 бит на знак, 5 битов на показатель и 10 битов на мантиссу. Укажите побитовое

представление максимально возможного показателя степени для нормализованных чисел.

- а) 00000
- б) 00001
- в) 11110
- г) 11111

Ответ: в)

2) открытые задания (тестовые, повышенный уровень сложности):

1. Нормализованная система счисления с плавающей точкой задана следующими параметрами: основание равно 2, количество разрядов дробной части мантииссы равно 6, границы диапазона значений показателя: $-10, 10$. Определите, чему равно значение числа $(-1)^0 \cdot 1.010011 \cdot 2^4$ (в десятичной системе счисления с фиксированной точкой).

Ответ: 20.75

2. Нормализованная система счисления с плавающей точкой задана следующими параметрами: основание равно 8, количество разрядов дробной части мантииссы равно 4, границы диапазона значений показателя: $-10, 10$. Определите, чему равно значение числа $(-1)^1 \cdot 2.0230 \cdot 8^2$ (в десятичной системе счисления с фиксированной точкой).

Ответ: -130.375

3. Чему равно количество положительных нормализованных чисел в системе счисления с плавающей точкой, заданной следующими параметрами: основание равно 3, количество разрядов дробной части мантииссы равно 1, границы диапазона значений показателя: $-2, 2$.

Ответ: 30.

4. На хранение чисел в некоторой машинной системе счисления отводится 2 байта: 1 бит на знак, 5 битов на показатель и 10 битов на мантииссу. Укажите побитовое представление показателя степени для числа $(-1)^0 \cdot 1.0011001101 \cdot 2^{(-2)}$.

Ответ: 01101

5. На хранение чисел в некоторой машинной системе счисления отводится 2 байта: 1 бит на знак, 5 битов на показатель и 10 битов на мантииссу. Укажите побитовое представление мантииссы для числа $(-1)^0 \cdot 1.0011001101 \cdot 2^{(-2)}$.

Ответ: 0011001101

Комментарий: ответ 1.0011001101 считается неверным.

6. На хранение чисел в некоторой машинной системе счисления отводится 2 байта: 1 бит на знак, 5 битов на показатель и 10 битов на мантиссу. Укажите побитовое представление показателя степени для денормализованных чисел.

Ответ: 00000

Комментарий: ответ 0 считается неверным; должна быть последовательность ровно из пяти нулей.

Б1.В.07 Структурное моделирование вычислительных систем

1) закрытые задания (тестовые, средний уровень сложности):

1. Укажите свойства бесконтурного графа

- а) существует хотя бы одна вершина без входящих дуг;
- б) степени всех вершин равны;
- в) между каждой парой вершин имеется единственный путь;
- г) после удаления любой вершины полученный подграф остается бесконтурным;
- д) существует хотя бы одна вершина без выходящих дуг;
- е) граф может быть упорядочен в виде разложения по уровням.

Ответ: а), г), д), е)

2. Укажите свойства иерархического представления бесконтурного графа

- а) вершины без выходящих дуг располагаются только на нижнем уровне;
- б) вершины без выходящих дуг могут располагаться на любом уровне, начиная со второго;
- в) вершины, находящиеся на одном уровне, могут быть смежны;
- г) если нумерация уровней начинается с 0, то для вершин, расположенных на уровне k , существует максимальный путь из какой-либо вершины верхнего уровня, состоящий из k дуг;
- д) иерархия включает транзитивно замыкающие дуги;
- е) иерархия не включает транзитивно замыкающие дуги.

Ответ: а), е)

3. Из перечисленных свойств выберите свойства деревьев

- а) имеет $(n - 1)$ ребер;
- б) не является связным;
- в) не содержит циклов, но добавление ребра между любыми двумя несмежными вершинами приводит к появлению цикла;
- г) все циклы простые;
- д) не имеет висячих вершин;
- е) связан, но утрачивает это свойство после удаления любого ребра.

Ответ: а), в), е)

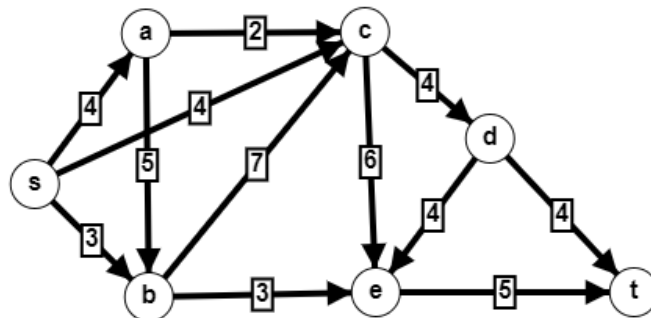
4. Под *топологической сортировкой* вершин ориентированного графа понимается
- а) разложение графа на уровни;
 - б) правильная (монотонная) нумерация вершин;
 - в) переход к конденсации.

Ответ: б)

<p>5. На рисунке изображен ориентированный граф. Укажите множество вершин, образующих ядро графа</p> <ul style="list-style-type: none"> а) {1,4}; б) {3,5}; в) {2}; г) {2,4,5}. 	
---	--

Ответ: в)

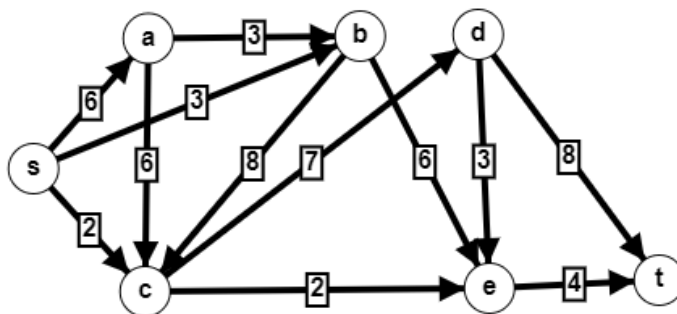
6. Определите кратчайший путь из s в t с помощью алгоритма Дейкстры. Какие вершины на последнем шаге имеют постоянные метки? Укажите номер варианта, который соответствует правильному решению задачи.



№	Длина пути	Кратчайший путь	Вершины с постоянными метками на последнем шаге
1	12	$s \rightarrow c \rightarrow d \rightarrow t$	s, c, d, t
2	11	$s \rightarrow b \rightarrow e \rightarrow t$	s, b, e, t
3	11	$s \rightarrow b \rightarrow e \rightarrow t$	s, a, b, c, d, e, t
4	11	$s \rightarrow b \rightarrow e \rightarrow t$	s, b, c, e, t

Ответ: 3

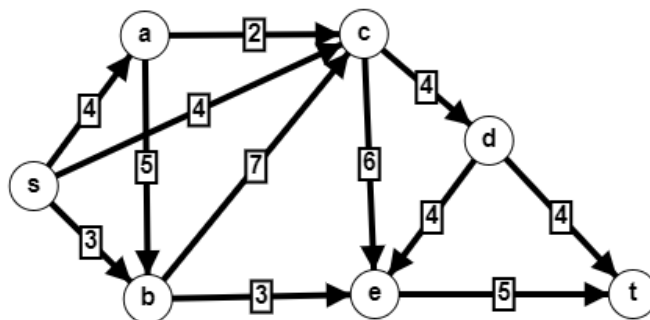
7. Для данного графа определите правильную (монотонную) нумерацию вершин (нумерация начинается с 1). Найти длину максимального (критического) пути из вершины s в вершины с четными номерами. Определите длину максимального пути из s в t . Укажите номер варианта, который соответствует правильному решению задачи.



№	2	4	6	Длина максимального пути	Максимальный путь
1	2	11	25	32	$s \rightarrow a \rightarrow c \rightarrow b \rightarrow e \rightarrow d \rightarrow t$
2	6	13	21	26	$s \rightarrow a \rightarrow c \rightarrow d \rightarrow e \rightarrow t$
3	6	17	27	32	$s \rightarrow a \rightarrow b \rightarrow c \rightarrow d \rightarrow t$
4	2	9	26	32	$s \rightarrow a \rightarrow b \rightarrow c \rightarrow d \rightarrow t$

Ответ: 3

8. Пусть задан взвешенный бесконтурный ориентированный граф. Укажите номер варианта, который соответствует правильному решению задачи нахождения величины кратчайшего пути из s в t .

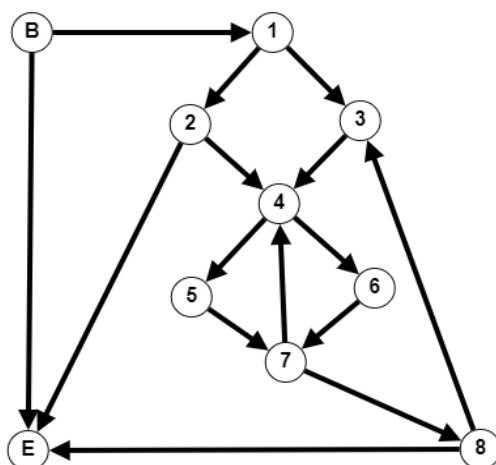


Варианты решения	Длина пути	Кратчайший путь
1	11	$s \rightarrow c \rightarrow d \rightarrow t$
2	11	$s \rightarrow b \rightarrow e \rightarrow t$
3	12	$s \rightarrow c \rightarrow d \rightarrow t$

Ответ: 2

9. Пусть модель вычислений представлена потоковым графом (вершины представляют операторы, а дуги – передачу управления). В графе выделяются две вершины – начальная B (точка входа в программу) и конечная E (точка выхода из программы). Вершина u доминирует вершину v тогда и только тогда, когда все пути от начальной вершины B к вершине v проходят через вершину u . Входная информация любой вершины определяется через объединение свойств выходов вершин-предшественников. Отношение доминирования может быть представлено *деревом доминирования*. Для графа программы, изображенного на рисунке, постройте дерево доминирования.

доминирования. На его основе укажите все вершины, которые не доминируют никакие другие вершины.



- a) 2, 4, 5, 8;
 b) 2, 3, E;
 c) 2, 5, 6, 8, E.
 Ответ: c)

2) открытые задания (расчетные, повышенный уровень сложности):

1. При определении вычислительной сложности алгоритмов учитываются способы реализации арифметических операций. Установите соответствие между следующими полиномами

- 1) $f_1(x) = 3x^2 + 4x + 5$,
 2) $f_2(x) = 2x^4 + 4x^3 + 3x^2 + 2x + 7$,
 3) $f_3(x) = x^5 + 4x^4 + 2x^3 + 6x^2 + x + 3$,
 4) $f_4(x) = x^6 + 9x^5 + 8x^4 + 7x^3 + x^2 + x + 12$,

вычисляемыми в заданной точке $x = c$, и выигрышем в числе арифметических операций в случае непосредственного вычисления выражения и при помощи схемы Горнера. Под выигрышем понимается разность между большим и меньшим числом операций.

Решение.

Легко посчитать, что, если при $x = c$ полином

$$f(x) = a_n x^n + a_{n-1} x^{n-1} + \dots + a_2 x^2 + a_1 x + a_0$$

вычисляется непосредственно, то общее число арифметических операций равно $\frac{n(n+1)}{2} + n$. Если используется схема Горнера, то общее число арифметических операций равно $2n$, так как в этом случае имеет место представление

$$f(x) = x \left(x \left(\dots x \left((a_n x + a_{n-1}) + a_{n-2} \right) + \dots + a_2 \right) + a_1 \right) + a_0.$$

В следующей таблице приведены данные об общем числе операций для каждого случая и соответствующий выигрыш.

Полином	Непосредственное вычисление	Схема Горнера	Выигрыш
f_1	5	4	1
f_2	14	8	6
f_3	20	10	10
f_4	27	12	15

Ответ: 1,6,10,15

2. Для реализации нового масштабного проекта предполагается организовать центр обработки данных (ЦОД), который может быть оснащен компьютерами четырех типов. На обработку будут приниматься данные, относящиеся к одному из пяти видов задач, требующих различной вычислительной мощности. Расходы на обработку данных оплачивают заказчики. Условные стоимости решения соответствующей задачи представлены в таблице. Будем рассматривать данную задачу с точки зрения теории игр. Здесь можно выделить двух игроков: **I** – организаторы ЦОД, **II** – пользователи ЦОД, тогда матрица условных стоимостей может рассматриваться как платежная матрица в игре 4×5 .

Таблица – Матрица стоимостей

→Задачи (II)	T_1	T_2	T_3	T_4	T_5
↓ Компьютеры (I)					
C_1	200	400	600	400	700
C_2	300	400	600	500	800
C_3	400	500	600	500	800
C_4	700	300	500	200	100

Проанализируйте данную матрицу и укажите индексы доминирующих стратегий игроков **I** и **II** (последовательно через запятую).

Решение.

Проанализируем платежную матрицу и определим доминирующие стратегии.

Стратегия игрока **I** – увеличить приток средств, поэтому доминирующая стратегия определяется следующим образом: *стратегия C_i игрока A доминирует над стратегией C_j , если в платежной матрице элементы i -ой строки больше или равны соответствующих элементов j -ой строки.* Анализ платежной матрицы показывает, что для игрока **I** стратегии C_1 и C_2 не выгодны, так как стратегия C_2 доминирует над стратегией C_1 , а стратегия C_3 доминирует над стратегией C_2 . Таким образом, C_1 и C_2 можно исключить из рассмотрения. После анализа стратегий игрока **I**, платежная матрица будет иметь следующий вид.

→→Задачи (II)	T_1	T_2	T_3	T_4	T_5
↓ Компьютеры (I)					
C_3	400	500	600	500	800
C_4	700	300	500	200	100

Теперь проанализируем стратегии игрока **II**. Стратегия данного игрока – экономное расходование средств. Поэтому определение доминирования здесь другое. Стратегия T_i игрока **II** доминирует над стратегией T_j , если в платежной матрице элементы i -ой строки не превосходят соответствующих элементов j -ой строки.

Тогда стратегия T_4 доминирует над стратегией T_3 и над стратегией T_2 , поэтому T_2 и T_3 можно исключить. Доминирующими стратегиями игрока **II** являются T_1, T_4, T_5 . Окончательно, платежная матрица будет иметь следующий вид.

→Задачи (II)	T_1	T_4	T_5
↓Компьютеры (I)			
C_3	400	500	800
C_4	700	200	100

Ответ: 3,4,1,4,5

3. Руководство компании i-Technologies приняло решение о формировании парка компьютеров для вновь создаваемого отдела, который будет заниматься различными задачами, в том числе, требующими больших вычислительных мощностей. Для решения данной проблемы была создана экспертная группа, в которую вошли представители различных отделов компании (табл. 1).

Таблица 1 – Экспертная группа

ФИО	Отдел	Обозначение вершины в знаковом графе
Алексеев А.В.	Отдел серверного и сетевого оборудования	А
Воротнев Ю.В.	Сектор информационной безопасности	В
Гайдин А.К.	Управление развития и контроля	Г
Маракян Е.Д.	Отдел разработки и внедрения ПО	М
Осипова А.А.	Отдел бюджета и финансов	О
Попов Е.Д.	Администрация контрактов	П
Русецкая Я.П.	Отдел управления качеством	Р
Юсин В.Я.	Проектный офис	Ю

В рамках консультаций с каждым из экспертов была сформирована оценка количества и качества закупаемых компьютеров. Экспертная группа относится к *малым группам*, поэтому для оценки согласованности экспертных суждений была построена ее математическая модель в форме знакового графа (рисунок), в котором вершины соответствуют экспертам, и если два эксперта проявляют согласованность в своих суждениях, то, соответствующее ребро помечается знаком «+», иначе – знаком «-». Если для некоторых пар экспертов их согласованность не влияет на процесс принятия решений, то в графе соответствующее ребро отсутствует.

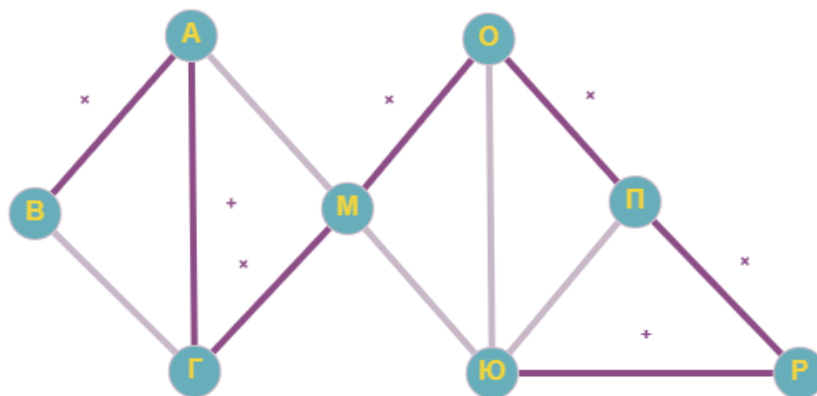


Рисунок – Знаковый граф экспертной группы
(темные ребра помечены знаком «+», светлым ребрам соответствует знак «-»)

Заметим, что в знаковом графе можно определить знак цепи и цикла, перемножая знаки (+1 и -1) его ребер. В следующей таблице перечислены простые циклы графа и их знаки.

Таблица 2

ЦИКЛЫ					
Длина 3	Знак	Длина 4	Знак	Длина 5	Знак
АВГ	-	АВГМ	+	МОПРЮ	-
АМГ	-	МОПЮ	+		
МОЮ	+	ПОЮР	-		
ПОЮ	+				
ПРЮ	-				

Для оценки согласованности применим подход, который основан на понятии *сбалансированности*. Малая группа считается *сбалансированной*, если каждый цикл в ее знаковом графе положителен. Считается, что сбалансированные группы демонстрируют отсутствие напряжения и обладают способностью хорошо выполнять задание, хорошо работать вместе и т.д. Для *относительной количественной оценки сбалансированности* используется формула

$$b(G) = \frac{\sum_{k=3}^C \frac{1}{k} p_k}{\sum_{k=3}^C \frac{1}{k} t_k} \in [0, 1],$$

где $b(G)$ – относительная оценка баланса; t_k – количество простых циклов длины k (содержит k ребер); p_k – количество положительных циклов длины k ; C – максимальная длина простого цикла.

Определите относительную количественную оценку сбалансированности для рассматриваемой экспертной группы (вычисления производить с точностью до двух значащих цифр после запятой).

Ответ: 0.45

Б1.В.08 Вычислительные алгоритмы решения прикладных задач1) закрытые задания (тестовые, средний уровень сложности):

1. Какая из перечисленных задач может быть решена методом редукции к задаче Коши:

1) $u'' - 5u' + 4u = 8; u(0) = 1; u(\ln 2) = 7;$

2) $u'' + \frac{x^2}{32u^2} = 0,125; u(0) = 0; 2u'(1) - 2u = 0;$

3) $u'' - 5u' + 4u = 8; u(0) = 1; u'(0) = 0,75 ;$

4) $u'' - 6u' + 9u^2 = 9x; u(0) = 0; u(1) = 5$

Ответ: 1)

2. Какая из перечисленных задач может быть решена методом пристрелки:

1) $u'' - 5u' + 4u = 8; u(0) = 1; u'(0) = 0,75 ;$

2) $u'' + \frac{x^2}{32u^2} = 0,125; u(0) = 0; 2u'(1) - 2u = 0;$

3) $u' = x + u; u(0) = 1;$

4) $u' = 0,5xu; u(0) = 1$

Ответ: 2)

3. Выберите правильное утверждение: метод пристрелки применяется для решения

1) только линейных краевых задач второго порядка;

2) только для нелинейных краевых задач второго порядка;

3) линейных и нелинейных краевых задач порядка k ($k \geq 2$);

4) для решения задачи Коши дифференциальных уравнений второго порядка.

Ответ: 3)

4. Выберите правильное утверждение: метод редукции (суперпозиции) к задаче Коши применяется для решения

1) линейных и нелинейных краевых задач порядка k ($k \geq 2$);2) линейных краевых задач порядка k ($k \geq 2$);

3) только для нелинейных краевых задач второго порядка;

4) только для нелинейных краевых задач третьего порядка;

Ответ: 2)

5. Какая из перечисленных задач может быть решена методом редукции к задаче Коши:

1) $u'' - 5u' + 6u = 2e^x; u(0) = 2; u(\ln 3) = -6;$

$$2) u'' + \frac{x^2}{32u^2} = 0,125; u(0) = 0; 2u'(1) - 2u = 0;$$

$$3) u'' - 25u' + 4u = 10; u(0) = 1; u'(0) = 0,75 ;$$

$$4) u'' - 6u' + 9u^2 = 9x; u(0) = 0; u(1) = 5$$

Ответ: 1)

6. Какая из перечисленных задач может быть решена методом редукции к задаче Коши:

$$1) u'' - 5u' + 6u = 2e^x; u(0) = 2; u'(0) = -6;$$

$$2) u'' + x^2u^2 = 0,125; u(0) = 0; u'(1) - 0,5u = 0;$$

$$3) u'' - 25u' + 4u = 10; u(0) = 1; u'(0) = 0,75 ;$$

$$4) u'' - 6u' + 9u = 9x; u(0) = 0; u(1) = 5$$

Ответ: 4)

7. Какая из перечисленных задач может быть решена методом редукции к задаче Коши:

$$1) u'' - 5u' + 6u = 2e^x; u(0) = 2; u'(0) = -6;$$

$$2) u'' + \frac{x^2}{32u^2} = 0,125; u(0) = 0; 2u'(1) - 2u = 0;$$

$$3) u'' + 3u' + 2u = 6e^x; u(0) = 7; u(\ln 2) = 3;$$

$$4) u'' - u^2u' + 9u = 9x; u(0) = 0; u(1) = 5$$

Ответ: 3)

2) открытые задания (тестовые, повышенный уровень сложности):

1. Краевая задача

$$u''(x) + p(x)u'(x) - q(x)u(x) = f(x),$$

$$x \in [0; 1]$$

$$u(0) = A; u(1) = B$$

решается численно методом дифференциальной прогонки. Для проверки правильности работы программы необходимо подготовить тестовый пример. Для него берутся $p(x) = 3$; $q(x) = x$. Напишите, какими должны быть

$f(x)$, A , B , чтобы решением данной задачи была функция

$$u(x) = x^2.$$

Ответ: $f(x) = -x^3 + 6x + 2$; $A = 0$; $B = 1$.

2. Краевая задача

$$u''(x) + p(x)u'(x) - q(x)u(x) = f(x),$$

$$x \in [0; 1]$$

$$u(0) = A; u(1) = B$$

решается численно методом дифференциальной прогонки. Для проверки правильности работы программы необходимо подготовить тестовый пример. Для него берутся $p(x) = 2 - x$; $q(x) = 4$. Напишите, какими должны быть

$f(x)$, A , B , чтобы решением данной задачи была функция $u(x) = x^3$.

Ответ: $f(x) = -7x^3 + 6x^2 + 6x$; $A = 0$; $B = 1$.

3. Краевая задача

$$u''(x) + p(x)u'(x) - q(x)u(x) = f(x),$$

$$x \in [0; 1]$$

$$u(0) = A; u(1) = B$$

решается численно методом дифференциальной прогонки. Для проверки правильности работы программы необходимо подготовить тестовый пример. Для него берутся $p(x) = x$; $q(x) = 1 - x$. Напишите, какими должны быть

$f(x)$, A , B , чтобы решением данной задачи была функция $u(x) = x^2 + 4$.

Ответ: $f(x) = x^3 + x^2 + 4x - 2$; $A = 4$; $B = 5$.

Б1.В.09 Планирование и оптимизация вычислительных процессов

1) закрытые задания (тестовые, средний уровень сложности):

1. Как называется графическое представление одного из возможных расписаний рассматриваемой задачи?

- а) диаграмма Гантта
- б) матрица расписания
- в) таблица простоев

Ответ: а)

2. Директивный срок – это

- а) длительность обслуживания требования
- б) момент времени, к которому желательно завершить обслуживание требования
- в) момент времени, начиная с которого требование может быть поставлено на обслуживание

Ответ: б)

3. Какие сроки в расписании НЕ могут нарушаться?

Ответ: предельные сроки, крайние сроки

4. Каким является расписание, содержащее требование, завершающееся после своего предельного момента?

Ответ: недопустимым

5. Расписание, содержащее требование, завершающееся после своего предельного момента, является

- а) неоптимальным
- б) недопустимым
- в) с прерываниями

Ответ: б)

6. Как называется система, в которой каждое требование должно последовательно пройти обслуживание на каждом из приборов, причём порядок обслуживания для любого требования одинаков?

Ответ: конвейерная система

7. Если прерывания в процессе выполнения требований запрещены, то в любом допустимом расписании

- а) требование может переходить с одной машины на другую без временных задержек при переходе
- б) требование должно целиком выполняться на одной машине в одном интервале времени
- в) время завершения выполнения требования не должно превышать его директивный срок

Ответ: б)

8. Какие условия выполняются для задачи построения расписания с задержками перехода между машинами?

- а) если работы, связанные отношением предшествования, выполняются на одной машине, то величина задержки между ними незначительна
- б) если работы, связанные отношением предшествования, выполняются на одной машине, то в расписании необходимо учесть задержку на переналадку машины
- в) если работы, связанные отношением предшествования, выполняются на разных машинах, то в расписании необходимо учесть время задержки на переход от одной машины к другой

г) если работы, связанные отношением предшествования, выполняются на разных машинах, то время задержки на переход от одной машины к другой считается несущественным

Ответ: а), в)

9. Пусть имеется 5 требований и один прибор. Длительности выполнения требований равны 5, 1, 3, 7, 2. Директивные сроки D_i равны 10, 10, 15, 20, 20 соответственно. Известно, что можно построить расписание, в котором все требования укладываются в директивные сроки. Найти расписание, при котором все требования укладываются в директивные сроки и среднее время их завершения $F = \sum_{i=1}^5 f_i(\sigma)$

(где f_i - время завершения требования i в расписании σ) минимально.

- а) 12534
- б) 25134
- в) 23145

Ответ: б)

10. Пусть имеется 5 требований и один прибор. Длительности выполнения требований равны 5, 1, 3, 7, 2. Директивные сроки D_i равны 10, 10, 15, 20, 20 соответственно. Известно, что можно построить расписание, в котором все требования укладываются в директивные сроки. Найти расписание, при котором все требования укладываются в директивные сроки и среднее время их завершения $F = \sum_{i=1}^5 f_i(\sigma)$

(где f_i - время завершения требования i в расписании σ) минимально. В ответ выписать значение F среднего времени завершения требований для найденного расписания.

Ответ: 41

11. Какие критерии не используются при оценке расписаний?

- а) минимизация среднего времени окончания работ
- б) минимизация длины расписания
- в) минимизация числа требований в расписании

Ответ: в)

12. Какой из алгоритмов планирования подразумевает равномерную загрузку всех процессорных узлов, когда каждый из них выполняет свою часть программы примерно за одинаковое время

- а) алгоритм балансировки нагрузки
- б) алгоритм торгов или предложения цены

в) алгоритм связного планирования

Ответ: а)

13. Назовите алгоритм планирования, при использовании которого для запуска может быть выбрана не первоочередная работа, если она не блокирует выполнение работы в начале очереди и при этом имеется достаточно свободных ресурсов.

Ответ: бэкфилинг (backfilling)

14. Какой из алгоритмов планирования подразумевает, что узлы обмениваются информацией о том, какие из них и чем загружены, а какие могли бы выполнить работы. Все узлы могут как предлагать работу, так и предоставлять доступный ресурс.

- а) алгоритм балансировки нагрузки
- б) алгоритм торгов или предложения цены
- в) алгоритм связного планирования

Ответ: б)

15. Выберите верные утверждения

- а) задержка в назначении требований может приводить к улучшению расписаний в условиях не идентичности процессоров
- б) возможность прерывания не улучшит длину расписания при идентичных процессорах
- в) если требования поступают в систему неодновременно, то возможность прерываний может улучшить расписание только в случае, когда прерывания происходят только в моменты поступления новых требований

Ответ: а), в)

Б2.В.02(П) Производственная практика (проектно-технологическая)

1) закрытые задания (тестовые, средний уровень сложности):

1. Ячейка таблицы MS Excel НЕ может содержать:

- а) рисунок
- б) дату и время
- в) формулу

Ответ: а)

2. Какая единица измерения обычно связана с разрешением графики?

- а) бит/сек

- б) пиксели
в) Гб

Ответ: б)

ПК-5. Способен разрабатывать и применять алгоритмические и программные решения в области системного и прикладного программного обеспечения

Период окончания формирования компетенции: 8 семестр

Перечень дисциплин (модулей), практик, участвующих в формировании компетенции:

Дисциплины (модули):

Б1.В.05 Математические основы компьютерных вычислений (5 семестр)

Б1.В.06 Мягкие вычисления (6 семестр)

Б1.В.07 Структурное моделирование вычислительных систем (7 семестр)

Б1.В.08 Вычислительные алгоритмы решения прикладных задач (8 семестр)

Б2.В.01(У) Учебная практика (технологическая) (6 семестр)

Б2.В.02(П) Производственная практика (проектно-технологическая) (8 семестр)

Б1.В.05 Математические основы компьютерных вычислений

- 1) закрытые задания (тестовые, средний уровень сложности):

1. Какая из перечисленных ниже арифметических операций, как правило, приводит к возникновению значительной относительной погрешности результата вычислений:

- а) сложение двух близких чисел;
б) вычитание двух близких чисел;
в) умножение двух близких чисел;
г) деление двух близких чисел.

Ответ: б)

2. Какой способ выполнения равномерного разбиения отрезка $[a, b]$ на N подотрезков приведёт к возникновению минимально возможной вычислительной погрешности:

а) $h = (b-a) / N$;

$x[0] = a$;

для i от 1 до N

начало цикла

$x[i] = x[i-1] + h$;

конец цикла;

б) $h = (b-a) / N$;
 $x[N] = b$;
 для i от N до 1 шагом -1
 начало цикла
 $x[i] = x[i+1] - h$;
 конец цикла;

в) $h = (b-a) / N$;
 для i от 0 до N
 начало цикла
 $x[i] = a + i * h$;
 конец цикла;

г) для i от 0 до N
 начало цикла
 $x[i] = a + (b-a) * i / N$;
 конец цикла.

Ответ: г)

3. Каким способом предпочтительнее вычислять среднее арифметическое m двух близких положительных чисел a и b в системе счисления, в которой для промежуточных вычислений не используются дополнительные младшие разряды?

- а) как правило, точнее результат, полученный по формуле $m = (a+b) / 2$;
- б) как правило, точнее результат, полученный по формуле $m = a + (b-a) / 2$;
- в) точность вычислений не зависит от выбора способа вычислений.

Ответ: б)

4. Каким способом предпочтительнее вычислять среднее арифметическое m двух близких по модулю, но разных по знаку чисел a и b в системе счисления, в которой для промежуточных вычислений не используются дополнительные младшие разряды?

- а) как правило, точнее результат, полученный по формуле $m = (a+b) / 2$;
- б) как правило, точнее результат, полученный по формуле $m = a + (b-a) / 2$;
- в) точность вычислений не зависит от выбора способа вычислений.

Ответ: а)

5. К параметрам системы счисления с плавающей точкой не относится:

- а) основание;

- б) показатель;
- в) количество разрядов дробной части мантииссы;
- г) границы диапазона значений показателя.

Ответ: б)

6. Представление вещественного числа в системе счисления с плавающей точкой не содержит:

- а) знак;
- б) модуль;
- в) показатель;
- г) мантииссу.

Ответ: б)

7. К этапам формирования стандартного представления вещественного числа в системе счисления с плавающей точкой не относится:

- а) приведение числа к основанию данной системы счисления;
- б) нормализация;
- в) дефазификация;
- г) округление.

Ответ: в)

8. Укажите неверное утверждение, касающееся распределения чисел заданной системы счисления с плавающей точкой по координатной оси:

- а) числа распределены равномерно на всей области значений;
- б) числа распределены равномерно не на всей области значений, а только между последовательными степенями основания;
- в) расстояние между двумя последовательными тем больше, чем больше их показатели.

Ответ: а)

9. Машинная точность данной системы счисления с плавающей точкой равна

- а) минимальному положительному нормализованному числу этой системы счисления;
- б) минимальному положительному денормализованному числу данной этой системы счисления;
- в) расстоянию от единицы до следующего числа, представимого в этой системе счисления;
- г) расстоянию от нуля до следующего числа, представимого в этой системе счисления.

Ответ: в)

10. Машинное представление вещественного числа в памяти компьютера не содержит:

- а) побитовое представление знака числа;
- б) побитовое представление модуля числа;
- в) побитовое представление мантиссы числа;
- г) побитовое представление показателя числа.

Ответ: б)

11. В различных средах программирования, основанных на языках высокого уровня, создаваемые программы, как правило, используют арифметический сопроцессор, в котором:

- а) вычисления выполняются над числами расширенной точности; числа одинарной и двойной точности используются для обмена с процессором и оперативной памятью;
- б) вычисления выполняются над числами одинарной и двойной точности; числа расширенной точности используются для обмена с процессором и оперативной памятью.

Ответ: а)

2) открытые задания (тестовые, повышенный уровень сложности):

1. Каким образом выполняется правильное округление в системах счисления с плавающей точкой в случае, когда округляемое число расположено ровно посередине между двумя числами, представимыми в данной системе счисления?

Ответ: до ближайшего представимого числа с мантиссой, заканчивающейся чётным разрядом; до ближайшего представимого числа с «чётной» мантиссой; до ближайшей «чётной» мантиссы.

2. При выполнении округления в системе счисления с плавающей точкой у числа появился дополнительный старший разряд. Какое дополнительное действие требуется выполнить, чтобы получить в итоге стандартное представление этого числа в данной системе счисления с плавающей точкой?

Ответ: нормализация, дополнительная нормализация.

3. Какая характеристика машинной системы счисления, в которой выполняются некоторые математические операции, позволяет оценить относительную погрешность результата этих операций?

Ответ: машинная точность; машинный эпсилон

4. Каким образом в стандарте IEEE 754 решается проблема «околонулевой ямы» нормализованных систем счисления?

Ответ: добавление в систему счисления денормализованных чисел; использование денормализованной системы счисления.

5. Каким образом в системах счисления с плавающей точкой решается проблема неоднозначности в представлении вещественных чисел?

Ответ: нормализация; нормализация системы счисления; использование нормализованных чисел.

6. Перечислите три этапа формирования стандартного представления вещественного числа в системе счисления с плавающей точкой.

Ответ: приведение к основанию системы счисления; нормализация; округление.

Б1.В.06 Мягкие вычисления

1) закрытые задания (тестовые, средний уровень сложности):

1. Укажите факторы, которые влияют на степень интеллектуальности информационной систем

а) развитость средств преодоления неопределенности на основе знания закономерностей предметной области или внешнего мира, в котором функционирует система; +++

б) организация системы в виде многоуровневой иерархической структуры;

в) тесное взаимодействие с внешним миром с помощью специальных каналов связи;

г) наличие комплекса численных методов для решения задач различных типов.

2. Укажите, какая из систем ориентирована на управление неопределенностью и принятие решений, адекватных сложившейся ситуации

а) системы, интеллектуальные в большом; +++

б) системы, интеллектуальные в малом. +++

3. Укажите типы неопределенности, для формализации которых используется понятие лингвистической переменной

а) неизвестность;

б) неточность;

в) случайность;

г) недостоверность;

д) неопределенность значений слов. +++

4. Укажите факторы, обуславливающие физическую неопределенность в прикладных задачах

- а) недостаточность информации;
- б) влияние внешней среды; +++
- в) использование естественного языка;
- г) неточность измерений; +++
- д) неполнота информации.

5. Укажите математический аппарат, который используется для формализации физической неопределенности в прикладных задачах

- а) теория нечетких множеств;
- б) нечеткая логика;
- в) теория измерений; +++
- г) теория возможностей;
- д) теория вероятностей. +++

6. Выберите модель для представления приближенной информации, которой соответствует наибольший уровень неопределенности

- а) нечеткая переменная;
- б) интервальная переменная;
- в) числовая переменная;
- г) лингвистическая переменная. +++

7. Вставьте подходящее слово в следующее определение: *нечеткое число – это _____, функция принадлежности которой является выпуклой и унимодальной на множестве \tilde{Y} .*

- а) нечеткая переменная;
- б) нечеткая величина. +++

8. Выберите ситуации, в которых целесообразно использовать лингвистические переменные

- а) информация для решения задачи не допускает количественного определения по своей природе, т.е. является качественной; +++
- б) для решения задачи используются знания, полученные от эксперта – высококвалифицированного специалиста предметной области;
- в) оценки на естественном языке являются более приемлемыми и адекватными. +++

9. Из перечисленных признаков интеллектуальности информационных систем выберите такие, обеспечение которых предполагает использование моделей приближенной информации (нечеткие, лингвистические, интервальные переменные)

- а) развитые коммуникативные способности, позволяющие формулировать запросы к системе и получать ответы на языке, максимально приближенном к естественному;
- б) умение решать плохо формализованные задачи, для которых характерны неопределенность и динамичность исходных данных и знаний; +++
- в) способность к самообучению (это возможность автоматического извлечения знаний для решения задач из накопленного опыта конкретных ситуаций);

г) способность к адаптации, т. е. к развитию системы в соответствии с объективными изменениями проблемной области.

10. Из предложенного списка выберите тип информационной системы, которая предназначена для выполнения следующих функций: консультант для неопытного или непрофессионального пользователя; ассистент в связи с необходимостью анализа различных вариантов принятия решений; партнер по вопросам, относящимся к источникам знаний из смежных областей деятельности:

- а) гипертекстовая система;
- б) система поддержки принятия решений;
- в) экспертная система; +++
- г) система мониторинга и прогнозирования.

11. Укажите, что понимается под агрегированием информации

- а) переход от векторной оценки к скалярной величине с помощью подходящей функции агрегирования; +++
- б) переход от векторной оценки размерности n к векторной оценке размерности $m < n$; +++
- в) замена векторной оценки некоторой оценкой, полученной от эксперта;
- г) замена векторной оценки одной из ее компонент, которая признается наиболее важной.

12. Укажите операцию, которая реализует дизъюнктивное агрегирование

- а) $\min\{x_1, \dots, x_n\}$;
- б) $\max\{x_1, \dots, x_n\}$; +++
- в) $\frac{1}{n} \sum_{i=1}^n x_i$.

13. Укажите, каким образом от нетранзитивного нечеткого бинарного отношения перейти к транзитивному

- а) найти отношение, обратное к исходному;
- б) построить транзитивное замыкание исходного отношения; +++
- в) построить сначала рефлексивное замыкание, а затем транзитивное.

14. Укажите, с помощью какого правила реализуется прямой логический вывод

- а) modus ponens; +++
- б) modus tollens.

2) открытые задания (тестовые, повышенный уровень сложности):

1. Пусть треугольное нечеткое число задано функцией

$$\mu_A(x) = \begin{cases} 1 - \frac{4-x}{2}, & 2 \leq x \leq 4, \\ 1 - \frac{x-4}{3}, & 4 \leq x \leq 7. \end{cases}$$

Определите значения его параметров (модальное значение; левый и правый коэффициент неопределенности).

Ответ: 4,2,3

2. Укажите свойства, которые присущи отношению подобия

- а) антирефлексивность;
- б) симметричность;
- в) максимная транзитивность;
- г) минмаксная транзитивность;
- д) антисимметричность;
- е) рефлексивность.

Ответ: б,в,е

3. Выберите истинное из двух высказываний

- а) нечеткое отношение сходства является различием;
- б) отношение различие является сходством.

Ответ: б)

4. Пусть задано отношение подобия, тогда его дополнением является

- а) отношение сходства;
- б) отношение несходства;
- в) строгий порядок;
- г) различие.

Ответ: г)

Б1.В.07 Структурное моделирование вычислительных систем

1) закрытые задания (тестовые, средний уровень сложности):

1. Под *структурой вычислительной системы* понимается

- а) совокупность взаимосвязанных и взаимодействующих компьютеров или процессоров, периферийного оборудования и программного обеспечения;
- б) совокупность комплексируемых элементов и их связей, при этом под элементами понимаются отдельные компьютеры или процессоры.

Ответ: б)

2. Укажите отличительные особенности *многомашинных вычислительных систем*

- а) компьютеры (процессоры) не имеют общей памяти, у каждого – своя локальная память;

- б) компьютеры (процессоры) имеют общую оперативную память и общие периферийные устройства;
 - в) компьютеры (процессоры) работают под управлением единой операционной системы;
 - г) каждый компьютер сохраняет возможность автономной работы и управляется собственной ОС;
 - д) распределение вычислительной нагрузки осуществляется на уровне задач;
 - е) организация вычислительного процесса осуществляется операционной системой.
- Ответ: а), г), д)

3. Каким вычислительным системам соответствуют следующие типы структурной организации: с общей шиной, с перекрестной коммутацией, с многовходовыми ОЗУ

- а) многомашинные вычислительные системы;
 - б) многопроцессорные вычислительные системы?
- Ответ: б)

4. Какой тип архитектуры вычислительных систем предполагает наличие общей оперативной памяти:

- а) архитектура фон Неймана;
- б) параллельно-процессорная архитектура;
- в) многомашинная архитектура;
- г) многопроцессорная архитектура?

Ответ: б), г)

5. Установите соответствие между элементами структуры управления ресурсами: 1) менеджер ресурсов, 2) планировщик и следующими функциями: а) определение очередности работ и их назначение на те или иные ресурсы; б) распределение вычислительных ресурсов, генерация вычислительных процессов.

Ответ: 1-б, 2-а

6. Для планирования вычислений пользователь формирует запрос, указывая необходимое число процессорных узлов, максимальное время их загрузки, желательное время запуска приложения. Укажите выбранную пользователем стратегию планирования распределенных вычислений:

- а) стратегия простого распределения;
- б) стратегия планирования на основе резервирования ресурсов;
- в) стратегия планирования на основе времени выполнения работ.

Ответ: б)

7. Под целевой архитектурой понимается

- а) структура вычислительной системы, которая разрабатывается на этапе проектирования и удовлетворяет требованиям пользователей;
- б) обобщенное представление структуры доступных вычислительных ресурсов и способа их функционирования;

в) совокупность подсистем вычислительной системы, обеспечивающих цели функционирования.

Ответ: б)

8. Некоторая модель программы, которая учитывает ее особенности при выборе соответствующей ей целевой архитектуры – это

- а) формальное описание программы;
- б) архитектурный признак;
- в) спецификация.

Ответ: в)

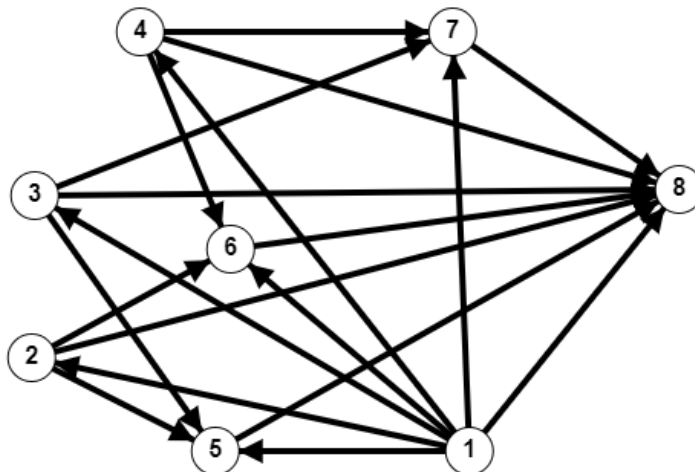
9. Определение отображения, которое задает разбиение множества объектов спецификации на блоки, соответствующие функциям архитектуры – это

- а) задача описания целевой архитектуры;
- б) задача представления спецификации целевой архитектурой;
- в) задача выделения архитектурных признаков.

Ответ: б)

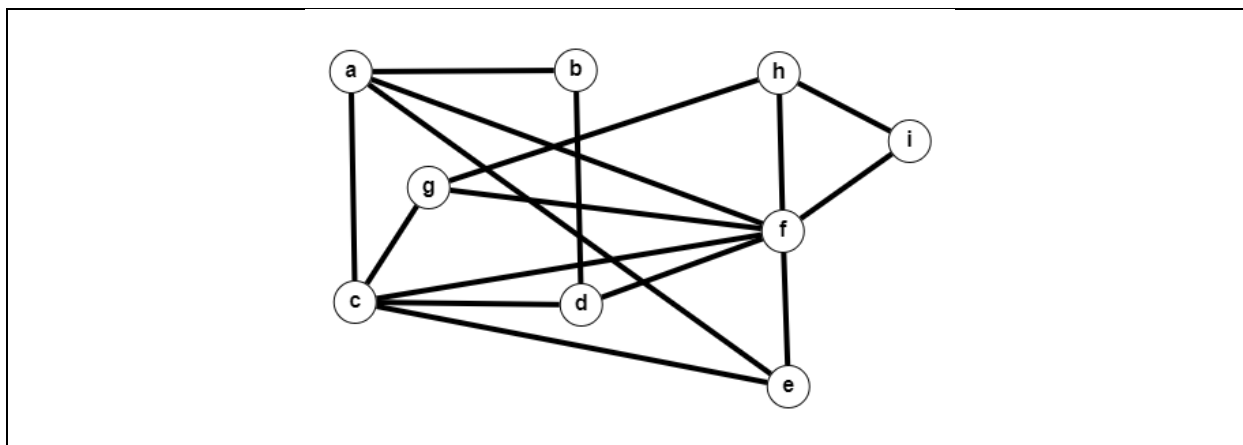
2) открытые задания (расчетные, повышенный уровень сложности):

10. На рисунке представлен граф задания, в котором вершины соответствуют задачам, а дуги – потокам данных. Представьте данный граф задания в канонической ярусно-параллельной форме. Укажите номер яруса (уровня), на котором находится задача 6 (нумерация начинается с 1).



Ответ: 3

11. На рисунке представлен граф, в котором вершины соответствуют некоторым вычислительным операциям, и две вершины соединены ребром, если для их выполнения вычислительная система использует один и тот же ресурс. Определите максимальное количество возможных параллельных процессов.



Ответ: 2

12. Для прогнозирования времени выполнения заданий важно подобрать подходящий набор параметров, замеры которых позволят сформировать обучающую выборку. Пусть имеется четыре тестовых приложения для замера *быстродействия* компьютера (R) и контрольная задача. Тестовые приложения измеряют скорость работы генератора случайных чисел (T_1), скорость выделения/заполнения/очистки большого участка памяти (T_2), выполнения арифметических операций с различными типами данных (T_3), скорость вычисления некоторой заданной сложной функции (T_4). Они скомпилированы тем же компилятором и с теми же опциями, что и контрольная задача. Замеры результатов тестовых испытаний проводились на 8 различных компьютерах (табл. 1).

Таблица 1 – Результаты замеров (в нс.)

Компьютеры	T1	T2	T3	T4	R
1	1018446	535494	4164583	7556522	5746288
2	1258446	835494	6314579	6754221	5932924
3	858033	58416	3234261	6599890	6576530
4	491785	153217	2038833	3082111	435604
5	557369	193213	1981199	3760821	333015
6	582001	143883	5031178	4082541	486273
7	1399235	979481	2958057	2644208	6496516
8	609185	376030	6652203	1589381	635932

Таким образом, обучающая выборка имеет вид

$$\{(T_1(i), T_2(i), T_3(i), T_4(i), R)\}_{i=1,8},$$

где R – зависимая выходная переменная – *время выполнения контрольного приложения* (в наносекундах). Предполагается, что данная выборка будет использоваться для обучения нейронной сети, при этом необходимо сформировать окончательный набор факторов. Матрица парных коэффициентов корреляции представлена в табл. 2.

Таблица 2 – Коэффициенты парной корреляции

	T1	T2	T3	T4	R
T1	1	0,88587594	0,175831415	0,371426772	0,881501386
T2	0,88587594	1	0,28769778	0,053498586	0,583487107
T3	0,175831415	0,28769778	1	0,077956229	0,058650426
T4	0,371426772	0,053498586	0,077956229	1	0,859005027
R	0,881501386	0,583487107	0,058650426	0,859005027	1

Укажите индексы факторов, которые необходимо учесть при формировании обучающей выборки.

Решение.

Заметим, что коэффициенты парной корреляции между каждой парой факторов, кроме T_1 и T_2 , малы или очень малы. Это означает, что они являются независимыми. Коэффициент корреляции между T_1 и T_2 приближенно равен 0.88, что говорит о том, что связь между данными факторами можно считать прямой линейной и при определении зависимости нужно учитывать только один из факторов. Так как коэффициент корреляции между T_1 и R больше, чем коэффициент корреляции между T_2 и R , то в множество зависимых факторов нужно включить T_1 . Также коэффициент корреляции между T_4 и R можно считать близким к единице. Таким образом, при выявлении зависимости нужно учитывать факторы T_1 и T_4 .

Ответ: 1, 4

13. Вычислительная система включает следующие устройства, характеризующиеся различным быстродействием и мощностью:

A – суперкомпьютер,

B – компьютер с высокопроизводительными графическими ядрами,

C – серверный компьютер,

D – игровой компьютер,

E – бюджетный компьютер (2021 года выпуска),

F – бюджетный компьютер (2017 года выпуска).

В определенный момент времени для решения пакета заданий, поступивших в систему, необходимо выполнить следующие задания: 1 – симуляция химических процессов; 2 – обработка лучей в 3D-сцене; 3 – реализация поисковых алгоритмов на графе, содержащем 100 вершин; 4 – вывод 3D-модели на экран; 5 – компиляция библиотеки; 6 – вычисление корня n -ой степени. Ниже в таблице приведена матрица временных затрат, необходимых для решения каждого из заданий на различных типах компьютеров.

$P = (p_{ij})$	1	2	3	4	5	6
A	100	30	15	16	4	1
B	189	46	30	20	8	2
C	135	60	19	50	5	1

<i>D</i>	170	55	25	31	6	2
<i>E</i>	208	75	30	47	8	2
<i>F</i>	526	200	75	133	20	5

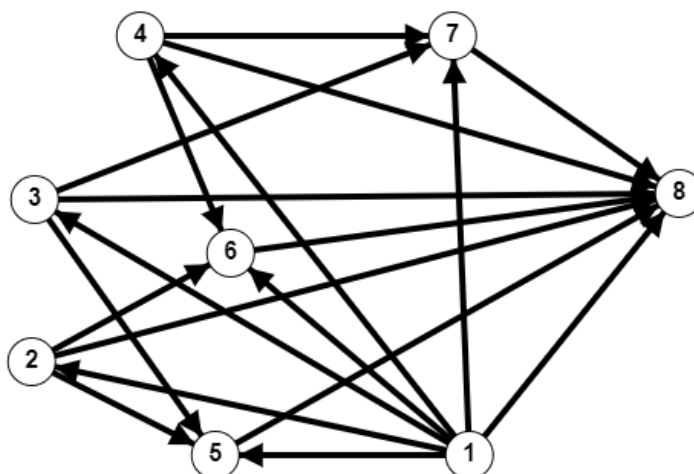
Здесь количество работ (заданий) совпадает с количеством исполнителей (устройств). Предполагается, что каждое задание выполняется только одним устройством. Цель заключается в минимизации общего времени выполнения заданий. Анализ задачи позволяет в качестве ее математической модели рассматривать *задачу о назначениях* и применить для решения *венгерский метод*. Суть метода заключается в приведении матрицы затрат P (в каждой строке и в каждом столбце появляется хотя бы один нуль) и ее последующих преобразованиях, которые связаны с перераспределением мест, занимаемых нулями. Именно на нулях строится решение задачи о назначениях. Предположим, что на последней итерации получена матрица (в ней голубым цветом выделены нули).

0	0	16	12	23	26
83	0	15	0	11	11
15	10	0	26	4	8
45	0	2	2	0	2
8	18	4	16	0	0
396	130	46	99	9	0

На основе данной матрицы с помощью алгоритма нахождения максимального паросочетания каждому из устройств ($A - D$) назначьте для выполнения одно из заданий (1-6) (в ответе укажите через запятую номера заданий, которые соответствуют каждому из устройств ($A - D$)).

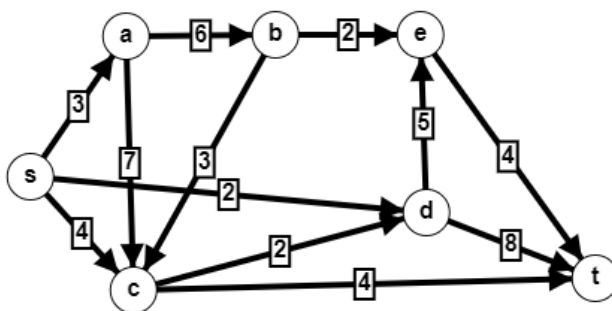
Ответ: 1, 4, 3, 2, 5, 6.

14. Для анализа маркированных потоковых графов используется понятие порядковой функции, которая задает разбиение множества вершин графа по уровням. $O(x) = l \Leftrightarrow x \in V_l$, где V_l – уровень, $l = 1, \dots, L$. Бесконтурный маркированный потоковый граф с заданной посредством порядковой функции нумерацией уровней называется L -уровневой сетью. Для графа, изображенного на рисунке, постройте представление в виде L -уровневой сети. Определите значение L .



Ответ: 4

15. Для графа, изображенного на рисунке, решается задача о нахождении величины максимального потока из s в t и соответствующего минимального разреза. Укажите номер варианта, который соответствует правильному решению задачи.



№	Величина максимального потока	Минимальный разрез
1	16	$\{(d,t), (e,t), (c,t)\}$
2	9	$\{(s,a), (a,b)\}$
3	9	$\{(s,a), (s,c), (s,d)\}$
4	13	$\{(d,t), (d,e)\}$

Ответ: 3

Б1.В.08 Вычислительные алгоритмы решения прикладных задач

1) закрытые задания (тестовые, средний уровень сложности):

1. Выберите правильное утверждение: при решении краевой задачи для обыкновенных дифференциальных уравнений второго порядка методом пристрелки на отрезке $[a, b]$ интегрирование построенной задачи Коши может осуществляться:

- 1) только от точки a к точке b ;
- 2) только от точки b к точке a ;
- 3) как от точки a к точке b , так и от точки b к точке a ;
- 4) только методами Рунге–Кутта не ниже 4-го порядка точности.

Ответ: 3)

2. Выберите правильное утверждение: при решении краевой задачи для обыкновенных дифференциальных уравнений третьего порядка методом пристрелки на отрезке $[a, b]$ интегрирование построенной задачи Коши может осуществляться:
 - 1) только от точки a к точке b ;
 - 2) только от точки b к точке a ;
 - 3) как от точки a к точке b , так и от точки b к точке a ;
 - 4) только методами Рунге–Кутта не ниже 4-го порядка точности.

Ответ: 3)

3. Выберите правильное утверждение: при решении краевой задачи для обыкновенных дифференциальных уравнений второго порядка методом пристрелки на отрезке $[a, b]$ интегрирование построенной задачи Коши может осуществляться:
 - 1) только методом Эйлера;
 - 2) любым численным методом типа методов Рунге-Кутта;
 - 3) только методами Рунге-Кутта 3-го порядка точности;
 - 4) только методами Рунге–Кутта не ниже 4-го порядка точности.

Ответ: 2)

4. Для реализации метода параллельной пристрелки при решении краевой задачи

$$u''(x) = f(x, u, u'), \quad x \in [a; b]$$

$$u(a) = A; \quad u'(b) = B$$

отрезок $[a; b]$ разбивается на два: $[a; c]$ и $[c; b]$. Выберите из предложенного перечня пункт, в котором перечислены **все** условия, необходимые для нахождения решения:

- 1) в точке c непрерывна функция $u(x)$;
- 2) в точке c непрерывна $u'(x)$;
- 3) в точке c непрерывны функция $u(x)$ и ее производная;

- 4) выполнены граничные условия, и в точке c непрерывна функция $u(x)$ и ее производная.

Ответ: 4)

5. Для реализации метода встречной пристрелки при решении краевой задачи

$$u''(x) = f(x, u, u'), \quad x \in [a; b]$$

$$u(a) = A; \quad u'(b) = B$$

отрезок $[a; b]$ разбивается на два: $[a; c]$ и $[c; b]$. Выберите из предложенного перечня пункт, в котором перечислены **все** условия, необходимые для нахождения решения:

- 1) в точке c непрерывна функция $u(x)$;
- 2) в точке c непрерывна $u'(x)$;
- 3) в точке c непрерывна функция $u(x)$ и ее производная;
- 4) выполнены граничные условия, и в точке c непрерывна функция $u(x)$ и ее производная.

Ответ: 4)

6. Нелинейная краевая задача для обыкновенного дифференциального уравнения 2-го порядка решается методом пристрелки. Для нахождения пристрелочного параметра α построено нелинейное уравнение $\varphi(\alpha) = 0$. Использование какого метода решения нелинейных уравнений требует решения вспомогательной системы дифференциальных уравнений:

- 1) метода половинного деления;
- 2) метода секущих;
- 3) метода Ньютона;
- 4) вспомогательная система никогда не требуется.

Ответ: 3)

7. Нелинейная краевая задача для обыкновенного дифференциального уравнения 2-го порядка решается методом пристрелки. Для нахождения пристрелочного параметра α построено нелинейное уравнение $\varphi(\alpha) = 0$. Нули $\varphi(\alpha)$ ищутся методом секущих. Для какого типа исходных уравнений решение будет найдено за одну итерацию:

- 1) исходное уравнение однородное и нелинейное;
- 2) исходное уравнение линейное;
- 3) исходное уравнение нелинейное;

4) исходное уравнение нелинейное и не содержит u' .

Ответ: 2)

8. Нелинейная краевая задача для обыкновенного дифференциального уравнения 2-го порядка решается методом пристрелки. Для нахождения пристрелочного параметра α построено нелинейное уравнение $\varphi(\alpha) = 0$. Нули $\varphi(\alpha)$ ищутся методом Ньютона. Для какого типа исходных уравнений решение будет найдено за одну итерацию:

- 1) исходное уравнение однородное и нелинейное;
- 2) исходное уравнение линейное;
- 3) исходное уравнение нелинейное;
- 4) исходное уравнение нелинейное и не содержит u' .

Ответ: 2)

2) открытые задания (тестовые, повышенный уровень сложности):

1. Краевая задача

$$\begin{aligned} u''(x) &= f(x, u, u'), \\ x &\in [a; b] \\ u(a) &= A; \quad u(b) = B \end{aligned}$$

решается численно методом пристрелки, при этом недостающее начальное условие задается на левом конце отрезка в точке a . Пристрелочный параметр α находится из нелинейного уравнения $\varphi(\alpha) = 0$, которое, в свою очередь, решается методом Ньютона. При выборе начального приближения для этого метода будем считать, что $u(x)$ совпадает с прямой, проходящей через точки $(a; A)$, $(b; B)$. Чему равно начальное значение α , если $a = 0$, $b = 1$, $A = 1$, $B = 2$?

Ответ: $\alpha = 1$

2. Краевая задача

$$\begin{aligned} u''(x) &= f(x, u, u'), \\ x &\in [a; b] \\ u(a) &= A; \quad u(b) = B \end{aligned}$$

решается численно методом пристрелки, при этом недостающее начальное условие задается на левом конце отрезка в точке a . Пристрелочный параметр α находится из нелинейного уравнения $\varphi(\alpha) = 0$, которое, в свою очередь, решается ме-

тодом Ньютона. При выборе начального приближения для этого метода будем считать, что $u(x)$ совпадает с прямой, проходящей через точки $(a; A)$, $(b; B)$. Чему равно начальное значение α , если $a = 0$, $b = 1$, $A = 1$, $B = 4$?

Ответ: $\alpha = 3$

3. Краевая задача

$$\begin{aligned} u''(x) &= f(x, u, u'), \\ x &\in [a; b] \\ u(a) &= A; \quad u(b) = B \end{aligned}$$

решается численно методом пристрелки, при этом недостающее начальное условие задается на левом конце отрезка в точке a . Пристрелочный параметр α находится из нелинейного уравнения $\varphi(\alpha) = 0$, которое, в свою очередь, решается методом Ньютона. При выборе начального приближения для этого метода будем считать, что $u(x)$ совпадает с прямой, проходящей через точки $(a; A)$, $(b; B)$. Чему равно начальное значение α , если $a = 0$, $b = 1$, $A = 1$, $B = 3$?

Ответ: $\alpha = 2$

Б2.В.01(У) Учебная практика (технологическая)

1) закрытые задания (тестовые, средний уровень сложности):

1. Какую последовательность действий надо выполнить для запуска калькулятора в Windows?

- а) Стандартные → Калькулятор
- б) Пуск → Программы → Стандартные → Калькулятор
- в) Пуск → Стандартные → Калькулятор
- г) Пуск → Калькулятор

Ответ: б)

2. С какой целью производится выделение объектов?

- а) С целью группировки и создания тематической группы
- б) С целью последующего изменения их внешнего вида (изменения размера, вида значка и др.)
- в) С целью их сортировки
- г) С тем, чтобы произвести с ними какие-либо действия (открыть, скопировать, переместить и др.)

Ответ: г)

3. Электронные таблицы позволяют обрабатывать ...

- а) цифровую информацию
- б) текстовую информацию
- в) аудио информацию
- г) видеoinформацию

Ответ: а)

4. При помощи какой кнопки клавиатуры можно выделить не смежные ячейки листа Microsoft Excel?

- а) Shift
- б) Ctrl
- в) Tab
- г) Alt

Ответ: б)

5. Если информация соответствует текущему моменту, то она

- а) актуальна
- б) непонятна
- в) серийная
- г) порядковая

Ответ: а)

Б2.В.02(П) Производственная практика (проектно-технологическая)

1) закрытые задания (тестовые, средний уровень сложности):

1. Информационно-поисковые системы позволяют:

- а) осуществлять поиск, вывод и сортировку данных
- б) осуществлять поиск и сортировку данных
- в) редактировать данные и осуществлять их поиск
- г) редактировать и сортировать данные

Ответ: б)

2. Если информация соответствует текущему моменту, то она

- а) актуальна

- б) непонятна
- в) серийная
- г) порядковая

Ответ: а)

2. Информационная безопасность в ИТ – это...

- а) модификация информации
- б) защита данных от преднамеренного доступа
- в) совокупность взаимосвязанных данных
- г) все, что перечислено

Ответ: б)

3. Электронная почта предназначена для передачи:

- а) www-страниц
- б) системных программ
- в) текстовых и графических файлов
- г) только текстовых сообщений

Ответ: в)

4. Способы передачи информации в ИТ:

- а) интернет, электронная почта
- б) видеочамера
- в) все, что перечислено

Ответ: а)

ПК-6. Способен разрабатывать прототипы ИС на базе типовой ИС

Период окончания формирования компетенции: 8 семестр

Перечень дисциплин (модулей), практик, участвующих в формировании компетенции:

Дисциплины (модули):

Б1.В.07 Структурное моделирование вычислительных систем (7 семестр)

Б1.В.08 Вычислительные алгоритмы решения прикладных задач (8 семестр)

Б1.В.09 Планирование и оптимизация вычислительных процессов (8 семестр)

Б2.В.02(П) Производственная практика (проектно-технологическая) (8 семестр)

Б1.В.07 Структурное моделирование вычислительных систем

- 1) закрытые задания (тестовые, средний уровень сложности):

1. Пусть для разработки информационной системы выбрана модель жизненного цикла, суть которой заключается в следующем: модель подразумевает строго последовательное выполнение стадий

анализ → проектирование → реализация → внедрение → эксплуатация

без возвратов к предыдущим; подразумевается полное и успешное завершение каждого этапа перед переходом к следующему; требования к системе в процессе разработки практически не изменяются. Укажите тип модели, который соответствует описанию:

- a) итерационная,
- b) каскадная,
- c) спиральная.

Ответ: b)

2. Укажите, на какой модели жизненного цикла основана технология RAD (Rapid Application Development)

- a) итерационная,
- b) каскадная,
- c) спиральная.

Ответ: c)

3. Укажите, в каких случаях целесообразно использование технологии RAD (Rapid Application Development)

- a) требования к программному обеспечению (ПО) определены нечетко или не полностью;
- b) интерфейс пользователя не является для заказчика главным фактором;
- c) отсутствуют временные ограничения на разработку информационной системы;
- d) программное обеспечение не обладает значительной вычислительной сложностью.

Ответ: a), d)

4. Укажите тип прототипа, который воплощает срез функциональности информационной системы от интерфейса пользователя до сервисных функций,

- a) вертикальный,
- b) горизонтальный.

Ответ: a)

5. Укажите тип прототипа, который демонстрирует внешний вид пользовательского интерфейса и структуру доступа к информации (структуру навигации),

- a) вертикальный,
- b) горизонтальный.

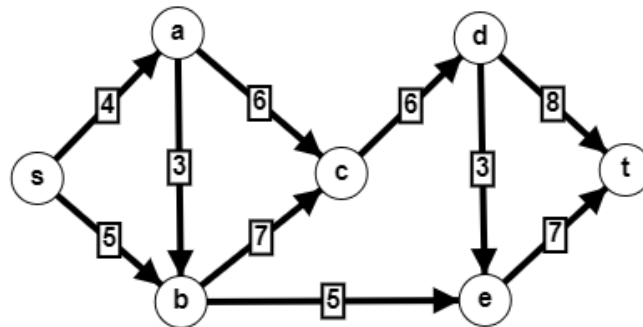
Ответ: b)

6. Укажите, какой процесс подразумевается под прототипированием

- а) выявление типовых структурных и функциональных требований к информационной системе в целях обеспечения ее потребительских свойств при автоматизации решения задач;
- б) определение целей создания информационной системы и круга решаемых ею задач;
- с) обновление системы в соответствии с новыми требованиями;
- д) процесс создания материального образа системы в форме графических изображений.

Ответ: а)

7. Предположим, что граф, изображенный на рисунке, является сетевой моделью проекта. Для составления календарного плана требуется определить величины максимальных (критических) путей из вершины *s* в каждую из других вершин. Длина максимального пути из *s* в *t* определит время, необходимое для реализации проекта. Укажите номер варианта, который соответствует правильному решению задачи.



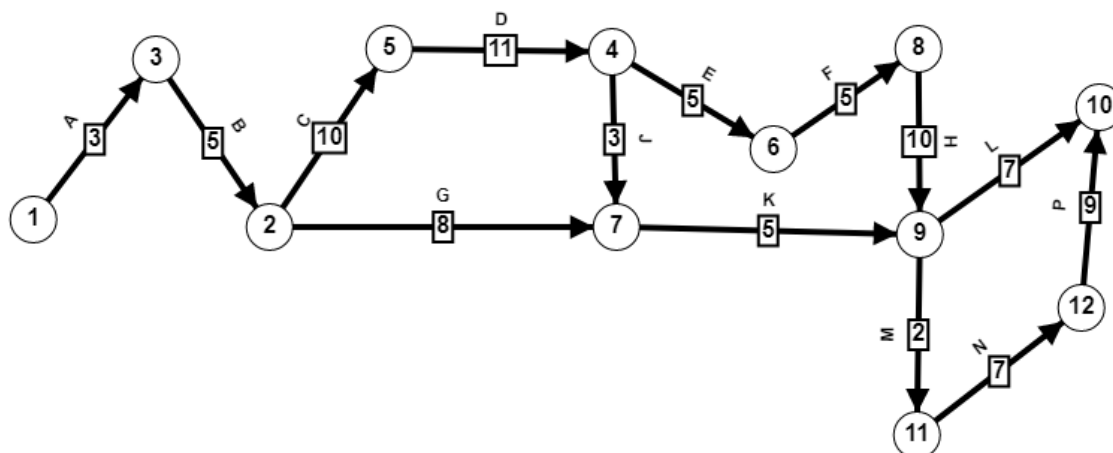
№	<i>a</i>	<i>b</i>	<i>c</i>	<i>d</i>	<i>e</i>	<i>t</i>	Максимальный путь
1	4	7	10	16	9	28	$s \rightarrow b \rightarrow c \rightarrow d \rightarrow e \rightarrow t$
2	4	7	14	20	23	30	$s \rightarrow a \rightarrow b \rightarrow c \rightarrow d \rightarrow e \rightarrow t$
3	4	7	12	18	10	26	$s \rightarrow a \rightarrow b \rightarrow c \rightarrow d \rightarrow t$
4	4	5	12	16	12	30	$s \rightarrow a \rightarrow b \rightarrow c \rightarrow d \rightarrow e \rightarrow t$

Ответ: 2

8. На рисунке представлена сетевая модель проекта по разработке сайта с произвольной нумерацией вершин.

Ри-

нок
Се-



су-
—

тевой график проекта

Каждой дуге соответствует работа; ее вес – продолжительность работы. Для определения временных параметров сетевого графика необходимо присвоить вершинам-событиям правильную нумерацию (начало каждой работы нумеруется меньшим числом, чем ее конец). Если нумерация является правильной (монотонной), то для определения параметров сетевой модели достаточно одной итерации, что обуславливает эффективность соответствующих вычислительных процедур для крупных проектов. Считая, что нумерация начинается с 1, укажите правильные номера следующих событий: 4, 9, 11.

a) 5, 8, 11;

b) 4, 9, 11;

c) 5, 9, 10

Ответ: c)

9. При планировании заданий, включающих задачи, между которыми имеются зависимости, используется модель в виде бесконтурного графа, в котором каждая вершина представляет собой задачу, а дуга отражает приоритет между соответствующими задачами (дуга проводится от вершины с меньшим приоритетом к вершине с большим приоритетом). Вершинам приписываются вычислительные стоимости, а дугам – коммуникационные стоимости. Важнейшей проблемой при планировании таких заданий является нахождение компромисса между использованием максимального параллелизма задач в задании и минимизации коммуникационных задержек. Одним из эффективных способов уменьшения коммуникационной задержки является использование алгоритмов кластеризации, которые позволяют выделить маркированные группы взаимосвязанных задач для дальнейшего их назначения некоторым ресурсам. Для формирования таких групп можно использовать алгоритм линейной кластеризации Кима и Брауна (КВ/Л), в соответствии с которым на каждой итерации выбирается путь с максимальным значением стоимостной функции из всех путей, которые соединяют вершины верхнего уровня с вершинами нижнего уровня в разложении графа на уровни. Стоимостная функция имеет вид

$$C(p) = 0.5 \cdot \sum \tau_i + 0.25 \cdot \sum c_{ij} + 0.25 \cdot \sum c_{ij}^*$$

где p – некоторый путь, $\sum \tau_i$ – суммарная вычислительная стоимость вершин пути; $\sum c_{ij}$ – суммарная коммуникационная стоимость дуг пути; $\sum c_{ij}^*$ – суммарная коммуникационная стоимость дуг между вершинами пути и смежными с ними вершинами, которые не входят в рассматриваемый путь.

Все вершины найденного пути объединяются в кластер и удаляются из графа. Шаги алгоритма повторяются до тех пор, пока граф не пуст.

На рисунке представлен граф некоторого задания, которое включает 7 задач (вершины соответствуют задачам, для каждой указан вес – вычислительная стоимость; вес каждой дуги – коммуникационная стоимость). Укажите вариант, соответствующий классам задач, полученных в результате использования алгоритма КВ/Л.

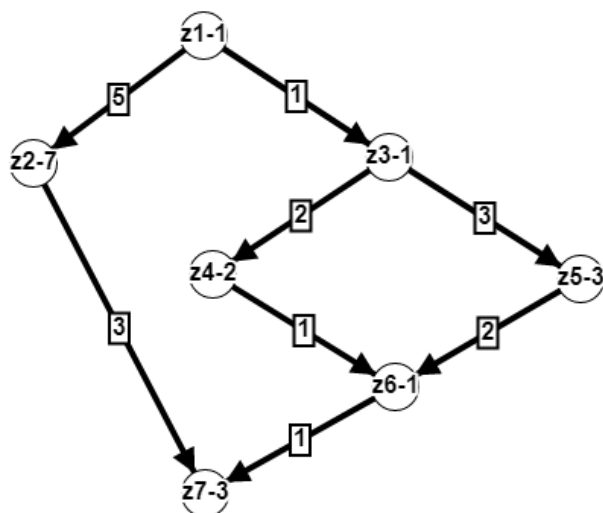


Рисунок 1

- a) $\{z_3, z_5, z_6\}, \{z_4\}, \{z_1, z_2, z_7\}$;
 b) $\{z_1, z_2, z_3\}, \{z_4, z_5\}, \{z_6, z_7\}$;
 c) $\{z_1, z_3, z_4\}, \{z_5, z_6, z_7\}, \{z_2\}$

Ответ: а)

10. Крупный интернет-магазин ювелирных изделий SerenaGold для привлечения и удержания клиентов принял решение внедрить рекомендательную систему в своей системе электронного бизнеса. Рекомендации товаров и услуг, построенные на основе закономерностей в покупках клиентов, обладают огромной убеждающей силой. Сегментация клиентской базы позволит компании проводить более гибкую маркетинговую политику. Профиль пользователя – это структура, выражающая предпочтения пользователя или группы пользователей на основе примеров. Если созданы профили пользователей, то в момент обращения какого-то клиента система подбирает похожие профили и, учитывая степень схожести, составляет рекомендации для клиента. Пусть создается профиль сегмента VIP-клиентов интернет-магазина SerenaGold на основе предложений от «Бриллиантов Якутии», и построен граф предпочтений, представленный на рисунке.

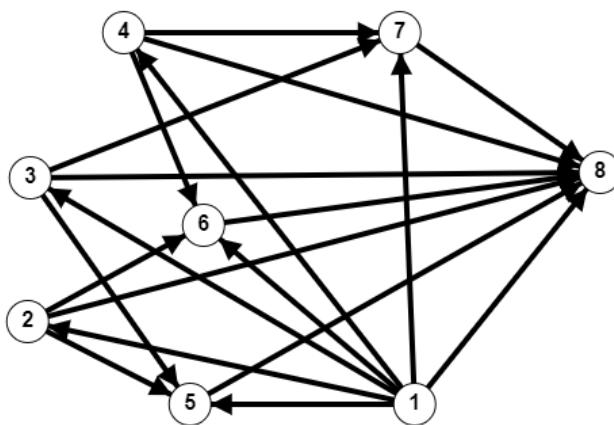


Рисунок 1 – Граф предпочтений сегмента vip-клиентов интернет-магазина SerenaGold

Вершины соответствуют предложениям, причем если предложение i пользуется большим спросом, чем предложение j , то от i к j ведет дуга. Выберите правильную последовательность предложений от «Бриллиантов Якутии», упорядоченную по убыванию предпочтительности:

- a) $\{1, 2, 5\} \succ \{3, 4\} \succ \{6, 7\} \succ \{8\}$;
 b) $\{1, 2, 3, 4\} \succ \{5, 6, 7, 8\}$;
 c) $\{1\} \succ \{2, 3, 4\} \succ \{5, 6, 7\} \succ \{8\}$;
 d) $\{1, 3\} \succ \{2\} \succ \{4, 5, 6, 7\} \succ \{8\}$.

Решение. Так как граф предпочтений должен быть транзитивным, а, следовательно, бесконтурным, то для его упорядочения применим процедуру разложения на уровни. Для этого воспользуемся, например, методом вычеркивания дуг: на первом уровне располагаем вершины без входящих дуг – эти вершины считаем просмотренными. Затем удаляем из графа просмотренные вершины. В полученном подграфе ищем вершины без входящих дуг и располагаем их на следующем уровне и так действуем до тех пор, пока все вершины не будут распределены по уровням (рис. 2).

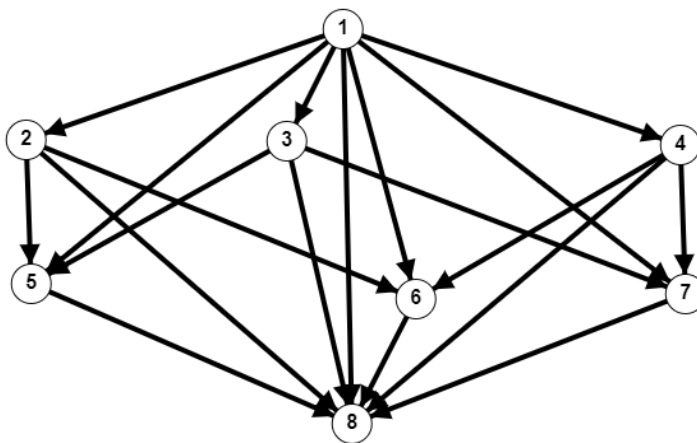


Рисунок 2 – Граф разложен на уровни

На основе графа построим упорядочение $\{1\} \succ \{2, 3, 4\} \succ \{5, 6, 7\} \succ \{8\}$.

Ответ: с)

11. Пусть для оценки вычислительные модулей системы выбраны показатели: *количество процессоров в модуле (КПМ)*; *количество потоков, по которым в процессоре происходит передача информации (КПП)*; *объем оперативной памяти модуля (ООП)*; *наличие ускорителя универсальных вычислений (УВ)*, и на основе экспертного опроса представителей заказчика сформирована матрица парных сравнений следующего вида:

$$A = \begin{pmatrix} 1 & 2 & 0 & 1 \\ 0 & 1 & 2 & 2 \\ 2 & 0 & 1 & 0 \\ 1 & 0 & 2 & 1 \end{pmatrix}.$$

Если получена матрица парных сравнений, то для получения весовых коэффициентов можно использовать итерационный метод нахождения собственного вектора, отвечающего максимальному собственному числу. С помощью данного метода найден вектор весовых коэффициентов

$$W = (0.282, 0.294, 0.193, 0.231).$$

Выберите подходящее упорядочение показателей технических характеристик модулей вычислительной системы от наиболее значимого до наименее значимого.

а) КПП \succ КПМ \succ УВ \succ ООП;

б) УВ \succ КПП \succ ООП \succ КПМ;

с) ООП \succ УВ \succ КПМ \succ КПП.

Ответ: а)

2) открытые задания (расчетные, повышенный уровень сложности):

12. Пусть в рамках экспертизы для каждого варианта вычислительной системы (ВС) определены комплексные оценки на основе информации, полученной от трех экспертов и построены соответствующие им ранжирования.

Итоговая таблица результатов обработки экспертного опроса

	$Val(BC_1)$	$Val(BC_2)$	$Val(BC_3)$	Ранжирование
Эксперт 1	0.57	0.28	0.54	$BC_1 \succ BC_3 \succ BC_2$
Эксперт 2	0.5	0.43	0.62	$BC_3 \succ BC_1 \succ BC_2$
Эксперт 3	0.43	0.17	0.38	$BC_1 \succ BC_3 \succ BC_2$

Определите последовательность вариантов систем BC_1 , BC_2 , BC_3 в групповом ранжировании (по убыванию предпочтительности), полученном на основе *правила простого большинства*: альтернатива α получает в групповом ранжировании более высокое место, чем альтернатива β , тогда и только тогда, когда большинство экспертов оценивают α выше, чем β . В ответе укажите индексы ВС через запятую.

Ответ:

1,3,2

13. Вычислительный кластер – это группа вычислительных устройств, объединенных высокоскоростными каналами связи, представляющая с точки зрения пользователя единую вычислительную систему. В программном обеспечении кластера, как правило, можно выделить два компонента – менеджер ресурсов и планировщик. Менеджер отвечает за распределение вычислительных ресурсов, планировщик определяет очередность работ и их назначение на те или иные ресурсы. Для разработки процедуры планирования исследуется зависимость между следующими показателями:

x – количество менее приоритетных задач, которые можно прервать для обеспечения непрерывного выполнения высокоприоритетной задачи;

y – среднее время, проведенное задачей в очереди (в сек).

В результате экспериментов были получены выборки, и в таблице представлены первые 5 пар значений (x_i, y_i) .

Таблица

x_i	0	1	2	4	5
y_i	2.1	2.4	2.6	2.8	3.0

Используя метод наименьших квадратов, построить линейную функцию $y = f(x) = ax + b$, которая описывает зависимость среднего времени, проведенного задачей в очереди от количества менее приоритетных задач, которые можно прервать для обеспечения непрерывного выполнения высокоприоритетной задачи. В ответе укажите коэффициенты a и b через пробел (вычисления производить с точностью до трех значащих цифр после запятой).

Решение. Идея метода наименьших квадратов заключается в минимизации среднеквадратической ошибки, т.е. в решении задачи

$$F(a, b) = \sum_{i=1}^n (y_i - f(x_i))^2 \rightarrow \min,$$

где (x_i, y_i) – наблюдаемые данные, n – их количество; $f(x)$ – аппроксимирующая функция.

Пусть $f_2(x) = ax + b$. Для нахождения коэффициентов a и b необходимо решить систему нормальных уравнений следующего вида:

$$\begin{cases} a \cdot \sum_{i=1}^n x_i^2 + b \cdot \sum_{i=1}^n x_i = \sum_{i=1}^n x_i y_i, \\ a \cdot \sum_{i=1}^n x_i + b \cdot n = \sum_{i=1}^n y_i. \end{cases}$$

Найдем коэффициенты данной системы на основе табличных значений (x_i, y_i) , $i = \overline{1, 4}$:

$$\sum_{i=1}^n x_i^2 = 46, \quad \sum_{i=1}^n x_i = 12, \quad \sum_{i=1}^n x_i y_i = 33.8, \quad \sum_{i=1}^n y_i = 12.9.$$

Составим систему уравнений

$$\begin{cases} 46a + 12b = 33.8, \\ 12a + 5b = 12.9, \end{cases}$$

из которой найдем $a = 0.165$, $b = 2.184$.

Ответ: 0.165, 2.184

14. IT-компания получила заказ на разработку информационной системы для симуляции механических повреждений. Исходной информацией является комплекс работ по реализации проекта, при этом для каждой работы заданы продолжительность и список работ, которые ей непосредственно предшествуют. На рисунке представлена сетевая модель проекта, предложенная одним из разработчиков. Все вершины-события пронумерованы, каждой дуге соответствует работа заданной продолжи-

тельности. Более светлым цветом выделены фиктивные дуги-работы, которые используются для связи между некоторыми вершинами. При анализе предложенной модели были выявлены ошибки.

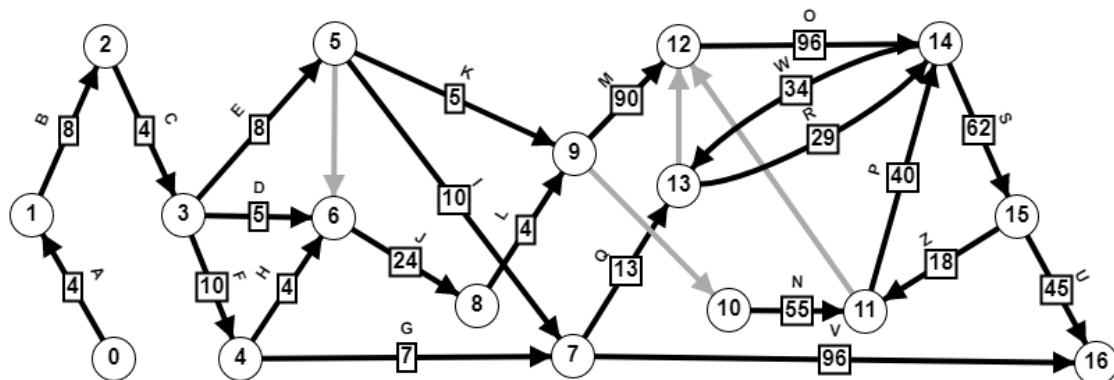


Рисунок – Предложенный вариант сетевой модели проекта

Выберите, какие правила построения сетевой модели из перечисленных ниже нарушены:

- сетевой график имеет одно исходное и одно завершающее события;
- в сетевом графике не должно быть петель, висячих вершин, контуров (их наличие свидетельствует об ошибке);
- если возникает необходимость соединить две вершины двумя или более дугами, то одну из дуг оставляют, затем вводят фиктивное событие, и другой дугой соединяют начальную вершину с фиктивной, а затем соединяют фиктивной дугой фиктивную вершину с конечной вершиной;
- каждая вершина имеет правильный номер (в этом случае для каждой дуги номер начала меньше номера конца);
- каждой фиктивной работе присваивается продолжительность, равная 0.

Ответ: с, d, e

15. В результате собеседования с представителями НИИ НаноТех было установлено, что вычислительная система должна учитывать ряд требований и особенностей проводимых вычислений:

- используется в организации для решения научных задач и ориентирована на определенные виды обработки информации: матричные вычисления, решение алгебраических, дифференциальных и интегральных уравнений и другие расчеты.
- для повышения оперативности взаимодействия вычислителей-процессоров необходимо использование общей оперативной памяти;
- поскольку при организации вычислений возможны конфликтные ситуации, когда несколько процессоров могут обращаться к одним и тем же областям памяти, то необходимо предусмотреть способы решения конфликтных ситуаций;
- предполагается, что помимо параллельных вычислений необходим централизованный орган управления этими вычислениями.

Из перечисленных ниже свойств вычислительных систем выберите подходящие для обеспечения требований

и следующими свойствами вычислительных систем:

- a) специализированная
- b) многопроцессорная
- c) небольшое число процессоров (от 2-4 до 10), для разрешения конфликтных ситуаций необходимы схемы приоритетного обслуживания
- d) централизованная
- e) универсальная
- f) многомашинная
- h) со смешанным управлением.

Ответ: a, b, c, d

16. В таблице представлена исходная информация о проекте, который связан с разработкой базы данных для медицинской страховой компании.

Таблица – Исходная информация о проекте

Работа	Описание	Продолжительность (нед)	Предшествующие работы
A	Анализ требований к БД	2	-
B	Создание ER-диаграммы	4	A
C	Разработка схемы БД	1	B
D	Создание таблиц БД	5	C
E	Заполнение таблиц	2	D
F	Создание триггеров	6	D
G	Проверка корректности заполнения таблиц данными	2	E, F
H	Создание индексов	3	D
I	Создание пользователей	2	C
J	Создание комментариев к столбцам таблиц	1	D
K	Проверка корректности работы БД	4	G, H, I, J
L	Подготовка проекта к сдаче	1	K

На основе этой информации построена сетевая модель проекта. Каждой дуге соответствует работа, ее вес – продолжительность работы. Заметим, что вершины события имеют правильную нумерацию. 0 – это исходное событие, которое соответствует моменту начала реализации проекта. 10 – завершающее событие.

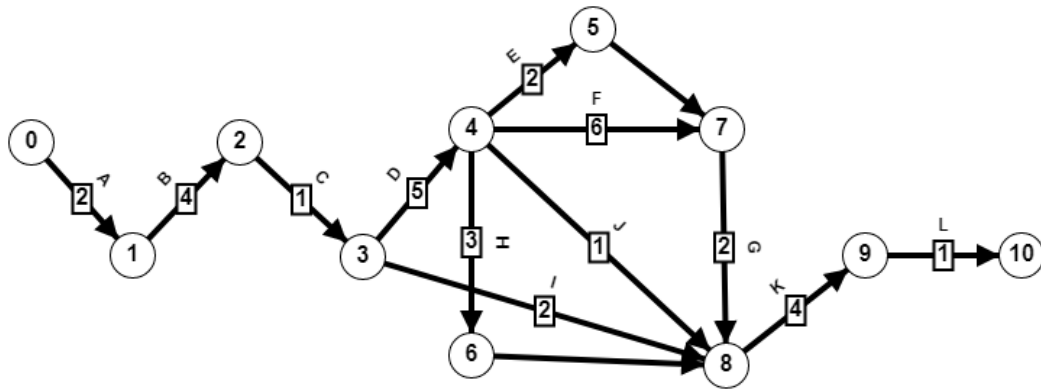


Рисунок – Сетевая модель проекта

Укажите работы, которые в первую очередь необходимо обеспечить ресурсами.

Решение. Известно, что время, необходимое для реализации проекта, определяется длиной максимального (критического) пути из исходного события в завершающее. Можно использовать простой вариант подсчета критического времени, основываясь на его интерпретации. Найдем длины все путей из события 0 в событие 10.

№	Путь	Длина пути
1	0 → 1 → 2 → 3 → 4 → 5 → 7 → 8 → 9 → 10	21
2	0 → 1 → 2 → 3 → 4 → 7 → 8 → 9 → 10	25
3	0 → 1 → 2 → 3 → 4 → 8 → 9 → 10	18
4	0 → 1 → 2 → 3 → 4 → 6 → 8 → 9 → 10	20
5	0 → 1 → 2 → 3 → 8 → 9 → 10	14

Из таблицы видно, что путь №2 является максимальным, его длина определяет время, необходимое для реализации проекта.

Работы, принадлежащие критическому пути (критические работы), не имеют резервов времени, поэтому в первую очередь требуют необходимого ресурсного обеспечения.

Ответ: A, B, C, D, F, G, K, L

Б1.В.08 Вычислительные алгоритмы решения прикладных задач

1) закрытые задания (тестовые, средний уровень сложности):

1. Методом пристрелки решается краевая задача

$$u''(x) = f(x, u, u'), \quad x \in [a; b]$$

$$u(a) = A; \quad u(b) = B.$$

Для этого исходная задача заменяется задачей Коши

$$u''(x) = f(x, u, u'), \quad x \in [a; b]$$

$$u(a) = A; \quad u'(a) = \alpha.$$

α – пристрелочный параметр. Укажите правильную запись уравнения $\phi(\alpha) = 0$ для определения пристрелочного параметра:

- 1) $\phi(\alpha) = u(b, \alpha) - B$;
- 2) $\phi(\alpha) = u'(b, \alpha) - B$;
- 3) $\phi(\alpha) = u(b, \alpha) - A$;
- 4) $\phi(\alpha) = u(b, \alpha) - u'(b, \alpha)$;

Ответ: 1)

2. Методом пристрелки решается краевая задача

$$u''(x) = f(x, u, u'), \quad x \in [a; b]$$

$$u(a) = A; \quad u'(b) = B.$$

Для этого исходная задача заменяется задачей Коши

$$u''(x) = f(x, u, u'), \quad x \in [a; b]$$

$$u(a) = A; \quad u'(a) = \alpha.$$

α – пристрелочный параметр. Укажите правильную запись уравнения $\phi(\alpha) = 0$ для определения пристрелочного параметра:

- 1) $\phi(\alpha) = u(b, \alpha) - B$;
- 2) $\phi(\alpha) = u'(b, \alpha) - B$;
- 3) $\phi(\alpha) = u(b, \alpha) - A$;
- 4) $\phi(\alpha) = u(b, \alpha) - u'(b, \alpha)$;

Ответ: 2)

3. Методом пристрелки решается краевая задача

$$u''(x) = f(x, u, u'), \quad x \in [a; b]$$

$$u(a) = A; \quad u(b) = B.$$

Для этого исходная задача заменяется задачей Коши

$$u''(x) = f(x, u, u'), \quad x \in [a; b]$$

$$u'(b) = \alpha; \quad u(b) = B.$$

α – пристрелочный параметр. Укажите правильную запись уравнения $\phi(\alpha) = 0$ для определения пристрелочного параметра:

- 1) $\phi(\alpha) = u(b, \alpha) - B$;
- 2) $\phi(\alpha) = u(a, \alpha) - B$;
- 3) $\phi(\alpha) = u(a, \alpha) - A$;
- 4) $\phi(\alpha) = u(a, \alpha) - u'(a, \alpha)$.

Ответ: 3)

4. Методом пристрелки решается краевая задача

$$u''(x) = f(x, u, u'), \quad x \in [a; b]$$

$$u(a) = A; \quad u'(b) = B.$$

Для этого исходная задача заменяется задачей Коши

$$u''(x) = f(x, u, u'), \quad x \in [a; b]$$

$$u'(b) = B; \quad u(b) = \alpha.$$

α – пристрелочный параметр. Укажите правильную запись уравнения $\phi(\alpha) = 0$ для определения пристрелочного параметра:

- 1) $\phi(\alpha) = u(b, \alpha) - B$;
- 2) $\phi(\alpha) = u(a, \alpha) - B$;
- 3) $\phi(\alpha) = u(a, \alpha) - A$;
- 4) $\phi(\alpha) = u'(a, \alpha) - A$.

Ответ: 3)

5. Методом пристрелки решается краевая задача

$$u'''(x) = f(x, u, u', u''), \quad x \in [a; b]$$

$$u(a) = A; u'(a) = B; u'(b) = C.$$

Для этого исходная задача заменяется задачей Коши

$$u'''(x) = f(x, u, u', u''), \quad x \in [a; b]$$

$$u(a) = A; u'(a) = B; u''(a) = \alpha.$$

α – пристрелочный параметр. Укажите правильную запись уравнения $\phi(\alpha) = 0$ для определения пристрелочного параметра:

- 1) $\phi(\alpha) = u'(b, \alpha) - C$;
- 2) $\phi(\alpha) = u(b, \alpha) - B$;
- 3) $\phi(\alpha) = u(a, \alpha) - A$;

$$4) \phi(\alpha) = u''(b, \alpha) - B;$$

Ответ: 1)

6. Методом пристрелки решается краевая задача

$$u'''(x) = f(x, u, u', u''), \quad x \in [a; b]$$

$$u(a) = A; u(b) = B; u'(b) = C.$$

Для этого исходная задача заменяется задачей Коши

$$u'''(x) = f(x, u, u', u''), \quad x \in [a; b]$$

$$u(b) = B; u'(b) = C; u''(b) = \alpha.$$

α – пристрелочный параметр. Укажите правильную запись уравнения $\phi(\alpha) = 0$ для определения пристрелочного параметра:

$$1) \phi(\alpha) = u'(b, \alpha) - C;$$

$$2) \phi(\alpha) = u(b, \alpha) - B;$$

$$3) \phi(\alpha) = u(a, \alpha) - A;$$

$$4) \phi(\alpha) = u''(b, \alpha) - B;$$

Ответ: 3)

7. Методом пристрелки решается краевая задача

$$u'''(x) = f(x, u, u', u''), \quad x \in [a; b]$$

$$u(a) = A; u'(a) = B; u''(b) = C.$$

Для этого исходная задача заменяется задачей Коши

$$u'''(x) = f(x, u, u', u''), \quad x \in [a; b]$$

$$u(a) = A; u'(a) = B; u''(a) = \alpha.$$

α – пристрелочный параметр. Укажите правильную запись уравнения $\phi(\alpha) = 0$ для определения пристрелочного параметра:

$$1) \phi(\alpha) = u'(b, \alpha) - C;$$

$$2) \phi(\alpha) = u''(b, \alpha) - C;$$

$$3) \phi(\alpha) = u(a, \alpha) - A;$$

$$4) \phi(\alpha) = u''(b, \alpha) - B;$$

Ответ: 2)

8. Методом пристрелки решается краевая задача

$$u''(x) = f(x, u, u'), \quad x \in [a; b]$$

$$u(a) = A; \quad \mu u(b) + \nu u'(b) = B.$$

Для этого исходная задача заменяется задачей Коши

$$u''(x) = f(x, u, u'), \quad x \in [a; b]$$

$$u(a) = A; \quad u'(a) = \alpha.$$

α – пристрелочный параметр. Укажите правильную запись уравнения $\phi(\alpha) = 0$ для определения пристрелочного параметра:

- 1) $\phi(\alpha) = u(b, \alpha) - B;$
- 2) $\phi(\alpha) = u'(b, \alpha) - B;$
- 3) $\phi(\alpha) = \mu u(b, \alpha) + \nu u'(b, \alpha) - B;$
- 4) $\phi(\alpha) = \mu u(b, \alpha) - \nu u'(b, \alpha);$

Ответ: 3)

9. Методом пристрелки решается краевая задача

$$u''(x) = f(x, u, u'), \quad x \in [0; 1]$$

$$u(0) = 1; \quad 2u(1) + 0,5u'(1) = 2.$$

Для этого исходная задача заменяется задачей Коши

$$u''(x) = f(x, u, u'), \quad x \in [0; 1]$$

$$u(0) = 1; \quad u'(0) = \alpha.$$

α – пристрелочный параметр. Укажите правильную запись уравнения $\phi(\alpha) = 0$ для определения пристрелочного параметра:

- 1) $\phi(\alpha) = u(1, \alpha) - 2;$
- 2) $\phi(\alpha) = u'(1, \alpha) - 2;$
- 3) $\phi(\alpha) = 2u(1, \alpha) + 0,5u'(1, \alpha) - 2;$
- 4) $\phi(\alpha) = 2u(1, \alpha) - 0,5u'(1, \alpha);$

Ответ: 3)

10. Методом пристрелки решается краевая задача

$$u''(x) = f(x, u, u'), \quad x \in [2; 5]$$

$$u(2) = 3; \quad 0,3u(5) + 4u'(5) = 12.$$

Для этого исходная задача заменяется задачей Коши

$$u''(x) = f(x, u, u'), \quad x \in [2; 5]$$

$$u(2) = 3; \quad u'(2) = \alpha.$$

α – пристрелочный параметр. Укажите правильную запись уравнения $\phi(\alpha) = 0$ для определения пристрелочного параметра:

1) $\phi(\alpha) = u(1, \alpha) - 12;$

2) $\phi(\alpha) = u'(1, \alpha) - 12;$

3) $\phi(\alpha) = 0,3u(5, \alpha) + 4u'(5, \alpha) - 12;$

4) $\phi(\alpha) = 0,3u(5, \alpha) - 4u'(5, \alpha);$

Ответ: 3)

2) открытые задания (тестовые, повышенный уровень сложности):

1. Краевая задача

$$u^{(5)}(x) = f(x, u, u', u'', u''', u^{(4)}),$$

$$x \in [a; b]$$

$$u(a) = A; \quad u'(a) = B;$$

$$u(b) = C; \quad u'(b) = D; \quad u''(b) = E$$

решается численно методом пристрелки. Какой конец отрезка следует выбрать для построения задачи Коши (a или b), чтобы уменьшить объем проводимых вычислений, и сколько пристрелочных параметров в этом случае будет введено? Ответ запишите в виде: a (или b); число.

Ответ: b ; 2.

2. Краевая задача

$$u^{(5)}(x) = f(x, u, u', u'', u''', u^{(4)}),$$

$$x \in [a; b]$$

$$u(a) = A; \quad u(b) = B;$$

$$u'(b) = C; \quad u''(b) = D; \quad u'''(b) = E$$

решается численно методом пристрелки. Какой конец отрезка следует выбрать для построения задачи Коши (a или b), чтобы уменьшить объем проводимых вычислений, и сколько пристрелочных параметров в этом случае будет введено? Ответ запишите в виде: a (или b); число.

Ответ: b ; 1.

3. Краевая задача

$$\begin{aligned}
 u^{(5)}(x) &= f(x, u, u', u'', u''', u^{(4)}), \\
 x &\in [a; b] \\
 u(a) &= A; \quad u'(a) = B; \quad u''(a) = C; \\
 u(b) &= D; \quad u'(b) = E
 \end{aligned}$$

решается численно методом пристрелки. Какой конец отрезка следует выбрать для построения задачи Коши (a или b), чтобы уменьшить объем проводимых вычислений, и сколько пристрелочных параметров в этом случае будет введено? Ответ запишите в виде: a (или b); число.

Ответ: a ; 2.

4. Краевая задача

$$\begin{aligned}
 u^{(5)}(x) &= f(x, u, u', u'', u''', u^{(4)}), \\
 x &\in [a; b] \\
 u(a) &= A; \quad u'(a) = B; \quad u''(a) = C; \\
 u'''(a) &= D; \quad u'(b) = E
 \end{aligned}$$

решается численно методом пристрелки. Какой конец отрезка следует выбрать для построения задачи Коши (a или b), чтобы уменьшить объем проводимых вычислений, и сколько пристрелочных параметров в этом случае будет введено? Ответ запишите в виде: a (или b); число.

Ответ: a ; 1.

Б1.В.09 Планирование и оптимизация вычислительных процессов

1) закрытые задания (тестовые, средний уровень сложности):

1. Какой из алгоритмов планирования подразумевает, что операции, относящиеся к одной работе, выполняются параллельно или разделяют во времени одно и то же подмножество процессоров

- а) алгоритм балансировки нагрузки
- б) алгоритм торгов или предложения цены
- в) алгоритм связанного планирования

Ответ: в)

2. Для каких из перечисленных случаев определения расписания минимальной длины без прерываний известны полиномиальные алгоритмы:

- а) когда в системе имеются только два идентичных процессора
- б) когда времена выполнения требований произвольные
- в) когда времена выполнения требований не превышают заданной величины
- г) когда в системе два или более процессора

Ответ: а)

3. Что собой представляет М-сеть программы:

- а) это граф специального вида, содержащий множество меток для входных и выходных позиций вершин графа
- б) это информационно-логический граф программы

Ответ: а)

4. Как называется ориентированный граф, имеющий единственный сток и единственный источник?

Ответ: сеть

5. Каким требованиям удовлетворяет сетевая модель?

- а) исходное событие (вершина), то есть не имеющее предшествующих событий, только одно
- б) возможно наличие замкнутых контуров и петель
- в) нет работ (дуг), у которых одновременно совпадают номер начального события (вершины) и номер завершающего события
- г) завершающее событие (вершина), то есть не имеющее последующих событий, только одно

Ответ: а), в), г)

6. Как называется максимальный по продолжительности путь от исходного до завершающего события в сети?

Ответ: критический путь

7. Если все пути от начальной вершины сетевого графа к вершине v проходят через вершину u , то вершина u называется

Ответ: доминирующей вершину v

8. Упорядочите основные этапы исчерпывающего анализа потоковых графов:

- а) упрощение системы потоковых уравнений на основе исключения переменных
- б) преобразование DJ-графа в D-дерево
- в) «распространение» решений потоковых уравнений от корня D-дерева к остальным вершинам

Ответ: б)-а)-в)

9. Чем D-дерево отличается от DJ-дерева?

- а) дополнительными дугами, которые вводятся между вершинами, непосредственно не доминирующими друг друга
- б) отсутствием дуг, образующих циклы
- в) дополнительными дугами, которые вводятся между вершинами, непосредственно не смежными друг с другом

Ответ: а)

10. Сетевой график не должен содержать:

- а) событий, из которых не выходит ни одна работа (кроме завершающего события)
- б) событий, которым не предшествует хотя бы одна работа (кроме исходного события)
- в) замкнутые контуры и петли
- г) событий, не связанных между собой дугой

Ответ: а), б), в)

11. Разность между поздним и ранним сроками завершения события, это

- а) предельный (поздний) срок свершения события
- б) резерв времени события
- в) ожидаемый (ранний) срок свершения события

Ответ: б)

12. Продолжительность максимального пути, предшествующего заданному событию, это

- а) предельный (поздний) срок свершения события
- б) резерв времени события
- в) ожидаемый (ранний) срок свершения события

Ответ: в)

13. Дана система конвейерного типа с 2 приборами и 5 требованиями. Длительности обслуживания требований на первом приборе равны: 3, 1, 5, 4, 2. Длительности обслуживания требований на втором приборе равны: 4, 2, 3, 1, 5. Требуется составить расписание минимальной длины. В ответ выпишите номера требований в порядке их обслуживания для оптимального расписания.

Ответ: 25134

14. Дана система конвейерного типа с 2 приборами и 5 требованиями. Длительности обслуживания требований на первом приборе равны: 3, 1, 5, 4, 2. Длительности обслуживания требований на втором приборе равны: 4, 2, 3, 1, 5. Требуется составить расписание минимальной длины. В ответ выпишите длину оптимального расписания.

Ответ: 16

15. Дано 11 работ со следующими продолжительностями: 5, 8, 3, 6, 4, 1, 2, 6, 3, 9, 7. Работы 4 и 5 следуют после работы 1; работы 6, 10 после работы 3; работы 2, 5, 6 предшествуют работам 7 и 8; работы 4, 7 предшествуют работе 9; работы 2, 5, 6, 10 предшествуют работе 11. На основе представленных данных построить сетевой график и найти в нём критический путь. В ответ выписать длину критического пути.

Ответ: 19

16. Дано 11 работ со следующими продолжительностями: 5, 8, 3, 6, 4, 1, 2, 6, 3, 9, 7. Работы 4 и 5 следуют после работы 1; работы 6, 10 после работы 3; работы 2, 5, 6 предшествуют работам 7 и 8; работы 4, 7 предшествуют работе 9; работы 2, 5, 6, 10 предшествуют работе 11. На основе представленных данных построить сетевой график и найти в нём критический путь. В ответ выписать номера работ, образующих критический путь.

Ответ: 3-10-11

17. В каких случаях для построения сетевого графика требуется введение фиктивных работ?

- а) если работы b_1 и b_2 выходят из одного события и их выполнение необходимо для свершения одного и того же события
- б) если для начала работы b_4 необходимо выполнение работ b_1 и b_2 , а для начала работы b_3 выполнение работы b_2
- в) если результат работ b_1 и b_2 необходим для выполнения работы b_3

Ответ: а) и б)

18. В каких случаях для построения сетевого графика НЕ требуется введение фиктивных работ?

- а) если результат работы b_1 необходим для выполнения работ b_2 и b_3
- б) если работы b_1 и b_2 выходят из одного события и их выполнение необходимо для свершения одного и того же события
- в) если результат работ b_1 и b_2 необходим для выполнения работы b_3

Ответ: а), в)

19. Дана система конвейерного типа с 2 приборами и 5 требованиями. Длительности обслуживания требований на первом приборе равны: 3, 7, 4, 5, 7. Длительности обслуживания требований на втором приборе равны: 6, 2, 7, 3, 4. Требуется составить расписание минимальной длины. В ответ выпишите номера требований в порядке их обслуживания для оптимального расписания.

Ответ: 13542

20. Дана система конвейерного типа с 2 приборами и 5 требованиями. Длительности обслуживания требований на первом приборе равны: 3, 7, 4, 5, 7. Длительности обслуживания требований на втором приборе равны: 6, 2, 7, 3, 4. Требуется составить расписание минимальной длины. В ответ выпишите длину оптимального расписания.

Ответ: 28

Б2.В.02(П) Производственная практика (проектно-технологическая)

1) закрытые задания (тестовые, средний уровень сложности):

1. Сформулируйте цель методологии проектирования ИС:

а) регламентация процесса проектирования ИС и обеспечение управления этим процессом с тем, чтобы гарантировать выполнение требований как к самой ИС, так и к характеристикам процесса разработки;

б) формирование требований, направленных на обеспечение возможности комплексного использования корпоративных данных в управлении и планировании деятельности предприятия;

в) автоматизация ведения бухгалтерского аналитического учета и технологических процессов

Ответ: а)

2. Укажите составляющие этапа проектирования ИС

а) проектирование объектов данных

б) инсталляция базы данных

в) спецификация требований к приложениям

г) выбор архитектуры ИС

Ответ: а, в, г

3. Какие из перечисленных действий являются стадиями создания ИС?

а) формирование требований к ИС

б) обследование объекта

в) проведение научно-исследовательских работ

г) разработка технического задания

Ответ: а, г